

정답 및 해설

고등 내신 1등급을 위한 기출문제집

100발100중

고등 기출  
문제집

통합 | 2 839제  
사회



내신에 날개를 달아 주는 100발100중!

# I 인권 보장과 헌법

## 01 인권의 의미와 현대 사회의 인권

핵심개념 확인 문제				9쪽
001 인권	002 보편성	003 시민 혁명	004 프랑스	
005 환경권	006 주거권	007 자유권	008 연대권	
009 ㄷ	010 ㄷ	011 ㄴ	012 ㄱ	
013 ㉠	014 ㉡	015 ㉢	016 ㉣	

기출로	기본	다지기	10~12쪽		
017 ④	018 ③	019 ①	020 ⑤	021 ②	
022 ①	023 ①, ⑥	024 ②	025 ③	026 ⑤	
027 ①	028 ②	029 ⑤	030 ④	031 ⑤	
032 ⑤					

### 017 인권의 특성 답·④

**바른 풀이** 이것은 인권이다. ④ 인권은 모든 인간이 태어나면서부터 가지는 권리이다.

**오답 체크** ① 인권은 국가가 법으로 보장하기 이전부터 인간이라면 당연히 가지는 자연권적 성격을 가진다. ② 인권은 본인만이 가질 수 있는 고유한 권리이며, 타인에게 빌려주거나 팔 수 없다. ③ 인권은 인종, 성별, 종교, 사회적 신분과 관계없이 모든 사람이 누리는 보편성을 가진다. ⑤ 인권은 헌법이나 법률 같은 실정법에 명시되지 않더라도 반드시 보장되어야 하는 권리이다.

### 018 인권의 특성 답·③

**바른 풀이** ①, ②, ④, ⑤ 인권은 태어날 때부터 자연적으로 주어지고, 모든 사람이 누리는 보편적 권리이며 함부로 침해할 수 없는 권리이다.

**오답 체크** ③ 인권은 모든 사람이 동등하게 누리는 보편적 권리이며 상황에 따라 보장 여부가 달라지는 상대적 권리가 아니다.

### 019 인권의 특성 답·①

**바른 풀이** 갑. 인권은 시민 혁명기(자유권)를 거쳐 산업 사회(사회권), 현대 사회(연대권)로 오면서 그 범위가 꾸준히 확장되었다. 을. 인권은 국가 권력이나 타인이 함부로 빼앗거나 침해할 수 없는 불가침성을 가진다.

**오답 체크** 병. 인권은 인간이라면 누구나 누리는 보편적 권리이다. 정. 인권은 영구히 보장되는 항구성을 가지며, 타인에게 양도할 수 없다.

### 020 권리 장전 답·⑤

**바른 풀이** 제시된 문서는 영국의 권리 장전(1689년)이다. ⑤ 명예혁명의 결과로 승인되었으며, 국왕의 권력을 제한하고 의회의 입법권과 과세권을 확립하여 입헌 군주제의 토대를 마련했다.

**오답 체크** ① 국왕의 권력을 제한하고 의회의 권한을 강화했다. ② 의회를 통한 간접 민주주의의 기틀이 되었다. ③ 근대 시민 혁명 당시에는 재산 등에 따라 참정권이 제한되었다. ④ 자료는 국가로부터의 자유를 강조하며, 인간다운 생활은 바이마르 헌법 이후의 특징이다.

### 021 인간과 시민의 권리 선언 답·②

**바른 풀이** 밑줄 친 시기는 근대 시민 혁명기(17~18세기)이다. ② 시민 혁명과 함께 발표된 시민의 권리를 명시한 선언으로는 '권리 장전', '미국 독립 선언문', '인간과 시민의 권리 선언' 등이 있다.

**오답 체크** ① 세계 인권 선언(1948)은 제2차 세계 대전 이후 현대의 일이다. ③ 차티스트 운동(19세기)은 시민 혁명 이후, 참정권을 얻지 못한 노동자들이 주도한 운동이다. ④ 보통 선거권은 20세기에 들어서야 확립되었다. ⑤ 사회권은 독일 바이마르 헌법(1919)에서 처음 명문화되었다.

### 022 사회권의 이해 답·①

**바른 풀이** 제시문의 권리는 사회권이다. ㄱ, ㄴ. 사회권은 인간다운 삶을 보장받기 위해 국가가 적극적으로 개입할 것을 요구하는 권리로 근로에 대한 권리, 교육에 대한 권리, 쾌적한 환경에서 생활할 권리 등을 포함한다.

**오답 체크** ㄷ. 자유권에 해당한다. ㄹ. 청구권에 해당한다.

### 023 인권의 발달 과정 답·①, ⑥

**바른 풀이** ① 17~18세기 유럽의 계몽사상은 인간의 보편적 권리를 일깨웠고, 이는 미국 독립 혁명(1776)과 그 선언문에 직접적인 영향을 주었다. ⑥ 프랑스 인권 선언은 보편적인 권리를 명시하여 전 세계에 민주주의와 인권 의식을 확산시키는 계기가 되었다.

**오답 체크** ② 차티스트 운동은 노동자들이 투표권을 요구한 참정권 확대 운동이다. ③ 대한장이 발표된 시기는 13세기이다. ④ 독일의 바이마르 헌법(1919)은 세계 최초로 사회권을 명시하였다. 자유권은 이보다 훨씬 앞선 근대 시민 혁명 시기에 확립되었다. ⑤ 근대 시민 혁명 직후에는 일정 이상의 재산을 가진 성인 남성에게만 참정권이 주어졌다. 모든 계층에게 투표권이 부여된 보통 선거권은 20세기에 들어서야 확립되었다.

### 024 인권의 발달 과정 답·②

**바른 풀이** (가)미국 독립 선언 발표(1776년) - (라)여성의 참정권 요구 운동(1910년대) - (나)세계 인권 선언 채택(1948년) - (다)마틴 루서 킹의 흑인 민권 운동(1950년대)의 순서로 전개되었다.

### 025 인권의 발달 과정 답·③

**바른 풀이** ㉠은 연대권이다. 연대권은 제2차 세계 대전 이후 강조된 개념으로, 인류 공동의 문제 해결을 위한 국제적 연대와 협력을 중시하는 집단적 권리이다. ①, ②, ④, ⑤는 연대권에 해당한다. ① 민족이나 집단이 자신의 운명을 스스로 결정할 권리이다. ② 모든 인류가 경제적·사회적·문화적으로 발전할 기회를 누릴 권리이다. ④ 환경 파괴나 대규모 재난 시 도움을 받을 권리이다. ⑤ 현세대와 미래 세대가 쾌적한 환경을 누릴 수 있도록 전 지구적으로 보호해야 하는 권리이다.

**오답 체크** ③ 2세대 인권인 사회권에 해당한다.

### 026 인권의 발달 과정 답·⑤

**바른 풀이** ① 1세대 인권은 17~18세기 시민 혁명을 통해 확립된 자유권 중심의 인권이다. ② 2세대 인권은 자본주의의 폐해를 해결하기 위해 독일 바이마르 헌법(1919)에서 최초로 명시된 사회권이다. ③ 3세대 인권은 전 지구적 차원의 문제를 해결하기 위한 자결권, 평화권 등 집단적 권리를 강조한다. ④ 3세대 인권은 국가 단위를 넘어 국제적 연대와 협력을 강조한다.

**오답 체크** ⑤ (나)가 아닌 (가)의 특징이다.

### 027 3세대 인권 답·①

**바른 풀이** (가)는 제2차 세계 대전 이후 강조된 3세대 인권인 연대권이다. (나)는 18세기 근대 시민 혁명을 통해 확립된 1세대 인권인 시민·정치적 권리로 자유권과 참정권이 핵심이다.

**오답 체크** 경제·사회·문화적 권리는 2세대 인권으로 산업화 이후 빈부 격차와 같은 사회적 문제가 발생하면서 등장했다. 인간다운 생활을 위해 국가의 적극적인 개입을 요구하는 사회권이 핵심이다.

개념 더하기 **인권의 발달 과정**

구분	주요 권리	핵심 가치	등장 배경
1세대	시민·정치적 권리	자유	근대 시민 혁명
2세대	경제·사회·문화적 권리	평등	산업화, 자본주의 문제
3세대	연대권	박애	제2차 세계 대전 이후

**028 현대 사회의 인권** 답·②

**바른 풀이** ② 옐로 카펫 설치하는 어린이 보행 안전을 확보하여 교통사고라는 위험으로부터 보호하려는 조치이므로, 이는 현대적 기본권 중 안전권을 실현하기 위한 사례에 해당한다.

**오답 체크** ① 쾌적한 환경에서 생활할 권리이다. ③ 쾌적하고 안정적인 주거 환경에 거주할 권리이다. ④ 문화 활동에 참여하고 문화를 향유할 권리이다. ⑤ 근로자가 인간다운 생활을 유지하기 위해 일할 기회와 정당한 대우를 요구할 권리이다.

**029 주거권의 이해** 답·⑤

**바른 풀이** 제시된 주거 기본법이 보장하고자 하는 권리는 주거권이다. 주거권은 국가에 대해 인간다운 생활을 보장해 달라고 요구하는 사회권의 성격을 가진다. 나. 주거권은 사회권의 한 종류이며, 사회권은 독일 바이마르 헌법(1919)에서 처음 등장했다. 다. 도시 인구 집중으로 인한 주택 부족과 열악한 주거 환경을 개선하기 위해 등장했다. 라. 사회권은 국가에 무언가를 해 달라고 요구하는 적극적 성격의 권리이다.

**오답 체크** 가. 주거권은 20세기 현대 사회에 들어와 강조된 현대적 권리이다.

**030 현대 사회의 인권** 답·④

**바른 풀이** 가. 산업화 이후 노동 시간이 줄고 여가 시간이 늘어나면서 문화권이 중요해졌다. 다. 주거권 보장을 위해 국가는 단순히 주택을 공급하는 것을 넘어, 인간다운 생활이 가능한 최소한의 지표인 최저 주거 기준을 설정하여 시행하고 있다. 라. 헌법 제34조 제6항은 “국가는 재해를 예방하고 그 위험으로부터 국민을 보호하기 위하여 노력하여야 한다.”라고 규정하여 안전권 보장을 위한 국가의 책무를 명시하고 있다.

**오답 체크** 나. 환경권, 주거권, 안전권 등은 현대 사회의 복잡한 문제를 해결하기 위해 등장한 사회권적 성격이 강하며, 국가의 적극적인 배려와 보장을 요구하는 권리이다.

**031 잊힐 권리의 이해** 답·⑤

**바른 풀이** 제시문은 정보 주체가 온라인상의 개인 정보에 대해 삭제를 요청할 수 있는 잊힐 권리의 전형적인 사례이다.

**오답 체크** ① 쾌적하고 안정적인 주택에서 인간다운 주거 생활을 할 권리이다. ② 각종 위험으로부터 생명과 신체의 안전을 보호받을 권리이다. ③ 누구나 차별 없이 문화생활에 참여하고 향유할 수 있는 권리이다. ④ 건강하고 쾌적한 환경에서 생활할 권리이다.

**032 현대 사회의 인권** 답·⑤

**바른 풀이** ①, ②, ③, ④는 현대 사회의 복잡화, 도시화, 환경 파괴, 여가 증대 등에 따라 최근 그 중요성이 더욱 부각된 현대적 인권의 사례이다.

**오답 체크** ⑤ 노동권은 산업화 과정에서 발생한 노동 문제를 해결하기 위해 20세기 초반에 이미 정립된 권리이다. ①의 사례로 적절하지 않다.

기출로 **실력 높이기** 13~17쪽

- 033 ④
- 034 ④
- 035 ①
- 036 ④
- 037 ④
- 038 ②
- 039 ④
- 040 ⑤
- 041 ④
- 042 ①
- 043 ④
- 044 ②
- 045 ③
- 046 ②
- 047 ②
- 048 ④

**서답형**

- 049 (1) 보편성, 천부 인권
- (2) 모범 답안 참조
- 050 (1) 자유권, 평등권
- (2) 모범 답안 참조
- 051 모범 답안 참조
- 052 (1) 권리 장전
- (2) 모범 답안 참조

**033 인권의 특성** 답·④

**바른 풀이** 인권은 인간이라면 누구나 누릴 수 있는 기본적 권리이다. 첫 번째 문장: 법으로 보장되기 이전에 자연적으로 주어지는 자연법이다. 세 번째 문장: 인종·성별·종교·사회적 신분 등과 관계없이 모든 인간이 누리는 권리이다. 네 번째 문장: 태어나면서부터 하늘로부터 부여받아 지니게 되는 당연한 권리이다.

**오답 체크** 두 번째 문장: 인권은 남에게 양도할 수 없고 누구도 빼앗거나 무시할 수 없다.

**034 인권과 기본권** 답·④

**바른 풀이** 가. 인권은 인간이라는 이유만으로 당연히 갖는 자연권이다. 따라서 국가가 성립되기 전이나 법으로 정해지기 전부터 존재하는 권리이다. 나. 기본권은 인권 중에서 헌법에 의해 보장되는 권리를 의미한다. 다. 헌법은 한 국가의 최고법으로 국민의 기본권뿐만 아니라 국가 기관의 구성 방식과 통치 원리를 규정하고 있다.

**오답 체크** 라. 국가가 부여해야 발생하는 권리는 실정법상의 권리인 기본권에 가깝다. 인권은 국가의 부여 여부와 상관없이 태어날 때부터 가지는 천부적 권리이다.

**035 권리 장전** 답·①

**바른 풀이** 권리 장전은 영국의 명예 혁명 때 국왕이 승인한 인권 문서이다. ① 권리 장전은 헌법에 따른 통치라는 입헌주의를 확립하는 계기가 된 문서로 법치주의와 입헌주의가 강조되었다.

**오답 체크** ② 권리 장전은 왕권 우위가 아니라 왕권을 제한하여 의회의 우위를 추구하였다. ③ 차티스트 운동과 관련된 서술이다. ④ 권리 장전은 국왕의 통치권을 제한하려 하였다. ⑤ 명예혁명을 통해 입헌 군주정 체제가 수립되었다. ⑥ 제8조는 국왕의 간섭 배제가 목적인 것이며, 현대의 보통 선거제와 거리가 멀다.

**036 인간과 시민의 권리 선언** 답·④

**바른 풀이** 제시문은 프랑스 혁명 과정에서 나온 ‘인간과 시민의 권리 선언’의 일부이다. 가. 제3조에서 주권의 원천이 국민에게 있음을 명확히 하고 있다. 나. 제1조에 인권의 천부성이 담겨 있다. 다. 근대 시민 혁명의 핵심은 절대 왕정의 억압에서 벗어나 개인의 자유를 지키는 것이었다.

**오답 체크** 라. 근대 시민 혁명 직후에는 재산이나 성별에 따라 선거권이 제한되었다. 모든 국민에게 선거권이 부여되는 보통 선거는 20세기에 이르러 확립되었다.

**037 미국 독립 선언문** 답·④

**바른 풀이** 제시문은 근대 시민 혁명의 정신이 담긴 ‘미국 독립 선언문’의 일부이다. 인권의 천부성, 사회 계약설, 국민 주권, 저항권 등 현대 민주주의의 핵심 원리를 모두 포함하고 있다. 나. ㉠은 개인들이 자신의 권리를 보호받기 위해 계약을 통해 국가를 만들었다는 사회 계약설의 관점이 반영되어 있다. 라. ㉡에는 저항권 사상이 나타나 있다.

**오답 체크** ㄱ. ㉠은 인권이 국가 이전에 이미 하늘로부터 부여받았다는 천부 인권 사상을 의미한다. ㄷ. ㉡은 국가의 최고 권력인 주권이 국민에게 있다는 국민 주권의 원리이다. 이는 왕에게 모든 권력이 집중된다는 군주 주권론과 대립하는 개념이다.

**038** 참정권 획득의 과정 답·②

**바른 풀이** 영국의 차티스트 운동을 통해 노동자들은 참정권의 확대를 요구하였고, 미국의 흑인 민권 운동을 통해 흑인들은 실질적으로 참정권을 행사할 수 있게 되었다. 두 사건과 공통으로 관련된 기본권은 참정권이다.

**오답 체크** ① 사회권에 대한 설명이다. ③ 자유권에 대한 설명이다. ④ 사회권에 대한 설명으로, 바이마르 헌법 이후 강조되었다. ⑤ 지구촌 전체의 협력을 중시하는 연대권에 대한 설명이다.

**039** 인권 문서 답·④

**바른 풀이** ㄱ. 권리 장전은 국왕이 의회의 동의 없이 법을 만들거나 세금을 거둘 수 없게 하여, 입헌 군주제의 전통을 세웠다. ㄴ. '조물주는 몇 개의 양도할 수 없는 권리를 부여'(천부 인권), '정부의 권력은 인민의 동의로부터 유래'(사회 계약), '목적은 파괴할 때 ... 새로운 정부를 조직'(저항권)이라는 문구에서 확인할 수 있다. ㄷ. (가), (나)는 주로 자유권을, (다)는 참정권 확대를 핵심으로 하므로 모두 1세대 인권에 속한다.

**오답 체크** ㄷ. 인민헌장은 재산에 따른 제한은 없애려 했으나, 투표권 부여 대상은 21세 이상의 모든 남자로 한정했다. 여성의 참정권은 이후 20세기에 보장되었다.

**040** 인권 문서 답·⑤

**바른 풀이** (다)는 차티스트 운동의 핵심 문서로, 근대 시민 혁명 이후에도 정치적 권리를 누리지 못했던 노동자들의 참정권 확대 요구를 담고 있다. ⑤ 납세에 따른 선거권 제한을 철폐하라는 요구와 선거구 획정의 불평등을 시정하라는 요구에서 추론할 수 있다.

**오답 체크** ① 성별뿐만 아니라 재산, 사회적 신분, 거주 지역 등 다양한 요인에 의해 참정권이 제한되었다. ② 모든 남자의 선거권을 요구하고 있는 것으로 보아, 여성은 여전히 시민권과 참정권의 논의 대상에서 제외되어 있었음을 알 수 있다. ③ '동등한 선거구 설정을 요구'하고 있다는 것은, 당시 선거구가 인구 비례를 반영하지 못해 표의 가치가 지역마다 달랐음을 의미한다. ④ '납세에 의해 출마 자격을 제한하지 말 것'을 요구하고 있으므로, 당시에는 세금을 많이 내는 부유층만 후보로 나설 수 있었음을 추론할 수 있다.

**041** 사회권의 이해 답·④

**바른 풀이** 제시된 자료는 최초로 사회권을 명시한 독일 바이마르 헌법(1919)이다. 사회권은 산업화 이후 나타난 빈부 격차, 노동 문제 등을 해결하기 위해 국가가 국민의 인간다운 생활을 보장해야 한다는 취지에서 등장한 적극적 권리이다.

**오답 체크** ① 세계 인권 선언에 대한 내용이다. ② 자유권의 특징이며, 사회권은 국가의 적극적인 개입을 통해 인간다운 생활을 보장받으려는 적극적 권리이다. ③ 인권은 누구나 평등하게 누리는 권리이다. ⑤ 자유권, 평등권에 대한 내용이다. 사회권은 실정권적 성격이 강하다.

**042** 인권의 발달 과정 답·①

**바른 풀이** (가)와 (나)는 세계 인권 선언, (다)는 인간과 시민의 권리 선언의 일부이다. (가)는 모든 인간이 보편적으로 누려야 할 천부 인권과 존엄성, 평등을 선언하고 있다. (나)는 20세기 현대 사회에서 강조된 사회권의 내용이다. (다)는 근대 시민 혁명 시기에 등장한 자유권에 대한 내용이다. ㄱ. 보편성과 천부성이 (가)에 명시되어 있다. ㄴ. 사회권은 자유권보다 나중에 등장하였다.

**오답 체크** ㄷ. (다)를 포함한 근대 인권 선언은 계층과 관계없이 누구나 누리는 보편적 권리를 지향한다. ㄷ. 열악한 노동 환경과 빈부 격차 때문에 등장한 것은 (다)가 아니라 (나) 사회권이다. (다)는 절대 왕정의 압제에 저항하여 자유를 얻기 위해 등장했다.

**043** 환경권과 주거권의 이해 답·④

**바른 풀이** (가)는 환경권, (나)는 주거권에 대한 내용이다. ㄱ. (가)는 산업화 과정에서 환경 문제가 발생하면서 이를 해결하기 위한 현대적 권리로 강조되었다. ㄴ. (나)를 위해 국가는 저소득층의 주거비를 지원하는 주거급여와 같은 정책을 통해 권리를 구체적으로 실현하고 있다. ㄷ. 두 권리 모두 인간답고 품격 있는 삶을 영위할 수 있도록 국가에 요구하는 사회적 성격 가진다.

**오답 체크** ㄷ. (가)와 (나) 모두 현대 사회의 복잡한 사회 문제를 해결하기 위해 새롭게 등장하고 강조되는 현대적 인권이다.

**044** 주거권, 잊힐 권리, 문화권의 이해 답·②

**바른 풀이** ㉠은 주거권, ㉡은 잊힐 권리, ㉢은 문화권을 말하고 있다. ② 잊힐 권리만 강조되면 권력을 가진 세력이 정보를 독점하고 국민의 알 권리를 침해할 수 있으므로 통제 수단이 필요하다.

**오답 체크** ① 주거권은 국가가 환경 조성이나 주택 공급 등을 통해 적극적으로 개입해야 실질적으로 보장될 수 있다. ③ 인권은 누구나 동등하게 누려야 하는 보편적 권리로, 특정 계층만 누리는 특권이 아니다. ④ 주거권을 보장하기 위한 정책적 방안에 해당한다. ⑤ 환경권에 대한 내용이다.

**045** 문화권과 잊힐 권리의 이해 답·③

**바른 풀이** (가)는 문화권, (나)는 잊힐 권리이다. ③ (나)는 정보 사회에서 개인이 자기 정보를 결정할 권리를 실질적으로 보장하는 방법이다.

**오답 체크** ① 문화권은 인간다운 생활을 보장하기 위한 사회권에 가깝다. ② 잊힐 권리는 개인적 권리지 연대권이 아니다. ④ 문화권과 잊힐 권리 모두 현대 사회의 변화에 따라 새롭게 강조된 인권이다. 근대 시민 혁명 시기에 확립된 핵심 인권은 자유권, 평등권이다. ⑤ 정보 사회의 사생활 침해 문제를 해결하기 위한 권리는 잊힐 권리이다.

**046** 현대 사회의 인권 답·②

**바른 풀이** ① 문화권은 평등한 문화적 향유를 강조하는 2세대 사회권적 성격이 강하다. ③, ④, ⑤ 현대 인권의 확장 방향에 대한 옳은 설명이다.

**오답 체크** ② 잊힐 권리는 개인의 사생활과 정보 자기 결정권을 보호하기 위한 개인적 차원의 권리이다. 3세대 인권은 평화권, 환경권, 발전권처럼 인류 공동체가 함께 누리는 집단적 권리를 의미하므로 그 성격이 다르다.

**047** 안전권의 이해 답·②

**바른 풀이** ㉠은 안전권이다. ② 현대 사회의 기후위기, 기술적 재난 등에 따라 환경권, 안전권, 주거권, 정보 인권 등이 새롭게 확장된 인권으로 강조된다.

**오답 체크** ① 1세대 인권인 자유권에 대한 설명이다. ③ 안전권은 사회권적 성격도 있지만, 생명과 신체의 안전을 지키는 자유권적 성격도 복합적으로 포함하고 있다. ④ 정보 인권이나 자기 결정권에 대한 설명이다. ⑤ 안전권은 국가의 적극적인 제도 마련과 행정적 개입이 있어야 실질적으로 보장되는 권리이다.

**048** 주거권의 이해 답·④

**바른 풀이** ㉠은 쾌적하고 안정적인 주거 환경에서 인간다운 주거 생활을 할 권리인 주거권이다. ④ 주거권은 급격한 도시화와 산업화로 인해 발생한 주거 문제를 해결하고, 인간다운 삶의 질을 보장하기 위해 등장한 현대적 권리에 해당한다.

**오답 체크** ① 자유권과 평등권에 대한 설명이다. ② 국가 권력의 개입을 배제하는 자유권에 대한 설명이다. ③ 참정권에 대한 설명이다. ⑤ 근로의 권리에 대한 설명이다.

### 049 인권의 특성

- (1) 갑: 보편성, 을: 천부 인권  
 (2) **모범 답안** 인권은 타인이나 국가(권력)이 함부로(침해)할 수 없는 권리임을 의미한다.

### 050 시민 혁명에서 강조된 인권

- (1) 자유권, 평등권  
 (2) **모범 답안** 성별, 종교, 신분 등 불합리한 이유로 차별받지 않고, 법 앞에서 동등하게 대우받아야 한다.

채점 기준	수준
'차별', '동등'을 모두 사용하고, 평등권의 핵심 의미를 정확하게 서술한 경우	상
단어는 모두 사용했으나 핵심 의미가 불분명한 경우	중
의미는 통하지만 '차별', '동등' 중 하나만 사용한 경우	하

### 051 사회권의 이해

**KEY WORD** 적극적, 인간다운

**모범 답안** 인정된 기본권은 사회권이며, 이는 모든 국민이 인간다운 생활을 누릴 수 있도록 국가가 적극적으로 개입하여 실질적 평등을 실현하고자 하는 성격을 갖는다.

채점 기준	수준
사회권이라고 쓰고, '국가의 적극적 개입'과 '인간다운 생활'의 의미를 정확하게 서술한 경우	상
사회권이라고 쓰고, '국가의 적극적 개입'과 '인간다운 생활' 표현은 사용했으나 의미가 불분명한 경우	중
사회권만 쓴 경우	하

### 052 인권의 발달 과정

- (1) 권리 장전(1689)  
 (2) **모범 답안** 개인의 차원을 넘어 집단이나 인류 전체를 대상으로 하며, 이를 실현하기 위해 국제적 연대와 협력이 필요하다.

채점 기준	수준
범위와 특징에 대한 두 가지 조건을 충족해 의미를 정확하게 서술한 경우	상
범위 또는 특징 중 한 가지 조건만 정확하게 서술한 경우	중
두 조건을 모두 언급했으나 의미가 부정확하거나 단어로만 나열한 경우	하

#### 기출로 1등급 도전하기

18~19쪽

- 053 ②    054 ④    055 ②    056 ①    057 ④  
 058 ③    059 ②    060 ④

### 053 인권 보장의 역사적 전개

답·②

**바른 풀이** ① 명예혁명에는 권리 장전 승인을 통해 국왕의 권력을 제한하고 의회 중심의 입헌 군주제를 확립한 사건이다. ③ 프랑스 혁명은 인권 선언으로 보편적 가치를 선포했으나, 초기에는 재산 정도에 따라 참정권을 제한하는 한계를 보였다. ④ 영국 노동자들이 인민헌장을 발표하며 성인 남

성의 보통 선거권 보장을 요구한 운동이다. ⑤ 근대 시민 혁명으로 확립된 인권은 국가의 침해를 막는 것이 우선이었기에 소극적·방어적 권리의 성격이 강하다.

**오답 체크** ② 미국 독립 혁명 당시 인권은 국가가 법으로 보장하기 전부터 하늘이 부여했다는 자연권 사상을 바탕으로 한다.

#### 자료 분석

시기	역사적 사건
1688년	㉠ 영국의 명예혁명 의회가 국왕의 권력을 제한
1776년	㉡ 미국 독립 혁명 국민 주권, 저항권 선언
1789년	㉢ 프랑스 혁명 자유와 평등의 확산, 국민 주권의 확립
19세기 중엽	㉣ 영국의 차티스트 운동 참정권 확대 운동, 민주주의 주체가 노동자 계급으로 확대되는 계기

### 054 미국 독립 선언문

답·④

**바른 풀이** 제시된 인권 문서는 미국 독립 선언문(1776)이다. ④ 사회 계약론은 자연권 보장을 위해 인민이 계약으로 국가를 세웠다는 사상이므로 ㉠에 이러한 내용이 잘 나타나 있다.

**오답 체크** ① 독립 선언문은 미국 독립 혁명 때 등장한 문서이다. ② ㉠은 인권이 국가 이전부터 존재했다는 천부 인권 사상을 의미한다. ③ 독립 선언 당시의 행복 추구권은 자유권적 성격이 강하다. 사회권은 1919년 바이마르 헌법에서 최초로 등장했다. ⑤ 인민의 동의는 국민 주권의 원리이며, 이는 간접 민주주의를 포함하는 개념이다.

#### 자료 분석

모든 사람은 평등하게 태어났으며, ① 창조주는 몇 개의 양도할 수 없는 권리를 부여하였다. 그 권리 중에는 생명, 자유, ① 행복의 추구가 포함된다. 인민은 ㉡ 이 권리를 확보하기 위해 정부를 조직했으며, 이 정부의 정당한 ㉢ 권력은 인민의 동의로부터 유래한 것이다. → 국민 주권의 원리

### 055 인권의 발달 과정

답·②

**바른 풀이** ② 독일의 바이마르 헌법은 최초로 인간다운 생활을 보장하기 위한 사회권을 명시하였다.

**오답 체크** ① ㉠은 프랑스 혁명을 계기로 선포되었고, 차티스트 운동에서 선포된 문서는 인민헌장이다. ③ ㉢에서도 자유와 평등을 국민의 권리로 명시하였다. ④ ㉠, ㉢ 모두 천부 인권 사상이 나타나 있다. ⑤ 국제적인 연대권이 나타난 것은 세계 인권 선언 이후이다.

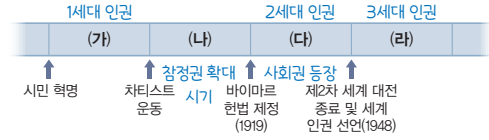
### 056 인권의 의미와 발달 과정

답·①

**바른 풀이** 갑, 보편성, 천부성은 모두 인권의 특성이므로 적절한 의견이다. 을, '인간과 시민의 권리 선언'은 프랑스 혁명, '독립 선언문'은 미국 혁명에서 발표된 문서이므로 적절한 의견이다.

**오답 체크** 병, 제1차 세계 대전 전후인 1919년, 독일의 바이마르 헌법은 국가에 인간다운 생활을 요구할 수 있는 사회권을 세계 최초로 헌법에 명시했으므로 적절하지 않은 의견이다. 정, 차티스트 운동은 19세기에 일어났으므로 적절하지 않은 의견이다.

표는 인권의 역사적 확장 과정을 나타낸 것이다. (가)~(라) 시기에 대한 옳은 설명만을 (보기)에서 있는 대로 고른 것은?



**보기**

- ㉠ (가) 시기의 인권은 국가 권력의 침해를 막아내려는 성격이 강하며 자연권적 권리로 간주되었다.
- ㉡ (나) 시기에 노동자들은 참정권 확대 운동과 더불어, 환경권을 헌법적 권리로 확립하기 위해 투쟁하였다.
- ㉢ (다) 시기에는 국가가 최소한의 인간다운 생활을 보장해야 한다는 '국가에 의한 자유'가 강조되었다.
- ㉣ (라) 시기에는 인권의 범위가 전 지구적 차원으로 확장되면서 평화권과 같은 집단적 권리의 중요성이 부각되었다.

- ① 가, 다                      ② 나, 라                      ③ 다, 라
- ④ 가, 다, 라                ⑤ 나, 다, 라

**1등급 문제 풀이 비법**

**STEP 1** 인권의 역사적 흐름 (가)~(라)를 파악한다.

- (가) 근대 시민 혁명기(17~18세기): 국가로부터의 간섭을 배제하는 자유권과 정치 참여를 위한 참정권이 강조되고 천부 인권 사상이 바탕이 되었다.
- (나) 산업 혁명기(19세기): 자본주의 부작용으로 노동자 계급이 등장하고 노동자들의 투표권 획득을 위한 차티스트 운동 등이 전개되었다.
- (다) 사회권의 등장(20세기 초): 1919년 독일 바이마르 헌법에서 최초로 명문화되고, 최소한의 인간다운 생활을 보장하는 사회권이 강조되었다.
- (라) 현대 사회(제2차 세계 대전 이후~): 인권의 범위가 인종, 성별을 넘어 전 지구적으로 확장되고 평화권, 환경권 등 연대권이 중시되었다.

**STEP 2** ㉠~㉣에 대한 내용을 분석한다.

보기	분석 내용	판정
㉠	(가) 시기는 근대 시민 혁명기로, 국가의 간섭을 피하려는 방어적·소극적 성격의 자유권이 핵심이며, 하늘이 부여했다는 자연권적 성격을 가졌다.	○
㉡	(나) 시기에 노동자들이 참정권 확대 운동을 벌인 것은 맞지만, 환경권은 20세기 후반 현대 사회에서 강조된 3세대 인권에 해당한다.	×
㉢	(다) 시기는 사회권이 등장한 시기로, 국가가 개인의 삶에 적극적으로 개입하여 복지를 제공하는 '국가에 의한 자유'가 핵심이다.	○
㉣	(라) 현대에는 개별 국가를 넘어 전 인류가 함께 누려야 할 집단적 권리인 평화권, 환경권, 발전권 등이 새로운 인권으로 부각되었다.	○

**058 현대 사회의 인권**                      답·③

**바른 풀이** ㉠은 환경권, ㉡은 문화권, ㉢은 안전권, ㉣은 잇힐 권리이다. 나. 문화권은 모든 사람이 인간답고 질 높은 삶을 누리기 위해 필요한 현대적 권리이다. 다. 안전권은 위협으로부터 보호받기 위해 국가의 적극적인 조치와 노력을 요구할 수 있다는 점에서 사회권적 성격을 가진다. 라. 정보 시대의 도래로 개인 정보 유출 및 사생활 침해 우려가 커지면서, 이를 방어하기 위한 수단으로 잇힐 권리가 더욱 강조되고 있다.

**오답 체크** 가. 환경권은 현대 사회의 환경 파괴 문제와 함께 등장한 현대적 인권이다. 마. 환경권, 문화권, 주거권 등 현대적 인권은 보통 실정법상 권리의 성격이 강하다.

**059 현대 사회의 인권**                      답·②

**바른 풀이** A는 환경권, B는 문화권, C는 안전권이다. ㉡ 문화권은 누구나 자유롭게 문화를 즐길 권리로, 서로 다른 문화를 이해하고 존중하는 데 도움을 준다.

**오답 체크** ㉠ 안전권에 대한 설명이다. ㉢ 주거권에 대한 설명이다. ㉣ 모든 인권은 타인에게 양도할 수 없다. ㉤ 환경권, 문화권, 안전권 모두 현대 사회에서 확장된 인권이다.

**060 현대 사회의 인권**                      답·④

**바른 풀이** 가. 1번 진술은 쾌적하고 안정적인 주거 환경에서 살 권리를 설명하고 있으므로, 답은 주거권이다. 옳은 답을 썼으므로 1점을 받게 된다. 나. ㉢은 안전권으로 현대 사회에서는 재난, 범죄 등 각종 위협으로부터 국민을 보호하기 위해 국가가 예방 시스템을 구축하는 등 적극적인 역할을 수행할 것을 강조한다. 라. ㉢은 환경권이다. 우리나라는 헌법 제35조에 환경권을 명시하고 있으며, 최근 환경 문제가 심각해지면서 그 중요성이 커지고 있다.

**오답 체크** 다. 개인 정보 삭제 요청 권리는 잇힐 권리에 대한 서술이므로 (가)에 들어갈 수 없다. 마. 주거권, 안전권, 환경권 등은 현대 사회에서 새롭게 강조되거나 구체화된 현대적 인권이다. 근대 시민 혁명 당시에는 국가의 간섭을 배제하는 자유권을 중시했으나, 제시된 권리들은 인간다운 삶을 요구하는 사회권적 성격이 강하다.

## 02 인권 보장을 위한 헌법의 역할과 시민 참여

### 핵심개념 확인 문제

21쪽

- 061 헌법    062 복수 정당 제도    063 국민 주권  
 064 시민불복종    065 참정권    066 청구권  
 067 헌법재판소    068 대의 민주주의    069 ㄴ  
 070 ㄹ    071 ㄷ    072 ㄱ    073 권력 분립  
 074 시민 단체    075 비폭력적

### 기출로 기본 다지기

22~23쪽

- 076 ②    077 ②    078 평등권    079 ①    080 ①  
 081 ①    082 ④    083 ③    084 ②    085 ④  
 086 ⑤

### 076 인권과 헌법의 관계

답·②

**바른 풀이** 헌법 제10조는 누구나 인간의 존엄과 가치 및 행복 추구권을 가진다고 규정하고 있으며, 제37조는 헌법에 명시되지 않은 권리도 보호받을 수 있음을 규정하고 있다. ① 헌법은 국가의 최상위법으로서 인권을 침해하는 하위 법률을 바로잡는 최종 판단 기준이 된다. ③ 국민은 인권을 침해당했을 때 헌법재판소의 헌법 소원 심판 등을 통해 자신의 권리를 직접 구제받을 수 있다. ④ 헌법은 그 자체가 목적이 아니라, 인간의 존엄과 가치라는 최고 가치를 실현하기 위한 제도적 장치이다. ⑤ 헌법은 기본권을 명시하여 국가 권력이 국민의 자유를 함부로 침해하지 못하도록 제한하는 기능을 한다. ⑥ 제37조는 명시되지 않은 권리라도 경시되지 않는다는 포괄적 권리의 성격을 보여 준다.

**오답 체크** ② 인권은 국가가 법으로 만들어 부여한 권리가 아니라, 태어날 때부터 하늘로부터 받은 당연한 권리이다.

### 077 헌법에 대한 이해

답·②

**바른 풀이** 제시문에서 '국가의 통치 조직과 운영 원리', '기본적 인권 보장', '국가의 최고 규범'을 통해 ㉠이 헌법임을 알 수 있다. ㄱ. 헌법은 법 체계상 가장 위에 있는 법으로, 법률·명령·규칙의 근거가 되는 최고 규범이다. ㄷ. 헌법에 의해 보장되는 국민의 권리를 기본권이라고 한다.

**오답 체크** ㄴ. 헌법은 국민 투표 등의 일정한 절차를 거쳐 개정할 수 있다. ㄹ. 우리나라에서 헌법 개정은 국회의 의결을 거친 후 국민 투표를 통해 최종 확정된다.

### 078 평등권에 대한 이해

답·평등권

**바른 풀이** 사회생활에서 합리적 이유 없이 차별받지 않을 권리는 평등권이다.

### 079 기본권의 충돌

답·①

**바른 풀이** 제시문은 부지 소유자의 재산권(자유권)과 주민들의 환경권(사회권)이 서로 충돌하는 상황이다. 개인의 자유와 쾌적한 삶을 위한 권리가 부딪히는 대표적인 기본권 갈등 사례이다.

### 080 청구권에 대한 이해

답·①

**바른 풀이** 학생이 설명하는 기본권은 청구권이다. ㄱ. 청구권은 침해받은 다른 기본권을 구제받기 위한 수단적·절차적 권리이다. ㄴ. 청구권은 국가의 존재를 전제로 하여 법률에 의해 내용이 보장되는 실정법적 권리이다.

**오답 체크** ㄷ. '국가로부터의 자유'를 강조하는 소극적 권리는 자유권이다. ㄹ. 현대 복지 국가에서 가장 나중에 등장한 기본권은 사회권이다.

### 081 기본권의 제한

답·①

**바른 풀이** ㄱ. ㉠은 기본권 제한의 목적으로, 헌법은 국가 안전 보장, 질서 유지, 공공복리를 위해서만 기본권 제한을 허용한다. ㄴ. ㉡은 기본권 제한의 형식으로, 기본권 제한은 반드시 국회가 제정한 법률에 근거해야 한다.

**오답 체크** ㄷ. 헌법에 따라, 기본권을 제한하더라도 그 본질적인 내용은 침해할 수 없다. ㄹ. 기본권 제한은 정당한 목적이 있고 필요한 경우에 한하여 최소한으로만 이루어져야 한다.

### 082 권력 분립 제도

답·④

**바른 풀이** 제시된 내용은 권력 분립의 정의와 목적을 설명하고 있다. ㄱ. 권력 분립은 국가 권력의 주인이 국민이라는 국민 주권의 원리를 구현하고 국민의 자유를 지키기 위한 제도적 장치이다. ㄴ. 권력 분립의 궁극적인 목적은 어느 한 기관이 권력을 독점하지 못하게 막아 국민의 기본권을 최대한 보장하는 것이다. ㄹ. 우리나라는 입법권은 국회, 행정권은 정부, 사법권은 법원에 부여하여 삼권 분립을 실현하고 있다.

**오답 체크** ㄷ. 권력 분립은 권력을 분산해 서로 감시하게 하므로, 국가 운영의 편의성이나 효율성은 오히려 떨어질 수 있다. 이 제도의 목적은 국가 편의가 아니라 권력 남용 방지에 있다.

### 083 기본권 구제 제도

답·③

**바른 풀이** (가) 공권력 행사로 기본권이 침해된 국민이 직접 구제를 청구하는 것은 헌법 소원 심판이다. (나) 재판 중에 법률의 위헌 여부가 문제가 되어 법원의 제청으로 열리는 것은 위헌 법률 심판이다.

**오답 체크** ① 탄핵 심판은 헌법이나 법률을 위반한 고위 공직자를 파면하는 제도이다. 권한쟁의 심판은 국가 기관이나 지방 자치 단체 사이의 권한 다툼을 해결하는 심판이다.

### 084 시민의 참여

답·②

**바른 풀이** ①, ③, ④, ⑤ 권리를 구제받기 위한 시민의 적극적인 노력에 해당한다.

**오답 체크** ② 법률의 제정 및 개정권은 국회에 있다.

### 085 시민 참여의 방법

답·④

**바른 풀이** (가)는 공청회, (나)는 1인 시위, (다)는 투표이다. 공청회는 국가의 주요 정책 결정 전 전문가와 이해 관계자의 의견을 듣는 자리이며, 1인 시위는 혼자서 피켓 등을 들고 의사를 표현하는 방식이다. 투표는 주권을 행사하는 가장 기본적이고 대표적인 시민 참여 방법이다.

**오답 체크** 청원은 국민이 국가 기관에 자신의 의견이나 희망 사항을 문서로 제출하여 처리를 요구하는 권리이다. 국민 참여 재판은 일반 국민이 배심원으로 참여하여 형사 재판의 유·무죄와 형량에 대해 의견을 내는 제도이다.

### 086 시민불복종의 정당화 조건

답·⑤

**바른 풀이** A는 시민불복종이다. ① 개인의 이익이 아닌 공익 추구라는 정당한 목적이 있어야 한다. ② 법을 어긴 것에 대한 처벌을 기꺼이 감수해야 한다. ③ 폭력을 쓰지 않는 평화적 방법으로 이루어져야 한다. ④ 다른 합법적인 수단을 모두 동원한 뒤 사용하는 최후의 수단이어야 한다.

**오답 체크** ⑤ 시민불복종은 독재 권력이나 악법에 저항하는 시민의 자발적 운동으로서 기존의 법질서에 저항하는 경우가 많아 합법성은 시민불복종을 정당화하는 요건으로 볼 수 없다.



099 시민불복종의 정당화 조건

답·①

**바른 풀이** (가)는 간디의 소금 행진 시민불복종, (나)는 볼스의 시민불복종 내용이다. ㄱ. 위법 행위에 따른 처벌을 수용함으로써 법의 지배를 존중해야 한다. ㄷ. 공익을 위해 부정의한 법과 제도에 저항하는 의도적·양심적 행위이다.

**오답 체크** ㄴ. 반드시 평화적인 방식으로 행사되어야 한다. ㄹ. 모든 합법적 절차가 실패했을 때 시도하는 마지막 방법이다. ㄴ. 사소한 권리 침해가 아닌 사회의 기본적인 정의를 원칙을 현저히 위반한 경우에만 정당화된다.

100 평등권과 참정권에 대한 이해

**모범 답안** (가)는 ( 평등권 ), (나)는 ( 참정권 )에 대한 내용이다. ( 평등권 )은 성별, 종교, 인종, 신분, 장애 등 불합리한 이유로 ( 차별 )받지 않을 권리이다. ( 참정권 )은 국가의 ( 의사 결정 )에 ( 참여 )할 수 있는 권리이다.

101 기본권의 제한

(1) 자유권

(2) **KEY WORD** 공공복리

**모범 답안** 주민의 건강을 보호한다는 공공복리를 위해서이다.

채점 기준	수준
'공공복리'를 사용하여 제시문의 구체적 근거를 들어 서술한 경우	상
'공공복리'를 사용했지만 제시문의 구체적 근거 없이 서술한 경우	중
'공공복리'를 사용하지 않고, 제시문의 근거 없이 일반적으로 서술한 경우	하

102 권력 분립 제도

(1) 권력 분립 제도

(2) **KEY WORD** 권력 남용 방지, 인권

**모범 답안** 국가 권력 기관이 상호 견제하여 균형을 이루도록 함으로써 권력 남용을 방지하여 국민의 인권을 보장하는 것이다.

채점 기준	수준
'권력 남용 방지'와 '인권'의 의미를 포함해 서술한 경우	상
'권력 남용 방지'와 '인권' 중 하나만 서술한 경우	하

103 시민 참여의 방법

(1) 투표, 청원, 시위 등

(2) **KEY WORD** 대표

**모범 답안** 국민이 선거를 통해 대표를 선출하여 국가 의사를 결정하는 정치 방식을 말한다.

채점 기준	수준
'대표'를 사용해 대의 민주주의의 의미를 정확하게 서술한 경우	상
'대표'를 사용하지 않고 일반적으로 서술한 경우	하

(3) **KEY WORD** 정당, 최후, 비폭력, 처벌

**모범 답안** 행위의 목적이 정당하고, 최후의 수단으로 비폭력적인 방법을 사용해야 하며, 처벌을 감수해야 한다.

채점 기준	수준
네 가지 요건을 모두 정확하게 서술한 경우	상
두세 가지 요건만 정확하게 서술한 경우	중
한 가지 요건만 정확하게 서술한 경우	하

기출로 1등급 도전하기

28~29쪽

- 104 ④
- 105 ①
- 106 ②
- 107 ⑤
- 108 ②
- 109 ⑤
- 110 ②
- 111 ③

104 기본권의 유형

답·④

(가)는 기본권 유형을 구분한 것이고, (나)는 기본권 관련 헌법 조항이다. 이에 대한 옳은 설명만을 <보기>에서 있는 대로 고른 것은? (단, A~C는 평등권, 사회권, 참정권 중 하나임.)

(가)

(나)

기본권	헌법 조항
A 참정권	제24조 모든 국민은 법률이 정하는 바에 의하여 선거권을 가진다.
B 사회권	제31조 ① 모든 국민은 능력에 따라 균등하게 교육을 받을 권리를 가진다.

보기

- ㉠ A는 국가의 의사 결정 과정에 참여할 수 있는 권리이다.
- ㉡ B는 C보다 오래된 기본권이다. → 사회권은 가장 최근에 등장
- ㉢ C는 모든 기본권 보장의 전제 조건이다.
- ㉣ ㉠에는 '포괄적 성격의 권리인가?'가 들어갈 수 있다.

- ① ㄱ, ㄴ
- ② ㄱ, ㄹ
- ③ ㄴ, ㄷ
- ④ ㄱ, ㄷ, ㄹ
- ⑤ ㄴ, ㄷ, ㄹ

1등급 문제 풀이 비법

STEP1 제시문의 단서에서 기본권 A~C를 파악한다.

- A(참정권): (나)의 제24조를 통해 알 수 있다. 국민이 국가의 정치 과정에 참여하는 권리이다.
- B(사회권): (나)의 제31조를 통해 알 수 있다. 국가에 대해 인간다운 생활의 보장을 요구하는 현대적 권리이다.
- C(평등권): A와 B가 정해졌으므로 남은 C는 평등권이다. 표의 첫 번째 질문에서 '국가에 대해 일정한 행위를 요구하는 권리(적극적 권리)'에 참정권(A)과 사회권(B)은 '예'이지만, 평등권(C)은 그 자체로 전제 조건이자 기본적 권리이므로 '아니요'에 해당한다.

STEP2 ㄱ~ㄹ에 대한 내용을 분석한다.

보기	분석 내용	판정
ㄱ	참정권은 선거권, 피선거권 등을 통해 국가의 의사 결정에 참여하는 권리이다.	○
ㄴ	사회권은 20세기 현대 국가에서 강조된 권리인 반면, 평등권은 18세기 시민 혁명기부터 강조된 근대적 권리로 평등권이 사회권보다 오래된 권리이다.	×
ㄷ	평등권은 다른 기본권들이 실질적으로 보장되기 위한 전제 조건이자 본질적 권리이다.	○
ㄹ	평등권은 포괄적 권리, 참정권과 사회권은 열거적 권리이므로 (가)에 들어갈 수 있다.	○

### 105 자유권에 대한 이해

답·①

**바른 풀이** 제시문에서 설명하는 독수독과 이론과 적법 절차의 원리는 수사 기관의 권력 남용을 막아 국민의 기본권을 보호하는 제도이다. A는 자유권이다. ① 자유권은 국가의 간섭을 거부하는 국가로부터의 자유이며, 소극적·방어적 성격을 띤다.

**오답 체크** ② 사회권에 대한 설명이다. ③ 평등권에 대한 설명이다. ④ 참정권에 대한 설명이다. ⑤ 헌법 제37조 제2항에 따라 국가 안전 보장, 질서 유지, 공공복리를 위해 필요한 경우에 한하여 법률로 제한할 수 있다.

### 106 기본권의 제한

답·②

**바른 풀이** 헌법재판소는 '기부금품 모집 금지법'이 과잉 금지의 원칙을 어겨 헌법에 위배된다고 결정했다. ② 기본권 제한은 필요 최소한에 그쳐야 함에도, 해당 법률이 이를 과도하게 침해하여 위헌으로 판단했다.

**오답 체크** ①, ③, ④, ⑤ 헌법재판소 결정의 근거가 되는 과잉 금지의 원칙과 관련된 내용이 아니므로 헌법재판소 결정의 근거가 될 수 없다.

### 107 권력 분립 제도

답·⑤

**바른 풀이** 법률안 거부권을 갖는 A는 정부, 대법원장 임명 동의권을 갖는 C는 국회이므로 B는 법원이다. ㄴ. 법원은 위헌 법률 심사 제청권으로 국회를 견제할 수 있다. ㄷ. 국회는 국정 감사권으로 정부를 견제할 수 있다. ㄹ. 명령과 규칙을 심사할 수 있는 것은 법원이므로 ㉠과 ㉡은 '아니요'이고, ㉢은 '예'이다.

**오답 체크** ㄱ. 탄핵 소추권은 정부가 아니라 국회가 갖는다.

#### 자료 분석

질문	응답		
	A	B	C
법률안 거부권을 갖는가?	예 → 정부	아니요	아니요
(가)	㉠	㉡	㉢
대법원장 임명 동의권을 갖는가?	아니요	아니요	예 → 국회

→ 남은 B는 자동적으로 법원이 됨. A: 정부, B: 법원, C 국회

### 108 권력 분립 제도

답·②

**바른 풀이** A는 국회, B는 대통령, C는 대법원이다. ㄱ. 국회는 대통령이 거부권을 행사한 법률안을 다시 심의하여 의결하는 재의결권을 가진다. ㄷ. (나) 법률안 거부권은 행정부가 입법부를 견제하는 수단이며, (다) 명령·규칙 심사권은 사법부가 행정부의 행정 입법을 심사하여 견제하는 수단이다.

**오답 체크** ㄴ. 대통령이 사법부의 장(대법원장)을 임명할 때 국회의 동의를 얻어야 한다. ㄹ. 권력 분립 제도는 권력을 분산시켜 국민의 기본권 보장과 권력 남용 방지를 주된 목적으로 한다.

### 109 시민 참여의 방법

답·⑤

**바른 풀이** A는 시민 단체, B는 이익 집단, C는 정당이다. ⑤ 정당은 시민 단체, 이익 집단과 달리 공식 후보자를 배출하며, 선거를 통해 결과에 대한 정치적 책임을 진다.

**오답 체크** ① 유권자의 심판을 받는 것은 정당이다. ② 이익 집단은 정치적 중립과 무관하게 집단의 특수한 이익을 최우선으로 추구한다. ③ 정당은 정책 대안을 제시하고, 이를 실제 결정하는 역할은 국가 기관이 담당한다. ④ 시민 단체와 이익 집단은 공통적으로 정부의 정책 집행을 감시하고 비판한다.

### 110 시민 참여의 방법

답·②

**바른 풀이** A는 시민 참여, B는 선거, C는 '시민 단체, 이익 집단, 정당을 통한 참여'이다. ㄴ. 선거는 대의제의 핵심 주권 행사 수단이며, 투표를 통해 정치인에게 정치적 책임을 묻는다. ㄷ. 정당은 국정 운영에 대해 정치적 책임을 지지만, 시민 단체와 이익 집단은 정치적 책임을 지지 않는다.

**오답 체크** ㄱ. 시민의 정치 참여를 통해 간접 민주주의의 한계를 보완할 수 있다. ㄹ. 시위와 청원 모두 합법적 참여 방법이다.

#### 자료 분석

시민 참여 <학습 내용 정리>

#### A의 방법

- 가장 기본적인 방법 : B → 선거
- 집단적 참여 : C → 시민 단체, 이익 집단, 정당을 통한 참여
- 이외의 방법 : ㉠ 시위, 집회, 1인 시위, 서명 운동, ㉡ 청원 등

### 111 롤스의 시민불복종

답·③

**바른 풀이** ① 롤스는 현저히 부정의한 법만을 시민불복종의 대상으로 보며, 사소한 부정의는 사회 안정을 위해 감수해야 한다고 본다. ② 시민불복종은 다수의 정의관에 호소하는 평화적 행위이므로 반드시 비폭력적이어야 한다. ④ 법 위반을 공개적으로 행하고 그에 따른 처벌을 수용함으로써 법의 권위를 존중해야 한다. ⑤ 시민불복종은 '법 준수 의무'와 '정의 수호 의무'가 충돌할 때 발생하는 양심적 선택이다.

**오답 체크** ③ 롤스에 따르면 시민불복종은 헌법 체계나 국가 전체를 부정하는 혁명이 아니며, 법 체계를 존중하는 범위 내에서 특정 법이나 정책의 수정을 요구하는 행위이다. 즉 헌법의 근본 원리를 수호하기 위해 그에 어긋나는 하위 법률에 저항하는 것이다.

### 03 인권 문제의 양상과 해결 방안

#### 핵심개념 확인 문제

31쪽

112 사회적 소수자	113 인권 감수성			
114 근로 계약서	115 본인	116 35		
117 세계 언론 자유 지수	118 ㄷ	119 ㄱ	120 ㄴ	
121 상대적	122 30분	123 50%		

#### 기출로 기본 다지기

32~33쪽

124 ①, ⑥	125 ④	126 ④	127 ②	128 ①
129 ③	130 ③	131 ②	132 ④	

#### 124 사회적 소수자 차별 문제

답·①, ⑥

**바른 풀이** A는 사회적 소수자이다. ② 사회적 소수자는 자원 배분 과정에서 주류 집단보다 권력 자원 점유율이 낮다. ③ 사회적 소수자는 성별·인종 같은 생득적 요인은 물론, 종교·장애 같은 후천적 요인으로도 결정된다. ④ 인식 변화와 더불어 차별 금지법이나 할당제 같은 제도적 대책이 병행되어야 한다. ⑤ 소수자 차별은 흔히 개인의 편견에서 비롯되므로 의식 개선이 필수적이다.

**오답 체크** ① 소수자 판별 기준은 구성원 수가 아닌 권력의 열세이다. 구성원 수가 많아도 힘이 약해 차별받으면 소수자에 해당한다. ⑥ 사회적 소수자가 성립하기 위해서는 객관적 차별뿐만 아니라, 스스로 차별받는 집단에 속해 있다는 주관적 자각이 필요하다.

#### 125 사회적 소수자 차별 문제

답·④

**바른 풀이** 1. 사회적 소수자는 수의 적음이 아니라 권력 관계에서의 소외와 차별 대우를 기준으로 결정된다. (X) 2. 신체적 특징이나 뚜렷한 문화적 차이는 소수자를 구분하는 주요 식별 요인이 된다. (O) 3. 선천적 장애나 인종뿐만 아니라 종교, 국적 등 후천적 요인에 의해서도 소수자가 될 수 있다. (O) 4. 사회적 소수자의 기준은 시대의 흐름이나 사회적 여건에 따라 변하는 가변적·상대적 개념이다. (X) 네 가지 질문에 대한 정답과 모두 일치하게 응답한 학생은 정이다.

#### 126 사회적 소수자 차별 문제

답·④

**바른 풀이** ④ 사회적 소수자는 시대, 장소, 사회적 환경에 따라 그 대상이 변하는 상대적 개념이다.

**오답 체크** ① 사회적 소수자는 구성원 수의 많고 적음이 아니라 권력의 열세에 의해 결정된다. ② 소수자의 존재 자체가 갈등을 유발하는 것이 아니라, 이들에 대한 차별과 편견이 갈등의 원인이 된다. ③ 사회적 소수자는 신체적 특징뿐만 아니라 종교·국적 등 문화적 특징에 의해서도 규정된다. ⑤ 소수자를 규정하는 기준은 사회마다 다르며, 역사적 흐름에 따라 변화해 왔다.

#### 127 사회적 소수자 문제 해결

답·②

**바른 풀이** 제시된 정책들은 공통적으로 사회적 소수자의 권익을 보호하고 사회적 격차를 줄이는 데 목적이 있다. ② 선천적·환경적 요인으로 불리한 위치에 있는 이들에게 기회를 제공함으로써 결과적으로 실질적 평등을 이루고자 하는 취지이다.

**오답 체크** ① 형식적 평등을 의미하며, 이는 특정 집단을 우대하는 제시된 정책과는 성격이 다르다. ③ 효율성과 경쟁을 강조하는 시장 경제의 원리에 해당하며, 사회적 소수자 보호와는 상충하는 개념이다. ④ 제시된 정책의 본질은 수적 비율 조정이 아닌 차별 해소와 인권 보장에 있다. ⑤ 다수결은 사회적 소수자의 권익을 침해할 수 있다. 제시된 정책은 소외된 사회적 소수자를 보호하기 위한 장치이다.

#### 128 청소년 노동권 침해 문제

답·①

**바른 풀이** 15세 이상이어야 원칙적으로 근로가 가능하고, 연소 근로자의 근로 계약은 원칙적으로 하루 7시간, 일주일에 35시간을 넘을 수 없다. 일주일에 개근하고 15시간 이상 일하면 하루의 유급 휴일을 받을 수 있다. 따라서 ㉠~㉢의 합은 72(15+7+35+15)시간이다.

#### 129 청소년 노동권 침해 문제

답·③

**바른 풀이** ㄴ. 근로 시간이 4시간인 경우 30분 이상, 8시간인 경우 1시간 이상의 휴게 시간을 근로 시간 도중에 주어야 한다. ㄷ. 최저 임금은 모든 근로자에게 동일하게 적용된다.

**오답 체크** ㄱ. 15세 이상 18세 미만인 연소 근로자의 법정 근로 시간은 1일 7시간, 주 35시간이다. 당사자 사이의 합의가 있는 경우에만 1일 1시간, 1주 5시간을 한도로 연장할 수 있다. ㄹ. 임금은 근로자 본인의 계좌로 직접 지급하거나 직접 현금으로 지급해야 한다.

#### 130 인권 지수

답·③

**바른 풀이** 제시된 지표는 인권의 다양한 측면을 수치화하여 나타낸 것이다. ③ 인권 상황을 지표로 나타내면 각국의 인권 수준을 비교하고 개선이 필요한 분야를 명확히 파악하는 데 도움이 된다.

**오답 체크** ① 국제 형사 재판소의 처벌은 구체적인 범죄 사실과 법적 절차에 근거하며, 통계 지표가 직접적인 처벌 수단이 되지는 않는다. ② 인권 지표의 활용은 국가 간의 협력을 도모하는 것이지, 단일법을 강제로 집행하기 위한 것이 아니다. ④ 군사적 제재는 국제 연합의 결의 등 매우 엄격한 절차를 거쳐야 하므로 인권 지수가 낮다는 사실만으로 즉각 시행될 수 없다. ⑤ 해당 자료들은 인권 증진을 목적으로 하며, 기업의 경제적 이익을 위한 시장 조사와는 성격이 다르다.

#### 131 국제 인권 기구

답·②

**바른 풀이** (가)는 국제 연합 산하의 정부 간 국제기구로, 인권 상황을 정기적으로 검토하고 권고안을 채택하는 국제 연합 인권 이사회이다. (나)는 양심수 석방 등을 전개하며 국제적 여론을 형성하는 비정부 기구인 국제 사면 위원회(앰네스티)이다. ㄱ. (가)는 국제 연합 인권 이사회이다. ㄷ. (가)는 국가가 회원으로 가입하여 활동하는 정부 간 국제기구이고, (나)는 민간 차원에서 자발적으로 결성된 비정부 기구라는 점에서 구별된다.

**오답 체크** ㄴ. (나)는 국제 사면 위원회이다. ㄷ. 국제 연합 인권 이사회는 인권 개선을 위한 권고 기능을 수행할 뿐, 직접적인 군사 제재권은 없다.

#### 개념 더하기 국제 사회의 다양한 행위 주체

구분	가입 대상	사례
정부 간 국제기구	국가	국제 연합, 유럽 연합
국제 비정부 기구	개인, 민간단체	국제 사면 위원회, 그린피스

#### 132 난민 문제

답·④

**바른 풀이** 제시문은 전 세계 난민이 급증하고 있으며, 이들이 기본적인 생존권조차 보장받지 못한 채 국제 사회의 도움을 기다리고 있음을 보여 준다. ④ 인류의 보편적 인권 보장을 위해 국제 사회가 함께 책임지는 자세가 필요하다.

**오답 체크** ① 난민 문제는 보편적 인권의 문제이므로 특정 국가의 내부 문제로 한정해 외부 개입을 차단해서는 안 된다. ② 난민 구호는 인간의 존엄성을 지키기 위한 인도주의적 실천이며, 경제적 이익을 최우선 가치로 삼는 것은 부적절하다. ③ 난민 발생 원인은 전쟁, 박해, 기아 등 매우 다양하므로 정치적 독재라는 단일 원인에만 집중해서는 안 된다. ⑤ 자국 이기주의에 근거한 난민 배척 정책은 보편적 인권을 침해하고 국제적 갈등을 심화시킬 수 있다.



**오답 체크** ① 성 격차 지수가 1에 가까운 것은 성평등 수준이 높음을 의미할 뿐, 남성이 차별받는 소수자임을 뜻하는 것은 아니다. ② B국은 C국에 비해 1인당 국내총생산이 높을 뿐만 아니라 성 격차 지수도 높으므로 성평등 수준 또한 더 높다. ④ C국의 지수가 D국보다 높더라도 완전한 평등을 의미하는 1에는 미치지 못하므로 여성의 참여가 완전히 보장되었다고 볼 수 없다. ⑤ 성평등 실현을 위해서는 형식적 기회의 평등과 실질적 평등을 조화롭게 추구해야 하며, 결과의 평등만을 우선시하는 것은 옳지 않다.

### 143 사회적 소수자 차별 문제

#### (1) 사회적 소수자

**(2) KEY WORD** 편견 개선, 다양성 존중, 인식 개선, 법률 제정

**모범 답안** 개인적 차원: 차별적인 시선과 편견을 극복하고 다양성을 존중하는 태도를 가진다. / 제도적 차원: 지속적인 교육과 인식 개선 활동을 하거나 차별 금지에 관한 법률을 제정한다.

채점 기준	수준
개인적 차원과 제도적 차원의 해결 방안을 모두 정확하게 서술한 경우	상
두 가지 해결 방안 중 한 가지만 정확하게 서술한 경우	하

### 144 청소년 노동권 침해 문제

#### (1) 소정 근로 시간

**(2) KEY WORD** 연소 근로자, 1일 7시간, 1주 35시간

**모범 답안** 근로 기준법상 15세 이상 18세 미만인 연소 근로자의 표준 근로 시간은 1일 7시간(1주 35시간) 이내여야 하기 때문이다.

채점 기준	수준
연소 근로자의 1일 법정 근로 시간 기준을 언급하며 서술한 경우	상
'법을 지키지 않았다'와 같이 논리적 근거 없이 서술한 경우	하

### 기출로 1등급 도전하기

37쪽

145 ③      146 ②      147 ③

### 145 사회적 소수자 차별 문제

답·③

**바른 풀이** ③ 병은 시대와 장소에 따라 사회적 소수자의 범위가 변화한다는 가변성의 특징을 설명하고 있다.

**오답 체크** ① 값이 언급한 '외모로 쉽게 구분됨'은 식별 가능성에 해당한다. ② 을의 사례는 인원수가 다수일지라도 권력 관계에서 열세에 있다면 사회적 소수자가 될 수 있음을 보여 준다. ④ 사회적 소수자로 규정되기 위해서는 구성원 스스로가 차별받는 집단임을 인식하는 집단적 귀속감이 반드시 필요하다. ⑤ 사회적 소수자는 선천적인 신체 특징뿐만 아니라 언어, 종교 등 후천적인 문화적 특징에 의해서도 결정될 수 있다.

### 146 청소년 노동권 침해 문제

답·②

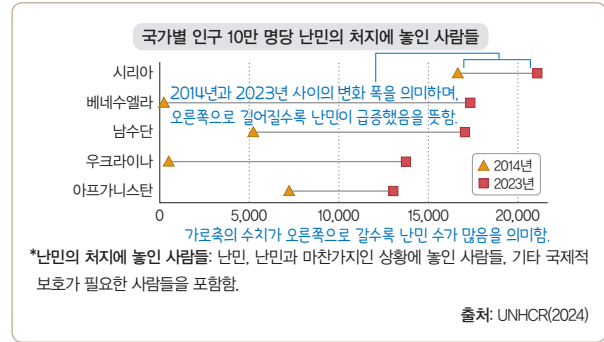
**바른 풀이** ㄱ. 만 18세 미만(17세)인 연소 근로자는 근로 계약을 맺을 때 친권자 동의서와 가족 관계 증명서가 필요하다. ㄷ. 최저 임금에 미달하는 계약 부분은 무효이며, 무효가 된 부분은 법정 최저 임금이 적용된다.

**오답 체크** ㄴ. 근로 기준법상 휴게 시간은 4시간 근무 시 30분 이상, 8시간 근무 시 1시간 이상이다. 제시문은 7시간 근무이므로 30분 이상만 보장하면 된다. ㄷ. 노래 주점은 청소년 고용 금지 업소이다.

### 039 난민 문제

답·③

다음 자료에 대한 옳은 설명만을 <보기>에서 고른 것은?



그래프에 제시된 국가의 난민들을 연구한 결과에 따르면, ㉠ 그들은 주류 집단에 속한 사람들에게 차별받고 있었으며, 스스로도 차별받는다고 인식하고 있었습니다. 다행히 국제 사회의 행위 주체 A와 B가 이들을 위해 노력하고 있습니다. 가령, 국제 연합(UN)과 같은 A는 난민 문제를 공론화하고 있으며, 국제 엠네스티, 국경 없는 의사회 등 민간 주도로 구성된 B는 난민 구호를 위한 세계 시민들의 연대를 촉구하고 있습니다.



#### 보기

- ㄱ. 2023년 인구 10만 명당 난민의 처지에 놓인 사람들은 제시된 국가 중 베네수엘라가 가장 적다.
- ㄷ. 각 국가 인구 중 난민의 처지에 놓인 사람들의 2014년과 2023년 간 비율 차이는 시리아보다 우크라이나가 크다.
- ㉠. ㉠은 사회적 소수자에 해당한다. 선 길이로 비교
- ㄴ. A와 달리 B는 국제법을 바탕으로 가입국 간 합의를 통해 활동한다.

- ① ㄱ, ㄴ                      ② ㄱ, ㄷ                      ③ ㄴ, ㄷ
- ④ ㄴ, ㄹ                      ⑤ ㄷ, ㄹ

### 1등급 문제 풀이 비법

#### STEP1 그래프를 해석한다.

- 가로축(X축): 인구 10만 명당 난민 수(수치가 오른쪽으로 갈수록 많음.)
- 기호의 의미: ▲는 2014년 수치, ■는 2023년 수치
- 선의 길이: 2014년과 2023년 사이의 변화 폭을 의미하며, 오른쪽으로 갈수록 난민이 급증했음을 뜻한다. (특히 베네수엘라, 우크라이나 등)

#### STEP2 자료의 ㉠, A, B를 파악한다.

- ㉠(난민 집단): 주류 집단에 의해 차별받고 스스로도 이를 인식하므로 사회적 소수자에 해당한다.
- A(국제 연합): 정부 간 국제기구로서 국제 사회의 난민 문제를 공론화한다.
- B(국제 엠네스티 등): 국제 비정부 기구로서 시민들의 연대를 통해 난민 구호 활동을 펼친다.

**STEP 3** ㄱ~ㄹ에 대한 내용을 분석한다.

보기	분석 내용	판정
ㄱ	그래프에서 2023년 수치가 가장 왼쪽(적은 쪽)에 있는 국가는 아프가니스탄이다. 베네수엘라는 두 번째로 많다.	→X
ㄴ	그래프의 △와 □ 사이의 간격을 비교하는 문제로 시리아는 간격이 좁지만, 우크라이나는 시리아보다 훨씬 넓다.	→O
ㄷ	㉠은 신체적·문화적 특징으로 차별받으며 집단적 정체성을 가진 사회적 소수자에 해당한다.	→O
ㄹ	가입국 간의 합의를 바탕으로 활동하는 것은 정부 간 국제기구인 A의 특징이다. B는 민간단체 중심의 비정부 기구이다.	→X

단원 평가로	실전 대비하기	38~41쪽
148 ⑤	149 ③	150 ⑤
151 ⑤	152 ③	153 모범 답안 참조
154 ⑤	155 ④	156 ③
157 모범 답안 참조	158 ③	159 ①
160 ①	161 ④	162 ④
163 ④	164 ③	

**148** 인권의 발달 답·⑤

**바른 풀이** 첫 번째 자료는 의회 중심의 입헌 군주제 토대를 마련한 영국의 권리 장전, 두 번째 자료는 프랑스 혁명 때 발표된 인권 선언이다. ⑤ 인권 보장의 역사적 흐름을 보여 주는 자료이므로, 탐구 주제는 '시민 혁명과 인권 보장의 역사적 전개'가 적절하다.

**149** 프랑스 인권 선언 답·③

**바른 풀이** ① 제2조는 인간의 권리를 보전하기 위해 정치적 결사(국가)가 구성되었다는 점을 명시하여 사회 계약설의 논리를 뒷받침한다. ② 국가의 존립 목적을 개인의 자연적 권리 보전에 두는 것은 국가를 권리 실현을 위한 수단적 존재로 보는 관점이다. ④ 제16조는 인권의 보장과 권력 분립을 국가의 기본법인 헌법이 갖추어야 할 필수 요소로 규정하여 입헌주의의 원리를 나타낸다. ⑤ 제1조의 '자유롭고 평등한 권리를 지니고 태어나서'와 제2조의 '침해할 수 없는 자연권'은 하늘이 부여한 인권이라는 천부인권 사상을 반영한다.

**오답 체크** ③ 제3조는 주권이 국왕이 아닌 국민에게 있다는 국민 주권의 원리를 명시하고 있다.

**150** 인권의 발달 과정 답·⑤

**바른 풀이** ㄷ. (다) 독일 바이마르 헌법은 국가에 대해 인간다운 생활을 요구할 수 있는 사회권을 세계 최초로 헌법에 명시하였다. ㄹ. (라) 세계 인권 선언은 인권이 인종, 국가를 초월하여 모든 인류가 누려야 할 보편적 권리임을 선포하고 국제적 연대를 강조하였다.

**오답 체크** ㄱ. (가) 프랑스 인권 선언 당시에는 재산 등에 따라 참정권을 제한한 제한 선거가 실시되었다. ㄴ. 제시된 내용은 사회권에 대한 설명으로, 차티스트 운동은 노동자들의 참정권 확대를 목표로 했다.

**151** 인권의 발달 과정 답·⑤

**바른 풀이** ⑤ 1세대 인권이 '국가로부터의 자유'를 강조하는 반면, 2세대 인권은 인간다운 생활 보장을 위해 국가의 적극적인 개입을 요구하는 '국가에 의한 자유'의 성격을 갖는다.

**오답 체크** ① 연대와 단결은 3세대 인권인 ㉠에 대한 내용이다. ② 종교의 자유는 국가의 간섭을 받지 않을 권리로서 1세대 인권(자유권)의 대표적인 사례이다. ③ 국가 권력의 간섭을 배제할 때 실현되는 것은 1세대 인권이다. 수단적 성격은 청구권의 특징이다. ④ 생명, 자유, 안전에 관한 권리는 1세대 인권의 기본 항목이며, 3세대 인권은 평화권, 발전권, 환경권 등을 주요 목적으로 한다.

**152** 현대 사회의 인권 답·③

**바른 풀이** ㄴ. (나)는 디지털 환경에서 강조되는 잊힐 권리에 해당하며, 이는 현대 사회의 확장된 인권 중 하나이다. ㄷ. (다)는 문화권으로, 이를 통해 소수 문화를 존중하고 문화 향유 기회를 균등화할 수 있다.

**오답 체크** ㄱ. (가)는 환경권이다. ㄹ. (라)는 안전권으로, 국가가 공공의 안전을 위해 방역 조치를 취하는 과정에서 개인의 신체의 자유나 영업의 자유 등 다른 기본권이 제한될 수 있다.

**153** 사회권에 대한 이해

**KEY WORD** 산업 혁명, 빈부 격차, 인간다운 생활

**모범 답안** ㉠: 사회권, 역사적 배경: 산업 혁명 이후 빈부 격차, 노동 문제, 실업 등 자본주의의 부작용이 심화되면서, 국가가 개입하여 최소한의 인간다운 생활을 보장해야 한다는 필요성이 제기되었다.

채점 기준	수준
사회권이라고 쓰고, '산업 혁명', '빈부 격차', '인간다운 생활'의 핵심 개념을 바탕으로 논리적으로 서술한 경우	상
사회권이라고 쓰고, 국가의 역할은 언급했으나 그 원인이 되는 역사적 배경(산업 혁명 등)이 누락된 경우	중
사회권만 쓴 경우	하

**154** 자유권과 사회권의 이해 답·⑤

**바른 풀이** ⑤ ㉠은 국가의 간섭을 받지 않을 소극적 권리인 자유권이고, ㉡은 국가에 대해 쾌적한 환경을 요구하는 적극적 권리인 사회권이다.

**오답 체크** ① ㉠은 자유권이며, ㉡은 사회권이다. ② ㉠은 근대 시민 혁명 시기부터 강조된 고전적 권리에 해당하며, 포괄적 권리는 행복 추구권 등이 대표적이다. ③ 다른 기본권 보장을 위한 도구인 청구권이 수단적 권리이며, 현대 사회에서 기본권은 공공복리 등을 위해 법률로써 제한될 수 있는 상대적 권리이다. ④ ㉠은 국가 이전부터 자연적으로 주어진 천부 인권적 성격의 자유권인 반면, ㉡은 국가의 성립을 전제로 하는 현대적 성격의 사회권이다.

**155** 사회권, 자유권, 청구권의 이해 답·④

**바른 풀이** 국가의 존재를 전제로 하는 권리는 사회권과 청구권이므로 A와 B는 사회권 혹은 청구권이며, 나머지 C는 자유권이다. 인간다운 생활의 보장을 요구하는 권리는 사회권이므로 A는 사회권, B는 청구권이 된다. ㄱ. 사회권은 1919년 독일 바이마르 헌법에서 세계 최초로 명시된 현대적 권리이다. ㄴ. 청구권은 다른 기본권이 침해되었을 때 그 구제를 국가에 청구할 수 있는 수단적·도구적 권리이다. ㄷ. 자유권은 국가 권력의 간섭을 받지 않으려는 속성을 가진 가장 오래된 소극적·방어적 권리이다.

**오답 체크** ㄹ. 국가에 특정 행위를 요구하는 적극적 권리는 사회권과 청구권이며, 자유권은 소극적 권리에 해당한다.

**156 기본권의 제한** 답·③

**바른 풀이** 시위의 자유는 전형적인 자유권에 해당하며, 새벽 1시 시위를 금지하는 것은 타인의 평온한 생활을 보호하고 사회적 혼란을 막기 위한 질서 유지 목적에 해당한다.

**157 기본권의 제한**

**KEY WORD** 질서 유지, 법률, 본질적 내용

**모범 답안** 목적: 국가 안전 보장, 질서 유지, 공공복리를 위해 필요한 경우에 한한다. / 형식: 반드시 국회에서 제정한 법률로써 제한해야 한다. / 한계: 제한하는 경우에도 자유와 권리의 본질적인 내용을 침해할 수 없다.

채점 기준	수준
'법률', '본질적 내용', '질서 유지'의 핵심 개념을 바탕으로 목적, 형식, 한계 모두 논리적으로 서술한 경우	상
목적, 형식, 한계 중 두 가지만 정확히 서술한 경우	중
목적, 형식, 한계 중 한 가지만 정확히 서술한 경우	하

**158 인권 보장을 위한 제도적 장치** 답·③

**바른 풀이** ㄱ. 헌법 소원 심판은 공권력의 행사 또는 불행사로 인해 기본권을 침해받은 국민이 헌법재판소에 직접 구제를 청구하는 제도이다. ㄴ. 헌법재판소의 결정은 법적 구속력을 가지나, 국가 인권 위원회의 권고는 법적 강제성이 없다. ㄷ. 기본권은 인간이 존엄을 지키기 위해 당연히 누려야 할 천부 인권적 성격의 권리이며 헌법에 의해 보장된다.

**오답 체크** ㄷ. 기본권은 국가 안전 보장, 질서 유지, 공공복리를 위하여 필요한 경우에 한하여 법률로써 제한될 수 있다. ㄴ. 헌법 불합치 결정은 해당 법률의 위헌성을 인정하면서도 법적 혼란을 막기 위해 개정 전까지 한시적으로 효력을 유지시키는 결정이다.

**159 권력 분립 제도** 답·①

**바른 풀이** (다)가 (나)에게 행사하는 것이 '명령·규칙 심사권'이므로 (다)는 사법부, (나)는 행정부이며, 나머지 (가)는 입법부이다. ㄱ. 입법부인 국회는 국가의 예산안을 심의하고 최종적으로 확정하는 권한을 가진다. ㄴ. 행정부의 수반인 대통령은 대법원장 및 대법관 임명권을 통해 사법부를 견제할 수 있다.

**오답 체크** ㄷ. 법률안 거부권은 행정부가 입법부를 견제하는 수단이며, 입법부가 행정부를 견제하는 수단으로는 국정 감사권 등이 있다. ㄹ. ㉠에는 대법관 임명권, 사면권이 들어갈 수 있으며, 이는 행정부의 사법부에 대한 견제 장치이다.

**160 정치 참여 집단** 답·①

**바른 풀이** A는 정당, B는 이익 집단, C는 시민 단체이다. ① 정당의 고유한 특징이다.

**오답 체크** ② 비영리 활동은 시민 단체의 특징이다. 이익 집단은 사적 이익을 추구한다. ③ 정치 참여 집단은 정책 결정 과정에서 '투입'을 담당할 뿐, '산출(정책 결정)'은 국가 기관의 역할이다. ④ 정당 역시 공익을 추구하므로 ㉠에는 '예'가 들어가는 것이 적절하다. ⑤ 이들은 모두 국가 기관이 아니다.

**161 시민불복종** 답·④

**바른 풀이** ① ㉠은 부당한 체제에 저항한 시민불복종 성격의 참여이다. ② 우산 혁명은 시민불복종의 정당화 요건인 공개성과 비폭력성을 유지하며 전개되었다. ③ ㉡에서 처벌을 피하지 않았다는 태도는 체제 자체에 대한 존중을 보여 주는 것이다. ⑤ ㉢은 국가의 법 질서 내에서 보장되는 공식적이고 합법적인 시민 참여 수단이다.

**오답 체크** ④ 롤스에 따르면 시민불복종은 개인의 주관적 양심이 아닌 사회의 공유된 정의관에 근거해야 하며 반드시 최후의 수단으로 행해져야 한다.

**162 사회적 소수자 차별 문제** 답·④

**바른 풀이** (가) 사회적 소수자는 신체적·문화적 특징으로 인해 주류 집단으로부터 차별받는 이들을 뜻하므로 오른쪽으로 두 칸 이동하여 C에 위치한다. (O) (나) 권력이나 부 등 사회적 희소 자원 획득에서 열세에 있는 집단을 의미하므로 오른쪽으로 두 칸 이동하여 E에 위치한다. (O) (다) 차별 해소를 위해서는 개인적 인식 변화뿐만 아니라 법과 제도적 마련이 병행되어야 하므로 왼쪽으로 한 칸 이동하여 D에 위치한다. (X) (라): 소수자 판별의 핵심 기준은 인원수가 아닌 권력의 열세와 차별의 존재이므로 왼쪽으로 한 칸 이동하여 C에 위치한다. (X) (마) 고소득 전문직 종사자는 사회적 희소 자원 획득에서 우위에 있으므로 소수자에서 제외되어 왼쪽으로 한 칸 이동하여 B에 위치한다. (X) (바) 사회적 소수자는 시대와 장소에 따라 변하는 상대적 개념이므로 오른쪽으로 두 칸 이동하여 최종 위치는 D가 된다. (O)

**163 청소년 노동권 침해 문제** 답·④

**바른 풀이** 원칙적 취업 가능 연령(15세) 미만인 갑은 14세, 취업은 가능하나 법정 대리인 동의가 필요한 을은 17세, 성인인 병은 20세이다. ① 15세 미만인 갑이 예외적으로 취업하기 위해서는 고용 노동부 장관이 발급한 취직 인허증을 반드시 소지해야 한다. ② 청소년 보호법 등에 따라 18세 미만인 을은 도덕상 또는 보건상 유해·위험한 사업에 취업할 수 없다. ③ 성인인 병은 근로 기준법에 따라 당사자 간 합의 시 1주일에 12시간 한도로 연장 근로를 할 수 있다. ⑤ 18세 미만인 갑과 을은 성인인 병과 달리 원칙적으로 야간 및 휴일 근로가 금지되며, 예외적인 경우에만 고용 노동부 장관의 인가를 받아 가능하다.

**오답 체크** ④ 미성년자인 을도 성인인 병과 마찬가지로 근로 제공에 따른 임금을 사용자에게 독자적으로 청구할 수 있다.

**164 빈곤 문제** 답·③

**바른 풀이** ㄴ. 유니세프와 같은 국제기구뿐만 아니라 비정부 기구 등 다양한 국제 사회 행위자들의 협력이 필수적이다. ㄷ. 기아와 빈곤은 전 인류가 함께 해결해야 할 보편적 인권 문제이며 세계 시민으로서의 연대 의식이 필요하다.

**오답 체크** ㄱ. A 국가의 기아 문제는 극심한 인플레이션과 정치적 불안 등 구조적 원인이 크므로 개별 국가의 노력만으로는 해결하기 어렵다. ㄹ. 실리주의에 따른 경제적 교류 차단은 해당 지역의 빈곤을 더욱 심화시키며 국제적 상생의 원리에 어긋난다.

## II 사회 정의와 불평등

### C4 정의의 의미와 실질적 기준

#### 핵심개념 확인 문제

43쪽

165 정의	166 분배적	167 법	168 업적	169 예방
170 교정적	171 능력	172 필요	173 ㄴ	174 ㄱ
175 ㄷ	176 ㉠	177 ㉡	178 ㉢	

#### 가출로 기본 다지기

44~45쪽

179 ㉠	180 ㉡	181 ㉢	182 ㉣	183 ㉤
184 ㉥, ㉦	185 ㉧	186 ㉨	187 ㉩	188 ㉪

#### 179 정의의 의미

답·㉠

**바른 풀이** ㉠은 '정의'이다. 정의는 일반적으로 사회적 대우나 보상, 처벌 등에 있어 '마땅히 받을 만한 몫'을 공정하게 받는 것을 의미한다. ㄱ. 사회적 이익이나 부담에 있어 받아야 할 만큼의 몫을 받을 때 정의가 실현될 수 있다. ㄴ. 정의는 개인이나 집단 간의 갈등을 공정하게 처리하고 구성원들이 협력하여 공동선을 추구할 수 있도록 돕는다.

**오답 체크** ㄷ. 정의는 사회적 약자의 경제적 이익만을 추구하는 것이 아니라 사회 구성원 모두의 경제적 이익을 고려하여야 한다. ㄹ. 정의는 같은 것은 같게, 다른 것은 다르게 취급하는 것을 의미한다.

#### 180 아리스토텔레스의 정의

답·㉡

**바른 풀이** ㉠은 분배적 정의, ㉢은 교정적 정의, ㉣은 교환적 정의에 대한 설명이다. ㉡ 분배적 정의는 개인의 가치와 업적에 비례하여 명예나 보수 등이 분배되어야 한다는 것으로 기하학적 비례에 따른다. ㉠ 교정적 정의는 타인에게 해를 끼쳤으면 그만큼 보상해 주고, 이익을 주었으면 그만큼 돌려받아야 하는 것으로 산술적 비례에 따른다. ㉢ 교환적 정의는 같은 가치를 지닌 두 물건을 교환하게 함으로써 공정하게 하는 것이다.

#### 181 플라톤의 정의

답·㉣

**바른 풀이** 제시문의 사상가는 플라톤이다. 플라톤은 지혜, 용기, 절제의 덕이 조화를 이룰 때 인간 영혼에서 정의의 덕을 실현하고 행복한 삶을 살 수 있다고 보았다.

**오답 체크** ㉠ 플라톤의 정의는 필요에 따른 분배가 아닌 능력에 따른 분배이다. ㉡ 강자에게 이익이 되는 것을 정의로 본 사상가는 트라시마코스이다. ㉢ 플라톤은 사회적 약자의 삶에 대한 배려와 정의의 관계에 대해 언급하지 않았다. ㉤ 플라톤에 따르면 이성(지혜), 욕구(절제), 기개(용기)의 덕을 갖추어 서로 조화를 이룰 때 정의를 실현할 수 있다.

#### 182 플라톤의 정의

답·㉡

**바른 풀이** 플라톤은 개인이 타고난 성향에 따라 적절한 직분을 맡아야 하며, 계층이 자기 본분에 충실하며 조화를 이룰 때 정의로운 국가가 실현된다고 보았다. ㉠ 생산자 계급은 절제의 미덕을 갖추어야 한다. ㉢ 군인 계급은 용기의 미덕을 갖추어야 한다. ㉤ 통치자 계급은 지혜의 미덕을 갖추어야 한다.

#### 183 정의의 필요성

답·㉡

**바른 풀이** ㄱ. 정의는 일반적으로 인간이 지켜야 할 올바른 도리를 의미한다.

ㄷ. 정의는 사회 구성원이 동의할 수 있는 공정함의 기준에 대해 논의함으로써 우리 사회가 나아가야 할 올바른 방향을 제시해 준다. ㄹ. 정의는 사회적 대우나 보상, 처벌 등에 있어 '마땅히 받을 만한 몫'을 공정하게 받는 것을 의미한다.

**오답 체크** ㄴ. 정의는 개인선과 공동선의 조화를 추구한다. ㄷ. 정의로운 사회에서는 구성원들이 서로 협력하고 신뢰하여 사회 통합으로 나아갈 수 있다. ㄹ. 시대와 사회에 따라 정의의 구체적인 내용은 다르게 나타난다.

#### 184 업적에 따른 분배

답·㉡, ㉣

**바른 풀이** 제시문은 업적에 따른 분배이다. ㉠, ㉢ 업적을 쌓기 위한 과도한 경쟁으로 사회적 갈등이 발생할 수 있고 경제적 불평등이 심화될 수 있다. ㉤ 업적을 쌓기 어려운 사회적 약자에 대한 배려가 부족하다는 문제를 지닌다. ㉡ 서로 다른 업적 중 무엇을 중시할 것인가에 대한 합의가 어려울 수 있다.

**오답 체크** ㉡ 필요에 따른 분배에서 나타날 수 있는 문제점이다. ㉣ 업적에 따른 분배는 기여한 만큼 가져가기 때문에 오히려 생산성을 높이는 동기가 된다.

#### 185 정의로운 분배

답·㉡

**바른 풀이** (가)는 키가 큰 사람과 작은 사람 모두에게 똑같이 발판을 분배하였지만, (나)는 키가 작은 사람에게 더 많은 발판을 분배하는 차등을 둬서 결과적으로 세 사람 모두 경기를 볼 수 있도록 하였다. 이는 사회적 약자를 배려한 분배이다.

#### 186 업적에 따른 분배

답·㉡

**바른 풀이** 제시문은 업적에 따른 분배를 주장하고 있다. 이는 서로 다른 종류의 업적을 비교하기 힘들고, 사회적 약자를 소외시키며 경쟁 과열이 초래될 수 있다는 비판을 받는다.

**오답 체크** ㉠ 업적에 따른 분배는 개인의 성취동기를 유발하여 사회 발전에 기여할 수 있다는 장점이 있다. ㉢ 경영자가 높은 수익을 올리는 것, 의사가 뛰어난 의료 기술을 지닌 것, 축구 선수가 더 많은 득점을 올린 것은 모두 업적을 기준으로 하므로 분배 기준이 일관성 있게 적용된 것이다. ㉣ 업적에 따른 분배는 성과에 따라 차등적으로 분배한다. ㉤ 업적에 따른 분배는 재능이나 환경과 같은 우연적 요소의 영향을 많이 받는다.

#### 187 능력에 따른 분배

답·㉣

**바른 풀이** 그림은 능력을 기준으로 하는 분배 정의에 대한 대화이다. (가)에는 능력에 따른 분배가 지니는 한계에 대한 내용이 들어가면 된다. ㉣ 능력을 기준으로 하는 분배는 능력 중 일부가 선천적 자질이나 부모의 지위 등 우연적인 요소로 결정된다는 한계를 지닌다.

**오답 체크** ㉠ 필요에 의한 분배가 지니는 한계이다. ㉡, ㉢ 업적에 따른 분배가 지니는 한계이다. ㉤ 능력에 따른 분배의 직접적인 한계로 보기 어렵다.

#### 188 왈처의 정의

답·㉡

**바른 풀이** 제시문의 사상가는 왈처이다. 왈처는 사회적 가치들이 각기 다른 영역에서 서로 다른 기준에 따라 분배되어야 한다고 주장하였다. ㉡ 정의의 원칙이 공정한 가상의 상황에서 도출되어야 한다고 주장한 사상가는 롤스이다. 롤스는 원초적 입장이라는 가상의 상황에서 무지의 베일을 쓴 합리적인 사람들이 정의의 원칙에 합의하게 된다고 보았다.

**오답 체크** ㉠ 왈처는 경제, 정치, 교육 등 사회의 영역은 다양하게 나누어지며 각 영역마다 서로 다른 분배 기준을 지닌다고 보았다. ㉡, ㉣ 한 영역 내에서 불평등이 존재하는 것은 어쩔 수 없지만 해당 영역의 특정한 가치가 다른 영역에 영향을 주어서는 안 된다. ㉢ 왈처는 공동체주의 사상가로 사회마다 중요하게 여기는 사회적 가치가 다르다고 보았다.

- 189 ⑤      190 ②      191 ⑤      192 ④      193 ④  
 194 ④      195 ④, ⑥      196 ②      197 ④      198 ③  
 199 ①      200 ⑤

**서답형**

- 201 (1) 모범 답안 참조      (2) 교정적 정의  
 202 (1) 능력      (2) 모범 답안 참조  
 203 (1) ㉠ 성취동기, ㉡ 자격증, ㉢ 사회적 약자  
 (2) 모범 답안 참조  
 204 (1) 갑: 필요, 을: 업적      (2) 모범 답안 참조

**189 정의의 필요성**      답·⑤

**바른 풀이** ㉠은 정의이다. 정의는 동서양을 막론하고 보편적인 가치로 추구되어 왔으며 정의를 통해 개인은 기본적인 권리를 누리며 인간 존엄성을 실현하고 자신의 노력에 알맞은 보상을 받을 수 있다. 또한 공동체 전체의 나아갈 방향에 대한 합의에 도달함으로써 사회 통합을 이룰 수 있다.

**오답 체크** ⑤ 부당하게 이익을 추구하는 사람에게 가해야 할 적절한 규제 및 처벌에 대해 합의하는 것이 정의이며, 정의는 각자에게 알맞은 몫을 주는 것이 모두에게 동등한 몫을 주는 것이 아니다.

**190 분배적 정의**      답·②

**바른 풀이** ㉠은 분배적 정의이다. 아리스토텔레스는 각자의 가치에 따라 권력, 명예, 재화를 분배함으로써 공정함을 실현해야 한다고 보았으며, 이러한 분배적 정의는 기하학적 비례를 따른다. ㄱ. 기여도에 따라 분배한 경우이므로 적절한 사례이다. ㄴ. 메달을 순위에 따라 분배한 경우이므로 적절한 사례이다.

**오답 체크** ㄴ. 손해를 끼친 만큼 되돌려주는 교정적 정의의 사례이다. ㄷ. 교환적 정의와 관련 있는 내용이다.

**191 플라톤의 정의**      답·⑤

**바른 풀이** 제시문의 사상은 플라톤이다. 플라톤은 각자가 능력과 소질에 맞는 사회적 역할을 수행하여 계층 간에 질서와 조화를 이루는 것을 정의라고 보았다. ㄴ. 각자 타고난 자질을 계발하고 발휘함으로써 자신에게 주어진 역할을 충실하게 수행할 때 정의로운 사회로 나아갈 수 있다. ㄷ. 플라톤은 지혜, 용기 등 각자의 자질에 따라 사회적 역할을 배분할 것을 주장한 것이 지위의 세습을 주장하지 않았다.

**오답 체크** ㄱ. 플라톤의 주장에서 기회의 평등에 관한 내용은 찾을 수 없다. ㄴ. 플라톤은 필요에 따른 분배를 주장한 것은 아니다.

**192 아리스토텔레스의 정의**      답·④

**바른 풀이** 제시문의 사상은 아리스토텔레스이다. 첫 번째 입장: 일반적 정의는 공익 실현을 위한 법을 준수하는 것이다. 세 번째 입장: 분배적 정의는 같은 것은 같게, 다른 것은 다르게 분배하는 것이다. 어느 상황에서나 똑같이 분배하는 것은 정의롭지 못하다. 네 번째 입장: 분배적 정의는 각자가 지닌 능력에 따라 권력이나 부, 명예 등의 몫을 공정하게 분배하는 것이다.

**오답 체크** 두 번째 입장: 교정적 정의만으로는 사회 정의를 실현할 수 없다. 일반적 정의인 법 준수와 공정한 분배가 이루어지지 않는다면 사회 정의의 실현이 불가능하다.

**193 롤스의 정의**      답·④

**바른 풀이** 제시문의 사상은 롤스이다. 롤스 정의론의 핵심은 모든 개인의 기본적 자유와 권리를 평등하게 보장하는 데 있다.

**오답 체크** ①, ③ 롤스는 다수의 이익을 위해 소수의 희생을 정당화하는 것에 반대한다. ②, ⑤ 롤스는 효율성이 아무리 높더라도 정의롭지 못한 제도나 법은 개혁되거나 폐기되어야 한다고 강조한다.

**194 칸트와 베카리아의 교정적 정의**      답·④

**바른 풀이** 갑은 칸트, 을은 베카리아이다. ㄱ. 칸트에게 형벌은 정의 실현 그 자체이다. ㄴ. 베카리아는 '최대 다수의 최대 행복' 관점에서 형벌의 유용성을 중시한다. ㄷ. 베카리아는 사형이 주는 순간적 공포보다 종신 노역형이 보여 주는 지속적 위협이 범죄 억제에 훨씬 더 효과적이라고 보았다.

**오답 체크** ㄴ. 사형 폐지를 주장한 사람은 베카리아이다. 칸트는 살인자에 대한 사형을 정의 실현을 위한 당연한 응보로 보았다.

**개념 더하기 칸트와 베카리아의 교정적 정의 비교**

구분	칸트(응보주의)	베카리아(공리주의)
처벌의 근거	범죄 행위 그 자체	사회적 이익 및 범죄 예방
사형 제도	찬성	반대
핵심 원리	동해 보복 원칙	형벌의 경제성 및 예방 효과
범죄자 대우	책임 있는 인격체	사회를 위한 본보기/교화 대상

**195 다양한 분배의 기준**      답·④, ⑥

**바른 풀이** 학생 A는 업적에 따른 분배, 학생 B는 능력에 따른 분배, 학생 C는 필요에 따른 분배를 주장하고 있다. ④ 능력에 따른 분배는 타고난 재능이나 환경과 같은 선천적·우연적인 요소를 배제하지 못하여 사회적 차별을 야기할 가능성이 있다. ⑥ 필요에 따른 분배는 최대한 많은 사람이 인간다운 삶을 살 수 있게 한다는 장점이 있다.

**오답 체크** ①, ② 학생 B에 대한 진술이다. ③ 학생 C에 대한 진술이다. ⑤ 학생 A와 B에 대한 진술이다.

**196 능력에 따른 분배**      답·②

**바른 풀이** 제시문은 능력에 따른 분배를 설명하고 있다. ㄱ. 능력에 따른 분배는 잠재력을 발휘할 수 있는 기회를 제공한다. ㄴ. 능력은 선천적인 부분을 무시할 수 없기에 사회적·경제적 불평등을 초래할 수 있다.

**오답 체크** ㄴ. 필요에 따른 분배가 갖는 장점이다. ㄷ. 필요에 따른 분배가 갖는 단점이다.

**197 다양한 분배의 기준**      답·④

**바른 풀이** A 고등학교 상급의 분배 기준으로 갑은 업적, 을은 능력, 병은 필요를 제시하고 있다. ㄴ. 개인이 지닌 잠재력과 재능에 따라 분배하는 것은 능력에 의한 분배이다. ㄷ. 최대한 많은 사람이 인간다운 삶을 살 수 있도록 하는 것은 필요에 의한 분배의 장점이다.

**오답 체크** ㄱ. 모든 사람에게 똑같이 분배하는 절대적 평등으로, 분배적 정의에 대한 갑~병의 대화와는 관련이 없다. ㄴ. 업적에 의한 분배의 장점이다. ㄹ. 업적과 능력에 의한 분배의 장점이다.

**198 업적에 따른 분배**      답·③

**바른 풀이** 제시문은 업적에 따른 분배를 설명하고 있다. ① 업적만을 분배 기준으로 삼으면 업적을 쌓기 어려운 사회적 약자에 대한 배려가 부족할 수 있다. ② 업적을 이루기 위한 과도한 경쟁으로 사회적 갈등과 낭비를 부추길 수 있다. ④ 서로 다른 업적의 경우 평가 기준을 마련하기 어렵다. ⑤ 업적에 따른 분배는 개인의 성취나 기여도를 기준으로 삼지만 그 업적을 공정하게 얻은 것이 아니라면 분배 결과의 정당성 문제가 발생할 수 있다.

**오답 체크** ③ 업적에 따른 분배는 업적의 성과를 객관화 및 수량화할 수 있으므로 주관적 편견이 개입될 가능성이 적다.

**199** **알처의 정의** 답·①

**바른 풀이** 제시문의 사상은 알처이다. 첫 번째 입장: 알처에 따르면 사회적 가치는 공동체의 문화적·역사적 맥락 속에서 고유한 의미를 형성하므로 정의로운 분배를 위해서는 맥락에 맞는 다원적 기준이 적용되어야 한다. 두 번째 입장: 알처는 사회적 가치마다 고유한 영역이 있으므로 각 영역에 적합한 분배 원칙을 적용해야 한다고 보았다. 네 번째 입장: 알처의 복합 평등 관점에서 각 사회적 가치는 고유한 사회적 의미를 지니므로 영역별 성격에 따라 서로 다른 분배 원칙과 정당한 절차를 적용해야 하며, 한 영역의 가치가 다른 영역의 분배 원칙을 침범하는 것은 부정적이다.

**오답 체크** 세 번째 입장: 알처는 모든 상황에 적용되는 보편적인 정의 원칙을 찾는 방식에 반대한다.

**200** **성과급 제도의 문제점** 답·⑤

**바른 풀이** 제시문에서 설명하는 성과급 제도는 업적에 따른 분배이다. ㄴ. 성과를 측정하는 기준이 주관적이거나 불투명한 경우, 분배 결과에 대한 공정성 논란이 발생할 수 있다. ㄷ. 동료를 협력의 대상이 아닌 이겨야 할 경쟁 상대로 인식하게 만들어, 과열 경쟁이 발생하고 조직 내 협동 정신이 약화될 수 있다. ㄹ. 업적이 뛰어난 사람에게 유리한 방식이므로, 상대적으로 경쟁력이 낮은 사회적 약자에게 불리한 결과를 초래하여 사회적 불평등이 심화될 우려가 있다.

**오답 체크** ㄱ. 성과급 제도는 개인의 근로 의욕을 자극하여 경제적 생산성과 효율성을 높이는 장점이 있다.

**201** **아리스토텔레스의 정의**

- (1) **모범 답안** (공동체)의 구성원으로서 (법)을 준수하는 것이다.
- (2) 교정적 정의

**202** **플라톤의 정의**

- (1) 능력
  - (2) **KEY WORD** 능력, 평가 기준, 우연적 요소
- 모범 답안** 능력을 평가할 정확한 기준을 마련하기 어렵다. / 우연적인 요소가 개입되기 쉽다. / 사회적 약자들의 소외감과 상대적 박탈감을 유발할 수 있다.

채점 기준	수준
'평가 기준의 모호성', '우연적 요소의 개입', '사회적 약자의 소외감' 중 한 가지를 포함하여 적절히 서술한 경우	상
핵심 개념을 사용하였으나 인과 관계가 모호하게 서술한 경우	중
핵심 개념을 사용하지 않고 일반적인 용어로 서술한 경우	하

**203** **분배적 정의의 기준**

- (1) ㉠ 성취동기, ㉡ 자격증 ㉢ 사회적 약자
  - (2) **KEY WORD** 지나친 경쟁, 선천적 재능, 성취동기
- 모범 답안** ㉡ 과열 경쟁을 유발하여 비인간적인 사회가 될 수 있다. ㉢ 선천적 재능이나 부모의 사회·경제적 지위 등 우연적 요소의 영향을 받을 수 있다. ㉠ 성취동기를 저하시킬 수 있다.

채점 기준	수준
세 가지 기준의 단점을 모두 정확하게 서술한 경우	상
두 가지 기준만 정확하게 서술한 경우	중
한 가지 기준만 정확하게 서술한 경우	하

**204** **필요와 업적에 따른 분배**

- (1) 갑: 필요, 을: 업적
  - (2) **KEY WORD** 성취동기, 한정된 재화, 역차별
- 모범 답안** 개인의 성취동기가 약해질 수 있다. / 한정된 재화로 모든 사람의 필요를 충족시킬 수 없다.

채점 기준	수준
'성취동기 저하', '한정된 재화' 중 한 가지를 포함하여 논리적으로 서술한 경우	상
핵심 개념을 사용하지 않고 일반적인 용어로 서술한 경우	하

**가출로 1등급 도전하기** 50~51쪽

- 205 ②      206 ③      207 ⑤      208 ③      209 ④
- 210 ②      211 ②      212 ①

**205** **플라톤의 정의관** 답·②

**바른 풀이** 제시문의 사상은 플라톤이다. ② 플라톤에 따르면 통치자는 지혜, 수호자는 용기, 생산자는 절제의 덕을 갖추고, 이 세 계층이 조화를 이룰 때 국가의 정의가 실현된다.

**오답 체크** ① 플라톤은 통치자, 수호자, 생산자의 세 계층이 명확하게 구분되고 각자의 역할에 충실한 계층적 질서를 강조하였다. ③ 플라톤은 통치자와 수호자 계층의 사유 재산을 반대하였다. 생산자 계층은 사유 재산을 가질 수 있다. ④ 정의로운 나라에서는 특정 계층만이 아니라 시민 전체가 행복하다. ⑤ 플라톤은 각 계층이 상호 보완적인 기능을 수행해야 한다고 주장하였다.

**206** **아리스토텔레스의 정의** 답·③

**바른 풀이** 제시문의 사상은 아리스토텔레스이다. ③ 분배적 정의는 각자의 가치에 비례하여 몫을 나누는 것이다.

**오답 체크** ① 필요에 따른 분배는 마르크스의 입장이다. 아리스토텔레스는 가치에 따른 분배를 강조하므로 해당 질문에 대한 대답은 '아니오'이다. ② 교정적 정의는 손해와 이익이 동등해지도록 바로잡는 것이므로 해당 질문에 대한 대답은 '아니오'이다. ④ 제시문에 따르면 일반적 정의는 다른 사람의 이익을 추구한다. 정의로운 사람은 다른 사람에게 이로운 일을 추구하므로 해당 질문에 대한 대답은 '예'이다. ⑤ 일반적 정의는 공익을 목표로 삼아 제정된 법을 준수하는 것이므로 해당 질문에 대한 대답은 '예'이다.

**207** **플라톤과 공자의 정의** 답·⑤

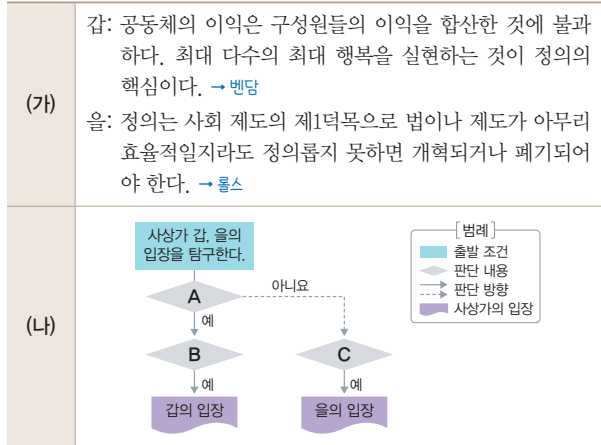
**바른 풀이** (가)의 갑은 플라톤, 을은 공자이다. ㄷ. 공자는 만물이 하나로 어우러지는 대동 사회를 이상적이며 재화가 고르게 분배되는 사회라고 보았다. ㄹ. 공자는 사회 혼란의 원인을 개인의 도덕성의 타락으로 보고 이를 해결하기 위해 내면의 도덕성인 인을 회복해야 한다고 주장했다.

**오답 체크** ㄱ. 플라톤과 공자 모두 도덕규범을 지키기 위한 노력이 중요하다고 보았기에 A에 들어갈 질문으로 적절하지 않다. ㄴ. 플라톤은 자유로운 역할 교환에 반대하기에 B에 들어갈 질문으로 적절하지 않다.

**208** **업적에 따른 분배** 답·③

**바른 풀이** (가)는 절대적 평등에 따른 분배, (나)는 업적에 따른 분배이다. (나)와 비교하였을 때 (가)의 절대적 평등에 따른 분배는 상대적으로 사회적 불평등은 해소될 수 있으나, 일하지 않으려는 사람이 많을 수 있다. 반면 (나)의 업적에 따른 분배는 일한 만큼 그 몫을 가져가게 되기에 노동의욕을 유발하지만 결과의 불평등이 발생하기 쉽고 과열 경쟁으로 인한 사회적 갈등이 발생할 가능성이 높아진다.

(가)의 갑, 을 사상가들의 입장을 (나) 그림으로 표현할 때, A~C에 해당하는 적절한 질문만을 <보기>에서 고른 것은?



보기

- ✗ A: 사회적 유용성보다 개인의 기본권 수호를 정의의 최우선 가치로 삼는가? → 롤스는 긍정하지만 벤담은 사회적 유용성을 더 중시하므로 부정한다.
- Ⓒ B: '최대 다수의 최대 행복'을 정의로운 사회의 판단 기준으로 삼는가?
- ✗ C: 사회 전체의 복지를 증진하기 위해 소수의 자유를 제한할 수 있다고 보는가? → 롤스는 공공의 이익을 위해 개인의 자유를 희생하는 것에 반대한다.
- Ⓓ C: 타인이 가질 더 큰 이익을 이유로 개인의 권리를 희생시키는 것에 반대하는가?

- ① 가, 나                      ② 가, 다                      ③ 나, 다
- ④ 나, 라                      ⑤ 다, 라

등답 문제 풀이 비법

STEP 1 제시문의 단서에서 사상가가 누구인지 파악한다.

- 갑: '최대 다수의 최대 행복'을 주장한 점과 사회를 개인의 합으로 본 점에서 공리주의자 벤담임을 알 수 있다.
- 을: 정의를 '사회 제도의 제1덕목'이라 주장하며 정의로운 법과 제도의 중요성을 주장하므로 롤스임을 알 수 있다.

STEP 2 ㄱ~ㄹ에 대한 각 사상가의 입장을 파악한다.

질문의 핵심	갑(벤담)	을(롤스)	
ㄱ. 사회적 유용성 < 개인의 기본권	X	○	→ × A는 갑만 긍정해야 한다.
나. 공리의 원리	○		→ ○ B는 갑이 긍정해야 한다.
다. 개인의 기본권 제한		X	→ × C는 을이 긍정해야 한다.
라. 기본권 제한 반대		○	→ ○ C는 을이 긍정해야 한다.

바른 풀이 갑은 칸트, 을은 베카리아이다. ② 칸트는 동등성의 원리에 따라 살인에는 오직 사형만이 대등한 가치를 지닌 처벌이라고 주장하였다.

오답 체크 ① 베카리아의 입장이다. 칸트는 형벌은 범죄를 저질렀다는 그 사실만으로 가해져야 하는 것이지 다른 목적을 위한 수단이 되어서는 안 된다고 보았다. ③ 동등성의 원리는 칸트의 입장이다. ④ 베카리아는 사형보다 종신 노역형이 잠재적 범죄자에게 더 큰 억제력을 준다고 보았다. ⑤ 갑은 응보주의, 을은 공리주의의 관점이다.

자료 분석

갑: 형벌은 범죄자가 범죄를 저질렀기 때문에 부과되어야만 한다. 설령 시민 사회가 모든 구성원의 동의하에 해체된다 할지라도, 감옥에 있는 마지막 살인범은 처형되어야 한다. - 칸트

을: 형벌의 목적은 오직 범죄자가 시민들에게 새로운 해악을 끼치는 것을 방지하고, 타인들이 그와 같은 행위를 하지 못하도록 억제하는 데 있다. - 베카리아

→ 갑은 응보주의적 관점에서 형벌을 통해 범죄 행위에 대한 응당한 보복을 가할 것을 주장하므로 칸트임을 알 수 있다. 을은 범죄 예방에 주목하고 있으므로 공리주의적 관점을 따르는 베카리아임을 알 수 있다.

211 다양한 분배의 기준

바른 풀이 갑은 필요에 따른 분배, 을은 업적에 따른 분배, 병은 능력에 따른 분배를 추구한다. ② 필요에 따른 분배를 주장하는 갑은 능력이 부족한 사회적 약자도 인간다운 삶을 살 수 있도록 배려해야 한다고 본다. 따라서 능력만 고려하는 병에게 사회적 약자의 보호와 결과적 평등의 중요성에 대해 비판할 수 있다.

오답 체크 ① 기회의 평등은 능력주의에서 강조하는 가치로 필요에 따른 분배를 주장하는 갑이 제시할만한 비판이 아니다. ③ 필요에 따른 분배를 주장하는 입장 역시 '필요'라는 기준에 따라 서로 다르게 분배될 수 있다고 보므로 차등 분배가 능성 자체가 비판의 내용이 될 수는 없다. ④ 성취동기와 창의성을 저하시키는 것은 필요에 따른 분배를 주장한 갑에 대한 비판이다. 업적과 능력은 모두 성취동기를 자극하는 방식이다. ⑤ 사회 불평등 개선은 필요에 따른 분배를 주장하는 갑이 강조할만한 내용이다. 능력에 따른 분배를 주장하는 병은 오히려 차등 보상을 통해 효율성을 높이는 데 관심을 갖는다.

212 다양한 분배의 기준

바른 풀이 ㉠은 능력에 따른 분배, ㉡은 필요에 따른 분배, ㉢은 업적에 따른 분배를 추구한다. ① 자신의 재능을 갈고닦거나 높은 성과를 낼수록 더 많은 보상이 주어지기 때문에 생산성과 효율성, 성취동기를 자극한다.

오답 체크 ② 필요에 따른 분배는 사회적 약자를 보호하여 실질적인 평등을 실현하고 불평등을 완화하는 데 기여한다. ③ 사회 안전망 마련의 근거가 되는 것은 필요에 따른 분배이다. ④ 업적에 따른 분배는 효율성을 높이며, 필요에 따른 분배는 기여도와 상관없이 배분하므로 경제적 효율성 면에서는 낮게 평가될 수 있다. ⑤ 능력이 부족한 사람에게 불공정하게 느껴질 수 있는 것은 주로 선천적 재능을 중시하는 능력에 따른 분배나 경쟁 결과만 따지는 업적에 따른 분배이다. 필요에 따른 분배는 오히려 능력이 부족한 사람을 돕는 기준이다.

## 5 다양한 정의관의 특징과 적용

### 핵심개념 확인 문제

53쪽

213 자유주의	214 소유 권리	215 차등
216 월처	217 최대한	218 자유주의적
220 ㄱ	221 ㄷ	222 ㄴ
225 ㉠	226 ㉡	227 ㉢
		223 ㄴ
		224 ㉠

### 기출로 기본 다지기

54~55쪽

228 ②	229 ③	230 ④	231 ①, ②, ⑤
232 ⑤	233 ③	234 ④	235 ②
237 ⑤	238 ③		236 ②

### 228 자유주의적 정의관 답·②

**바른 풀이** 제시문은 자유주의적 정의관이다. 자유주의적 정의관은 사회를 개인들의 합에 불과하다고 보며 개인의 독립성과 자율성을 중시한다.

**오답 체크** ①, ③, ④ 공동체주의적 정의관에 대한 내용이다. ⑤ 자유주의는 국가의 개입보다는 개인의 자유로운 선택과 책임을 강조하는 경향이 있다.

### 229 노직의 정의관 답·③

**바른 풀이** 제시문의 사상가는 노직이다. ③ 노직은 취득이나 양도 과정에서 잘못이 있었다면 이를 바로잡는 교정의 원칙을 강조하는데, 부정의를 교정하는 주체는 국가이다.

**오답 체크** ① 취득과 양도의 과정이 정의로웠다면 그 결과물에 대한 소유권은 정당하다고 본다. ② 타인의 권리를 침해하지 않는 범위 내에서 자유를 최대한 누릴 수 있다고 본다. ④ 노직은 부유한 사람의 세금을 걷어 가난한 사람을 돕는 재분배 정책이 개인의 소유권을 침해한다고 본다. ⑤ 자유로운 시장 경제와 개인의 창의적 활동이 보장될 때 사회적 효율성도 증대될 수 있다고 본다.

### 230 롤스의 정의관 답·④

**바른 풀이** ㄷ. '평등한 자유의 원칙'으로 기본적인 자유가 모든 사람에게 평등하게 보장되어야 한다는 내용이다. ㄴ. '차등의 원칙'으로 불평등은 최소 수혜자에게 최대의 이익이 돌아갈 때 정당화될 수 있다는 것이다.

**오답 체크** ㄱ, ㄴ, 노직의 관점이다.

### 231 노직의 정의관 답·①, ②, ⑤

**바른 풀이** 제시문의 사상가는 노직이다. ① 노직은 국가가 국민의 안전 보장, 계약 이행 감시 등 최소의 역할만을 수행해야 한다고 보았다. ② 자유주의적 관점으로 노직의 관점과 일치한다. ⑤ 노직은 복지 정책을 위해 세금을 걷는 행위는 노동 시간을 강제로 뺏는 것과 다름없다고 비판하였다.

**오답 체크** ③ 매킨타이어와 같은 공동체주의적 관점이다. ④ 공리주의의 관점이다. ⑥ 월처의 주장이다.

### 232 롤스의 정의관 답·⑤

**바른 풀이** 제시문의 사상가는 롤스이다. ⑤ 롤스는 사회가 갖추어야 할 최우선 덕목을 정의라고 보았다.

**오답 체크** ① 롤스는 자유주의적 정의관을 바탕으로 한다. ② 롤스는 정의로운 사회에서도 경제적 불평등이 존재할 수 있다고 보았으므로 재산 및 소득의 분배가 균등해야 한다고 주장하지 않았다. ③ 공동체주의적 정의관에 대한 설명이다. ④ 롤스는 더 큰 자유를 위해서 혹은 다른 기본적 자유와 충돌할 때 자유를 제한할 수 있다고 보았다.

### 233 자유주의적 정의관과 공동체주의적 정의관 답·③

**바른 풀이** 자유주의적 정의관은 개인의 권리와 자율성, 독립성을 중시하고 개인선의 실현을 정의로 본다. 반면 공동체주의적 정의관은 구성원 간의 평등과 연대를 강조하고, 공동선의 실현을 정의로 본다. ㉠ 구성원 간의 연대 의식이 필요하다고 보는 것은 공동체주의적 정의관의 입장이다.

### 234 공동체주의적 정의관 답·④

**바른 풀이** 제시된 자료는 공동체주의적 정의관과 집단주의를 구별한다. 공동체주의는 공동선을 우선하면서도 개인의 자유와 권리를 침해하는 것에 반대한다. ㄱ. 공동체주의는 공동체의 전통과 가치를 존중하되, 그것이 인류의 보편적 가치나 개인의 기본적 자유를 파괴해서는 안 된다고 보았다. ㄷ. 공동체주의는 '좋은'에 대한 공동의 고민을 강조하는 것이지만 맹목적인 복종을 요구하는 집단주의가 아니다. ㄴ. 제시문은 인류의 보편적 가치를 위협하는 행위에 대하여 반대하고 있다.

**오답 체크** ㄴ. 자유주의의 입장이다. 공동체주의는 국가가 공동선이라는 특정 가치를 장려해야 한다고 보았다.

### 235 매킨타이어의 정의관 답·②

**바른 풀이** 제시문은 공동체주의적 정의관을 지닌 매킨타이어의 글이다. 공동체주의는 개인을 공동체의 문화와 역사 등의 영향을 받으며 살아가는 존재로 본다. ② 공동체주의는 인간을 공동체가 지향하는 가치를 배우고 받아들여 자신의 정체성을 형성하는 사회적 존재로 본다.

**오답 체크** ① 자유주의적 관점이다. 공동체주의는 개인이 가족이나 국가와 같은 사회적 관계 속에서 태어나며 그 안에서 삶의 의미를 찾는다고 본다. ③ 자유주의의 관점이다. 공동체주의는 국가가 공동체의 공동선을 장려해야 한다고 본다. ④ 공동체주의는 개인이 내리는 도덕적 판단이 자신이 속한 사회 배경 속에서 이루어진다고 본다. ⑤ 집단주의의 관점이다. 공동체주의는 개인의 자유를 존중하며 공동체의 가치와 개인의 권리가 조화를 이루는 것을 지향한다.

### 236 샌델의 정의관 답·②

**바른 풀이** 제시문의 사상가는 공동체주의적 정의관을 지닌 샌델이다. ㄱ. 개인의 삶은 공동체적 역사적 흐름 속에서 구성되므로 공동체에 뿌리를 두고 있다. ㄷ. 공동체주의는 인간을 관계적 존재로 본다.

**오답 체크** ㄴ, ㄴ. 자유주의적 정의관의 입장이다.

### 237 공유지의 비극 답·⑤

**바른 풀이** 마을 사람들이 자신의 이익만을 지나치게 추구한 나머지 서로의 자유와 권리를 침해하고 공동체를 위태롭게 하여 공동선이 약화되었다.

### 238 부유세 답·③

**바른 풀이** 갑은 부유세를 긍정하는 입장으로 공동체주의적 관점이고, 을은 부유세를 부정하는 입장으로 자유주의적 관점이다. ③ 갑은 재분배를 통해 사회적 약자를 도와야 한다고 보지만, 을은 이를 재산권 침해로 보기 때문에 이에 대해 부정적이다.

**오답 체크** ① 갑은 복지 정책이 빈부 격차를 줄일 수 있다고 주장한다. ② 갑의 주장이다. 을은 국가의 개입보다는 개인의 재산권 보호를 더 중요하게 생각한다. ④ 을은 부유세에 반대할 뿐 기부에 대해 언급하지 않았다. ⑤ 갑은 국가의 개입을 찬성하지만, 을은 국가가 개인의 재산권에 과도하게 개입하는 것에 반대한다.

239 ④	240 ②	241 ②	242 ①	243 ③
244 ⑤	245 ④	246 ⑤	247 ③	248 ⑤
249 ②	250 ④			

서답형	
251 (1) 갑: 노직, 을: 롤스	(2) 모범 답안 참조
252 (1) 공유지의 비극	(2) 모범 답안 참조
253 모범 답안 참조	254 B, 모범 답안 참조

**239 자유주의적 정의관** 답·④

**바른 풀이** (가)는 자유주의적 정의관이다. 나. 자유주의적 정의관은 국가가 개인의 자유를 보호하고 개인의 권리를 증진하는 수단으로서의 가치를 지닌다고 본다. 르. 자유주의적 정의관에서의 개인은 이성을 가지고 자기 삶의 목적을 선택하는 자율적 존재이다.

**오답 체크** 가, 르. 공동체주의적 정의관의 입장이다.

**240 롤스의 정의관** 답·②

**바른 풀이** (가)는 롤스의 정의론이다. ② ㉠: 원초적 입장의 당사자들은 공정한 합의를 위해 무지의 베일을 쓰고 있어 특수한 사정은 알 수 없다. ㉡: 차등의 원칙과 공정한 기회 균등의 원칙을 지킨다면 불평등은 정당화될 수 있다.

**오답 체크** ① ㉠(x): 무지의 베일을 쓴 사람들은 자신의 이익을 포기하지 않는다. ㉡(○): 공정한 기회 균등의 원칙이 실현된 사회에서는 모든 사람에게 직책과 지위의 기회가 개방된다. ③ ㉡(○): 원초적 입장에서 합의 당사자는 자신에 대한 정보가 가려진 상태이므로 자신이 최소 수혜자인 최악의 상황을 가정하여 최소 수혜자에게 최대 이익이 되는 정의의 원칙에 합의하게 된다. ㉢(x): 정의로운 사회는 균등한 분배가 보장되는 곳이 아니라 공정한 분배가 보장되는 곳이다. 최소 수혜자에게 이익이 된다면 불평등이 정당화될 수 있기 때문이다. ④ ㉠(x): 원초적 입장의 합리적 당사자들은 자신의 이익을 우선한다. ㉡(○) 차등의 원칙의 내용으로 사회적 격차가 허용되려면 그 격차로 인해 최소 수혜자의 처지가 격차가 없을 때보다 더 나아져야 한다는 뜻이다. ⑤ ㉡(○): 원초적 입장의 당사자는 무지의 베일을 쓰고 있으므로 자신의 능력을 모른 채 자신의 이익을 추구한다. ㉢(x): 롤스는 필요에 따른 분배를 주장하지 않았다.

**241 롤스와 노직의 정의관** 답·②

**바른 풀이** (가)는 롤스, (나)는 노직이다. 가. 롤스의 정의의 제1원칙에서 기본적 자유는 정치, 언론과 집회, 양심과 사상, 신체, 사유 재산의 소유 등에서의 자유를 의미한다. 롤스는 모든 사람이 기본적 자유를 최대한 누릴 수 있는 평등한 권리를 지녀야 한다고 강조하였다. 르. 롤스의 차등의 원칙에 따르면 최소 수혜자에게 최대의 이익이 돌아갈 때 사회적·경제적 불평등이 허용될 수 있다. 롤스는 타고난 재능을 사회의 공동 자산처럼 여기고 그 이익을 사회적 약자를 위해 써야 한다고 보았다. 반면 노직은 재능과 그로 인한 결과물은 온전히 개인의 소유라고 보았다.

**오답 체크** 나. 롤스는 가상적 상황에서 사람들은 무지의 베일 상태에서 자신의 지위, 재능, 가치관 등을 모른다고 보았다. 르. 롤스는 사회적 약자를 위한 국가의 재분배를 찬성한 반면 노직은 최소 국가론의 입장에서 국가의 재분배 정책을 반대하였다.

**242 노직의 정의관** 답·①

**바른 풀이** 제시문의 사상가는 노직이다. 첫 번째 입장: 노직의 핵심적인 주장이다. 노직은 국가는 개인의 소유 권리 보장 등 최소한의 역할만 해야 한다고 보았다. 두 번째 입장: 노직에 따르면 오직 치안과 계약 감시만 하는 최소 국가만이 정당하다.

**오답 체크** 세 번째 입장: 노직은 재분배를 타인의 소유물을 강제로 뺏는 행위로 보았다. 네 번째 입장: 공동체의 이익을 강조하는 공동체주의의 입장이다.

**243 노직과 롤스의 정의관** 답·③

**바른 풀이** 갑은 노직, 을은 롤스이다. ③ 두 사상이 모두 개인의 자유와 권리를 중시하므로 둘 다 '예'라고 대답할 질문이다.

**오답 체크** ① 노직은 개인의 자유를 보호하는 최소 국가만을 인정하므로 '예', 롤스는 복지 정책을 펴는 국가를 옹호하므로 '아니오'가 적절하다. ② 노직은 국가의 재분배를 소유권 침해로 보아 반대하였으므로 '아니오'가 적절하다. 롤스는 최소 수혜자를 돕기 위한 재분배가 정의롭다고 보았으므로 '예'가 적절하다. ④ 둘 다 '예'라고 대답할 질문이다. 노직은 절차가 공정하다면 불평등이 존재할 수 있다고 보았고, 롤스는 사회적 약자에게 이익이 된다면 불평등을 허용할 수 있다고 보았다. ⑤ 노직은 강제적 세금이 아닌 자선 행위를 통한 구제를 주장하였으므로 '예'가 적절하다. 롤스는 자선에만 맡기지 않고 사회 구조 자체가 약자에게 유리해야 한다고 보았으므로 '아니오'가 적절하다.

**244 자유주의적 정의관과 공동체주의적 정의관** 답·⑤

**바른 풀이** A는 자유주의적 정의관과 공동체주의적 정의관이 모두 긍정, B는 자유주의적 정의관만 긍정, C는 공동체주의적 정의관이 긍정할 질문이 들어가기야 한다. ⑤ 공동체주의의 입장이다.

**오답 체크** ① 자유주의적 정의관에서 부정할 질문이다. ② 공동체주의적 정의관의 입장이다. ③ 자유주의적 정의관에서도 부정할 질문이다. ④ 자유주의적 정의관의 입장이다.

**245 왈처의 정의관** 답·④

**바른 풀이** 그림의 강연자는 왈처의 사상을 주장하고 있다. ① 왈처는 보편적 정의가 아니라 특정 공동체의 역사나 문화적 배경 속에서 형성된 사회적 의미를 강조한다. ② 왈처는 특정 가치가 다른 영역에까지 영향력을 미쳐 사회를 장악하는 현상을 지배라고 불렀으며, 정의로운 사회란 이러한 지배가 없는 상태이다. ③ 왈처는 가치마다 성격이 다르므로 각기 다른 분배 원칙이 서로 섞이지 않아야 한다고 보았다. ⑤ 돈이나 권력으로 명예와 학위를 얻는 것처럼 영역의 자율성을 파괴하는 행위는 부정의하다. ⑥ 왈처의 다원주의적 정의론은 하나의 원칙만을 주장하는 것이 아니라 영역별로 최적화된 여러 원칙의 공존을 주장한다.

**오답 체크** ④ 왈처의 복합 평등은 모든 가치를 균등하게 나누는 것이 아니라, 한 영역의 우위가 다른 영역을 지배하지 않는 상태를 의미한다. 즉 각 영역의 경계만 잘 지켜진다면 영역 내의 불평등한 분배 자체는 인정될 수 있다.

**246 매킨타이어의 정의관** 답·⑤

**바른 풀이** 제시문의 사상가는 매킨타이어이다. 첫 번째 입장: 개인은 공동체의 흐름 속에서 자신의 삶을 구성하는 존재이므로 개인의 정체성은 사회적·역사적 조건 속에서 형성된다. 세 번째 입장: 개인은 공동체로부터 물려받은 유산과 의무를 도덕적 출발점으로 삼아 삶의 목적을 추구하게 된다. 네 번째 입장: 공동체주의적 정의관의 핵심 자아관이다.

**오답 체크** 두 번째 입장: 자유주의적 정의관의 입장이다. 공동체주의적 정의관의 입장에서는 국가가 공동체의 공동선과 미덕을 장려해야 한다고 본다.

**247 왈처의 정의관** 답·③

**바른 풀이** 제시문의 사상가는 왈처이고, ㉠에 들어갈 단어는 전제이다. 르. 사회적 가치는 보편적인 것이 아니라 공동체마다 다르게 형성된다고 보았다. 르. 전제에 대한 설명이다. 왈처는 부유함이 명예나 정치 권력으로까지 이어지는 전제를 막아야 한다고 강조했다.

**오답 체크** 가. 안전과 복지 영역은 필요를 기준으로 분배되어야 한다고 보았다. 자유 교환은 주로 경제 영역의 분배 기준이다. 나. 왈처는 특정 영역에서의 독점보다 여러 영역을 침범하는 전제가 더욱 심각한 부정의를 초래한다고 주장하였다.

## 248 공동체주의적 정의관

답·⑤

**바른 풀이** 제시문은 공동체주의적 정의관의 사례이다. ⑤ 공동체주의적 정의관에서는 공동체의 가치를 우선시하여 개인이 공동체의 가치를 내면화하고 소속감을 느끼는 존재라고 본다.

**오답 체크** ① 개인과 공동체는 상호 유기적 관계이다. ② 자유주의적 정의관의 한계점에 대한 내용이다. ③ 개인의 자유와 권리 보장보다 사회적 책임과 공동체의 연대가 가장 우선시된다. ④ 개인의 사적 이익 추구를 제한적으로 허용할 것을 주장하였다.

## 249 자유주의적 정의관

답·②

**바른 풀이** 제시문의 밑줄 친 '그들'은 자유주의적 정의관을 지닌 사람들이다. ② 자유주의적 정의관은 국가나 공동체의 요구보다 개인의 권리를 우선시하며, 국가는 이러한 권리를 보호하기 위한 수단이라고 본다.

**오답 체크** ① 제시문의 입장은 집단주의와 거리가 멀다. ③ 공동체주의적 정의관의 입장이다. 제시문의 '그들'은 과거 세대의 잘못에 대해 연대적 책임을 지는 것을 거부하고 있다. ④ 공동체주의의 대표적인 사상가 매킨타이어의 입장이다. ⑤ 제시문의 입장은 자신의 선택과 행동을 중시하므로 오히려 선택에 따른 결과물의 가치를 인정하는 입장이다.

## 250 자유주의적 정의관과 공동체주의적 정의관

답·④

**바른 풀이** 개발 제한 구역의 규제 완화와 관련하여 갑은 자유주의적 정의관, 을은 공동체주의적 정의관의 입장에 있다. ㄱ. 자유주의적 정의관에서는 국가나 공동체의 존재 목적을 개인의 권리 보호에 두기 때문에 갑만의 입장인 A에 들어가는 것이 적절하다. ㄴ. 재산권 행사를 자유의 본질로 보는 자유주의적 정의관에만 해당하는 논리이므로 A에 들어가는 것이 적절하다. ㄷ. 개인의 의무와 공동체의 가치를 강조하는 공동체주의적 정의관의 입장이므로 을만의 입장인 C에 들어가는 것이 적절하다.

**오답 체크** ㄷ. 개인보다 공동체의 토대를 강조하는 공동체주의적 정의관의 입장이므로 B가 아니라 C에 들어가는 것이 적절하다.

## 251 노직과 롤스의 정의관

(1) 갑: 노직, 을: 롤스

(2) **모범 답안** 갑과 을은 모두 분배의 (결과)보다는 분배가 일어나는 (절차)가 공정해야 정의가 실현될 수 있다고 보는 절차적 정의를 강조한다.

## 252 사익과 공익의 조화

(1) 공유지의 비극

(2) **모범 답안** 개인들이 자신의 사적 이익만을 극대화하려고 할 때 자원이 고갈되는 문제가 발생하므로, 재산권 행사가 공공복리에 적합하도록 법적·제도적 제한을 두어 자원을 관리해야 한다.

채점 기준	수준
'사적 이익'과 '공공복리'를 모두 포함하여 자원 고갈의 원인과 해결 방안을 논리적으로 서술한 경우	상
'사적 이익'과 '공공복리' 중 하나만 포함하거나, 원인과 해결 방안 사이의 인과 관계가 다소 미흡한 경우	중
'사적 이익'과 '공공복리'를 포함하지 않고 일반적인 내용만 서술한 경우	하

## 253 자유주의적 정의관과 공동체주의적 정의관

**KEY WORD** 독립, 소속감, 정체성

**모범 답안** 갑: 개인이 공동체의 전통이나 가치로부터 독립적이고 자율적인 존재임을 강조한다. / 을: 개인이 공동체의 영향을 받으며 소속감과 정체성을 형성해 나가는 존재임을 강조한다.

채점 기준	수준
갑의 '독립적·자율적 존재'와 을의 '소속감·정체성 형성'이라는 의미를 모두 포함하여 두 관점의 차이를 정확하게 서술한 경우	상
갑과 을 중 한 명의 입장만 정확하게 서술하거나, 양쪽 모두 서술했으나 핵심 개념 일부를 누락한 경우	중
개인과 공동체의 관계에 대한 사상적 근거 없이 일반적인 내용만 서술한 경우	하

## 254 롤스의 정의관

**KEY WORD** 무지의 베일, 최소 수혜자

**모범 답안** B. 원초적 입장의 당사자들은 '무지의 베일'로 인해 자신이 어떤 사회적 위치에서 태어날지 알 수 없다. 따라서 자신이 최소 수혜자가 될 가능성을 고려해 최소 수혜자에게 배분되는 재화의 양이 가장 많은 B 방식을 선택하게 된다.

채점 기준	수준
'B'를 쓰고, '무지의 베일'과 '최소 수혜자의 이익 극대화'라는 핵심 논리를 모두 포함하여 명확하게 서술한 경우	상
'B'를 썼지만, 롤스의 핵심 개념 중 일부를 누락한 경우	중
'B'만 쓴 경우	하

## 기출로 1등급 도전하기

60~61쪽

255 ②    256 ③    257 ④    258 ④    259 ④  
260 ③    261 ③    262 ③

## 255 롤스와 노직의 정의관

답·②

**바른 풀이** 갑은 롤스, 을은 노직이다. ㄱ. 롤스는 어떤 사람이 천부적 재능을 가지는 것은 정의롭지도 부정의하지도 않다고 보았다. 그 재능을 최소 수혜자에게 이익이 되도록 사용해야 한다고 보았다. ㄷ. 롤스와 노직은 모두 자유주의자로서 사유 재산권을 기본적 권리로 인정한다.

**오답 체크** ㄴ. 노직의 입장이다. ㄷ. 노직의 취득의 원칙은 타인의 상황을 악화시키지 않아야 한다는 소극적 제한일 뿐 타인의 처지를 개선해야 한다는 적극적 의무는 아니다.

### 자료 분석

**갑:** 정의의 일차적 주제는 사회의 기본 구조, 즉 사회의 주요 제도가 권리와 의무를 배분하고 사회 협동체로부터 생긴 이익의 분배를 정하는 방식이다. 사회의 기본 구조를 규제하는 원칙은 원초적 합의의 대상이다. → 롤스

**을:** 정의의 주제는 세 가지이다. 즉, 누구의 소유물도 아니던 것이 어떻게 누군가의 소유물이 될 수 있는가(취득의 원칙), 한 사람의 소유물이 어떻게 다른 사람의 소유물이 될 수 있는가(양도의 원칙), 그리고 부정의를 어떻게 바로잡을 수 있는가이다.(교정의 원칙) → 노직

→ 롤스는 인간은 사회 협동체를 이루며, 그 결과로 생성된 이익을 어떤 기준으로 나누어 가질지 정하는 것을 정의라고 보았다. 따라서 갑은 롤스이다. 을은 노직이 주장한 세 가지 정의의 원칙을 제시하고 있다.

## 256 자유주의적 정의관

답·③

**바른 풀이** 1(×): 자유주의는 개인이 사회에 우선한다고 보는 입장이지 바르지 않은 내용이다. 학생 응답은 'O'이므로 채점 결과는 '오답'이다. 2(×): 인간을 존엄한 존재로 보는 것은 자유주의의 특징이다. 하지만 '공동체 속에서 자아 정체성이 형성된다'고 보는 것은 공동체주의의 입장이다.

로 적절하지 않다. 학생 응답은 'X'이므로 채점 결과는 '정답'이다. 3(○): 자유주의는 개인의 자유를 지나치게 강조한 나머지 공동체에 대한 책임을 소홀히 할 수 있으며, 이로 인해 사회적 유대감이 약해질 수 있다는 한계가 있다. 학생 응답은 'O'이므로 채점 결과는 '정답'이다. 4(x): 노직 등의 자유 지상주의는 복지 정책을 위한 개입을 소유권 침해로 보고 반대하므로 틀린 내용이다. 학생 응답은 'O'이므로 채점 결과는 '오답'이다. 2번과 3번을 맞혔으므로 총점은 2점이다.

### 257 공동체주의적 정의관과 자유주의적 정의관 답·④

**바른 풀이** 갑은 공동체주의적 정의관, 을은 자유주의적 정의관을 가지고 있다. **ㄴ.** 자유주의에서 국가는 특정 가치에 치우치지 않는 가치 중립을 지켜야 한다. **ㄷ.** 제시문에서 을은 '안보를 위해 인권을 희생시키는 것은 모순'이라고 주장한다. 이는 인권을 최우선 가치로 여기는 자유주의적 관점을 잘 보여 준다.

**오답 체크** **ㄱ.** 공동체주의는 개인을 공동체의 역사와 전통 속에서 자아를 형성하는 '연고 있는 자아'로 보기에 '독립적'이라는 설명은 적절하지 않다. **ㄷ.** 자유주의적 태도가 지나치면 개인의 권리만 강조해 공동체 의식을 약화시킬 수 있고, 공동체주의적 태도가 지나칠 경우 집단주의의 문제가 발생할 수 있다.

### 258 매킨타이어의 정의관 답·④

**바른 풀이** 제시문의 사상가는 매킨타이어이다. **ㄴ.** 덕은 공동체의 관습을 통해 습득되므로 공동체라는 맥락을 벗어나서는 실천할 수 없다. **ㄷ.** 인간은 공동체의 역사와 서사 속에서 위치를 찾고 정체성을 형성하는 존재이다.

**오답 체크** **ㄱ.** 매킨타이어는 보편적인 도덕 원칙보다 공동체의 구체적인 선과 전통을 중시한다. **ㄷ.** 매킨타이어의 덕 윤리는 '어떤 행위를 해야 하는가(행위 중심)'보다 '어떤 사람이 되어야 하는가(행위자 중심)'를 더 강조한다.

### 259 롤스와 왈처의 정의관 답·④

(가)의 사회 사상가 갑, 을의 입장을 (나) 그림으로 탐구하고자 할 때, A~C에 들어갈 옳은 질문만을 <보기>에서 있는 대로 고른 것은?

(가)

**갑:** 정의로운 사회는 가상 상황에서 합의한 정의의 원칙을 따른다. 모든 사람은 동등한 기본적 자유를 누리며 사회적·경제적 불평등은 최소 수혜자에게 이익이 되는 경우에만 허용된다.

**을:** 정의로운 사회에서는 복합 평등으로서의 정의에 따라 사회적 가치가 분배된다. 서로 다른 사회적 가치는 사회적 맥락을 고려하여 서로 다른 분배의 기준에 따라 분배된다.

(나)

- 보기**
- ㉠ A: 가상 상황에서 도출되는 정의의 원칙을 따라야 하는가? → 갑○, 을X
  - ㉡ B: 정의로운 사회에서도 부의 불평등은 존재할 수 있는가? → 갑○, 을○
  - ㉢ B: 기본적 자유는 모두에게 평등하게 보장되어야 하는가? → 갑○, 을○
  - ㉣ C: 모든 사회적 가치는 능력에 따라 분배되어야 하는가? → 갑○, 을X

- ① ㄱ, ㄷ                      ② ㄱ, ㄷ                      ③ ㄴ, ㄷ
- ④ ㄱ, ㄴ, ㄷ                ⑤ ㄴ, ㄷ, ㄷ

## 1등급 문제 풀이 방법

### STEP 1 제시문의 단서에서 사상가가 누구인지 파악한다.

- 갑: '가상적 상황에서 합의한 정의의 원칙'에 대해 이야기하므로 원칙적 입장에서 정의의 원칙을 도출할 수 있다고 주장한 롤스임을 알 수 있다.
- 을: '복합 평등으로서의 정의'에 대해 이야기하므로 사회 내 영역별로 분배 기준이 달라야 한다고 주장한 왈처임을 알 수 있다.

### STEP 2 ㄱ~ㄷ에 대한 각 사상가의 입장을 파악한다.

질문의 핵심	갑(롤스)	을(왈처)	
ㄱ. 가상 상황에서 도출	○	X	→ ○ A는 갑만 긍정해야 한다.
ㄴ. 불평등 존재	○	○	→ ○ B는 같이 긍정해야 한다.
ㄷ. 기본적 자유의 보장	○		→ ○ B는 같이 긍정해야 한다.
ㄷ. 능력에 따른 분배		X	→ X C는 을이 긍정해야 한다.

### 260 왈처의 정의관 답·③

**바른 풀이** 제시문의 사상가는 왈처이다. 왈처는 영역마다 서로 다른 분배 원칙이 적용되어야 한다고 보았다. 두 번째 입장: 왈처는 정의가 보편적이지 않으며 공동체의 역사적 맥락과 특수성에 따라 결정된다고 보았다. 세 번째 입장: 왈처는 사회 내 각 영역의 독립성을 주장하였다. 네 번째 입장: 왈처가 반대하는 '전제'에 대한 내용이다.

**오답 체크** 첫 번째 입장: 왈처는 영역마다 서로 다른 원칙이 적용되어야 한다고 주장하였다.

### 261 롤스, 노직, 매킨타이어의 정의관 답·③

**바른 풀이** 갑은 롤스, 을은 노직, 병은 매킨타이어이다. **ㄴ.** 자유주의자인 노직은 국가의 역할을 최소화해야 한다고 보지만 공동체주의자인 매킨타이어는 공동선 실현을 위한 국가의 역할을 긍정한다. 따라서 을은 '예', 병은 '아니오'라고 답할 것이므로 B에 들어갈 질문으로 적절하다. **ㄷ.** 매킨타이어는 인간을 공동체의 역사와 연결된 연고적 자아로 본다.

**오답 체크** **ㄱ.** 롤스는 재능과 같은 자연적 우연성 자체를 없애자고 하지 않았다. 대신 그 우연성으로 얻은 이익을 어떻게 공정하게 나눌지가 중요하다고 보았다. **ㄷ.** 노직은 부정의를 바로잡는 교정의 단계에서 국가의 개입을 인정한다.

### 262 자유주의에 대한 공동체주의의 비판 답·③

**바른 풀이** 갑은 롤스, 을은 노직, 병은 매킨타이어이다. ③ 공동체주의자인 매킨타이어는 개인이 공동체 안에서 자아를 형성한다고 본다. 반면 개인의 권리와 절차만 강조하는 갑과 을은 이러한 공동체의 역할을 간과한다고 비판받을 수 있다.

**오답 체크** ① 모든 사람의 기본적 자유를 최대한 보장해야 한다는 점은 롤스와 노직 모두 동의하는 내용이다. ② 노직의 주장에 해당한다. 롤스는 사회적 약자의 삶은 제도적 차원에서의 노력이 필요하다고 보았다. ④ 매킨타이어는 자아가 사회적·역사적 맥락과 분리될 수 없다고 주장한다. 따라서 매킨타이어가 제기할 비판으로 적절하지 않다. ⑤ 공동체를 개인의 목적을 위한 수단으로 보는 것은 자유주의(갑, 을)의 입장이다. 매킨타이어는 공동체를 정체성의 기반이자 그 자체로 중요한 목적으로 본다.

## C6 불평등 해결과 정의의 실현

### 핵심개념 확인 문제

63쪽

263 양극화	264 사회적 약자	265 공간 불평등
266 비금전적	267 공공 부조	268 적극적 평등 실현 조치
269 L	270 ㄱ	271 C
274 ㉠		272 ㉡
		273 ㉢

### 기출로 기본 다지기

64~65쪽

275 ④	276 ③	277 ⑤	278 ③	279 ④
280 ②	281 ④	282 ①	283 ①, ⑥	284 ①
285 ③				

### 275 사회 및 공간 불평등 현상

답·④

**바른 풀이** 제시문의 '이것'은 사회 및 공간 불평등이다. ㄱ. 사회 및 공간 불평등은 인류 역사상 어느 사회에나 존재하는 보편성을 지니지만, 구체적인 모습은 국가와 시대의 상황에 따라 다르게 나타난다. ㄴ. 차등적인 보상 체계는 개인의 성취동기를 자극하여 사회 전체의 발전에 기여한다. ㄷ. 사회 계층의 양극화, 공간 불평등 등은 사회 및 공간 불평등의 대표적인 사례이다.

**오답 체크** ㄴ. 사회적 자원은 무한하지 않고 유한하다.

### 276 사회 계층의 양극화

답·③

**바른 풀이** 제시된 그래프에서는 중위 소득 50~150%의 가구 비율이 전반적으로 감소하는 추세를 보이는데, 이를 통해 사회 계층의 양극화가 심화되고 있음을 알 수 있다.

**오답 체크** ① 중간 계층은 감소하고 있다. ②, ④, ⑤ 그래프에서 알 수 없는 내용이다. ⑥ 중간 계층 비율이 지속적으로 감소하는 추세는 재분배 정책이 불평등을 해소하는 데 실질적인 효과를 거두지 못하고 있음을 보여 준다.

### 277 사회적 약자에 대한 차별

답·⑤

**바른 풀이** 제시문은 장애인이라는 특정 집단이 고용 기회에서 소외되고 임금에서 불이익을 받는 구체적인 차별 사례를 보여 주고 있다.

### 278 균형 개발 방식과 성장 거점 개발 방식의 비교

답·③

**바른 풀이** (가)는 균형 개발 방식, (나)는 성장 거점 개발 방식이다. (가)는 상향식 개발로, 경제 활동 기반이 약한 낙후 지역에 우선적으로 투자하는 방법이다. 균형 개발 방식은 지역 간 균형 발전이 가능하다는 장점이 있으나, 비용이 많이 들어 투자 효율성이 낮다는 단점이 있다. (나)는 하향식 개발로, 투자 효과가 큰 성장 거점 지역을 선정하여 우선적으로 투자하는 방법을 말한다. 성장 거점 개발 방식은 자원의 효율적 투자가 가능하다는 장점이 있으나 지역 격차를 심화시킨다는 단점이 있다. ③ (가)와 비교하였을 때 (나)는 경제적 형평성은 낮은 반면, 경제적 효율성과 공간 불평등 정도는 높으므로 ㉠이 정답이다.

### 279 사회 복지 제도

답·④

**바른 풀이** (가)는 공공 부조, (나)는 사회 서비스에 해당한다. 공공 부조는 국가가 전액 지원하여 경제적 취약 계층이 최소한의 삶을 꾸릴 수 있도록 돕는 제도이고, 사회 서비스는 사회적 취약 계층에게 다양한 서비스를 제공하여 생활의 편의를 돕는 제도이다.

### 280 사회 복지 제도

답·②

**바른 풀이** ㉠ 사회 보험은 의무 가입을 원칙으로 하는 사전 예방적 보험이고, ㉡ 공공 부조는 생활이 어려운 국민의 최저 생활을 보장하고 자활을 지원하는 제도이며, ㉢ 사회 서비스는 도움이 필요한 국민에게 제공하는 비금전적 지원이다.

**오답 체크** ② 사회 보험은 국가에서 주도하는 사전 예방적 성격의 제도이다.

### 281 공간 불평등

답·④

**바른 풀이** 제시된 자료에서 수도권은 전체 면적의 12.1%에 불과하지만, 인구의 50.3%, 1,000대 기업의 74.2%가 집중되어 있다.

**오답 체크** ④ 비수도권은 면적은 넓지만 주요 생산 요소와 기반 시설이 부족하다. 따라서 비수도권 주민들은 고용, 교육, 의료 서비스 등에서 상대적으로 소외될 가능성이 크며, 삶에 대한 기회는 수도권에 비해 제한적이라고 볼 수 있다.

### 282 공간 불평등의 해결

답·①

**바른 풀이** 자료에 따르면 수도권은 국토 면적의 12.1%뿐이지만, 주요 지표가 수도권에 쏠려 있다. 이러한 현상은 지역 간 격차를 심화시키므로 이를 해결하기 위한 지역 균형 발전 정책이 필요하다. ㄱ. 공공 기관이나 기업을 지방으로 이전시켜 특정 지역을 거점으로 육성해 수도권에 집중된 기능을 분산시키는 정책이다. ㄴ. 지역 고유의 문화나 특색을 상품화하여 자생력을 높이는 전략이다.

**오답 체크** ㄷ. 기업의 자율성에 맡기면 기업은 인프라와 인력이 좋은 수도권에 계속 남으려 할 것이므로, 지역 간 불평등 해소를 위해서는 기업의 지방 이전을 유도하는 정부의 적극적인 개입과 유인책이 필요하다. ㄴ. 성장 위주의 개발 정책은 효율성을 중시하여 수도권에 자원을 집중시킴으로써 지역 격차를 더 심화시킬 수 있다.

### 개념 더하기 지역 격차 완화 정책

- 수도권 집중을 막기 위해 공공 기관을 이전하여 혁신 도시를 조성하고, 지방으로 옮기는 기업에 다양한 혜택을 제공하여 국토의 균형 발전을 꾀함.
- 각 지역은 장소 마케팅이나 지역 브랜드를 통해 고유의 경쟁력을 키우고, 주민이 주도하는 상향식 개발을 통해 성장할 수 있는 기반을 마련함.
- 경제적 효율성보다 지역 간 형평성을 우선시하며, 소외된 지역의 인프라를 확충하여 누구나 어디서든 쾌적한 삶을 누릴 수 있도록 함.

### 283 공간 불평등의 해결

답·①, ⑥

**바른 풀이** 제시문에 나타난 공간 불평등을 해결하기 위한 바람직한 태도나 정책이 ㉠에 들어가야 한다. ②, ③, ⑤ 지역이 스스로 살아남을 수 있도록 특색을 살리는 자립형 지역 발전 전략이다. ④ 수도권에 쏠린 기업들을 지방으로 분산시키기 위한 유인책으로 적절한 방안이다.

**오답 체크** ① 지역 간 격차를 심화시키는 결과를 초래한다. ⑥ 공간 불평등 해소를 위해서는 효율성보다 지역 간 형평성을 먼저 고려해야 한다.

### 284 사회적 약자 문제의 해결

답·①

**바른 풀이** 제시문은 사회적 약자가 겪는 물리적·제도적 장벽을 제거하여 그들이 실질적인 권리를 누릴 수 있도록 도울 것을 말하고 있다. ① 사회 안전망이란 모든 국민이 실업, 질병, 빈곤 등 사회적 위험으로부터 보호받을 수 있도록 하는 제도적 장치를 말한다. 장애인과 노약자의 이동권과 접근성을 보장하고자 하는 노력은 사회 안전망 강화의 일환이다.

**오답 체크** ② 제시문의 내용과 거리가 멀다. ③ 제시문은 기회의 평등이나 실질적 평등을 추구하는 것이지만 모든 사람의 결과를 똑같이 만드는 것을 주장하지 않는다. ④ 능력주의에 기반한 분배 원칙이다. ⑤ 공리주의적 관점으로 공리주의는 전체의 이익을 강조하다 보니 소수의 희생을 정당화할 위험이 있다. 제시문은 오히려 소수의 권리를 보호하려는 노력을 보여 준다.

**285 적극적 평등 실현 조치**

답·③

**바른 풀이** 적극적 평등 실현 조치란 과거에 차별을 받아온 특정 집단에게 실질적인 기회의 평등을 보장하기 위해 혜택을 주는 제도를 말한다. 나. 신체적 한계로 취업 시장에서 불리한 위치에 있는 장애인에게 고용 기회를 보장하는 대표적인 적극적 평등 실현 조치이다. 다. 정치·경제적 의사 결정 과정에서 소외되었던 여성에게 일정 비율 이상의 자리를 배정하여 실질적 평등을 실현하려는 조치이다.

**오답 체크** 가. 경제 활성화를 위한 경제 정책일 뿐, 사회적 약자의 차별을 해소하기 위한 조치가 아니다. 라. 행정 효율을 위한 제도일 뿐, 특정 사회적 약자 우대 조치는 아니다.

기출로	실력	높이기	66~68쪽		
286 ⑤	287 ④	288 ⑤	289 ①	290 ⑤	
291 ②	292 ④	293 ⑤	294 ④	295 ⑤	
<b>서답형</b>					
296 (1) ㉠ 국민연금, 고용 보험 ㉡ 기초 연금, 의료 급여					
(2) 모범 답안 참조					
297 (1) ㉠ 적극적 평등 실현 ㉡ 기회균등 전형					
(2) 모범 답안 참조					

**286 사회 계층의 양극화**

답·⑤

**바른 풀이** 제시문은 부의 편중과 사회 계층 양극화를 다루고 있다. 나. 소득 불평등이 심해지면 상실감과 함께 계층 간 위화감이 생겨 사회 통합을 저해한다. 다. 부모의 소득 격차가 보건, 문화, 교육의 차이로 이어져 불평등이 대물림되는 악순환이 발생한다. 라. 불평등 문제를 해결하기 위해 소득이 높을수록 높은 세율을 적용하는 누진세나 최소한의 인간다운 삶을 보장하는 사회 보장 제도와 같은 재분배 정책이 필요하다.

**오답 체크** 가. 제시문의 극단적인 자산 편중은 계층 이동을 막아 사회 구조를 폐쇄적으로 만들 수 있다.

**287 사회 계층의 양극화**

답·④

**바른 풀이** 그래프는 상층과 하층 간의 소득 격차가 점점 심화되는 것을 보여 준다. 이는 사회 양극화를 심화시켜 계층 간 위화감과 사회적 갈등을 초래할 우려가 있다. ④ 양극화 해결을 위해 취약 계층의 고용 기회를 늘리고, 최소한의 생활을 보장하는 사회 안전망을 강화해야 한다.

**오답 체크** ① 소득 격차가 커질수록 상대적 박탈감이 심해져 계층 간 갈등 가능성은 높아진다. ② 그래프처럼 증가 추세가 계속되면 계층 간의 위화감은 늘어난다. ③ 소득 불평등은 대개 효율성을 지나치게 강조하고 형평성을 간과했을 때 심화된 다. ⑤ 상·하위 격차가 커지고 있으므로 양극화는 악화된 것이다.

**288 성장 거점 개발 방식과 균형 개발 방식**

답·⑤

**바른 풀이** 그래프의 세 축은 '투자의 효율성, 자원 배분의 형평성, (가)'이다. 0에서 멀어질수록 해당 성격이 강하다는 뜻이다. A 방식은 '투자의 효율성'이 매우 높고, '자원 배분의 형평성'은 낮다. 이는 성장 잠재력이 큰 곳을 골라 집중 투자하는 성장 거점 개발 방식이다. B 방식은 '자원 배분의 형평성'이 매우 높고, '투자의 효율성'은 상대적으로 낮다. 이는 여러 지역을 골고루 발전시키려는 균형 개발 방식이다. 다. 성장 거점 개발은 특정 지역을 먼저 성장시킨 뒤, 그 이익이 주변으로 퍼져 나가는 파급 효과를 노리는 전략이다. 라. 균형 개발은 지역 간 격차를 줄여 성장 거점 개발보다 사회 통합에 도움이 될 수 있다.

**오답 체크** 가. A 방식은 중앙 정부가 주도하기 때문에 의사 결정이 빠르다. 그래프에서 A 방식은 (가)축 쪽으로 길게 뻗어 있지 않으므로 '의사 결정의 신속성'은 (가)에 들어갈 수 없다. 나. 지역 간 격차를 줄이는 데 유리한 것은 골고루 투자하는 B 방식이다. A 방식은 오히려 지역 간 격차를 심화시킬 수 있다.

**289 사회 불평등 현상**

답·①

**바른 풀이** (1) (×): 사회적 약자를 결정하는 기준은 '구성원의 수'가 아니라 '권력의 열세'이다. 학생의 답이 틀렸으므로 0점이다. (2) (○): 사회적 약자에 대한 불평등은 편견이나 고정관념 등의 비합리적인 이유로 발생하는 경우가 많으므로 적절한 내용이다. 학생의 답이 틀렸으므로 0점이다. (3) (○): 양극화는 중간 계층이 사라지고 상하층의 격차가 벌어지는 현상으로는 계층 간의 위화감과 갈등을 유발한다. 학생의 답이 틀렸으므로 0점이다. (4) (×): '개천에서 용 난다'는 어려운 환경에서도 개인의 노력으로 성공할 수 있다는 개인적 요인을 강조한 표현이다. 학생의 답이 틀렸으므로 0점이다. (5) (○): 사회 및 공간 불평등 현상은 보편적인 특징이지만 그 모습은 시대나 장소에 따라 다르다. 학생의 답이 맞았으므로 1점이다. 문항 (5)만 맞는 답안이므로 학생의 점수는 1점이다.

**290 사회 복지 제도**

답·⑤

**바른 풀이** ㉠은 '사회 서비스', ㉡은 '공공 부조', ㉢은 '사회 보험', ㉣은 '사회 취약 계층을 지원하는 금전적 지원'이 들어가야 한다. ⑤ 공공 부조의 법적 정의이므로 적절하다.

**오답 체크** ① 사회 서비스는 비금전적 지원이 원칙이다. ② 국민연금은 보험료를 내고 가입하는 방식이므로 사회 보험의 대표적 사례이다. ③ 수익자가 보험료를 부담하는 것은 ㉢ 사회 보험이며, ㉡ 공공 부조는 국가가 전액 부담한다. ④ 사회 보험은 소득 수준에 따라 보험료를 차등 부담하는 형평성을 강조한다.

**291 사회 복지 제도**

답·②

**바른 풀이** ㉠은 '사회 보험', ㉡은 '공공 부조'이다. 가. 두 제도 모두 소득 재분배 효과가 있어 빈부 격차를 줄이고, 어려운 처지에 놓인 국민을 보호하여 사회 안전망 역할을 한다. 라. 질병, 노령, 빈곤 등 다양한 사회적 위험으로부터 국민을 보호하는 것은 사회 복지 제도의 궁극적인 목적이다.

**오답 체크** 나. 사회 복지 제도는 필요와 사회적 형평성에 기초하여 운영된다. 다. 사회 복지 제도와 관련 없는 지역 균형 발전 정책에 대한 설명이다.

**292 자립형 지역 발전 전략의 사례**

답·④

**바른 풀이** ④ 사례에서 각 지역은 지역의 고유한 문화, 자연, 특산물 등을 발굴하여 지역의 가치를 높이고 경제적 이득을 창출하고 있다.

**오답 체크** ①, ② 제시된 사례는 소득 불균형이나 도시 내부 공간 문제를 직접적인 목표로 삼은 사례가 아니다. ③ 공공 기관의 지방 이전에 대한 설명이다. ⑤, ⑥은 성장 거점 개발 방식으로 제시된 사례와는 거리가 멀다.

**293 적극적 평등 실현 조치**

답·⑤

**바른 풀이** (가)는 장애인 의무 고용 제도, (나)는 사회적 배려 대상자 전형을 다루고 있다. ⑤ 두 사례는 구성원의 인식 부족으로 제도가 정착되지 못한 상황을 보여 준다. 따라서 실질적인 평등을 위해서는 제도 마련과 인식 개선이 병행되어야 한다.

**오답 체크** ① (가)와 (나)의 공통된 시사점이 아니다. 또한 (나)는 입시에 대한 차별이 심한 것을 지적하는 것이 아니라 입시 관련 제도에 대한 인식이 부정적임을 다루고 있다. ② 사회적 약자를 수동적인 존재로만 규정하는 것은 적절하지 않다. ③ 제시문은 개인의 능력 차이가 아니라 사회적 차별과 제도적 보완에 대해 다루고 있다. ④ 제시문은 역차별 해소보다는 제도와 사람들의 생각 차이를 보여 주고 있다. ⑥ (가)에서 이미 부담금(강제성)이 있음에도 인식이 낮아 효과가 저조하다는 점을 지적하고 있으므로, 인식 변화의 중요성을 도출하는 것이 적절하다.

**294 적극적 평등 실현 조치**

답·④

**바른 풀이** 가. 수혜 대상에서 제외된 집단으로부터 역차별을 초래한다는 비판을 받을 수 있다. 나. 장애인 의무 고용 제도는 사회적 약자인 장애인의 경제적 자립과 인권 신장을 통해 실질적 평등을 실현하려는 방안이다. 다.

고용 의무와 부담금은 법적 강제와 경제적 유인이라는 제도적 시스템을 통해 문제를 해결하려는 방식이다.

**오답 체크** ㄹ. 제시문은 법령 등 외부적 강제 장치를 다루고 있으므로, 개인의 편견을 없애려는 의식적 노력과는 성격이 다르다.

### 295 적극적 평등 실현 조치

답·⑤

**바른 풀이** 제시문의 특별 전형은 사회적 약자에게 실질적인 기회를 제공하여 계층 이동의 사다리를 마련하고자 하는 제도이다. ① 사회적 약자에 대한 배려는 계층 간 갈등을 완화해 사회 통합에 기여한다. ② 능력이나 성취에 따른 보상보다 개인이 처한 형편과 필요를 우선하는 분배 정의의 관점이 반영되어 있다. ③ 환경적 불리함을 보완하여 공정한 출발선을 보장하는 실질적 평등을 추구한다. ④ 모든 지원자에게 동일한 기준을 적용하는 형식적 기회의 평등으로 해결하기 힘든 교육 격차를 줄이기 위한 장치이다.

**오답 체크** ⑤ 특정 집단 우대는 혜택을 받지 못하는 집단으로부터 역차별 논란이 제기될 가능성이 항상 존재한다.

### 296 사회 복지 제도

**KEY WORD** 일정 소득, 저소득 계층

(1) ㉠ 국민연금, 고용 보험 (또는 국민 건강 보험, 산업 재해 보상 보험 등) / ㉡ 기초 연금, 의료 급여 (또는 국민 기초 생활 보장 제도 등)

(2) **모범 답안** ㉠ 사회 보험은 일정 수준의 소득이 있는 개인, ㉡ 공공 부조는 저소득 계층이 대상이다.

채점 기준	수준
㉠과 ㉡의 수혜 대상자 차이점을 정확하게 서술한 경우	상
㉠과 ㉡ 중 한 제도의 대상자 특징만 정확히 서술한 경우	하

### 297 적극적 평등 실현 조치

(1) ㉠ 적극적 평등 실현

㉡ 기회균등 전형(또는 사회적 배려 대상자 전형, 농어촌 학생 전형)

**KEY WORD** 우대 정책, 불이익

(2) **모범 답안** 사회적 약자를 우대하는 정책으로 인해 오히려 상대적으로 유리한 위치에 있던 집단이나 개인이 기회 박탈 등의 불이익을 당하게 되는 현상을 말한다.

채점 기준	수준
핵심 개념을 포함하여 의미를 정확하게 서술한 경우	상
서술이 다소 부정확하거나 핵심 개념을 일부 누락한 경우	중
역차별의 의미를 단순히 '또 다른 차별' 등으로만 서술한 경우	하

기출로 **1등급** 도전하기

69쪽

298 ②    299 ③    300 ③    301 ④

### 298 사회 계층 구조의 특징

답·②

**바른 풀이** ② B가 하층이고 C가 상층이라면 A는 중층이 된다. 이 경우 갑국은 중층이 50%이지만 을국은 10%에 불과할 뿐이며, 을국은 중층이 가장 적고 상층과 하층이 많은 모래시계형 계층 구조를 보이게 된다. 반면 갑국은 중층이 가장 많은 다이아몬드형 계층 구조를 보이게 된다. 그러므로 안정적인 갑국에 비해 을국에서 계층 양극화로 인한 문제가 발생할 가능성이 높다.

**오답 체크** ① 중층(B) 비율을 보면 을국은 50%, 병국은 25%이다. 중층 비중이 높을수록 사회가 안정되고 통합에 유리하므로, 을국이 병국보다 사회 통합에 유리하다. ③ 갑국의 계층 구조가 모래시계형이라는 것은 B가 중층임을 의미한다. 이 경우 을국에서 중층의 비율은 50%로 가장 높게 나타난다. ④ 을국의 계층 구조가 피라미드형이라는 것은 A가 상층, C가 중층, B가 하층임을 의미한다. 이 경우 병국에서는 상층과 하층의 비율이 동일하게 나타난다. ⑤ 병국의 계층 구조가 다이아몬드형이고 B가 하층일 때, A가 상층, C가 중층임을 의미한다. 이 경우 을국의 중층 비율은 40%로 갑국의 상층 비율(50%)보다 낮다.

### 299 사회적 약자에 대한 차별

답·③

**바른 풀이** ③ 여성 임금 지수 증가 폭은, 장애인 대비 소수 민족은 8이고, 소수 민족 대비 성적 소수자는 5로 장애인 대비 소수 민족이 더 크다.

**오답 체크** ① 모든 유형에서 남성 임금 지수가 여성 임금 지수보다 높다. 따라서 남성의 평균 임금이 더 높다. ② 남녀 임금 지수 간의 격차는 장애인인 30, 소수 민족은 14로, 장애인 집단의 격차가 더 크다. ④ 표의 수치는 각 집단 내의 상대적 비율일 뿐이다. 집단 간 실제 임금의 절대 액수를 비교할 수는 없다. ⑤ 장애인과 성적 소수자의 여성 임금 지수의 격차는 130이다. 장애인 여성 임금 지수의 10%는 3.5이므로 틀린 내용이다.

### 300 사회 보장 제도

답·③

우리나라의 사회 보장 제도 A~C에 대한 설명으로 옳은 것은?(단, A~C는 각각 공공 부조, 사회 보험, 사회 서비스 중 하나임.)

A, C 중 하나가 사회 보험

- '노령, 장애, 사망 시 본인 및 가족에게 연금 급여를 실시하는 제도가 포함되는가?'라는 질문으로 A와 C를 구분할 수 있다.
- '금전적 지원을 원칙으로 하는가?'라는 질문으로 B와 C를 구분할 수 없다. → B와 C는 사회 보험이거나 공공 부조
- (가) 라는 질문으로 A와 B를 구분할 수 있다. → A는 사회 서비스, B는 공공 부조, C는 사회 보험

- ① A에는 국민 건강 보험 제도가 포함된다.
- ② B는 상호 부조의 원리를 기반으로 한다.
- ③ C는 원칙적으로 모든 국민을 대상으로 한다.
- ④ B, C 모두 사후 처방적 성격이 강하다.
- ⑤ (가)에는 '강제 가입을 원칙으로 하는가?'가 들어갈 수 있다.

### 1등급 문제 풀이 방법

STEP1 A~C가 각각 무엇인지 찾는다.

- '노령, 장애, 사망 시 본인 및 가족에게 연금 급여를 실시하는 제도가 포함되는가?'라는 질문으로 A와 C를 구분할 수 있다. → A와 C 중 하나는 사회 보험임을 알 수 있다.
- '금전적 지원을 원칙으로 하는가?'라는 질문으로 B와 C를 구분할 수 없다. → 사회 보험과 공공 부조는 금전적 지원이 원칙이지만, 사회 서비스는 비금전적 지원이 원칙이다. 해당 질문으로 B와 C를 구분할 수 없다면, B와 C는 금전적 지원을 원칙으로 하는 사회 보험과 공공 부조 중 하나여야 한다.
- C가 사회 보험 혹은 공공 부조 중 하나이므로, A는 사회 서비스임을 알 수 있다. 또한 첫 번째 내용을 바탕으로 C가 사회 보험임을 알 수 있다.
- 따라서 A는 사회 서비스, B는 공공 부조, C는 사회 보험이다.

**STEP 2** ①~⑤ 선지의 옳고 그름을 파악한다.

- ① A는 사회 서비스이다. 국민 건강 보험 제도가 포함되는 것은 사회 서비스가 아니라 사회 보험이므로 틀렸다.
- ② B는 공공 부조이다. 상호 부조의 원리는 사회 보험의 특징이므로 틀렸다.
- ③ C는 사회 보험이다. 사회 보험은 보편적 복지 이념을 바탕으로 모든 국민을 대상으로 하는 것이기에 정답이다.
- ④ B는 공공 부조, C는 사회 보험이다. 공공 부조는 사후 처방적이지만, 사회 보험은 사전 예방적이므로 B와 C 모두 사후 처방적이라는 설명은 틀렸다.
- ⑤ (가)의 질문으로는 사회 서비스와 공공 부조를 구분할 수 있어야 한다. 강제 가입은 사회 보험의 핵심적인 특징으로 '강제 가입을 원칙으로 하는가?'라는 질문으로는 사회 서비스와 공공 부조를 구분할 수 없다.

**301 공간 불평등** 답·④

**바른 풀이** 제시문은 수도권 집중 현상과 지역 불균형에 대해 다루고 있다.  
 나. 교육 및 일자리가 수도권에 편중되어 있어 지방의 청년층과 인재들이 수도권으로 이동하는 현상은 비수도권이 겪는 가장 대표적인 문제이다.  
 다. 정부는 수도권 집중을 막고 지역 경제를 활성화하기 위해 공공 기관을 지방으로 이전하는 정책을 지속적으로 시행해 왔다.  
**오답 체크** 가. 수도권 집중 현상은 고위 관리 기능, 금융, 정보 서비스 등 3차 산업에서 두드러지게 나타난다. 1차 산업은 토지가 넓게 필요한 특성상 비수도권에서 비중이 높다.

단원 평가로	<b>실전</b>	대비하기	70~73쪽
302 ①	303 ④	304 ②	305 모범 답안 참조
306 ②	307 ③	308 ③	309 ⑤
310 (1) ① 원초적 입장 ④ 공정한 기회 균등의 원칙			
(2) 모범 답안 참조			
311 ④	312 ②	313 ④	314 ②    315 ②
316 (1) 성장 거점	(2) 모범 답안 참조	317 ①	

**302 플라톤의 정의** 답·①

**바른 풀이** 제시문의 사상가는 플라톤이다. 가. 플라톤에 따르면 영혼의 세 부분(이성, 기개, 욕구)이 각각 지혜, 용기, 절제의 덕을 갖추고 조화를 이룰 때 개인의 정의가 실현된다. 나. 플라톤은 각 계급이 다른 계급의 일을 하거나 참견하는 것은 국가의 질서를 혼드는 일이라고 보았다.  
**오답 체크** 다. 플라톤은 통치자와 수호자(군인) 계급이 사육에 빠지는 것을 막기 위해 사유 재산 금지를 주장하였다. 플라톤에 따르면 오직 생산자 계급만 사유 재산을 가질 수 있다. 라. 플라톤은 각자의 타고난 기질과 교육 성취도에 따라 엄격하게 계급을 나누어야 한다고 보았다.

**303 아리스토텔레스의 정의** 답·④

**바른 풀이** 제시문의 사상가는 아리스토텔레스이다. ④ 교정적 정의는 가치를 고려하지 않는 산술적 비례를 추구한다. 각자의 가치를 고려하여 비례적 평등을 추구하는 것은 분배적 정의의 특징이다.  
**오답 체크** ① 아리스토텔레스 정의론의 대전제이다. ② 분배적 정의는 기하학적 비례를 따른다. 즉 더 큰 가치를 가진 사람이 더 많은 몫을 가져가는 것이 정의를 다고 본다. ③ 기하학적 비례에 대한 설명이다. 분배적 정의가 실현되면 'A의 가치 : B의 가치 = A의 몫 : B의 몫'이라는 비율이 성립된다. ⑤ 교정적 정의는 주고받은 결과가 공정하지 못할 때 이를 바로잡는 것이다. 가해자와 피해자의 신분이나 가치와 상관없이 오로지 손익의 결과만 보고 산술적으로 계산한다.

**304 칸트와 베카리아의 교정적 정의** 답·②

**바른 풀이** 같은 칸트, 음은 베카리아이다. 가. 칸트에게 형벌은 범죄자를 어떤 목적을 위한 도구로 쓰는 것이 아니라, 자기 행동에 책임질 줄 아는 인격체로 대우하는 것이다. 라. 베카리아는 사형의 강렬함보다 종신 노역형의 지속성이 잠재적 범죄자들에게 더 큰 공포와 억제력을 준다고 보았다.  
**오답 체크** 나. 베카리아만의 입장이다. 칸트는 유용성과 상관없이 정의 실현을 위해 형벌을 집행해야 한다고 보았다. 다. 칸트만의 입장이다. 베카리아는 손해와 동일한 고통이 아니라, 범죄 억제에 필요한 최소한의 고통을 강조한다.

**305 분배적 정의의 실질적 기준**

**KEY WORD** 업적, 효율성, 경쟁, 측정 가능성

**모범 답안** (가): 성과 연봉제는 업적을 분배 기준으로 삼기 때문에, 구성원의 성취동기를 자극하여 생산성과 경제적 효율성을 높일 수 있다.  
 (나): 성과 연봉제는 구성원 간의 과도한 경쟁을 유발하고, 성과를 측정하기 어려운 직무의 경우 공정한 평가가 어려워 갈등을 초래할 수 있다.

채점 기준	수준
(가)에서 '업적' 또는 '기여도'를 토대로 효율성 및 동기 부여 측면을 서술하고, (나)에서 '과도한 경쟁' 또는 '평가의 어려움'을 근거로 논리적으로 서술한 경우	상
(가)와 (나)의 핵심 내용은 포함하였으나, '업적' 등 핵심 개념을 누락하거나 논리성이 다소 미흡한 경우	중
(가)와 (나) 중 한 가지만 서술하거나, 개념적 근거 제시가 부족한 경우	하

**306 업적, 능력, 필요에 따른 분배** 답·②

**바른 풀이** 사원 A는 업적에 따른 분배, 사원 B는 능력에 따른 분배, 사원 C는 필요에 따른 분배를 주장하고 있다. 가. 업적에 따른 분배는 보상이 확실하므로 생산성을 높이지만, 과열 경쟁이 단점이다. 라. 업적과 능력에 따른 분배는 개인의 노력을 유도하기 때문에 필요에 따른 분배보다 경제적 효율성 측면에서 더 적합하다.  
**오답 체크** 나. 필요에 따른 분배를 주장한 사람은 사원 B가 아니라 사원 C이다. 다. 사원 C의 기준은 결과적으로 격차를 줄이려는 실질적 평등을 지향하며, 기회의 평등과는 거리가 있다.

**307 롤스의 정의** 답·③

**바른 풀이** 제시문의 사상가는 롤스이다. 롤스는 가상 상황인 원초적 입장에서 무지의 베일을 쓴 합리적 당사자들은 정의의 원칙에 합의한다고 보았다. 다. 롤스에게 사유 재산권은 '평등한 자유의 원칙'에 의해 모든 이에게 평등하게 부여되는 기본적 자유 중 하나이다. 라. 원초적 입장은 가상의 상황으로 합의 당사자들은 무지의 베일을 쓰고 있어 자신의 사회적 지위와 능력, 재능 등을 알지 못한다.  
**오답 체크** 가. 기본권은 원칙적으로 보장되나 타인의 자유를 침해하거나 사회 전체의 기본적 자유 체계를 위협하는 경우에는 제한될 수 있다. 나. 천부적 재능 분포의 우연성은 사람마다 가진 재능이 다르다는 것으로 이는 정의도 부정의도 아닌 그저 자연적인 사실일 뿐이다.

**308 롤스와 노직의 정의** 답·③

**바른 풀이** 같은 롤스, 음은 노직이다. ③ 노직은 개인의 소유권 보호를 위해 국가의 역할은 국방과 치안 유지 등으로 한정된 최소 국가를 주장하였다.  
**오답 체크** ① 롤스는 타고난 재능을 사회 공동의 자산으로 간주하며, 개인의 업적 뿐만 아니라 사회적 약자에 대한 배려가 포함되어야 한다고 했다. ② 롤스는 차등의 원칙에 따라 최소 수혜자에게 이익이 되는 경우에만 경제적 불평등을 허용한다. ④ 노직은 재분배를 위한 세금 징수를 강제 노동이라며 비판한다. ⑤ 롤스와 노직 모두 개인의 자유와 권리를 중시하는 자유주의 사상가이다.

### 309 롤스, 노직, 왈처의 정의 답·⑤

**바른 풀이** 갑은 롤스, 을은 노직, 병은 왈처이다. ⑤ E는 왈처가 롤스에게 제기하는 비판이다. 왈처는 롤스처럼 단일한 원칙으로 사회의 모든 가치를 배분하려는 시도를 비판하며, 영역별 고유 기준이 있어야 한다고 주장한다.

**오답 체크** ① A는 롤스가 노직에게 제기하는 비판이다. 노직은 개인의 절대적 소유권을 인정하는 입장이므로 적절한 비판이 아니다. ② B는 노직이 롤스에게 제기하는 비판이다. 롤스는 천부적 재능을 공동 자산으로 보지만, 노직은 이를 개인의 소유로 보므로 적절한 비판이 아니다. ③ C는 왈처가 노직에게 제기하는 비판이다. 정당한 재산에 대한 국가의 과세를 반대하는 것은 노직의 입장이므로 적절한 비판이 아니다. ④ D는 노직이 왈처에게, F는 롤스가 왈처에게 제기하는 비판이다. 다양한 가치는 서로 다르게 분배되어야 한다는 것은 왈처의 입장이므로 적절한 비판이 아니다.

### 310 롤스의 정의

(1) ㉠ 원초적 입장, ㉡ 공정한 기회 균등의 원칙

(2) **KEY WORD** 원초적 입장, 최소 수혜자, 최대 이익

**모범 답안** 원초적 입장에 있는 사람들은 자신이 최악의 상황에 놓일 가능성을 고려하여 최소 수혜자에게 최대 이익이 보장되는 정의의 원칙에 합의한다.

채점 기준	수준
원초적 입장과 차등의 원칙을 서술하고 합리적 선택 간의 인과 관계를 논리적으로 서술한 경우	상
차등의 원칙의 의미만 쓴 경우	하

### 311 자유주의적 정의관과 공동체주의적 정의관 답·④

**바른 풀이** (가)는 자유주의적 정의관, (나)는 공동체주의적 정의관이다. ㄷ. 공동체주의적 정의관은 구성원의 공유된 공동선 실현을 핵심 도덕 목표로 삼는다. ㄹ. 두 입장 모두 정의로운 사회를 지향하며, 개인의 권리와 공동체의 이익이 조화를 이루어야 한다는 점에 동의한다.

**오답 체크** ㄱ. 공동체주의적 정의관에 가까운 설명이다. 자유주의적 정의관은 사회적 의무보다 개인의 자유로운 선택과 권리를 더 중요하게 생각한다. ㄴ. 자유주의적 정의관의 입장이다. 공동체주의적 정의관은 자아가 공동체의 맥락 속에서 형성된다고 본다.

### 312 매킨타이어와 왈처의 정의 답·②

**바른 풀이** 갑은 매킨타이어, 을은 왈처이다. ㄱ. A는 갑과 을이 모두 '예'라고 답변할 질문이어야 한다. 매킨타이어와 왈처는 모두 공동체주의의 사상가로 자아가 공동체의 맥락과 연결되어 있다고 보므로 적절한 내용이다. ㄷ. C는 을이 '예'라고 답변할 질문이어야 한다. 사회적 가치들이 각각 고유한 영역 내에서 배분되어야 한다는 것은 왈처가 주장한 다원적 정의의 핵심이다.

**오답 체크** ㄴ. B는 갑은 '예', 을은 '아니요'라고 답변할 질문이어야 한다. 매킨타이어는 공동체의 선을 매우 강조한다. ㄷ. C는 을이 '예'라고 대답할 질문이어야 한다. 왈처는 결과적으로 똑같은 배분을 주장한 것이 아니라, 각 영역의 가치가 고유한 기준에 따라 배분되는 복합 평등을 주장하였으므로 해당 질문에 '아니요'라고 답할 것이다.

### 313 노직의 정의 답·④

**바른 풀이** 제시문의 사상은 노직이다. ④ 노직의 핵심 주장으로 정당한 방법으로 취득하거나 이전받은 자산이라면 그 결과가 비록 불평등할지라도 국가는 개입하지 말아야 한다는 것이다.

**오답 체크** ① 노직은 개인의 소유권을 절대적인 권리로 보며, 공익을 이유로 개인의 재산을 침해하는 것은 정의롭지 않다고 본다. ② 왈처의 다원적 정의에 해당하

는 설명이다. 노직은 공동체의 특성보다 개인의 정당한 취득과 양도 절차를 중시한다. ③ 노직은 국가가 재분배를 위해 세금을 걷는 것을 강제 노동과 같다고 비판하며 치안과 국방만 담당하는 최소 국가를 지향한다. ⑤ 노직의 교정의 원칙은 취득이나 양도 과정에서 부정의가 있었을 때 이를 바로잡는 것을 의미한다.

### 314 사회 계층 구조 답·②

**바른 풀이** 상류층, 중류층, 하류층의 합이 100%라는 점을 통해 중류층의 비율을 알 수 있다. ② A 시기는 하류층이 가장 많은 피라미드형 구조인 반면, B 시기는 중류층 비율이 가장 높은 다이아몬드형 구조이다. 중류층이 두터울수록 사회적 갈등이 적고 안정을 유지하기 쉬워 사회 통합을 이 루기에 유리하다.

**오답 체크** ① A 시기는 하류층이 가장 높은 피라미드형이다. ③ C 시기의 하류층 비중(45%)은 B 시기(30%)보다 높아졌으므로 불평등이 완화되었다고 보기 어렵다. ④ 상류층 비율은 20% → 15% → 30%로 감소 후 증가했다. ⑤ 모든 시기에서 하류층 비중이 상류층과 중류층 합보다 낮거나 같다.

### 315 사회 복지 제도 답·②

**바른 풀이** A는 사회 보험, B는 공공 부조, C는 사회 서비스이다. ㄱ. 사회 서비스는 특정 위험에 대한 '예방'보다는 필요한 사람에게 '서비스'를 제공하는 성격이 강해, 사회 보험만큼 예방적 성격을 가진다고 보기 어렵다. ㄷ. 공공 부조는 선정 과정에서 생활의 어려움을 증명해야 하므로 수혜자가 주변의 부정적 시선이나 스스로 위축되는 낙인 효과가 발생할 수 있다.

**오답 체크** ㄴ. 공공 부조는 고소득자의 세금으로 저소득층을 돕는 방식이라 사회 보험보다 소득 재분배 효과가 훨씬 크다. ㄹ. 사회 서비스는 주로 도움이 필요한 특정 대상에게 전문적인 지원을 제공하는 개념이다. 무상 급식은 모든 학생을 대상으로 하는 광의의 사회 복지 정책이므로 그 성격이 다르다.

### 316 공간 불평등의 해결

(1) 성장 거점

(2) **모범 답안** 수도권에 집중된 공공 기관이나 기업을 지방으로 이전하여 지역 일자리를 창출하고 자립적 경제 기반을 마련한다. / 지방 거점 대학을 육성하고 지역 특화 산업을 지원하여 청년 인구의 유출을 막는다. / 지방 자치 단체의 재정 자립도를 높이기 위해 중앙 정부의 재정 지원을 확대한다.

채점 기준	수준
지역 격차 완화를 위한 정부의 역할을 정확하게 서술한 경우	상
방안은 제시하였으나 논리적 근거가 부족한 경우	하

### 317 사회적 약자를 위한 배려 답·①

**바른 풀이** 제시문은 적극적 평등 실현 조치와 역차별 논란을 다루고 있다. 갑은 사회의 구조적 불평등을 해결하기 위해 실질적 평등을 보장하는 ㉠ 적극적 평등 실현 조치가 필요하다고 주장한다. 을은 개인의 능력에 따른 공정한 경쟁을 중시하며, 특정 집단에 대한 인위적 혜택이 비수혜 대상에 대한 ㉡ 역차별을 야기할 수 있다고 우려한다. ㉠에는 '적극적 평등 실현 조치', ㉡에는 '역차별'이 들어가야 한다.

### III 시장경제와 지속가능발전

#### 07 자본주의 발달과 시장경제

##### 핵심개념 확인 문제

75쪽

318 ○	319 ○	320 ×	321 ㄱ	322 ㄹ
323 ㄷ	324 ㄴ	325 유통	326 생산	327 시장 실패
328 정부 실패	329 시장	330 계획	331 혼합	

##### 기출로 기본 다지기

76~77쪽

332 ③	333 ②	334 ④	335 ③	
336 ㉠ 중상주의, ㉡ 자유방임주의		337 ⑤	338 ⑤	
339 ③	340 ④	341 ②		

#### 332 자본주의의 특징

답·③

**바른 풀이** A는 자본주의 경제 체제이다. 자본주의 경제 체제에서는 사유 재산 제도를 바탕으로 경쟁과 사익 추구가 허용된다. ㄱ. 자본주의 경제 체제는 국가의 계획이 아닌 시장의 자유로운 거래를 중시한다. ㄷ. 자본주의 이념에 따라 사유 재산의 소유, 이용, 처분이 자유롭게 이루어질 수 있다.

**오답 체크** ㄴ, ㄷ. 자본주의 경제 체제가 아닌 사회주의 경제 체제에 해당하는 설명이다. 사회주의 경제 체제에서는 정부의 계획과 통제에 따라 경제를 운용한다.

#### 333 자본주의의 특징

답·②

**바른 풀이** A는 자본주의 경제 체제이다. 자본주의 경제 체제는 희소한 자원의 분배 및 효율적인 사용을 위해 시장의 원리를 적용하는 체제이다. ㄱ. 자본주의 경제 체제에서는 시장 가격에 따라 자원을 분배함으로써 경제 문제가 자연스럽게 해결된다. ㄷ. 노동 시장에서 자본가가 노동자로부터 노동을 공급받고 그 대가로 임금을 지불하는 것은 자본주의 경제 체제에 따른 거래 활동이다.

**오답 체크** ㄴ. 자원의 희소성은 절대적인 양이 부족한 것이 아니라 인간의 요구(필요)에 비해 자원의 양이 부족한 상태를 의미한다. ㄷ. 자본주의 경제 체제가 아니라 사회주의 경제 체제에서 생산 수단의 국유화를 제도화한다.

#### 334 자유 방임주의

답·④

**바른 풀이** 제시문은 애덤 스미스의 『국부론』에서 인용한 것이다. 스미스는, 개인이 자기 이익을 위해 합리적으로 행동하면, 사회 전체의 이익이 증대된다고 설명한다. 이러한 주장은 자본주의 경제 체제의 토대를 이루었다.

**오답 체크** ④ 정부가 생산 수단을 독점하고 경제 전반을 통제하는 것은 사회주의 경제 체제와 관련이 있다.

#### 335 자본주의의 역사적 전개 과정

답·③

**바른 풀이** 자본주의의 역사적 전개 과정은 '자유방임주의 → 독점 자본주의 → 수정 자본주의 → 신자유주의'이다. ㄴ. (가)는 자유방임주의, (나)는 수정 자본주의이다. ㄷ. 자유방임주의가 수정 자본주의로 이행한 것은 자본의 독점과 빈부 격차의 심화, 경제 대공황 등 시장 실패에 대한 반성에서 기인한다.

**오답 체크** ㄱ. 적극적인 복지 정책을 강조한 것은 수정 자본주의이다. ㄷ. 자유방임주의와 수정 자본주의 모두 개인의 자유로운 경제활동을 인정한다. 다만 수정 자본주의는 시장의 한계를 보완하는 정부 역할을 강조한다.

#### 336 자본주의의 변천

답·㉠ 중상주의, ㉡ 자유방임주의

**바른 풀이** 자본주의는 상업 자본주의, 즉 중상주의에서 시작되었다. 대항해 시대를 거쳐 정부가 주도하는 국가 간 무역을 통해 국부를 증진하려는 것이 중상주의의 핵심이었다. 그러나 기계의 발명, 대량 생산-대량 소비 체제가 확대되면서 산업 자본가가 성장하였고 상업 자본주의는 산업 자본주의로 발전하였다. 상업 자본주의를 뒷받침한 이론적 배경이 중상주의였다면, 산업 자본주의를 뒷받침한 이론적 배경은 자유방임주의였다.

#### 337 자본주의의 경제 이념

답·⑤

**바른 풀이** 갑은 정부의 적극적인 시장 개입을 강조하는 케인스이고, 을은 개인의 자유로운 거래를 통한 시장 질서를 강조하는 애덤 스미스이다. ①, ② 갑의 입장에 부합하는 진술이다. ③ 을의 입장에 부합하는 진술이다. ④ 갑의 입장은 수정 자본주의, 을의 입장은 자유방임주의이다. 두 이념 모두 사유 재산 제도를 인정한다.

**오답 체크** ⑤ 시장 실패로 인한 경제 문제 해결에 초점을 두는 입장에서는 정부의 적극적인 시장 개입을 강조한다.

##### 자료 분석

**갑:** 대공황과 같이 경기가 침체된 상황에서는 정부가 지출을 확대하여 일 자리를 창출해야 합니다. 수요 증가 → 경기 침체 극복

**을:** 개인의 이익 추구는 사회 전체의 조화와 이익을 가져옵니다. 개인이 사익을 추구하는 과정에서 효율적인 자원 배분이 이루어져 국부의 증대로 이어지기 때문입니다. 이기심의 역할

→ 갑의 입장(수정 자본주의, 큰 정부론)은 정부의 적극적인 시장 개입을 통한 시장 거래의 활성화 및 빈부 격차 완화 등을 중시하며, 을의 입장(자유방임주의, 작은 정부론)은 국방, 치안에 국한된 정부의 최소한의 개입으로 시장의 자율성 확보를 중시한다.

#### 338 수정 자본주의의 경제 정책

답·⑤

**바른 풀이** 제시문은 대공황 이후 미국에서 시행된 뉴딜 정책을 설명하고 있다. 이 시기에는 정부의 적극적인 시장 개입을 통해 시장 실패를 해결하려는 정책이 강조되었다. ㄷ. 사회 보장 제도의 확대, ㄹ. 대규모 공공사업의 추진은 뉴딜 정책의 대표적인 사례이다.

**오답 체크** ㄱ. 사회 복지 축소, ㄴ. 공기업의 민영화는 신자유주의에서 주장하는 정책이다.

#### 339 시장경제 체제의 특징

답·③

**바른 풀이** A는 시장경제 체제이다. ㄱ. 시장경제 체제에서는 재산을 자유롭게 획득하고 사용할 수 있는 사유 재산권을 보장한다. ㄴ. 시장경제 체제는 수요와 공급이 균형을 이루는 지점에서 가격이 결정된다. ㄷ. 시장경제 체제에서는 특정 경제 주체가 경제활동 여부를 결정하는 것이 아니라 각 경제 주체 모두가 자발적으로 결정한다.

**오답 체크** ㄹ. 계획경제 체제에 해당하는 서술이다.

#### 340 경제 체제의 종류와 특징

답·④

**바른 풀이** (가)는 A에 대해 '예'라는 답변이 가능한 질문이고, (나)는 B에 대해 '예'라는 답변이 가능한 질문이다. ④ 민간 경제 주체의 사익 추구를 보장하는 경제 체제는 시장경제 체제이다. 시장경제 체제는 계획경제 체제보다 자유경쟁의 원리를 강조한다.

**오답 체크** ① 정부의 계획과 명령으로 가격이 결정되는 체제는 계획경제 체제이다. 계획경제 체제가 시장경제 체제보다 자원 배분의 효율성이 높다고 보기 어렵다. ② 시장 원리에 따라 문제를 해결하는 경제 체제는 시장경제 체제이다. 생산 수단의 국유화를 중시하는 것은 계획경제 체제이다. ③ 빈부 격차 심화, 환경 오염 발

생 등이 한계로 부각되는 경제 체제는 시장경제 체제이다. 시장경제 체제는 '보이는 손'(정부)보다 '보이지 않는 손'(시장 가격)의 역할을 중시한다. ⑤ 자원 배분이 정부의 결정과 통제로 이루어지는 경제 체제는 계획경제 체제이다. 시장경제 체제는 효율성에 강조점을 두고, 계획경제 체제는 형평성에 강조점을 둔다.

### 341 시장경제 체제의 특징 답·②

**바른 풀이** (가) 국가는 정부의 계획에 따라 생산을 통제하는 계획경제 체제이고, (나) 국가는 시장에서 자유롭게 거래하는 시장경제 체제이다. ①, ③, ④, ⑤ 시장경제 체제의 특징이다.

**오답 체크** ② 정부의 계획 및 명령에 따라 경제 문제를 해결하는 것은 (가) 국가에 해당하는 특징이다.

기출로	실력	높이기	78~81쪽		
342 ①	343 ③	344 ④, ⑤	345 ③	346 ④	
347 ③	348 ②	349 ④	350 ③, ⑦	351 ③	
352 ②	353 ②				
<b>서답형</b>					
354 모범 답안 참조					
355 (1) 스태그플레이션			(2) 모범 답안 참조		
356 (1) 개념: 보이지 않는 손, 의미: 시장의 작동 원리로서 가격에 의해 시장 참여자들이 자유롭게 거래하는 것					
(2) 모범 답안 참조					
357 (1) (가): 계획경제 체제, (나): 시장경제 체제					
(2) 모범 답안 참조					

### 342 자본주의의 특징 답·①

**바른 풀이** 제시문은 자본주의의 의미와 특징을 설명하고 있다. ㄱ. 자본주의는 민간의 자유로운 경제활동을 보장하고 사유 재산제를 인정한다. ㄴ. 자본은 자본의 소유자가 생산 및 경영 활동을 통하여 이윤을 획득하는 원천이 된다.

**오답 체크** ㄷ. 자본주의에서는 개인이나 기업의 사적 소유가 인정된다. ㄹ. 자본주의에서는 노동 시장에서 노동이 자유롭게 거래된다.

### 343 자본주의 경제 체제의 특징 답·③

**바른 풀이** 제시문은 애덤 스미스의 국부론에서 인용한 것이다. A는 자본주의 경제 체제를 의미한다. ㄷ. 자본주의는 사익 추구를 인정하는 것이 국부 증진에 도움이 된다고 전제한다. ㄹ. 애덤 스미스의 설명과 같이 시장을 내버려두면 시장 가격에 따라 자원 배분이 효율적으로 이루어진다.

**오답 체크** ㄱ. 분배의 형평성, 자본의 사적 소유 금지는 사회주의 경제 체제에서 강조하는 것이다. ㄴ. 자본주의에서는 정부가 경제 전반을 계획하고 통제하는 것에 반대한다.

### 344 자본주의의 역사적 전개 과정 답·④, ⑤

**바른 풀이** 그림은 자본주의의 역사적 전개 과정을 나타낸 것이다. 산업 혁명은 자유방임주의 이념의 확산에 이바지하였고, 대공황 발생은 수정 자본주의로 전환하는 계기가 되었다. ④ 자유방임주의에서 수정 자본주의로의 전환은 시장 실패에 대한 비판에서 비롯되었다. ⑤ 자유방임주의, 수정 자본주의, 신자유주의는 모두 자본주의 경제 이념으로서 '보이지 않는 손', 즉 시장 원리에 따른 자유로운 거래를 인정한다.

**오답 체크** ① 신항로 개척은 중상주의 등장의 계기가 된 것이지, 자유방임주의의 등장 배경이 아니다. ② 석유 파동은 수정 자본주의가 신자유주의로 전환되는 계기가 되었다. ③ 노동 시장의 유연화에 적극적인 것은 신자유주의이다. ⑥ 자유방임주의는 '보이는 손', 즉 정부의 역할을 최소화하고자 하였다. ⑦ 사회 복지의 확대를 강조한 것은 수정 자본주의이고, 신자유주의는 복지 축소를 강조하였다.

### 개념 더하기 **자본주의의 역사적 전개 과정**

<b>상업 자본주의</b>	신항로 개척 후 유럽 절대 왕정의 중상주의 정책을 통한 이윤 추구
<b>산업 자본주의</b>	<ul style="list-style-type: none"> <li>18세기 중반 영국의 산업 혁명을 기점으로 산업 자본주의 시기 도래</li> <li>애덤 스미스의 자유방임주의를 기반으로 자유로운 경제활동 보장</li> </ul>
<b>수정 자본주의</b>	<ul style="list-style-type: none"> <li>1929년 대공황으로 수많은 기업과 은행 도산, 실업자 증가</li> <li>국가의 적극적 시장 개입을 주장한 케인스의 논리에 따른 시장 실패 해결 노력</li> </ul>
<b>신자유주의</b>	<ul style="list-style-type: none"> <li>1970년대 석유 파동으로 스태그플레이션 발생</li> <li>하이에크는 정부의 과도한 시장 개입을 비판하며 민간의 자유로운 경제활동이 필요함을 주장함.</li> </ul>

### 345 수정 자본주의의 특징 답·③

**바른 풀이** 제시문은 경제 대공황을 촉발한 주식 대폭락 사건을 설명하고 있다. 이후 미국을 포함한 세계 경제는 장기간 경기 침체에 빠졌다. ③ 자유방임주의에 따른 시장 자율성만으로는 공급 과잉으로 인한 경기 침체를 해소할 수 없었다. 이에 케인스의 주장을 반영한 뉴딜 정책은 경기 활성화를 위해 국가 주도의 대규모 공공사업 시행으로 이어졌다.

**오답 체크** ① 자유방임주의에 대한 설명으로, 자유방임주의는 제시된 사건의 발생 배경이다. ② 신자유주의에 대한 설명이다. 신자유주의는 수정 자본주의에 따른 정부 실패를 해결하려는 경제 이념이다. ④ 중상주의에 대한 설명이다. 중상주의는 16세기 유럽의 절대 왕정이 추구한 경제 이념이다. ⑤ 신자유주의가 확산된 이후에 나타난 세계 경제 변화를 비판적으로 진술한 내용이다.

### 346 사회주의 경제 체제의 특징 답·④

**바른 풀이** 제시된 사상은 마르크스(Marx, K.)의 주장으로, 사회주의 경제 체제를 설명하는 데 적합하다. ㄱ. 마르크스는 자본주의에서 자본가 계급만이 생산 수단을 소유한 것을 비판하며 생산 수단을 공유해야 한다고 주장하였다. ㄷ. 마르크스는 경제적 불평등을 해소하려면 사회적 약자를 배려하는 필요에 따른 분배가 필요하다고 보았다. ㄹ. 마르크스는 자본주의의 분업 시스템이 인간의 자율성과 창조성을 박탈하고 노동을 생계 수단으로 전락시켰다고 보았다.

**오답 체크** ㄴ. 마르크스는 자본가 계급이 생산 수단을 독점하고 이를 바탕으로 노동자를 착취하여 이윤을 얻는 것을 비판하였다.

### 347 자본주의의 발달 과정 답·③

**바른 풀이** [진술 1]은 틀린 진술, [진술 2]는 틀린 진술, [진술 3]은 옳은 진술, [진술 4]는 옳은 진술, [진술 5]는 옳은 진술이다. 따라서 [진술 1]에 대한 답변은 1점, [진술 2]에 대한 답변은 0점, [진술 3]에 대한 답변은 1점, [진술 4]에 대한 답변은 1점, [진술 5]에 대한 답변은 0점을 받는다. 학생이 얻은 총점은 3점이다.

### 348 자본주의의 전개 과정

답·②

**바른 풀이** (가)는 자유방임주의에 기초한 산업 자본주의, (나)는 수정 자본주의, (다)는 신자유주의이다. ㄱ. 자유방임주의는 산업 혁명을 배경으로 한다. ㄴ. 자유방임주의는 '작은 정부', 수정 자본주의는 '큰 정부'를 내세운다.

**오답 체크** ㄴ. 정부의 역할을 국방과 치안으로 한정하는 것은 자유방임주의이다. ㄹ. 신자유주의는 불필요한 규제 축소를 통한 시장 자율성 강화, 복지 정책의 축소 등을 주장하였다.

#### 개념 더하기 신자유주의와 복지 축소

신자유주의는 1980년대 이후 대처리즘과 레이거노믹스를 필두로 국가 개입을 최소화하고 시장의 효율성을 극대화하기 위해 복지를 축소하는 사상적 흐름이었다. 복지 축소에 대한 신자유주의의 핵심 논리는 아래와 같다.

- **비효율성 비판:** 과도한 재정 지출로 경제적 효율성을 저해하고 국가의 자원을 낭비한다고 인식
- **복지병 발생:** 복지 혜택이 개인의 자립 의지를 꺾고 국가에 의존하게 만든다고 주장
- **작은 정부론:** 국가의 역할을 줄이고 민간(시장)이 복지 공급의 주체가 되어야 한다고 주장

### 349 자본주의의 시기별 특징 비교

답·④

**바른 풀이** 값은 정부의 적극적인 시장 개입을 주장하는 수정 자본주의, 올은 정부의 시장 개입 최소화를 주장하는 자유방임주의, 병은 정부의 심판자 역할을 강조하는 신자유주의와 맥락을 같이 한다. ㄴ. 자유방임주의는 시장의 작동 원리를 통한 효율적 자원 배분을 이상적으로 여긴다. ㄹ. 자유방임주의와 신자유주의는 정부의 시장 개입에 부정적이다.

**오답 체크** ㄱ. 정부의 시장 개입을 억제하는 것은 자유방임주의 사상에 부합하는 진술이다. ㄴ. 정부의 경기 조절 정책에 찬성하는 것은 수정 자본주의이다.

### 350 자유방임주의와 수정 자본주의 비교

답·③, ⑦

**바른 풀이** '시장에 대한 정부의 소극적 역할을 강조하는가?'라는 질문에 '예'라고 한 A는 자유방임주의, '아니요'라고 한 B는 수정 자본주의이다. ③ 수정 자본주의는 국가가 운영하는 공공 부문의 재정 지출 확대를 주장한다. ⑦ ㉠이 '아니요'라면 (나)는 수정 자본주의에만 해당하는 질문이다. 수정 자본주의에서는 정부가 시장에 개입하는 '큰 정부'를 지향한다.

**오답 체크** ② 취약 계층 보호를 위한 사회 복지 확대는 수정 자본주의의 입장이다. ④ ㉠이 '예'라면 (가)는 자유방임주의와 수정 자본주의 모두에 해당하는 질문이다. 두 이념 모두 사유 재산을 인정하기 때문에 해당 질문은 (가)에 들어갈 수 있다. ⑤ ㉠이 '아니요'라면 (가)는 자유방임주의에만 해당하는 질문이다. 자유방임주의는 시장의 작동 원리를 신뢰한다. ⑥ ㉠이 '예'라면 (나)는 자유방임주의와 수정 자본주의 모두에 해당하는 질문이다. 경기 침체 해결을 위한 정부의 대규모 공공사업 시행을 긍정적으로 평가하는 것은 수정 자본주의에만 해당한다.

### 351 경제 체제와 경제 문제

답·③

**바른 풀이** ㉠은 시장경제 체제이다. 시장경제 체제는 사유 재산 보장과 경제활동의 자유를 근간으로 한다. ㄴ. ㉠은 '무엇을, 얼마나 생산할 것인가'와 관련한 경제 문제로 옳은 서술이다. ㄹ. ㉠은 '어떻게 생산할 것인가'와 관련한 생산 방법과 기술에 관한 경제 문제로 옳은 서술이다.

**오답 체크** ㄱ. 생산 수단의 공유는 계획경제 체제에서 나타난다. ㄴ. 경제 문제는 희소성의 원칙에 의해 발생하며, 희소성은 인간의 욕망에 비해 자원의 양이 상대적으로 부족한 상태이다.

### 352 경제 체제의 비교

답·②

**바른 풀이** (가)는 생산 수단의 국유화 정도가 높고 시장 가격에 대한 의존 정도가 낮은 계획경제 체제이고, (나)는 생산 수단의 국유화 정도가 낮고

시장 가격에 대한 의존 정도가 높은 시장경제 체제이다. ㄱ. 계획경제 체제는 정부의 계획과 통제에 따라 경제를 운용한다. ㄴ. 일반적으로 시장경제 체제는 계획경제 체제에 비해 경제 운용의 효율성이 높다는 평가를 받는다.

**오답 체크** ㄴ. 시장경제 체제에서는 사적 이익 추구 활동이 보장된다. ㄹ. 경제 주체 간 자유로운 경쟁이 중시되는 것은 시장경제 체제이다.

### 353 우리나라의 경제 체제

답·②

**바른 풀이** 제시된 헌법 조항은 우리나라의 경제 체제에 대한 내용이다. 우리나라는 시장경제 체제를 기본으로 계획경제 체제의 요소를 가미하고 있다. ② 사회 복지 제도는 정부의 시장에 대한 개입의 근거가 된다.

**오답 체크** ① (가)의 헌법 제23조 ②항은 개인의 재산권 행사에 제한을 두는 내용이다. ③ (다)는 자유에 가치를 둔 조항이다. ④ 우리나라는 시장경제 체제와 계획경제 체제를 아우른 혼합 경제 체제를 운영하고 있다. (나)는 계획경제 체제의 성격이 드러나는 조항이다. ⑤ 경제 양극화를 해결할 수 있는 조항은 (나)이다.

### 354 자유방임주의 경제 사상

**모범 답안** 상업 자본주의는 국가가 주도하여 상업 자본의 축적과 국제 교역 확대를 이끌었는데, 이 과정에서 과도한 세금 징수와 같이 정부의 지나친 (시장 개입)이 이루어졌다. 이를 비판하며 시장의 자유로운 거래를 주장한 애덤 스미스는 ('보이지 않는 손')의 역할을 강조하며 정부의 역할을 (국방, 치안)으로 국한해야 한다고 역설했다.

이러한 사상적 배경을 토대로 발달한 산업 자본주의는 상업 자본주의와 달리 시장에 대한 정부의 개입이 (최소화)되는 양상이 나타났다.

채점 기준	수준
'시장 개입, 보이지 않는 손, 국방/치안, 정부 개입의 최소화'라는 용어를 모두 사용하여 자본주의 이념의 변화를 적절하게 서술한 경우	상
'시장 개입, 보이지 않는 손, 국방/치안, 정부 개입의 최소화'라는 용어 중 두 가지만을 사용하여 자본주의 이념의 변화를 서술한 경우	중
'시장 개입, 보이지 않는 손, 국방/치안, 정부 개입의 최소화'라는 용어 중 한 가지만을 사용하여 자본주의 이념의 변화를 서술한 경우	하

### 355 자본주의 이념의 변화

(1) 스테그플레이션

(2) **KEY WORD** 수정 자본주의, 시장의 자율성, 신자유주의

**모범 답안** 정부의 시장 개입과 복지 확대를 중시하던 케인스의 수정 자본주의는 석유 파동으로 인한 높은 물가와 실업을 동시에 해결하지 못하는 한계를 드러냈다. 그리고 국가의 과도한 개입이 경제의 효율성을 떨어뜨린다는 비판이 커지자 시장의 자율성을 회복하고 정부의 역할을 축소해야 한다는 주장이 확산되면서 자본주의 이념은 신자유주의로 이행하였다.

채점 기준	수준
'수정 자본주의, 시장의 자율성, 신자유주의'라는 용어를 모두 사용하여 자본주의 이념의 변화를 적절하게 서술한 경우	상
'수정 자본주의, 시장의 자율성, 신자유주의'라는 용어 중 두 가지만을 사용하여 자본주의 이념의 변화를 서술한 경우	중
'수정 자본주의, 신자유주의'라는 용어 중 한 가지만을 사용하여 자본주의 이념의 변화를 서술한 경우	하

### 356 신자유주의 경제 정책

(1) 개념: 보이지 않는 손, 의미: 시장의 작동 원리로서 가격에 의해 시장 참여자들이 자유롭게 거래하는 것

(2) **KEY WORD** 공기업 민영화, 복지 제도 축소

**모범 답안** 수정 자본주의 이념을 비판하며 등장한 신자유주의는 공기업의 민영화를 주장하였으며, 복지 제도의 축소를 내세웠다.

채점 기준	수준
'공기업의 민영화, 복지 제도 축소'를 모두 사용하여 경제적 변화에 미친 영향을 적절하게 서술한 경우	상
'공기업의 민영화, 복지 제도 축소' 중 한 가지만을 사용하여 경제적 변화에 미친 영향을 서술한 경우	중
'공기업의 민영화, 복지 제도 축소'라는 용어를 사용하지 않고 경제적 변화에 미친 영향을 서술한 경우	하

### 357 시장경제 체제의 특징

(1) (가): 계획경제 체제, (나): 시장경제 체제

(2) **KEY WORD** 경제활동의 자유, 사적 이익 추구, 사유 재산권 보장

**모범 답안** 시장경제 체제는 계획경제 체제와 달리 경제 주체들이 자유로운 경제활동에 참여하여 사적 이익을 추구하고, 사유 재산권을 보장받는다.

채점 기준	수준
'자유로운 경제활동, 사적 이익 추구, 사유 재산권 보장'을 모두 사용하여 시장경제 체제의 특징을 적절하게 서술한 경우	상
'자유로운 경제활동, 사적 이익 추구, 사유 재산권 보장' 가운데 두 가지만을 사용하여 시장경제 체제의 특징을 서술한 경우	중
'자유로운 경제활동, 사적 이익 추구, 사유 재산권 보장' 가운데 한 가지만을 사용하여 시장경제 체제의 특징을 서술한 경우	하

기출로 **1등급 도전하기** 82~83쪽

358 ③    359 ②    360 ①    361 ③    362 ④  
363 ⑤    364 ②    365 ⑤

### 358 상업 자본주의의 등장 배경

답·③

**바른 풀이** 제시문에서 밑줄 친 '이 시기'는 산업 혁명 이전으로, 상업 자본주의가 확산하던 시기이다. ③ 이 시기에는 절대 왕정이 중상주의 정책을 바탕으로 무역과 상업에 적극 장려하였고, 상품의 유통을 통해 국가의 부를 키우고자 노력하였다.

**오답 체크** ① 대공황은 1929년 미국에서 처음 시작되었다. ② 19세기 후반에 접어들면서 소수의 대자본이 시장을 독점하기 시작하였다. ④ 석유 파동은 1970년대에 발생하였으며, 이로 인해 경기 침체와 물가 상승이 동시에 나타났다. ⑤ 2007년 서브프라임 모기지 사태가 발생하면서 세계적인 금융 위기로 이어졌다.

### 359 자본주의의 역사적 전개 과정

답·②

**바른 풀이** A는 자유방임주의, B는 수정 자본주의, C는 신자유주의이다. ② 수정 자본주의 이념은 정부의 대규모 공공사업을 통한 일자리 창출 및 경제 활성화를 강조하였다.

**오답 체크** ① 중상주의 정책을 바탕으로 상품의 유통을 통해 국가의 부를 늘리려 한 것은 상업 자본주의이다. ③ 사회 보장 제도의 강화를 중시한 것은 수정 자본주의이다. ④ 석유 파동은 수정 자본주의에서 신자유주의로 전환되는 주요 배경이었다. ⑤ 대공황으로 인한 경기 침체는 자유방임주의에서 수정 자본주의로 전환되는 주요 배경이었다.

### 360 케인스와 하이에크의 경제 사상

답·①

**바른 풀이** 그림의 값은 케인스, 율은 하이에크이다. 수정 자본주의를 대표하는 케인스는 대공황으로 촉발된 대규모 실업 문제를 해결하기 위해 정부가 시장에 적극적으로 개입해야 한다고 보았으며, 정부는 공공사업을 펼쳐 일자리를 창출하고 구매력을 늘려 경제를 활성화해야 한다고 주장하였다. 신자유주의의 대표적인 학자 하이에크는 정부가 시장에 적극적으로 개입하는 것에 반대하였으며, 자유로운 경쟁이 보장되는 시장의 자생적 질서를 존중해야 한다고 주장하였다.

**오답 체크** ② 케인스는 대공황을 해결하기 위해 정부의 적극적 개입을 주장하였다. ③ 하이에크의 주장은 신자유주의 사상을 대표한다. ④ 시장경제 체제를 기본으로 하면서 계획경제 체제의 요소가 섞인 혼합 경제 체제는 대공황의 해결 과정에서 등장하였다. ⑤ 케인스와 달리 하이에크는 복지 정책 축소, 공기업 민영화를 지지한다.

### 361 자유방임주의의 한계

답·③

**바른 풀이** ③ 대공황은 20세기 초반 과열된 경쟁과 과잉 공급으로 기업들이 문을 닫고 실업 문제가 심각해진 상황이다.

**오답 체크** A는 자유방임주의이다. ① 자유방임주의는 효율성을 중시한다. ② 자유방임주의는 중상주의 경제 정책의 문제점을 비판하고 정부의 역할을 국방과 치안에 한정할 것을 주장하였다. ④ 독과점은 대표적인 시장 실패 사례로, 정부의 방임으로 시장에서 하나 혹은 소수의 기업이 과도한 지배력을 행사하는 현상이다. ⑤ 개인과 기업의 자유로운 경제활동을 보장하면 빈부 격차가 확대되는 결과가 발생한다. 이를 해소하려면 정부에 의한 소득 재분배 정책, 복지 시행 등이 필요하다.

### 362 수정 자본주의와 신자유주의 등장 배경

답·④

**바른 풀이** (가)는 루스벨트 대통령이 시행한 뉴딜 정책으로, 대공황으로 인한 경기 침체를 벗어나기 위해 정부가 시장에 적극 개입한 사례이다. (나)는 오일 쇼크로 인한 복합 불황을 설명하고 있는데, 물가 상승과 경기 침체가 동시에 발생하여 정부의 시장 개입이 도리어 상황을 악화시키는 결과가 나타났고 이를 비판하며 신자유주의 이념이 등장하였다. ㄴ. 수정 자본주의 이념에 따라 정부의 적극적인 시장 개입을 추진함으로써 시장 실패를 극복하였다. ㄷ. 오일 쇼크는 정부 실패를 비판하며 신자유주의가 확산하는 계기가 되었다.

**오답 체크** ㄱ. 대공황 이후 등장한 경제 이념은 수정 자본주의이다. ㄴ. 오일 쇼크는 국제 원유 시장에서 자원이 비효율적으로 배분된 사례이다.

### 363 수정 자본주의와 신자유주의 특징

답·⑤

**바른 풀이** ㉠은 수정 자본주의, ㉡은 신자유주의이다. ⑤ 수정 자본주의는 복지 확대 및 소득 재분배와 같은 노동자의 지위 향상을 강조하였고, 신자유주의는 노동 시장의 유연성 강화를 주장하였다.

**오답 체크** ① 수정 자본주의는 사회 보장 제도의 확대를 주장하였다. ② 신자유주의는 정부 규제 철폐를 주장하였다. ③ 수정 자본주의는 정부가 적극 개입하여 시장 실패를 해결할 수 있다고 보았다. ④ 자유 방임주의의 한계를 비판한 것은 수정 자본주의이다.

### 364 경제 체제의 특징 비교

답·②

**바른 풀이** A는 시장경제 체제이고, B는 계획경제 체제이다. ㄱ. 시장경제 체제에서는 사익 추구하고 경제활동의 자유가 보장된다. ㄴ. 시장경제 체제에서 경제 문제를 해결하는 기준은 시장 가격이다.

**오답 체크** ㄴ. 주요 생산 수단의 소유 관계에서 시장경제 체제는 사유화, 계획경제 체제는 국유화를 중시한다. ㄷ. 계획경제 체제는 정부의 계획과 통제로 경제 문제를 해결한다. 전통과 관습을 중시하는 것은 전통 경제 체제로서, 시장경제나 계획경제로 이행하지 못한 사회의 경제 운용 방식이다.

다음은 경제 퀴즈의 채점 결과이다. 이에 대한 옳은 설명만을 <보기>에서 고른 것은?

A, B에 대한 설명이 옳으면 '예', 틀리면 '아니요'를 쓰시오. (문항당 1점, A와 B는 시장경제 체제와 계획경제 체제 중 하나임.)

퀴즈	답안
1. A에서는 개인의 재산을 자유롭게 획득하고 사용할 수 있는 사유 재산권이 법적으로 보장된다.	예 1점
2. _____ (가)	아니요
3. A에서는 가격의 자동 조절 기능에 의해 극단적으로 소외되거나 극단적으로 편중된 부를 누리는 것을 조절할 수 있다. <small>가격 기능에 맡길 경우 빈부격차가 확대될 수 있다.</small>	㉠
4. B에서는 경제 문제 해결에 있어서 효율성보다 형평성을 강조한다. <small>계획경제 체제</small>	예 1점
<b>점수 합계</b>	<b>3점</b>

**보기**

- ✗ ㉠이 '예'라면 (가)에는 옳은 설명이 들어간다.
- ㉠이 '예'라면 3번 퀴즈에서는 점수를 얻지 못하므로 (가)에는 틀린 진술이 들어가야 한다.
- ✗ ㉠이 틀린 답이라면 (가)에는 'A에서는 생산 수단을 공유한다.'가 들어갈 수 없다.
- ㉠이 틀린 답일 경우 (가)에는 '아니오'라는 답변이 나오도록 질문을 구성해야 한다.
- ㉡ A는 B와 달리 사유 재산권의 보장을 중시한다.
- ㉢ B는 경제 문제의 해결을 위한 정부의 개입을 강조한다.

- ① ㄱ, ㄴ                      ② ㄱ, ㄷ                      ③ ㄴ, ㄷ
- ④ ㄴ, ㄹ                      ⑤ ㄷ, ㄹ

**등급 문제 풀이 방법**

**STEP 1** 합계 점수가 3점이 되기 위한 조건을 파악한다.

1번과 4번의 답이 모두 틀린 것이면 점수 합계가 3점이 될 수 없으므로, 최소한 둘 중 하나는 맞는 답임을 알 수 있다.

**STEP 2** 주어진 정보를 토대로 A와 B가 어떤 경제 체제인지 유추한다.

- A: 첫 번째 퀴즈의 '사유 재산권이 보장된다.'는 부분에서 시장경제 체제를 알 수 있다.
- B: 네 번째 퀴즈의 '경제 문제 해결에 있어서 형평성을 강조한다.'는 부분에서 계획경제 체제를 알 수 있다.

**STEP 3** 보기 ㄱ~ㄹ을 분석하여 옳고 그름을 판별한다.

**바른 풀이** A는 시장경제 체제이고, B는 계획경제 체제이다. ㄷ, 시장경제 체제는 계획 경제 체제와 달리 사유 재산권을 보장한다. ㄹ, 계획경제 체제는 정부의 개입으로 경제 문제를 해결한다.

**오답 체크** ㄱ, 3번은 틀린 진술이므로 ㉠이 '예'라면 점수를 얻지 못한다. 따라서 (가)에는 틀린 설명이 들어가야 점수를 획득할 수 있다. ㄴ, ㉠에 틀린 답을 적은 경우, (가)는 '아니오'라는 답변이 나오도록 질문을 구성해야 한다. 따라서 시장경제 체제에 대하여 계획경제 체제의 특징을 설명한 내용인 'A에서는 생산 수단을 공유한다.'는 서술이 들어갈 수 없다.

**8 합리적 선택과 경제 주체의 역할**

**핵심개념 확인 문제**

85쪽

- 366 ×      367 ○      368 ○      369 ×      370 기회비용
- 371 시장 실패      372 공공재      373 외부 경제
- 374 ㄱ      375 ㄷ      376 ㄹ      377 ㄴ
- 378 외부 불경제      379 비배제성
- 380 기업가 정신      381 윤리적 소비

**기출로 기본 다지기**

86~87쪽

- 382 ②      383 ⑤      384 ④      385 ④      386 ⑤
- 387 ③      388 ②      389 ③, ④      390 ④      391 ④

**382 합리적 선택의 의미**

답·②

**바른 풀이** A는 편익, B는 명시적 비용, C는 암묵적 비용이다. ㄱ, 기회비용은 명시적 비용과 암묵적 비용을 합한 것이다. ㄷ, 대안을 선택할 때 회계적으로 지출하는 비용을 명시적 비용이라고 한다.

**오답 체크** ㄴ, 이미 지불하여 회수할 수 없는 비용은 매몰 비용이다. ㄹ, 합리적 선택은 기회비용보다 편익이 큰 선택이다.

**383 합리적 선택의 의미**

답·⑤

**바른 풀이** ⑤ 갑이 여행을 포기하고 아르바이트를 할 경우 이미 지불하여 회수할 수 없는 매몰 비용은 25만 원이므로, 여행의 편익이 75만 원 이상이어야 여행 선택이 합리적이다. 여행의 편익이 50만 원이면 순편익이 -25만 원이므로 아르바이트를 선택하는 것이 합리적이다.

**오답 체크** ① 어떤 활동을 통해 순편익을 극대화할지 고민하는 것은 경제 문제에 해당한다. ② 여행을 위해 지출하는 비용은 명시적 비용에 해당한다. ③ 이미 지불한 여행 상품 예매 비용은 매몰 비용이다. ④ 아르바이트를 통해 버는 수입은 비용이 아니라 편익이다.

**384 합리적 선택을 위한 의사 결정**

답·④

**바른 풀이** 갑이 선택할 수 있는 대안은 패스트푸드점에서 일하기, 신문 배달하기, 기말고사 공부하기이다. 이 중에서 기말고사 공부를 선택하는 것은 기회비용이 발생하는데, 포기한 대안 중 가장 가치가 높은 신문 배달의 수입(70,000원)이 기회비용에 해당한다.

**오답 체크** ⑤ 기회비용은 포기한 대안 중 가장 가치가 큰 것이다. 즉 포기한 두 대안의 가치 합인 100,000원이 기회비용이 될 수는 없다.

**385 합리적 선택을 위한 의사 결정**

답·④

**바른 풀이** A~C 중에 순편익(편익-기회비용)이 가장 큰 대안은 B이다. A와 C 선택의 암묵적 비용은 60만 원, B 선택의 암묵적 비용은 30만 원이다. B 선택의 편익은 260만 원, 기회비용은 230만 원(명시적 비용 200만 원, 암묵적 비용 30만 원)이다. 따라서 B 선택의 순편익은 30만 원으로 B를 선택하는 것이 합리적이다.

**오답 체크** ㄴ, 암묵적 비용은 B가 30만 원으로 가장 작다.

**386 합리적 선택을 위한 의사 결정**

답·⑤

**바른 풀이** (가)는 암묵적 비용이며, 암묵적 비용은 다른 선택의 '편익-명시적 비용'이다. A재의 암묵적 비용은 320만 원이므로 ㉠은 200만 원(520-㉠=320)이다. A재 선택의 순편익은 -40만 원, B재 선택의 순편익은 40만 원이다. 따라서 B재를 선택하는 것이 합리적이다.

**오답 체크** ㄱ, ㉠은 200이다. ㄴ, (가)는 암묵적 비용이다.

### 387 시장 실패의 유형

답·㉓

- 바른 풀이** ㉑은 '비배제성', ㉒은 '비경합성', ㉓은 '무임승차자 문제'이다.  
**오답 체크** ㉒. 공공재 부족 문제는 정부 실패가 아니라 시장 실패에 해당한다.

#### 개념 더하기 시장 실패의 유형

독과점 문제	시장에 하나 또는 소수의 공급자가 존재하는 상태 → 생산량을 줄이거나 담합을 통해 가격 인상
외부 효과	<ul style="list-style-type: none"> <li>• 긍정적 외부 효과: 제3자에게 이익을 주지만 대가를 받지 못함. → 사회적 최적 수준보다 과소 생산·소비됨.</li> <li>• 부정적 외부 효과: 제3자에게 피해가 발생했음에도 대가를 지불하지 않음. → 사회적 최적 수준보다 과다 생산·소비됨.</li> </ul>
공공재 부족	공공재의 특성(비경합성, 비배제성)으로 인해 기업의 생산 동기 부족 → 공공재가 충분히 공급되지 못함.

### 388 합리적 선택의 한계

답·㉒

**바른 풀이** 두 사례는 정보의 비대칭성으로 인한 시장 실패를 극복하려는 방안이다. 중고차 무상 수리 보장, 음식점의 식자재 원산지 표시는 소비자들의 정보 부족으로 발생하는 비효율을 해결하기 위한 조치이다.

### 389 시장 참여자의 역할

답·㉓, ㉔

**바른 풀이** A는 기업, B는 정부이다. ㉑, ㉒ 기술 개발과 경영 혁신을 통한 고용 창출, 기업이 정신 발현은 기업의 활동에 해당한다. ㉓, ㉔ 누진세 적용, 불공정 거래 기업 제재는 정부의 역할에 해당한다.  
**오답 체크** ㉑ 노동자의 역할과 책임에 해당한다. ㉔ 정부는 경기 부양을 위해 재정 확대(세율 인하, 세출 증대) 정책을 실시할 수 있다.

### 390 시장 참여자의 역할

답·㉔

**바른 풀이** 공정 거래 위원회는 '독점규제 및 공정거래에 관한 법률'에 따라 설치된 기관으로서, 자유로운 경쟁 질서를 조성하기 위해 불공정 거래 행위를 규제하고 있다. 소비자에게 불리한 약관이나 허위·과장 광고를 적발하여 시정 조치하는 것은 공정 거래 위원회의 역할에 해당한다.  
**오답 체크** ㉒. 경쟁 기반을 확보하는 것은 공정 거래 위원회의 역할로 볼 수 있지만, 경제력 집중 강화는 그렇지 않다.

### 391 시장 참여자의 역할

답·㉔

**바른 풀이** 제시문은 기업이 정신을 설명하고 있다. 기업이 정신은 사회 전체의 후생 증대, 혁신에 의한 막대한 이윤 발생 등을 기대할 수 있게 한다.  
**오답 체크** ㉒. 기업이 정신이 생산성과 경제 활력을 저하한다고 단정하기 어렵다.

#### 개념 더하기 기업가 정신

기업가 정신은 불확실한 환경 속에서 위험을 감수하고, 기회를 포착하여 혁신적인 방식으로 새로운 가치를 창조하려는 주도적인 모험과 도전 정신을 의미한다. 스펀터는 이를 '창조적 파괴'로 정의하며 자본주의 발전의 원동력으로 보았다.

#### 〈 핵심 구성 요소 〉

- 혁신성 (Innovation): 새로운 기술, 생산 방식, 시장 개척
- 위험 감수성 (Risk-taking): 실패 가능성을 감수하고 도전
- 진취성/주도성 (Proactiveness): 기회를 탐색하고 행동에 옮기는 태도
- 가치 창조: 경제적, 사회적 가치 창출

### 기출로 실력 높이기

88~91쪽

- 392 ④      393 ②      394 ⑤      395 ②      396 ⑤  
 397 ①      398 ③      399 ②      400 ⑥, ⑦      401 ②  
 402 ④      403 ④

#### 서답형

- 404 (1) 떡볶이: 4,500, 500, 5,000 / 순대: 4,000, 1,500, 5,500  
 (2) 1,000, -1,000, 떡볶이  
 405 (1) 공공재      (2) 모범 답안 참조  
 406 (1) 모범 답안 참조      (2) 외부 효과  
 407 (1) 모범 답안 참조      (2) 단체 교섭권

### 392 합리적 선택의 의미

답·㉔

**바른 풀이** 정수가 열차 대신 비행기를 선택한 것, 영희가 청바지를 2주 후가 아닌 지금 구매한 것은 편익과 비용에 대한 금전적 계산 외에도 시간의 경제적 가치를 고려하였기 때문이다.  
**오답 체크** ① 명시적 비용이 적더라도 합리적인 선택이 아닐 수 있다. ② 비합리적 선택에 대한 것이다. ③ 합리적 선택을 위한 진술로 볼 수 있으나, 사례와는 거리가 멀다. ⑤ 사례와 거리가 먼 진술이다.

### 393 합리적 선택을 위한 의사 결정

답·㉒

**바른 풀이** 아이스크림의 편익은 2,500원, 기회비용은 2,300원(명시적 비용 2,000원, 암묵적 비용 300원)이다. 아이스크림 선택의 순편익은 200원이며, 나머지 간식은 모두 편익보다 기회비용이 크다. 따라서 아이스크림 선택이 합리적이다. ㄱ. 빵과 음료수의 암묵적 비용은 500원(아이스크림의 편익-가격)이다. ㄴ. 순편익이 0보다 큰(편익보다 기회비용이 작음) 대안은 아이스크림이다.  
**오답 체크** ㄴ. 음료수의 기회비용은 2,000원(1,500원+500원), 아이스크림의 기회비용은 2,300원(2,000원+300원)이다. ㄷ. 순편익이 가장 큰 대안은 아이스크림이다.

### 394 합리적 선택을 위한 의사 결정

답·㉓

**바른 풀이** ㄴ. 갑은 친구에게 공짜 영화표를 받았으므로 영화를 선택하는데 드는 명시적 비용은 없으나, 암묵적 비용은 아르바이트를 했으면 벌었을 30,000원이다. ㄷ. 영화 관람의 기회비용이 30,000원이므로 편익이 그 이상이어야 영화 관람을 선택하는 것이 합리적이다.  
**오답 체크** ㄱ. 영화 관람의 기회비용은 30,000원이다. ㄴ. 영화 관람의 명시적 비용은 없다.

### 395 합리적 선택을 위한 의사 결정

답·㉒

**바른 풀이** ○○ 씨가 이직을 선택하면 순편익이 -50만 원(550만 원-600만 원)이고, 창업을 선택하면 순편익이 50만 원(1,000만 원-400만 원-550만 원)이다. ㄱ. 이직보다 카페 창업의 순편익이 높으므로 카페 창업을 선택하는 것이 합리적이다. ㄷ. 카페 창업의 명시적 비용은 임대료, 인건비 등으로 지출되는 400만 원이다.  
**오답 체크** ㄴ. 이직을 선택할 때의 암묵적 비용은 카페 창업에 따른 편익과 비용의 차액인 600만 원이다. ㄴ. 이직 선택의 순편익은 음(-)의 값을 갖는다.

### 396 시장 실패의 유형

답·㉓

**바른 풀이** (가)는 독과점, (나)는 공공재의 생산 사례이다. ㄱ. 독과점 시장에서는 자원의 비효율적인 배분과 소비자의 비용 부담 증가라는 문제가 발생한다. ㄴ. 공공재는 무임승차자 문제가 발생할 수 있다. ㄷ. 공공재의 특성인 비경합성, 비배제성 때문에 시장에 생산을 맡길 경우 공급이 충분하지 않을 수 있다.

**오답 체크** 나. 정부가 독과점 문제를 해결하려고 물품 공급을 독점하는 것은 바람직하지 않다. 정부의 역할은 독과점으로 발생하는 담합과 불공정 거래를 규제하는 등 시장이 원활하게 작동하도록 제도적 기반을 마련하는 데 있다.

**397 외부 효과** 답·①

**바른 풀이** (가)는 외부 불경제, (나)는 외부 경제의 사례이다.

**오답 체크** ② (나)는 외부 경제의 발생을 늘리기 위한 정부의 정책이다. ③ (나)는 사회적으로 필요한 양보다 적게 생산되는 문제를 가져온다. ④ 양봉업자와 과수원 주인 간의 관계는 (나)와 같은 사례이다. ⑤ 자원의 효율적 배분을 위한 정부의 노력이 필요함을 알 수 있는 사례이다.

**398 공유지의 비극** 답·③

**바른 풀이** 제시된 사례는 공유지(목초지)의 비극을 설명한다. 이는 사익만을 추구하다 보면 사회 전체의 이익을 해칠 수 있다는 점을 경고한다.

**오답 체크** ①, ②, ④, ⑤ 제시문과 거리가 먼 진술이다.

**399 정보 비대칭성** 답·②

**바른 풀이** 제시된 사례는 정보 비대칭성으로 인해 발생하는 도덕적 해이(moral hazard)와 관련이 있다. 기업은 편익과 비용을 계산하여 합리적으로 선택하였으나, 이로 인해 자동차 결함이 방치되고 차량 사고 피해자가 발생하는 문제가 나타났다. **ㄷ**, 도덕적 해이는 개인적으로는 합리적인 수 있는 행동이 사회적으로 바람직하지 못한 결과를 초래함을 보여 준다.

**오답 체크** **ㄱ**, 합리적 선택을 위해서는 편익과 기회비용을 모두 고려해야 한다. **ㄴ**, 사회 전체적으로 합리적인 선택과 개인의 합리성이 상충하는 경우가 발생할 수 있다.

**400 시장 참여자의 역할** 답·⑥, ⑦

**바른 풀이** ①, ②, ③, ④, ⑤ 모두 올바른 설명이다.

**오답 체크** ⑥ (가)는 모방 소비로 비합리적 소비라는 평가를 받을 수 있으나, (나)는 윤리적 가치를 중시하는 소비로 비합리적이라고 평가하기 어렵다. ⑦ (가)는 모방 소비에 따른 실제 편익이 기대에 못 미쳤음을 보여 준다.

**401 시장 참여자의 역할** 답·②

**바른 풀이** (가)는 공공재에 해당하는 도서관을 정부가 신설한 사례이고, (나)는 정부에 의해 석유 시장에 공정한 경쟁 질서가 조성되는 사례이다. **ㄱ**, 공공 도서관은 정부에 의해 공급되는 공공재에 해당한다. **ㄷ**, 공정 거래 위원회의 과징금 부과는 공정한 경쟁 질서 조성을 위한 것이다.

**오답 체크** **ㄴ**, (가)와 무관한 진술이다. **ㄹ**, 외부 효과 개선 사례로 볼 수 없다.

**개념 더하기** 외부 효과 개선을 위한 정부의 노력

긍정적 외부 효과	<ul style="list-style-type: none"> <li>·세금 감면, 보조금 지급 등으로 생산 및 소비 촉진</li> <li>·개선 사례: 기업의 연구 개발비 지원, 정화 시설의 설치비 보조 등</li> </ul>
부정적 외부 효과	<ul style="list-style-type: none"> <li>·세금 또는 벌금 부과 등으로 생산 및 소비 억제</li> <li>·개선 사례: 환경 개선 부담금 제도, 탄소 배출권 거래제 등</li> </ul>

**402 시장 참여자의 역할** 답·④

**바른 풀이** 제시된 사례는 소비자의 안전과 생명을 보호하기 위해 기업의 사회적 책임을 이행한 것을 보여 준다. ④ 기업이 리콜을 과감히 단행하는 것은 소비자들에게 피해를 주지 않기 위한 노력으로서 사회적 책임을 이행하는 것으로 평가할 수 있다.

**오답 체크** ①, ②, ③, ⑤ 제시문과 무관한 진술이다.

**403 시장 참여자의 역할** 답·④

**바른 풀이** <진술 1>에 대한 옳은 답은 '예', <진술 2>에 대한 옳은 답은 '아니요', <진술 3>에 대한 옳은 답은 '아니요', <진술 4>에 대한 옳은 답은 '예', <진술 5>에 대한 옳은 답은 '예'이다. 따라서 학생이 획득한 점수는 4점이다.

**오답 체크** <진술 2>에서 노동자가 파업 등의 방법으로 사용자에게 대항할 수 있는 권리는 단체 행동권이다.

**404 합리적 선택을 위한 의사 결정**

**모범 답안** (1) 떡볶이: 명시적 비용 (4,500)원 + 암묵적 비용 (500)원 = 기회비용 (5,000)원 / 순대: 명시적 비용 (4,000)원 + 암묵적 비용 (1,500)원 = 기회비용 (5,500)원

(2) **모범 답안** 떡볶이 1점시를 선택할 때의 순편익은 (1,000원), 순대 1점시를 선택할 때의 순편익은 (-1,000원)이다. 따라서 순편익이 큰 (떡볶이) 1점시를 선택하는 것이 합리적이다.

채점 기준	수준
떡볶이, 순대 선택의 기회비용을 올바르게 구하고, 두 대안 가운데 합리적인 선택을 적절하게 서술한 경우	상
떡볶이, 순대 선택의 기회비용을 올바르게 구했으나, 두 대안 가운데 합리적인 선택을 서술하지 못한 경우	중
떡볶이, 순대 선택의 기회비용을 구하지 못했고, 두 대안 가운데 합리적인 선택을 서술하지 못한 경우	하

**405 시장 실패**

(1) 공공재

(2) **KEY WORD** 비배제성, 비경합성, 무임승차자

**모범 답안** 공공재는 비배제성, 비경합성을 특징으로 하기에 비용을 지불하지 않는 사람의 소비를 막지 못한다. 이처럼 무임승차자 발생으로 기업은 공공재 생산을 통해 수익을 기대하지 못하므로 시장에서 필요한만큼 충분히 공급되지 못한다.

채점 기준	수준
자료의 주요 개념을 옳게 쓰고, 공공재 부족이 발생하는 이유를 적절하게 서술한 경우	상
자료의 주요 개념을 옳지 않게 쓰고, 공공재 부족이 발생하는 이유를 적절하게 서술한 경우	중
자료의 주요 개념을 옳게 쓰고, 공공재 부족이 발생하는 이유를 적절하지 않게 서술한 경우	하

**406 시장 참여자의 역할**

(1) **모범 답안** 불공정 거래 행위를 규제하고 부당한 공동 행위 등 독과점 기업의 횡포를 규제한다.

(2) 외부 효과

**407 노동자의 권리**

(1) **모범 답안** 사용자 측과 집단으로 근로 조건을 협의하기 위해 노동조합을 결성하고 활동할 수 있는 권리이다.

(2) 단체 교섭권

- 408 ②      409 ②      410 ④      411 ②      412 ⑤  
413 ③      414 ⑤      415 ②

**408 합리적 선택의 의미**

답·②

**바른 풀이** 갑은 화폐 단위로 환산할 수 있는 편익과 비용을 고려하여 합리적 선택을 내려야 함을 주장한다. 을은 비화폐적 요소인 시간, 윤리적 가치도 고려해야 함을 주장한다. ② 갑의 주장에 따르면 순편익이 큰 대안을 선택하는 것이 합리적이지만, 비화폐적 요소까지 고려해야 한다고 생각하는 을은 순편익이 작더라도 시간이나 윤리적 가치를 고려하여 선택할 수 있다고 본다.

**오답 체크** ① 갑의 주장에 따르면 편익이 같은 대안 중에서 기회비용이 적은 것을 선택하는 것이 합리적이다. ③ 갑, 을 모두 매물 비용을 고려해야 한다고 주장하지 않았다. ④ 을도 갑과 같이 비용 - 편익 분석이 필요하다고 보면서도 비화폐적 가치를 고려해야 한다고 본다. ⑤ 편익이 동일할 때는 암묵적 비용과 명시적 비용을 합한 기회비용이 작은 대안을 선택하는 것이 합리적이다.

**409 합리적 선택을 위한 의사 결정**

답·②

**바른 풀이** ㄱ. 커피 선택에 따른 기회비용이 8,500원이므로, 커피 선택의 암묵적 비용은 주스의 (편익-가격)인 2,500원이다. 따라서 주스의 편익인 ①은 7,500원이다. ㄴ. 순편익은 편익-기회비용이므로, 커피 선택의 순편익은 500원, 주스 선택의 순편익은 -500원이다.

**오답 체크** ㄴ, ㄷ. 주스 선택의 기회비용은 명시적 비용인 가격 5,000원과 암묵적 비용(커피의 편익-가격) 3,000원의 합인 8,000원이다. 따라서 주스 선택의 명시적 비용은 암묵적 비용보다 2,000원이 많다.

**410 합리적 선택을 위한 의사 결정**

답·④

**바른 풀이** (가)에서 갑은 이미 지불한 입장료(매물 비용)에 연연하다 비합리적인 선택을 하게 되었고, 을은 매물 비용에 대한 고려 없이 다른 대안을 선택함으로써 순편익이 증대되는 결과를 얻었다. (나)에서 병은 커피 전문점을 운영하며 벌어들이는 수입이 월 500만 원이고, 지출이 월 350만 원이라 직원으로 일하던 시절보다 순수입이 줄어들었다. 그러나 현재의 생활에 만족한 것은 화폐 단위로 환산할 수 없는 다른 가치를 고려하기 때문이다. ④ 병이 커피 전문점에서 월급을 받는 직원으로 일하면 매달 200만 원을 벌지만, 커피 전문점을 직접 운영하면 150만 원을 벌어들인다. 즉 병은 기회비용이 더 큰 대안을 선택한 것이다.

**오답 체크** ① 두 사람이 경기장 입장료를 지불한 것은 비용보다 편익이 클 것으로 기대했기 때문이다. ② 매물 비용(입장료)을 기회비용으로 인식한 것은 갑이다. ③ 두 사람의 순편익이 감소하였을 것으로 단정하기 어렵다. ⑤ 병의 선택은 화폐 단위로 분석할 때는 비합리적이거나, 비화폐적 가치를 고려하면 합리적이라고 판단할 수 있다.

**411 합리적 선택을 위한 의사 결정**

답·②

**바른 풀이** ① A사가 제품 개발 과정에서 이미 지출한 500만 달러(㉠)는 회수가 불가능한 매물 비용이다. ③ A사가 신제품 개발을 중단하고 다른 회사의 기술 이전을 선택할 때의 암묵적 비용은 제품 개발을 완료했을 때의 편익(㉡, 400만 달러)에서 추가로 지출해야 할 비용(㉢, 200만 달러)을 뺀 값이다. ④ 신제품 개발을 완료했을 때의 편익은 예상 수익인 400만 달러(㉡)이다. ⑤ 합리적 선택은 순편익이 큰 대안을 선택하는 것이다. ㉡에 따른 편익은 400만 달러이고, ㉢에 따른 편익은 300만 달러이다. 즉 편익은 신제품을 개발 완료했을 때가 크다. 하지만 신제품 개발 완료에 따른 순편익은 -100만 달러(400만 달러 - 200만 달러 - 300만 달러)이나, 기술을 다른 회사로 이전할 때의 순편익은 100만 달러(300만 달러 - 200만 달러)이다.

**오답 체크** ② 신제품 개발 원료를 선택하려 할 때 추가 지출 비용(㉢, 200만 달러)은 명시적 비용으로 기회비용에 해당한다. 예상 수익(㉡, 400만 달러)은 순편익이 아니라 편익이다. 순편익은 편익에서 기회비용을 뺀 값이다.

**412 합리적 선택과 합리적 선택의 한계**

답·⑤

다음 자료에 대한 분석 및 추론으로 옳은 것은?

갑은 편익과 비용만을 고려하여 A 상품 구입 여부를 결정한다. A 상품을 구입하기 위해 갑은 대중교통을 이용해 이동해야 하며, A 상품을 구매하는 데 소요되는 시간 동안에는 아르바이트를 할 수 없어 임금을 받지 못한다. 이는 갑의 A 상품 구입에 영향을 미치는 모든 요인을 금액으로 나타낸 것이다.

요인	금액
A 상품 구입에 따른 편익	(가)
A 상품의 가격 → 명시적 비용	3만 원
대중교통 이용료 → 명시적 비용	1만 원
지급받지 못하는 임금 → 암묵적 비용	2만 원

갑이 구입하고자 하는 A 상품은 소비자들 이 소비할 때마다 다른 사람에게 일정액의 피해를 발생시키는 상품이다. 그런데 ① 해당 피해액은 소비자들의 A 상품 구입에 따른 편익과 비용에 영향을 미치지 않는다. 이로 인해 ㉠ A 상품은 사회적으로 적절한 수준보다 과다 거래된다.

- ① 갑의 A 상품 구입에 따른 명시적 비용과 암묵적 비용은 같다. 기회비용보다 편익이 커야 상품 구입이 합리적이다.
- ② (가)가 '5만 원'이면, 갑은 A 상품을 구입한다. 상품 구입이 합리적이다.
- ③ 갑이 A 상품을 구입할 때 ①은 매물 비용이다.
- ④ ㉠은 개별 소비자들의 A 상품에 대한 윤리적 소비로 인해 발생한 현상이다.
- ⑤ ㉠을 해결하기 위한 정부의 대책으로 A 상품 소비자에 대한 세금 부과를 들 수 있다.

**1등급 문제 풀이 방법**

**STEP 1 A 상품 구입의 기회비용을 계산한다.**

명시적 비용(A 상품의 가격, 대중교통 이용료)이 4만 원, 암묵적 비용(지급받지 못하는 임금)이 2만 원이므로 기회비용은 6만 원이다.

**STEP 2 편익과 기회비용을 비교하여 A 상품 구입이 합리적인지를 판단한다.**

- 편익이 기회비용보다 클 때: 기회비용인 6만 원보다 편익이 크다면 A 상품 구입이 합리적이다.
- 편익이 기회비용보다 작을 때: 기회비용인 6만 원보다 편익이 작다면 A 상품 구입이 비합리적이다.

**STEP 3 답지의 내용을 하나씩 분석하여 진위 여부를 파악한다.**

①과 ②는 자료를 잘못 분석하여 진술하였고, ③과 ④는 제시된 상황과 맞지 않게 진술하였다.

**바른 풀이** A 상품은 소비자들 이 소비할 때마다 다른 사람에게 일정액의 피해를 발생시킨다. 그러나 해당 피해액은 소비자들의 A 상품 구입에 따른 편익과 비용에 영향을 미치지 않으므로 A 상품 소비는 시장에서 부정적 외부 효과를 발생시킨다. 이 때문에 A 상품은 시장에서 사회적으로 적정

한 수준보다 과다 거래되고 있다. A 상품 소비자에 대한 세금 부과는 A 상품의 과다 거래를 해결하기 위한 정부의 대책 중 하나이다.

**오답 체크** ① 갑의 A 상품 구입에 영향을 미치는 요인 중 A 상품의 가격 3만 원과 대중교통 이용료 1만 원은 명시적 비용이고, 지급받지 못하는 임금 2만 원은 암묵적 비용이다. ② (가)가 '5만 원'이면, 갑의 A 상품 구입에 따른 순편익은 음(-)의 값이므로 갑은 A 상품을 구입하지 않는다. ③ 매물 비용은 어떤 선택을 함에 따라 지출한 비용 중 회수할 수 없는 비용이다. ④ A 상품의 소비는 다른 사람에게 피해를 주는 행위이므로 윤리적 소비와 거리가 있다.

### 413 시장 실패 답·③

**바른 풀이** (가)는 긍정적 외부 효과, (나)는 부정적 외부 효과이다. ③ 긍정적 외부 효과와 달리 부정적 외부 효과는 사회적 최적 수준보다 과다 생산되는 시장 실패 사례이다.

**오답 체크** ① 공공재 부족이 아니라 긍정적 외부 효과에 해당하는 사례이다. ② 부정적 외부 효과는 개인이 얻는 이익이 크지만 그 비용 부담이 사회로 전가되는 현상이다. ④ 두 사례 모두 시장 실패에 해당한다. ⑤ 긍정적 외부 효과는 제삼자에게 의도하지 않은 이익을, 부정적 외부 효과는 제삼자에게 의도하지 않은 피해를 주는 현상이다.

### 414 시장 실패 답·⑤

**바른 풀이** (가)는 공유 자원의 남용으로 인한 고갈, (나)는 공급자에 비해 정보가 부족한 소비자의 비효율적 선택을 보여 준다. 즉 전자는 공유지의 비극, 후자는 정보 비대칭성 문제에 해당한다.

**오답 체크** ① 공유 자원은 비배제성과 경합성을 특징으로 하기에 남용으로 인한 고갈 문제가 발생한다. ② 독과점 시장이 아닌 상태에서도 정보 비대칭성 문제가 발생할 수 있다. ③ 두 사례 모두 시장 실패로 인한 비효율을 보여 준다. ④ 사회적 최적 수준보다 과다 생산되는 문제는 외부 불경제와 관련되는데, 제시된 사례들과는 무관하다.

### 415 시장 참여자의 역할 답·②

**바른 풀이** (가)는 부정적 외부 효과, (나)는 공공재 부족에 해당한다. 부정적 외부 효과는 조세 등의 방법으로 과다 생산의 문제를 해결해야 하고, 공공재는 정부가 직접 생산하는 방식으로 과소 생산의 문제를 해결해야 한다. ㄱ. 환경 개선 부담금은 부정적 외부 효과를 감소시킬 수 있는 유인에 해당한다.

**오답 체크** ㄴ. 보조금 지급은 긍정적 외부 효과를 진작시키기 위한 유인에 해당한다. ㄷ. 규제 철폐만으로 공공재 부족 문제가 해결되기는 어렵다.

## 09 자산 관리와 금융 생활

### 핵심개념 확인 문제 95쪽

- |              |              |                |
|--------------|--------------|----------------|
| 416 저축성      | 417 채권       | 418 유동성 또는 현금성 |
| 419 금융 생활 설계 | 420 높고, 낮은   |                |
| 421 예금, 주식   | 422 안전성, 수익성 |                |
| 423 하락, 증가   | 424 ㄷ        | 425 ㄴ          |
| 427 채권       | 428 주식       | 426 ㄹ          |
|              |              | 429 시세 차이      |

### 기출로 기본 다지기 96~97쪽

- |              |       |       |       |       |
|--------------|-------|-------|-------|-------|
| 430 ③        | 431 ④ | 432 ⑤ | 433 ④ | 434 ③ |
| 435 1,000만 원 | 436 ⑤ | 437 ⑤ | 438 ② |       |
| 439 ④        |       |       |       |       |

### 430 자산 관리의 원칙 답·③

**바른 풀이** ① A는 안전성, B는 수익성, C는 유동성이다. ② 주식은 일반적으로 예금에 비해 안전성이 낮다. ④ 채권은 일반적으로 예금에 비해 안전성이 낮지만(예금자 보호 제도 적용받지 않음), 수익성(채권 금리는 예금 이자율보다 높은 편임)이 높다. ⑤ 고위험·고수익을 추구하는 투자 성향은 안전성보다는 수익성을 우선시한다. ⑥ (가)에는 유동성에 대한 설명(보유하고 있는 자산을 현금으로 바꿀 수 있는 정도)이 들어가야 한다.

**오답 체크** ③ 예금은 일반적으로 다른 금융 자산에 비해 수익성이 낮지만 안전성과 유동성이 높다.

### 431 자산 관리의 원칙 답·④

**바른 풀이** 갑은 요구불 예금, 을은 정기 예금, 병은 주식, 정은 채권을 선호한다. 요구불 예금과 정기 예금은 예금자 보호 제도의 적용을 받는데, 유동성은 요구불 예금이 정기 예금보다 높고 수익성은 주식이 가장 높은 편이다. ㄱ. 인제는 필요할 때 돈을 바로 찾아 쓸 수 있는 특성은 유동성이다. ㄴ. 예금자 보호 제도의 적용을 받는 금융 상품은 안전성이 높다. ㄷ. 위험을 감소해야 하는 주식은 수익성이 높은 자산이다.

**오답 체크** ㄹ. 채권은 예금보다 안전성이 낮고 수익성이 높으며, 주식보다 수익성이 낮고 안전성이 높다.

### 432 금융 자산의 유형 답·⑤

**바른 풀이** ㉠은 예금자 보호 제도의 적용을 받는 금융 상품, ㉡은 이자가 지급되면서 원금 손실의 위험이 있는 금융 상품, ㉢은 이자 없이 배당금 수익이 발생하고 원금 손실의 위험이 있는 금융 상품이어야 한다. 이자가 지급되면서 예금자 보호 제도로 보호받는 금융 상품은 정기 예금이다. 채권은 이자가 지급되지만 예금자 보호 제도의 대상이 아니고, 주식은 이자가 아닌 배당금 수익이 발생한다.

### 433 금융 자산의 유형 답·④

**바른 풀이** 수익성은 낮지만 안전성이 높은 금융 상품은 적금과 정기 예금이다.

**오답 체크** ㄱ, ㄷ. 주식과 펀드는 수익성은 높지만 안전성이 낮다.

### 434 금융 자산의 유형 답·③

**바른 풀이** 기업의 주주임을 나타내는 증서는 주식이므로 A는 채권, B는 주식이다. ㄴ. 채권은 공공 기관 또는 민간 기업 등이 발행할 수 있다. ㄷ. 주식과 채권은 시세 차익을 기대할 수 있다.

**오답 체크** ㄱ. 주식과 채권은 안전성이 낮은 자산이다.

### 435 예금자 보호 제도

답·1,000만 원

**바른 풀이** 예금자 보호 제도의 적용을 받는 금융 자산은 요구불 예금과 정기 예금이다. 즉 두 예금 자산의 합산 금액은 1,000만 원이다. 채권은 이자 수익이 발생하지만 예금자 보호 제도의 적용을 받지 않는다.

### 436 생애 주기별 금융 생활 설계

답·⑤

**바른 풀이** A는 청년기, B는 장년기, C는 노년기이다. ⑤ 노년기에는 '소득(㉠) < 소비(㉡)'이므로 소득이 많은 (나) 시기에 충분한 자금을 확보해 두어야 한다.

**오답 체크** ① ㉠은 소득이다. 일반적으로 평생에 걸쳐 나타나는 것은 소비이다. ② ㉠보다 ㉡이 큰 시기에는 일반적으로 저축이 감소할 것이다. ③ C 시기가 경제적 정년이다. ④ 노인 일자리가 확대되면 C가 더 오른쪽으로 이동하므로 (다)는 작아질 것이다.

### 437 생애 주기별 금융 생활 설계

답·⑤

**바른 풀이** 생애 주기에 따라 소득은 일정한 수준으로 증가했다가 감소하고, 지출은 상당 기간 높은 수준으로 유지되는 것이 일반적이다. ⑤ 평생에 걸친 소득 수준을 감안하여 현재의 지출을 조절하는 것이 바람직하다.

**오답 체크** ① 소득은 장년기 즈음하여 가장 높아졌다가 그 이후에는 감소하는 것이 일반적이다. ② 노년기에 지출이 많아지는 경우도 있으나, 이를 이유로 위험을 감수하고 자산을 늘려야 하는 것은 아니다. 평생에 걸친 지출 규모를 예상하고 현재의 소득과 지출을 적절하게 관리할 필요가 있다. ③ 소득과 지출 모두 특정 시기까지 증가하다가 일정 시점을 지나서 감소하는 추이를 보이는 것이 일반적이다. ④ 수입 대비 지출의 비중이 증가하는 시기도 있고 감소하는 시기도 있다.

### 438 경제적 환경 변화와 금융 의사 결정

답·②

**바른 풀이** 그래프는 갑국의 물가가 지속적으로 상승하는 상황임을 보여 준다. 물가가 상승하면 화폐의 가치가 떨어지고, 동일한 금액으로 구매할 수 있는 상품의 양이 감소한다. 또한 연금 생활자는 불리해지며, 금융 자산보다는 실물 자산을 선호하는 경향이 나타난다.

**오답 체크** ② 돈을 빌린 사람은 빌렸던 시점의 화폐 가치보다 낮으므로 값기에 유리하고, 빌려준 사람은 빌려줄 당시의 화폐 가치보다 낮으므로 불리하다.

### 439 환경 변화와 금융 의사 결정

답·④

**바른 풀이** 개인의 금융 의사 결정에는 경제적, 사회적 환경 변화가 큰 영향을 준다. ④ 물가가 지속적으로 상승하는 상황에서는 금융 자산보다 실물 자산의 가치가 높아지므로 실물 자산에 투자하는 것이 적절하다.

**오답 체크** ① 기준 금리 인하시에는 일반 은행의 금리도 하락한다. 따라서 안전성이 높은 예금 상품보다는 수익성이 높은 금융 상품에 투자하는 것이 적절하다. ② 의료 기술의 발달로 기대 수명이 늘어나면 길어진 노년기에 대비한 연금 상품의 비중을 늘리는 것이 적절한 금융 의사 결정이다. ③ 전염병 확산으로 국경을 봉쇄하면 국가 간 이동이 어려워진다. 따라서 항공이나 여행 관련 기업의 주식을 구입하는 것은 부적절하다. ⑤ 전쟁은 경제 위기나 사회 혼란을 초래할 수 있으므로, 수익성보다는 안전성과 유동성을 고려한 의사 결정이 바람직하다.

기출로	실력	높이기	98~100점		
440 ④	441 ⑤	442 ④	443 ②	444 ③	
445 ⑤	446 ②, ⑦	447 ④	448 ③	449 ①	
서답형					
450 모범 답안 참조					
451 (1) 갑			(2) 모범 답안 참조		

### 440 자산 관리의 원칙

답·④

**바른 풀이** 그림에서 A와 B는 수익성이 높고 안전성이 낮다. C와 D는 수익성과 안전성이 모두 높고, E는 수익성과 안전성이 모두 낮다. F와 G는 수익성이 낮고 안전성이 높다.

**오답 체크** ① 예금은 수익성이 낮고 안전성이 높은 자산이므로 A보다 F에 가깝다. ② 채권은 안전성이 높다고 볼 수 없다. 따라서 G에 가깝다고 보기 어렵다. ③ 주식은 수익성이 높고 안전성이 낮은 자산이므로 E보다는 A에 가깝다. ⑤ 부동산은 유동성이 높은 자산이 아니다.

### 441 금융 자산의 유형

답·⑤

**바른 풀이** A는 채권, B는 주식, C는 요구불 예금이다. ① 채권은 채권-채무 관계를 발생시키는 자산이다. ② 주식은 시세 차이와 배당금 수익이 발생한다. ③ 주식은 요구불 예금보다 수익성이 높지만 안전성이 낮다. ④ 요구불 예금은 채권보다 안전성과 유동성이 높다.

**오답 체크** ⑤ ㉠과 ㉡은 모두 '예'이다.

### 442 금융 자산의 유형

답·④

**바른 풀이** 일반적으로 예금은 안전성이 높고 수익성이 낮은 금융 상품이고, 주식은 안전성이 낮고 수익성이 높은 금융 상품이다. 제시된 그래프에서 (가), (나)에 들어갈 기준에 따라 A 혹은 B에 해당하는 금융 상품이 달라진다. ①, ② 예금은 안전성이 높은 금융 상품이다. ③ 주식은 수익성이 높은 금융 상품이다. ⑤ 수익성이 높은 금융 상품은 주식인데, 주식은 매매 차이로 수익이 발생한다.

**오답 체크** ④ 이자 수익이 발생하는 금융 상품은 예금인데, 예금은 유동성이 높다.

### 443 금융 자산의 유형

답·②

**바른 풀이** 제시된 자료에서 갑은 을보다 안전성이 높은 자산에 투자 비중이 높다. ㄱ. 갑의 경우, 예금자 보호 제도의 적용을 받는 자산은 예금(3,000만원의 54%)이다. ㄴ. 갑의 투자 자산 중 예금이 절반을 넘고, 을의 투자 자산 중 주식, 펀드 등이 절반을 넘는 것을 볼 때 을보다 갑이 안전성을 더 중시하는 것으로 볼 수 있다.

**오답 체크** ㄴ. 을의 자산 중 이자가 발생하는 자산은 채권(17%)과 예금(8%)이고, 배당금이 발생하는 자산은 주식(41%)이다. 전자는 후자의 2배를 넘지 않는다. 한편, 펀드에서 지급하는 분배금도 일정 부분은 배당금의 성격을 갖는다. 이를 감안하더라도 해당 답지는 틀린 내용이다. ㄷ. 주식과 펀드 수익률이 계속 하락하면 을은 안전성이 높은 예금 비중을 늘리는 것이 바람직하다.

#### 개념 더하기 채권과 펀드의 수익 형태

채권은 주식과 달리 '배당금'이 아닌 '이자'를 통해 수익을 지급한다. 주식은 회사의 이익을 주주와 나누는 방식이지만, 채권은 자금을 빌려준 대가로 사전에 약속한 이자를 받는 구조이기 때문이다. 개별 채권이 아닌 채권형 ETF나 펀드에 투자하는 경우, 펀드 내에서 발생하는 채권 이자들을 모아 투자자에게 분배하는데 이때는 용어상 '배당금' 또는 '분배금'이라는 표현을 쓰기도 한다.

### 444 금융 자산의 유형

답·③

**바른 풀이** 안전성이 높고 수익성이 낮은 요구불 예금과 달리 주식과 펀드는 수익성이 높지만 안전성이 낮은 자산이다. ㄴ. 주식과 펀드는 원금 손실의 우려가 있다. ㄷ. 채권과 부동산은 시장에서 매매를 통해 현금화하므로 매도 시점의 시장 상황에 따라 손실이 발생할 수 있다.

**오답 체크** ㄱ. 정해진 기간 동안 일정 금액을 적립하여 만기에 원금과 이자를 받는 것은 요구불 예금이 아니라 정기 예금이다. ㄷ. 2026년에 주식과 펀드 투자 비중이 늘어난 것은 안전성보다 수익성을 더 중시한 것이다.

#### 445 금융 자산의 유형

답·⑤

**바른 풀이** ① 이자 수익을 기대할 수 있는 금융 상품은 국채(25%)와 예금(15+5=20%)이다. ② 시세 차익을 기대할 수 있는 금융 상품은 주식과 국채(55+25=80%)이다. ③ 주주로서의 지위를 부여하는 금융 상품은 주식이다. ④ 예금자 보호 제도의 적용을 받는 금융 상품은 예금으로 1,000만 원의 20%인 200만 원이다.

**오답 체크** ⑤ 주식과 국채 투자 비중이 높은 것을 볼 때, 갑의 투자 성향은 수익성을 중시한다.

#### 446 생애 주기별 금융 생활 설계

답·②, ⑦

**바른 풀이** 생애 주기 곡선에서 A 시점까지는 아동기~청소년기에 속하는 구간으로 소비가 소득보다 많으며, A~C 구간은 청장년기로 소득이 소비보다 많은 구간이다. C 시점부터는 노년기로 소비가 소득보다 많은 구간이다. ② 취업이 늦어지면 A 지점이 더 오른쪽으로 이동하므로 (나) 구간은 줄어들다. ⑦ B 시점에서 C 시점으로 갈수록 소득이 감소하고, 소비는 증가하므로 소득에서 차지하는 소비의 비중은 증가한다.

**오답 체크** ① (가), (다)는 부채, (나)는 저축이다. ③ 생애 기간 중 누적 저축액이 최대인 시기는 C이다. ④ A 시점과 B 시점 사이에서는 소득 증가율이 소비 증가율보다 높다. ⑤ 정년이 연장된다면 C 구간이 더 오른쪽으로 이동하므로 (나) 영역은 더 늘어나고, (다) 영역은 더 줄어든다. ⑥ 생애 기간 중 소득과 소비의 크기가 일치할 경우 (나)와 (가)+(다)는 같다.

#### 447 경제적 환경 변화와 금융 의사 결정

답·④

**바른 풀이** 금리가 하락하면 투자자는 예금을 줄이고 주식 등 수익성이 높은 금융 자산에 투자하려고 한다. 원/달러 환율이 상승하면 국내 화폐 가치가 하락하여 일반적으로 수출이 증가하고 수입은 감소한다. ① 기준 금리 인하로 시중 은행의 예금 및 대출 금리가 하락하면, 투자자는 낮은 금리로 대출을 받아 다른 금융 자산에 투자하려고 한다. ② 기준 금리 인하로 시중 은행의 예금 및 대출 금리가 하락하면, 일반적으로 투자자는 낮은 이자 수익 대신 위험성이 높은 금융 자산의 비중을 늘린다. ③ 원/달러 환율이 상승하면 원화 가치가 하락하여 우리나라의 미국에 대한 수출은 증가하고 수입은 감소한다. ⑤ 원/달러 환율이 하락하면 원화의 가치가 상승하여 우리나라로 여행을 오는 외국인은 불리해진다.

**오답 체크** ④ 원/달러 환율이 상승하면 원화 가치가 하락하여 미국에 자녀를 유학 보낸 학부모의 학비 부담이 증가해 불리해진다.

#### 448 환율 변동과 금융 의사 결정

답·③

**바른 풀이** 환율 상승은 원화 가치 하락, 환율 하락은 원화 가치 상승의 효과가 있다. 나. 환율이 하락하는 (나) 시기에는 원화의 가치가 높으므로 미국 여행을 가려는 사람들의 경비 부담은 감소한다. 다. 환율이 상승하는 (가) 시기에는 원화의 가치가 낮으므로 우리나라 채권에 투자하려는 미국 투자자의 부담은 감소한다.

**오답 체크** 가. (가) 시기는 환율이 상승하고 있으므로 원화의 가치는 그 이전보다 하락한다. 라. (나) 시기는 환율이 하락하는 상황이므로 미국 주식을 소유한 국내 투자자의 원화 환산 수익은 감소한다.

#### 449 경제적 환경 변화와 금융 의사 결정

답·①

**바른 풀이** 갑. 원/달러 환율이 상승할 때 미국 주식에 투자한 사람은 미국 주식 가격에 변동이 없더라도 미국 주식을 팔아 원화로 환산하면 이익을 볼 수 있다. 을. 금리가 하락하면 예금보다 주식과 같은 수익성이 높은 금융 자산에 대한 투자가 증가할 수 있다.

**오답 체크** 병. 물가가 오르면 화폐 가치가 하락하므로 실물 자산에 대한 투자가 증가한다. 정. 세계 경제가 급격하게 침체하면 수익성보다 안전성과 유동성이 높은 금융 자산에 대한 선호가 증가할 수 있다.

#### 450 자산 관리의 원칙

**KEY WORD** 안전성, 수익성

**모범 답안** 자산 구성에서 갑은 정기 예금의 비중이 가장 높는데, 이는 갑이 안전성을 우선 고려하고 있음을 보여 준다. 반면에 을은 주식의 비중이 가장 높는데, 이는 을이 수익성을 우선 고려하고 있음을 보여 준다.

채점 기준	수준
갑, 을이 각각 우선 고려하는 자산 관리의 원칙을 모두 적절하게 서술한 경우	상
갑, 을이 각각 우선 고려하는 자산 관리의 원칙을 한 가지만 적절하게 서술한 경우	중
갑, 을이 각각 우선 고려하는 자산 관리의 원칙을 모두 적절하지 않게 서술한 경우	하

#### 451 경제적 환경 변화와 금융 의사 결정

(1) 갑

(2) **모범 답안** 갑은 을과 달리 여러 금융 상품에 골고루 분산 투자를 하였기 때문이다.

#### 기출로 1등급 도전하기

101쪽

452 ⑤

453 ⑤

454 ④

455 ②

#### 452 자산 관리의 원칙

답·⑤

**바른 풀이** A는 요구불 예금, B는 주식이다. 수익성이 낮지만 안전성이 높은 금융 상품은 요구불 예금이다. ⑤ 안전성을 추구하는 사람은 요구불 예금을 선호한다.

**오답 체크** ① 요구불 예금은 만기 없이 언제든지 현금화할 수 있는 금융 상품이다. ② 채권-채무 관계를 발생시키는 금융 상품은 채권이다. ③ 요구불 예금은 시세 차익을 얻을 수 없다. ④ 언제든지 자산을 현금화해야 하는 사람은 유동성이 높은 요구불 예금을 선호한다.

#### 453 금융 자산의 유형

답·⑤

**바른 풀이** A는 정기 예금, B는 주식, C는 채권이다. ⑤ 정기 예금과 주식 선택의 기회비용은 100만 원(명시적 비용 0, 암묵적 비용 100만 원)으로 동일하다.

**오답 체크** ① 배당 수익을 기대할 수 있는 금융 상품은 주식이다. ② 예금자 보호 제도의 적용을 받는 금융 상품은 정기 예금이다. ③ 일반적으로 주식은 정기 예금보다 안전성이 낮다. ④ 채권 선택의 암묵적 비용은 90만 원(정기 예금의 편익)이다.

#### 454 금융 자산 관리

답·④

**바른 풀이** 갑은 요구불 예금과 채권에 투자했던 자산을 주식과 펀드로 전환하였다. 특히 주식의 투자 비중이 70%라는 점은 수익성을 우선적으로 고려하고 있음을 보여 준다. ④ 요구불 예금은 예금자 보호 제도의 적용을 받는다.

**오답 체크** ① 채권은 시세 차익을 기대할 수 있는 금융 상품이다. ② 주식과 펀드는 이자 수익을 기대할 수 없다. ③ 주식은 배당 수익을 기대할 수 있는 금융 상품이다. ⑤ 투자 전문가의 조언에 따른 포트폴리오 변화이므로, 해당 조언은 안전성보다 수익성을 강조하는 내용이었을 것이다.

다음 자료에 대한 분석 및 추론으로 옳은 것은?

A국 국민 갑은 자신의 자산 전부인 5,000달러를 금융 상품에 투자하고 있다. 표는 갑이 투자하고 있는 금융 상품별 투자액을 나타낸다.

금융 상품	투자액(달러)
A국 ○○ 은행의 정기 예금	전체 투자액 중 20% 1,000
A국 ◇◇ 기업 주식	전체 투자액 중 50% 2,500
B국이 발행한 채권	전체 투자액 중 30% 1,500

갑은 아래의 신문 기사에 나타난 경제 상황을 고려하여 자신이 보유하고 있는 금융 상품에 대한 투자 비중을 조정하는 금융 의사 결정을 하려고 한다.

**△△신문** 기준 금리 인상은 시중 은행의 예금 및 대출 금리 인상으로 이어진다.

A국 중앙은행이 기준 금리 인상을 결정하였다. B국에서 발생한 내전이 장기간 이어지면서 B국으로부터 수입하는 원자재 가격 급등으로 인하여 ㉠물가 상승세가 심화된 데 따른 조치로 해석된다. □□ 경제 연구소는 이번 금리 인상 결정이 시중 금리 인상으로 이어져 대출 부담이 증가할 수 있지만, A국 물가 안정에 도움이 될 것이라 전망했다.

예금 금리가 높아져 가계의 저축이 늘어나면 시중 통화량이 감소하여 물가 안정에 도움이 된다.

- ① 갑은 배당 수익을 기대할 수 있는 금융 상품에 가장 적은 금액을 투자하고 있다. 배당 수익: 주식
- ② 갑의 총투자액 중 시세 차익을 기대할 수 있는 금융 상품 투자액이 차지하는 비율은 80%이다. 시세 차익: 주식+채권
- ③ ㉠은 가계의 소비를 증가시키는 요인이다. 물가 상승은 가계의 소비 능력을 감소시킨다.
- ④ A국의 금리 변동은 갑의 ○○ 은행 정기 예금 비중의 감소 요인이다.
- ⑤ 금융 자산의 안전성만을 고려한다면, 갑은 B국이 발행한 채권에 대한 투자 비중을 늘리는 것이 합리적이다.

**1등급 문제 풀이 방법**

**STEP 1 투자 총액 대비 각 금융 상품의 투자 비중을 파악한다.**

각 금융 상품의 투자 비중을 계산하고 가장 비중이 높은 자산과 가장 비중이 낮은 자산이 무엇인지를 파악한다.

**STEP 2** **신문에 나온 내용을 토대로 A국과 B국의 경제 상황이 금융 상품 투자에 미칠 영향을 추론한 후 선지를 분석한다.**

- 금리 인상: 기준 금리 인상은 시중 금리를 올리는 요인이 된다.
- 내전: 전쟁과 같은 사회 혼란은 국가에 대한 신뢰를 하락시켜 국채의 가치를 떨어뜨리는 요인이 된다.
- 물가 상승: 과도한 물가 상승은 화폐의 구매력을 감소시키는데, 이는 가계의 소비 능력을 하락시키는 요인이다.

**바른 풀이** 주식과 채권은 시세 차익을 기대할 수 있는 금융 상품이다. ② 갑의 투자액 중 시세 차익을 기대할 수 있는 금융 상품(주식과 채권)의 비율은 80%(5,000달러 중 4,000달러)이다.

**오답 체크** ① 배당 수익을 기대할 수 있는 금융 상품은 주식이다. 주식의 투자 비중이 가장 높다. ③ 물가 상승은 가계 소비를 감소시키는 요인이다. ④ 기준 금리 인상은 시중 은행의 금리 인상으로 이어지는데, 이는 정기 예금의 증가 요인으로 작용한다. ⑤ B국에서 발생한 내전이 장기간 이어지는 상황에서 B국이 발행한 채권에 대한 투자 비중을 늘리는 것은 합리적인 선택으로 보기 어렵다.

**10 국제 분업과 무역**

**핵심개념 확인 문제**

103쪽

- 456 무역    457 비교    458 지속가능발전    459 공정 무역
- 460 ×    461 ○    462 ○    463 ×    464 ㄷ
- 465 ㄱ    466 ㄴ    467 작음    468 커지고    469 심화

**기출로 기본 다지기**

104~105쪽

- 470 ③    471 ③, ⑤    472 갑국: A재, 을국: B재
- 473 ⑤    474 ②    475 ⑤    476 ⑤    477 ⑤
- 478 ③    479 ①

**470 무역 발생의 원리**

답·③

**바른 풀이** 제시된 자료는 생산비가 상대적으로 적게 드는 제품의 생산에 특화하여 교역할 때 무역 이익이 발생하는 비교 우위 원리의 사례이다.

**오답 체크** ①, ②, ④, ⑤ 제시문과 직접적인 관련이 없는 개념이다.

**471 비교 우위**

답·③, ⑤

**바른 풀이** ③ 두 재화 모두 을국이 절대 우위를 갖지만, 갑국은 X재에, 을국은 Y재에 비교 우위가 있다. ⑤ 비교 우위 재화에 특화하여 교역하여 소비하는 것이 자체 생산하여 소비하는 것보다 더 많이 소비할 수 있다. 즉 비교 우위에 따라 교역하는 것이 합리적이다.

**오답 체크** ① 두 재화 모두 을국이 절대 우위를 갖는다. ② 제시된 자료는 생산에 필요한 노동자 수를 정리한 것이므로, 갑국의 X재 1개 생산의 기회비용은 Y재 5/8개이다. ④ 을국의 Y재 1개 생산의 기회비용은 X재 4/3개이다. ⑥, ⑦ 비교 우위 재화에 특화하여 양국이 교역하고 이익을 얻으려면, 각자 특화된 재화 생산의 기회비용보다 높은 거래 조건으로 상호 합의해야 한다. 즉 X재에 비교 우위를 가진 갑국은 자체 생산하여 소비할 때보다 특화 생산으로 교역할 때의 기회비용이 증가한다. 이는 Y재에 비교 우위를 가진 을국도 마찬가지이다.

**472 비교 우위**

답·갑국: A재, 을국: B재

**바른 풀이** A재 1단위 생산의 기회비용이 갑국은 B재 2/3개, 을국이 B재 2개이므로, 기회비용이 상대적으로 작은 갑국이 A재를 생산하는 것이 합리적이다. 그리고 B재 1단위 생산의 기회비용이 갑국은 A재 3/2개, 을국이 A재 1/2개이므로, 기회비용이 상대적으로 작은 을국이 B재를 생산하는 것이 합리적이다.

**473 비교 우위**

답·⑤

**바른 풀이** 갑은 열매 생산에, 을은 물고기 생산에 비교 우위가 있다. (물고기, 열매)의 생산량은 교환 전에 갑이 (10, 20), 을이 (10, 12)였고, 특화에 따라 갑은 (0, 40), 을은 (30, 0)을 생산하였다. 교환 조건이 물고기와 열매 15개이므로 교환 후 소비량은 갑이 (15, 25), 을이 (15, 15)이다. ㄴ. 교환 전 갑과 을은 각각 물고기를 10마리씩 생산하였다. ㄷ. 교환 후 열매 소비량은 갑이 25개, 을이 15개이다.

**474 비교 우위**

답·②

**바른 풀이** 각 재화의 최대 생산량(12시간 투입)을 고려하면, 교환 전에 갑은 물고기를 6시간, 열매를 6시간 동안 생산하였고, 을은 물고기를 4시간, 열매를 8시간 동안 생산하였다. ㄷ. ㉠(8시간)이 ㉡(6시간)보다 크다.

**오답 체크** ㄱ. ㉠(6시간)과 ㉡(6시간)은 같다. ㄴ. ㉢(4시간)은 ㉠(8시간)보다 작다.

### 475 비교 우위

답·⑤

**바른 풀이** 의류 1단위 생산의 비교 우위는 갑국(갑국 7/9단위, 을국 16/12단위)에, 신발 1단위 생산의 비교 우위는 을국(갑국 9/7단위, 을국 12/16단위)에 있다. ⑤ 을국이 신발 2단위를 생산하여 1:1로 교역하면 각 재화를 교역 없이 1단위씩 생산하여 소비하는 것보다 4만 원의 이익이 발생한다.

**오답 체크** ① 신발 생산의 비교 우위는 을국이 가진다. ② 갑국의 의류 1단위 생산의 기회비용은 신발 7/9단위이다. ③ 의류 생산의 절대 우위를 가진 국가는 생산비가 더 적게 드는 갑국이다. ④ 의류 1단위 생산의 기회비용은 갑국이 신발 7/9단위이고, 을국이 신발 16/12단위이다. 즉 갑국이 을국보다 작다.

### 476 비교 우위

답·⑤

**바른 풀이** 갑국은 X재 1단위 생산에 드는 30달러의 비용으로 Y재 3/2단위를, 을국은 X재 1단위 생산에 드는 40달러의 비용으로 Y재 4/5단위를 생산할 수 있다.

### 477 자유 무역의 확대

답·⑤

**바른 풀이** ① 자유 무역이 확대되면 소비자들의 상품 선택 폭이 넓어지고, ② 경쟁력을 갖춘 국내 산업의 시장이 외국으로 확대될 수 있다. ③ 교역 당사국 중 어느 한 국가만 지속적으로 국제 수지 흑자를 나타내면 다른 국가는 이에 불만이 생겨 무역 마찰로 이어질 수 있다. ④ 국내 시장 개방으로 사양 산업이 발생하여 실업이 증가할 수 있다.

**오답 체크** ⑤ 관세 장벽 및 수입 제한 조치 강화는 교역 다변화를 어렵게 하는 조치이다.

### 478 자유 무역의 확대

답·③

**바른 풀이** 세계 무역 기구는 자유 무역을 추구하는 범세계적인 국제기구에 해당한다. 그리고 지역주의 현상을 나타내는 국제기구로 유럽 연합(EU), 북미 자유 무역 협정(NAFTA), 아시아-태평양 경제 협력체(APEC) 등이 있다. 자유 무역 협정은 체결 국가에 대해서만 호혜 조치(동일한 무역 혜택을)를 제공한다.

**오답 체크** ③ 회원국이 아닌 비회원국에 대해서는 동일한 무역 혜택을 제공하지 않는다.

### 479 우리나라의 무역 현황

답·①

**바른 풀이** 섬유·의류·신발 등 경공업은 노동 집약적 산업이고, 기계·자동차 등 중공업과 영상 기기·반도체·무선 통신 기기 등 첨단 산업은 기술 집약적 산업이다. 우리나라의 산업 구조는 경공업에서 중공업을 거쳐 첨단 산업으로 발전해 왔으며, 현재는 정보산업 분야에서도 경쟁력을 갖추고 있다. ㄱ. 미국의 경우 기계류 수출 비중이 높은 것은 많은 자본과 높은 기술 수준을 갖추었음을 의미한다. ㄴ. 페루의 주력 수출품은 금인데, 이는 천연자원이 수출에 영향을 미치고 있음을 보여 준다.

**오답 체크** ㄷ. 우리나라의 주력 수출 품목은 노동 집약적 상품에서 기술 집약적 상품으로 변화하였다. ㄹ. 1990년대의 주력 수출 상품 가운데 반도체, 영상 기기, 선박 등은 기술 집약적 특성을 갖지만, 신발은 노동 집약적 특성을 갖는다.

#### 개념 더하기 노동, 자본, 기술 집약적 산업

- **노동 집약적 산업:** 자본에 비해 사람의 노동력을 상대적으로 더 많이 투입하는 산업 → 신발·의류·섬유 등 경공업, 전통적인 서비스업
- **자본 집약적 산업:** 노동력보다 자본 설비나 기계 장치의 비중이 훨씬 큰 산업 → 자동차, 철강, 석유화학, 중화학 공업
- **기술 집약적 산업:** 자본이나 노동보다는 고도의 지식과 기술력이 경쟁 우위의 원천이 되는 산업 → 반도체, 정밀 기계, 인공지능, 제약·바이오

### 기출로 실력 높이기

106~108쪽

480 ③, ④    481 ③    482 ④    483 ⑤    484 ①

485 ⑤    486 ②    487 ⑤    488 ①    489 ⑤

#### 서답형

490 (1) ㉠ 절대 우위, ㉡ 비교 우위

(2) 모범 답안 참조

491 (1) 세계 무역 기구(WTO)

(2) 모범 답안 참조

### 480 무역 발생의 원리

답·③, ④

**바른 풀이** 교사의 질문에 대해 두 명만 옳게 대답했는데, A가 자유 무역이라면 옳고, A가 보호 무역이라면 갑과 병만 옳다. 따라서 A는 보호 무역, B는 자유 무역이다. ③ 국내 유치산업은 정부의 보호에 의해 존속될 수 있다. 따라서 자유 무역보다 보호 무역이 국내 유치산업 보호에 유리하다. ④ 소비자 후생을 증대하려면 자유 무역 질서를 확대해야 한다.

**오답 체크** ① 옳게 발표한 사람은 갑과 병이다. ② A는 보호 무역, B는 자유 무역이다. ⑤ 세계 무역 기구는 자유 무역의 확대를 추구한다. ⑥ 보호 무역을 시행할 때 국내에서 소득 불평등 문제가 심화한다고 단정할 수 없다. 오히려 자유 무역 질서가 확대되면 소득 불평등이 심화하는 현상이 나타날 수 있다. ⑦ 자유 무역은 시장을 확대하여 규모의 경제를 실현할 수 있도록 해준다.

#### 개념 더하기 유치산업

유치산업(Infant Industry)은 현재는 기술력이나 생산성이 낮아 국제 경쟁력이 떨어지지만, 장래에 성장하여 국가 경제에 이바지할 가능성이 큰 미성숙한 산업을 뜻한다. 정부는 자국 유치산업을 키우기 위해 다음과 같은 정책을 사용할 수 있다.

- **관세 부과:** 수입품에 높은 세금을 매겨 가격 경쟁력을 떨어뜨림.
- **수입 할당제:** 외국 제품의 수입 물량을 제한함.
- **보조금 지급:** 국내 기업에 자금을 직접 지원하여 생산 비용을 낮춰줌.

### 481 무역 발생의 원리

답·③

**바른 풀이** 비교 우위 원리에 따르면 상대적으로 생산비(기회비용)가 적게 드는 재화를 특화하여 무역에 참여하는 거래 당사국은 모두 이익을 얻을 수 있다. ㄱ. 생산 비용이 많이 드는 제품을 국내에서 생산하는 것보다는 생산 비용이 적게 드는 제품에 특화하고 그 밖의 제품들은 보다 저렴한 비용으로 생산하는 외국과 교역을 통해 확보하는 것이 바람직하다. ㄷ. 비교 우위론에 따르면 재화 생산의 기회비용을 고려하여 특화할 제품을 정하고 교역에 참여한다.

**오답 체크** ㄴ. 비교 우위에 따라 특화하여 교역할 때, 상호 합의할 수 있는 거래 조건을 적절하게 설정하면 교역 당사국 모두가 이익을 얻을 수 있다.

### 482 비교 우위

답·④

**바른 풀이** 비교 우위에 따라 갑국은 Y재만 72개, 을국은 X재만 90개 생산한다. ㄴ. 갑국은 Y재를 생산하여 교역하고자 하는데 Y재 1단위 생산의 기회비용이 X재 20/24단위이고 이보다는 더 많은 X재를 원할 것이다. 그리고 을국은 Y재 1단위 생산의 기회비용이 X재 18/16단위이므로 이보다는 더 적은 X재를 주려 할 것이다. 따라서 X재 1단위와 Y재 1단위를 거래하는 조건이라면 양국 모두 이익을 얻을 수 있다. ㄷ. 비교 우위에 따라 교역하면, 비교 우위가 없는 제품의 소비에 있어 기회비용이 감소하고 비교 우위가 있는 제품의 소비에 있어 기회비용이 증가하는 효과가 발생한다.

**오답 체크** ㄱ. X재 생산의 비교 우위는 을국에 있고, Y재 생산의 비교 우위는 갑국에 있다.

### 483 비교 우위

답·⑤

**바른 풀이** 그래프에 나타난 정보를 표로 정리하면 다음과 같다.

구분	갑국	을국
의류(벌)	70	100 → 절대 우위
자동차(대)	50	60 → 절대 우위
의류 1단위 기회비용	자동차 5/7대	자동차 3/5대
자동차 1단위 기회비용	의류 7/5벌	의류 5/3벌
비교 우위 제품	자동차	의류

갑국은 자동차 생산에, 을국은 의류 생산에 비교 우위가 있다. 따라서 양국은 비교 우위 제품에 특화하여 교역하는 것이 합리적이다.

**오답 체크** ① 두 재화 모두 절대 우위를 갖는 국가는 을국이다. ② 갑국의 자동차 1대 생산의 기회비용은 의류 7/5벌이다. ③ 을국의 의류 1벌 생산의 기회비용은 자동차 3/5대이다. ④ 의류 1벌 생산의 기회비용은 갑국이 자동차 5/7대이고, 을국이 자동차 3/5대이다. 즉 갑국의 기회비용이 을국의 기회비용보다 크다.

### 484 비교 우위

답·①

**바른 풀이** 비교 우위 이론에 따라 각 재화 생산의 기회비용을 계산하면, 갑국은 컴퓨터에, 을국은 텔레비전에 비교 우위를 가진다. 갑국에서 컴퓨터 1대의 생산을 포기하면 3명의 노동자가 텔레비전 3/8대(㉠)를 생산할 수 있고, 텔레비전 1대의 생산을 포기하면 8명의 노동자가 컴퓨터 8/3대(㉡)를 생산할 수 있다. 을국에서 컴퓨터 1대의 생산을 포기하면 2명의 노동자가 텔레비전 2/5대(㉢)를 생산할 수 있고, 텔레비전 1대의 생산을 포기하면 5명의 노동자가 컴퓨터 5/2대(㉣)를 생산할 수 있다.

### 485 비교 우위

답·⑤

**바른 풀이** 갑국은 X재 1개 생산의 기회비용이 Y재 1/3개이므로 X재 30개를 포기하고 Y재를 생산하면 최대 10개(㉠)까지 생산할 수 있다. ㉡. 을국의 X재 1개 생산의 기회비용은 Y재 1/2개이다. ㉢. X재 생산의 기회비용은 갑국이 을국보다 작다. 따라서 갑국은 X재에, 을국은 Y재에 비교 우위를 갖는다.

**오답 체크** ㉣. 갑국의 X재 1단위 생산의 기회비용이 1/3이므로 ㉠은 10이다. ㉤. 갑국의 Y재 1개 생산의 기회비용은 X재 3개이다.

### 486 우리나라의 무역 현황

답·②

**바른 풀이** 1970년대에는 섬유·합판·가발 등 경공업이, 1980년대에는 의류 외에도 철·강판·선박 등 중공업이, 1990년대에는 반도체 산업이, 2000년대에는 반도체·컴퓨터·자동차 등 고부가가치 산업이 우리나라의 주력 수출 산업을 구성하였다. ㉣. 1970년대의 주력 수출 산업은 주로 노동 집약적 산업이었다. ㉤. 반도체, 컴퓨터 등은 첨단 정보 산업에 해당한다.

**오답 체크** ㉠. 1990년대 주력 수출 산업 구성을 경공업 육성 정책에 따른 것으로 보기 어렵다. ㉡. 주력 산업의 부가가치 창출 정도는 시간이 지날수록 더 높아졌다.

### 487 국제 무역의 흐름

답·⑤

**바른 풀이** 세계 무역 기구 가입을 통한 교역 규모 확대, 자유 무역 협정을 통한 주력 산업의 생산량 증대 등은 모두 자유 무역 질서가 가져오는 순기능에 해당한다. ㉡. ㉢. 자유 무역 질서의 확대는 규모의 경제 실현뿐만 아니라 교역에 참여하는 국가의 생산성 향상을 가져올 수 있다.

**오답 체크** ㉣. 자유 무역이 국내 산업의 다양성을 감소시킨다고 단정하기 어렵다. ㉤. 제시문과 거리가 먼 진술이다.

### 488 세계 무역 기구와 자유 무역 협정

답·①

**바른 풀이** ㉠은 세계 무역 기구(WTO), ㉡은 자유 무역 협정(FTA)에 대한 설명이다. 둘 모두 자유 무역과 관련 있으나 이 가운데 WTO는 자유 무역 전반을 대표하는 제도적 성격이 강한 반면, FTA는 개별 국가 간 협력이라는 성격이 강하다. ㉣. WTO 출범 이후 국제 교역이 더욱 활발해졌으며, 무역의 대상 또한 확대되었다. ㉤. ㉠, ㉡ 모두에 적용될 수 있는 설명이며, ㉢을 통해 그 효과가 직접적으로 전달된다.

**오답 체크** ㉢. 재판소 기능은 국제기구의 성격이 강한 WTO에 해당한다. ㉣. 소비자의 상품 선택의 폭 확대는 ㉠과 ㉡ 모두에 해당한다.

### 489 공정 무역

답·⑤

**바른 풀이** 공정 무역은 공정하지 못한 무역 관행을 개선하기 위해 대화와 투명성, 존중에 기초하여 공평하고 정의로운 관계를 추구하는 국제적 수준의 사회 운동이다. 공정 무역을 통해 개발 도상국의 생산자에게는 더 좋은 무역 조건을 제공하고, 노동자에게는 정당한 대가를 제공하여 지속가능발전에 이바지한다.

**오답 체크** ㉤. 지속가능한 무역을 위해 소비자는 공정 무역을 통해 거래된 상품이나 지속가능발전에 협조하는 기업의 제품을 구매하는 것이 바람직하다.

### 490 무역의 발생 원리와 비교 우위

(1) ㉠ 절대 우위, ㉡ 비교 우위

(2) **KEY WORD** 기회비용, 특화

**모범 답안** 의류 1톤 생산의 기회비용은 갑국이 기계 2대, 을국이 기계 0.5대이다. 즉 을국이 의류 생산에 비교 우위가 있다. 기계 1대 생산의 기회비용은 갑국이 의류 0.5톤, 을국이 의류 2톤으로 갑국이 을국보다 낮다. 갑국은 두 재화 생산 모두 절대 열위에 있지만, 기계 생산에서 비교 우위를 가진다. 따라서 갑국이 을국과 교역할 때 특화할 제품은 기계이다.

채점 기준	수준
무역의 발생 원리에 해당하는 개념을 모두 옳게 쓰고, 갑국이 특화할 재화를 기회비용을 활용하여 적절하게 서술한 경우	상
무역의 발생 원리에 해당하는 개념을 일부만 옳게 쓰고, 갑국이 특화할 재화를 기회비용을 활용하여 적절하게 서술한 경우	중
무역의 발생 원리에 해당하는 개념을 일부만 옳게 쓰고, 갑국이 특화할 재화를 기회비용을 활용하여 적절하지 않게 서술한 경우	하

### 491 세계 무역 기구와 자유 무역

(1) 세계 무역 기구(WTO)

(2) **KEY WORD** 무역 분쟁, 갈등 조정

**모범 답안** 회원국 간에 무역 분쟁이 발생했을 때 관련 규범에 근거하여 갈등을 조정하고 해결한다.

채점 기준	수준
세계 무역 기구임을 옳게 쓰고, 이 기구가 수행하는 주요 기능을 적절하게 서술한 경우	상
세계 무역 기구를 옳지 않게 쓰고, 이 기구가 수행하는 주요 기능을 적절하게 서술한 경우	중
세계 무역 기구를 옳게 쓰고, 이 기구가 수행하는 주요 기능을 적절하지 않게 서술한 경우	하

492 ②      493 ⑤      494 ⑤

**492 무역 발생의 원리**

답·②

**바른 풀이** 갑은 절대 우위, 을은 비교 우위를 들어 무역 발생 이유를 설명하고 있다. ② 두 개념 모두 특화를 통한 국제 분업의 필요성을 설명하는 데 사용할 수 있다.

**오답 체크** ① 갑은 절대 우위 개념을 제시한다. ③ 설탕 생산에 동일한 노동력을 투입할 경우, 설탕 생산량은 B국이 더 많다. ④ 두 재화 모두 절대 우위는 C국에 있다. ⑤ (가)에는 C국의 비교 우위 품목인 포도주, (나)에는 D국의 비교 우위 품목인 면화가 들어가야 한다.

**493 비교 우위**

답·⑤

다음 자료에 대한 분석 및 추론으로 옳은 것은?

표는 노동만을 생산 요소로 하여 X재와 Y재만을 생산하는 갑국과 을국에 대한 자료이다. 양국 모두 비교 우위가 있는 재화를 생산하여 서로 이익이 발생하는 교역 비율에 따라 거래하고자 한다. 단, 생산된 재화는 모두 소비된다.

구분	갑국	을국
교역 이전 X재 최대 생산량	100	50
교역 이전 X재 1개 생산의 기회비용	Y재 2/5개	Y재 3/5개
교역 이전 Y재 최대 생산량	40	30

- ① 교역 이전 X재 최대 생산량은 갑국이 을국보다 많지만, Y재 최대 생산량은 을국이 갑국보다 많다.
- ② X재 5개와 Y재 2개를 교역하는 조건이라면 갑국과 달리 을국은 거래에 응하지 않는다.
- ③ 갑국, 을국 모두 절대 우위와 비교 우위를 동시에 가진 재화가 있다.
- ④ 교역 이전 갑국은 X재 100과 Y재 40개를 동시에 소비할 수 있다.
- ⑤ 교역 이후 을국은 X재 50와 Y재 5개를 동시에 소비할 수 있다.

**1등급 문제 풀이 비법**

**STEP 1**

생산 가능 곡선을 토대로 각 재화의 최대 생산량과 특화할 제품을 파악한다.

각 재화 생산의 기회비용을 서로 비교하여 기회비용이 상대적으로 낮은 제품에 특화한다.

**STEP 2**

각국이 특화할 제품 생산의 기회비용을 토대로 양국이 합의할 교역 비율을 산출한다.

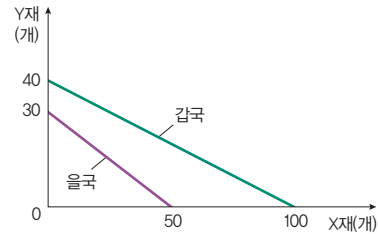
- 갑국은 X재에 특화하는데, X재 1개 생산의 기회비용이 Y재 2/5개이다. 따라서 갑국은 X재 1개를 교환할 때 Y재 2/5개보다 많이 받으려 할 것이다.
- 을국은 Y재에 특화하는데, Y재 1개 생산의 기회비용이 X재 5/3개이다. 따라서 을국은 Y재 1개를 교환할 때 X재 5/3개보다 많이 받으려 할 것이다. 뒤집어 말해 X재 1개를 받을 때 Y재 3/5개보다 적게 주려 할 것이다.
- 위 내용을 종합하면, X재 1개의 교환 비율은 Y재 2/5개보다 많고 3/5개보다 적어야 한다. 예를 들어, X재 10개와 Y재 5개를 교환하는 비율이라면 양국 모두 이익을 얻을 수 있다.

**바른 풀이** 제시된 자료를 토대로 파악할 수 있는 정보는 다음 표와 같다.

구분	갑국	을국
교역 이전 Y재 최대 생산량	100	50
교역 이전 X재 1개 생산의 기회비용	Y재 2/5개	Y재 3/5개
교역 이전 Y재 최대 생산량	40	30
교역 이전 Y재 1개 생산의 기회비용	X재 2.5개	X재 5/3개
비교 우위	X재	Y재
특화에 따른 X재, Y재 생산량	100, 0	0, 30
교역(X재:Y재=50:25)에 의한 소비 가능량	X재 50, Y재 25	X재 50, Y재 5

⑤ 교역이 없었다면 갑국은 X재 50개와 Y재 20개를 생산/소비할 수 있었는데, 교역을 함으로써 Y재 5개를 추가 소비(교역의 이익)할 수 있게 되었다. 을국 역시 교역 없이는 X재 50개를 생산/소비할 때 Y재를 소비할 수 없었으나 교역을 함으로써 Y재 5개를 추가 소비할 수 있게 되었다.

**오답 체크** ① Y재 최대 생산량도 갑국이 많다. ② X재 5개와 Y재 2개를 교환하는 조건이라면 갑국이 거래에 응하지 않는다. 갑국 내에서의 기회비용과 같기 때문에 굳이 교역할 필요가 없기 때문이다. ③ 갑국만 X재에 절대 우위와 비교 우위를 가진다. 을국은 Y재에 비교 우위를 갖지만 절대 우위를 갖지는 않는다. ④ 교역 이전 갑국은 최대 X재 100개 또는 Y재 40개를 생산할 수 있다. 즉 X재 100개와 Y재 40개를 동시에 소비하는 것은 불가능하다.



**494 비교 우위**

답·⑤

**바른 풀이** <상황 1>은 절대 우위 개념, <상황 2>는 비교 우위 개념으로 무역 발생 이유를 설명할 수 있다. <상황 1>에서 X재 생산의 절대 우위는 갑국에, Y재 생산의 절대 우위는 을국에 있다. <상황 2>에서 X재 생산의 비교 우위는 갑국에, Y재 생산의 비교 우위는 을국에 있다. ⑤ 절대 우위로 무역이 발생하는 상황은 비교 우위 개념으로도 설명할 수 있다.

**오답 체크** ① <상황 1>에서 X재는 갑국, Y재는 을국이 절대 우위를 가진다. ② <상황 2>는 절대 우위로 무역 발생을 설명할 수 없고, 비교 우위를 적용해야 한다. ③ <상황 2>에서 X재 1단위 생산을 위해 포기해야 하는 Y재의 양은 갑국이 1/2단위, 을국이 2/3단위이다. 즉 갑국이 을국보다 적다. ④ 두 상황 모두에서 Y재를 특화하는 나라는 을국이다.

**개념 더하기 무역의 발생 원리**

<b>절대 우위론</b>	<ul style="list-style-type: none"> <li>• 국가별로 절대 우위를 갖는 상품에 특화하여 교환하면 양국 모두 이익을 얻을 수 있다는 이론</li> <li>• 한 국가가 다른 국가에 비해 모든 상품에 절대 우위를 갖는 경우 발생하는 무역을 설명할 수 없음.</li> </ul>
<b>비교 우위론</b>	<ul style="list-style-type: none"> <li>• 국가별로 비교 우위를 갖는 상품에 특화하여 교환하면 양국 모두 이익을 얻을 수 있다는 이론</li> <li>• 한 국가가 다른 국가에 비해 기회비용이 낮은 상품을 생산 및 수출하고, 기회비용이 큰 상품은 수입함.</li> </ul>

495 ③	496 ⑤	497 ②	498 ⑤	
499 갑: 수정 자본주의, 을: 신자유주의		500 ④	501 ②	
502 ④	503 ②	504 ②	505 ⑤	
506 ㉠ A, ㉡ 18만 4천	507 ②	508 ⑤	509 ⑤	
510 지역주의	511 ①	512 ③		

**495 자본주의의 역사적 전개 과정** 답·③

**바른 풀이** 갑은 A를 자유방임주의로, 을은 B를 수정 자본주의, C를 자유방임주의로 보고 있다. 병은 A를 신자유주의, C를 자유방임주의로 보고 있다. 교사 평가를 고려하면, 옳게 설명한 학생은 을, 병, 정이다. 따라서 A는 신자유주의, B는 수정 자본주의, C는 자유방임주의이다. ㄴ. 수정 자본주의는 정부 주도의 대규모 공공사업을 통한 경기 활성화를 주장하였다. ㄷ. 수정 자본주의는 '큰 정부'를, 자유방임주의는 '작은 정부'를 주장하였다.

**오답 체크** ㄱ. 복지 확대는 자유방임주의가 아니라 수정 자본주의에서 강조한다. ㄹ. 정은 옳게 발표한 학생이다.

**496 경제 체제의 유형** 답·⑤

**바른 풀이** A는 시장경제 체제, B는 계획경제 체제이다. ⑤ 원칙적으로 생산 수단의 사적 소유가 인정되는 것은 시장경제 체제이다.

**오답 체크** ① 시장경제 체제는 능력에 따른 분배, 즉 차등 분배를 강조한다. ② 계획경제 체제는 시장의 자유 경쟁을 부정한다. ③ 시장경제 체제는 계획 경제 체제에 비해 새로운 경제 문제에 유연하게 대처하기에 적합하다. ④ 이윤 추구의 동기는 시장경제 체제에서 강조된다.

**497 자본주의의 역사적 전개 과정** 답·②

**바른 풀이** 'A 이념'은 신자유주의이다. ㄴ. 신자유주의는 정부의 불필요한 시장 규제 철폐 및 시장의 자율성 회복을 강조한다.

**오답 체크** ㄱ. 신자유주의는 정부 규제와 개입 강화에 반대한다. ㄷ. 신자유주의는 정부 실패의 문제점에 주목한다.

**498 경제 체제의 유형** 답·⑤

**바른 풀이** A는 시장경제 체제이고, B는 계획경제 체제이다. 갑은 첫 번째와 세 번째 질문에서 점수를 얻었고, 을은 세 번째 질문에서만 점수를 얻었다. 그러므로 (가)는 '예'이다. ⑤ 어느 경제 체제에서든지 희소성에 따른 경제 문제는 발생한다.

**오답 체크** ① (가)는 '예'이다. ② 시장경제 체제는 원칙적으로 생산 수단의 사적 소유를 인정한다. ③ 개별 경제 주체의 자유로운 경제활동을 중시하는 것은 시장경제 체제이다. ④ 시장경제 체제는 형평성보다 효율성을 중시한다.

**499 자본주의의 이념적 토대** 답·갑: 수정 자본주의, 을: 신자유주의

**바른 풀이** 갑의 주장은 시장 실패를 극복하려는 수정 자본주의에 기초하고, 을의 주장은 정부 실패를 배경으로 등장한 신자유주의에 기초한다.

**500 합리적 선택** 답·④

**바른 풀이** 갑이 C를 선택한 것은 순편익이 가장 크기 때문이다. 편익과 가격의 차이는 A가 1만 원, B가 2만 원이다. 따라서 C의 가격은 7만 원 미만이어야 한다. A와 B 구입의 암묵적 비용은 (9-①)만 원으로 동일하다. ④ A와 B 구입의 암묵적 비용은 같지만, 명시적 비용은 B가 A보다 1만 원 많아서 기회비용도 B가 1만 원 더 많다.

**오답 체크** ① A 구입의 암묵적 비용은 (9-①)만 원이다. ② B 구입의 기회비용은 명시적 비용인 10만 원과 암묵적 비용인 (9-①)만 원의 합이다. ③ C 구입의 순편익이 양(+)의 값이므로 합리적으로 판단한 갑은 C를 선택한 것이다. ⑤ ①이 7보다 작아야 C를 선택하는 것이 합리적이다.

**501 합리적 선택** 답·②

**바른 풀이** 제시문은 매물 비용을 고려하지 않아야 합리적으로 선택할 수 있음을 강조하고 있다. ② 매물 비용은 이미 지출되어 회수할 수 없는 비용이므로 기회비용에 포함해서는 안 된다.

**오답 체크** ① 진술 자체는 옳지만 제시된 사례를 설명하기에는 부적절하다. ③ 진술 자체가 오류이다. 편익이 기회비용보다 큰 대안을 선택하는 것이 합리적이다. ④ 경제적으로는 비합리적 선택일 수도 있지만 윤리적 가치를 고려해야 하는 것은 옳은 진술로 볼 수 있다. 하지만 제시된 사례와는 관련이 없다. ⑤ 편익보다 기회비용이 더 큰 대안을 선택하는 것은 비합리적이다.

**502 시장 실패** 답·④

**바른 풀이** 첫 번째 질문(긍정적 외부 효과)에 '예'로, 두 번째 질문(공공재 부족)에 '아니요'로, 세 번째 질문(독과점 발생)에 '아니요'로 답변하는 것이 옳기에 갑은 3점을 받았다. 따라서 갑이 고른 것은 '카드 2'이다. ㄴ. 과소 생산이 발생하는 외부 효과는 긍정적 외부 효과로서, 이 현상은 생산자가 부담하는 비용이 사회가 부담하는 비용보다 많을 때 발생한다. ㄷ. 비용을 지불하지 않은 사람의 소비를 제한할 수 없는 것은 공공재의 특성 가운데 하나인 비배제성이다.

**오답 체크** ㄱ. 갑이 고른 카드는 '카드 2'이다.

**503 정부의 합리적 역할** 답·②

**바른 풀이** 제시된 자료는 가격 담합, 출고 조절 등 시장 교란 행위를 규제하려는 정부 활동을 보여 준다. 이러한 정부의 활동은 자유롭고 공정한 경쟁 질서 조성에 이바지한다. ② 제시된 자료는 공정하고 자유로운 경쟁 질서 조성과 관련된 것이다.

**오답 체크** ①, ③, ④, ⑤ 모두 정부의 역할에 해당하지만 제시된 자료와 무관한 내용이다.

**504 금융 상품의 유형** 답·②

**바른 풀이** A는 채권, B는 주식, C는 정기 예금이다. (가)는 '예'라는 답변으로 0점을 받았으므로, 틀린 내용의 질문이 들어가야 한다. ㄱ. 채권은 시세 변동이 발생하고 회사채의 경우 채권 회수의 위험이 존재한다는 점에서 정기 예금보다 안전성이 낮다. ㄷ. 채권과 정기 예금은 모두 만기가 존재한다.

**오답 체크** ㄴ. 배당 수익은 정기 예금이 아니라 주식에서 발생한다. ㄹ. 주주의 지위를 갖게 하는 금융 상품은 주식이므로, (라)에 들어가기에 적절한 질문이다.

**505 금융 상품의 유형** 답·⑤

**바른 풀이** ⑤ 시세 차익을 기대할 수 있는 금융 상품은 주식(1,000만 원)과 채권(500만 원)이다.

**오답 체크** ① 주식은 이자 수익이 아니라 시세 차익 및 배당 수익을 기대할 수 있다. ② 채권은 배당 수익이 아니라 시세 차익 및 이자 수익을 기대할 수 있다. ③ 기업에 대한 소유 지분을 나타내는 금융 상품은 주식이다. ④ 만기가 있는 금융 상품은 채권(500만 원)이다.

**506 자산 관리** 답·㉠ A, ㉡ 18만 4천

**바른 풀이** A를 선택하면 2년간 100만 원(1,000만 원×5%×2년)의 이자를 받고, B를 선택하면 2년간 81,6만 원(1,000만 원×4%)+(1,000만 원×4%×4%)의 이자를 받는다.

**507 생애 주기와 자산 관리** 답·②

**바른 풀이** ㉠과 ㉡은 소득보다 소비가 많아서 발생하는 부채에 해당하고, ㉢은 소비보다 소득이 많아서 발생하는 저축에 해당한다. ㄴ. B 시기부터 C 시기까지 소득은 감소하고 소비는 증가한다. 즉 소득 대비 소비의 비율은 지속적으로 커진다.

**오답 체크** ㄱ. A 시기 이전에는 소득보다 소비가 많아 저축이 발생하지 않는다. ㄷ. C 시기 이후의 소비 수준이 예측대로 유지되려면 A 시기와 C 시기 사이의 저축(㉮)이 충분히 많아야 한다.

## 508 자산 관리 방법 답·㉮

**바른 풀이** ㉮ 보유 중인 달러의 환율이 지속적으로 하락할 것으로 예상되면 하루라도 빨리 원화로 환전해야 더 많은 원화를 확보할 수 있다. 즉 병은 달러를 원화로 환전하려 할 것이다.

**오답 체크** ① 예금자 보호 제도의 적용을 받는 것은 정기 예금이다. ② 정기 예금과 채권 모두 이자 수익을 기대할 수 있다. ③ 물가 상승률이 3%를 초과하면 이와 동일하게 시세가 높아질 것으로 예상되는 금을 구입하는 쪽이 정기 예금에 가입하는 쪽보다 유리하다. ④ 시중 금리가 지속적으로 상승 추이를 보이면 정기 예금의 유인이 증가한다.

## 509 무역의 발생 원리 답·㉮

**바른 풀이** 갑국은 Y재에, 을국은 X재에 비교 우위를 갖는다. 을국의 Y재 생산량이 150개로 늘어나면 기회비용의 상대적 크기가 달라져서 비교 우위 재화가 달라진다. ㄷ. 교역 이전에 각 재화의 교환 비율이 갑국은 X재:Y재=1:1이고 을국은 X재:Y재=2:1이다. 두 국가가 합의할 수 있는 교역 조건은 X재:Y재=4:2~4이다. 즉, X재 4개를 Y재 3개와 교환하는 조건이라면 양국 모두 교역에 참여할 것이다. ㄹ. 을국의 Y재 최대 생산량이 60개에서 150개로 늘어나면, X재 1단위 생산의 기회비용은 Y재 5/4단위, Y재 1단위 생산의 기회비용은 X재 4/5단위가 된다. 따라서 비교 우위 재화는 갑국이 X재, 을국이 Y재로 바뀐다.

**오답 체크** ㄱ. X재 1개 생산의 기회비용은 갑국이 Y재 1개이고, 을국이 Y재 1/2개이다. ㄴ. 갑국은 Y재에 대해서만 비교 우위를 갖고, 을국은 X재에 대해 절대 우위와 비교 우위를 모두 갖는다.

## 510 지역주의 답·지역주의

**바른 풀이** 특정 지역의 국가들이 해당 지역의 이익을 도모하려는 목적으로 지역 단위의 국제기구를 만들어 협력하는 흐름을 지역주의라고 한다.

### 개념 더하기 지역 경제 협력체

의미	공간적으로 접근이 쉽거나 경제적 상호 의존도가 높은 국가들이 공동의 이익을 추구하는 경제 공동체
특징	회원국 간에는 관세 및 무역 장벽을 완화하여 여러 경제적 혜택을 주고받지만, 비회원국에는 배타적
사례	유럽 연합(EU), 동남아시아 국가 연합(ASEAN), 아시아·태평양 경제 협력체(APEC)

## 511 자유 무역의 확대 답·㉮

**바른 풀이** 한미 FTA에 따라 우리나라와 미국의 교역량은 크게 증대하였으며, 우리나라의 무역 수지 개선 및 수출 산업의 성장에 크게 이바지하였다. ① 자유 무역을 체결하면 당사국 간에 교역량이 증대되고 시장이 확대된다.

**오답 체크** ②, ③, ④, ⑤ 제시문과 무관한 내용의 진술이다.

## 512 자유 무역의 확대 답·㉮

**바른 풀이** 제시된 사례는 공정 무역에 대한 것으로, 공정 무역은 국가 간 경제적 불평등 완화에 이바지한다고 평가할 수 있다. ㄱ, ㄴ. 제시문의 내용에 부합하는 주제이다.

**오답 체크** ㄷ. 제시문과 무관한 내용이다.

## 11 세계화의 양상과 문제

### 핵심개념 확인 문제 115쪽

513 세계화	514 지역화	515 세계도시	516 다국적 기업
517 ㄴ	518 ㄷ	519 ㄱ	520 ㉮
521 ㉮	523 ×	524 ㉮	525 ㉮
			526 ㉮

### 기출로 기본 다지기 116~117쪽

527 ㉮	528 ①	529 ①	530 ②, ⑤	531 ⑤
532 ②	533 ⑤	534 ①		

## 527 세계화의 특징 답·㉮

**바른 풀이** 자료는 항공기를 만드는 미국 다국적 기업의 국제적 분업을 나타낸 그림이다. 다국적 기업은 세계 여러 나라에 자회사, 생산 공장, 지사를 두고 국경을 넘어 생산 및 판매 활동을 하는 기업이다. 경영 효율성과 이윤 극대화를 위해 연구, 생산, 판매 등 기업 기능을 세계 각지에 분산 배치하여 국제적 분업을 수행하며, 주로 선진국의 기술과 개발 도상국의 저임금 노동력을 결합한다.

## 528 다국적 기업의 공간적 분업 답·㉮

**바른 풀이** A는 본사, B는 연구소, C는 생산 공장이다. ㄱ. A는 대한민국에 있는 본사이다. 본사는 대체로 본국의 대도시에 입지하는 경향이 있다.

**오답 체크** ㄴ. B는 연구소이다. 연구소는 선진국의 대도시에 두는 경향이 강하다. 고급 노동력을 확보할 수 있는 곳이 유리하기 때문이다. ㄷ. C는 생산 공장이다. 생산 공장은 저렴한 노동력을 확보할 수 있는 개발 도상국에 짓는 경우가 많다. ㄹ. A 본사는 주로 본국의 대도시에 위치한다.

### 개념 더하기 다국적 기업의 공간적 분업 특징

구분	주요 기능	입지 조건	입지 이유
본사	경영 기획, 관리, 의사 결정	선진국의 대도시	자본과 정보가 풍부하며, 전문 서비스(법률, 회계 등) 인력 확보 용이
연구소	신제품 개발, 디자인, 기술 연구	선진국 및 대학 도시	전문 지식을 갖춘 고급 인력과 최첨단 시설 활용 가능
생산 공장	부품 제조, 완제품 조립	개발 도상국	저렴한 노동비, 현지 시장 공략 유리

## 529 지역화 전략 답·㉮

**바른 풀이** (가)는 특정 장소나 지역이 가진 자산이나 특징을 이용해 장소의 매력력을 높이는 장소 마케팅, (나)는 지역에서 생산되는 상품과 서비스 또는 지역 자체에 부여한 고유한 상표로 슬로건이나 캐릭터를 만드는 지역 브랜드, (다)는 생산지의 자연환경과 독특한 재배 방법이 상품의 품질에 반영된 지리적 표시제이다.

## 530 세계화와 지역화 답·㉮, ⑤

**바른 풀이** ② 세계화의 문제점에 해당하는 ㉮에는 문화의 획일화, 문화의 소멸 등이 들어갈 수 있다. ⑤ 다국적 기업의 활동은 세계화로 나타나는 문제점에 크고 작은 영향을 준다.



가 우리나라에 있음을 알 수 있다. ㄱ. 지도를 통해 '가' 기업의 본사는 대한민국에 있음을 알 수 있다. ㄴ. '가' 기업은 생산 기지의 이동을 통해 공간적 분업을 추진하고 있다.

**오답 체크** ㄷ. 핵심 기술과 디자인 개발은 주로 본사가 있는 대도시에서 한다. ㄹ. 베트남으로 생산 공장을 옮기면 베트남의 경제 성장에 도움이 되고, 생산 공장이 떠난 본국의 경제에는 부정적인 영향을 줄 수 있다.

**541 지역화 전략** 답·③

**바른 풀이** (가)는 특정 장소를 매력적인 장소로 만드는 전략을 활용한 장소 마케팅, (나)는 우수한 상품에 지역의 자연환경 특징이 반영되었음을 증명하고 표시한 지리적 표시제의 사례이다.

**542 세계도시 체계** 답·③

**바른 풀이** ㄷ. 하위 세계도시는 최상위 세계도시보다 국제회의, 행사 등이 덜 열린다. ㄹ. 생산자 서비스는 금융, 보험, 법률, 연구 개발 등이며, 최상위 세계도시가 하위 세계도시보다 더 발달했다.

**오답 체크** ㄱ. 하위 세계도시는 최상위 세계도시보다 다국적 기업의 본사가 적다. ㄴ. 하위 세계도시는 최상위 세계도시보다 국제 금융 업무 기능이 미약하다.

**543 세계화의 문제점** 답·①

**바른 풀이** 자료는 세계화에 따라 다국적 기업의 생산 공장이 저렴한 노동력을 찾아 이동하면서, 세계의 공장이라 불리던 중국의 위상이 변화하고 있음을 설명하고 있다. ㄱ. M사는 본사를 선진국인 미국에 두고, 생산 공장을 개발 도상국에 두는 다국적 기업이다. ㄴ. M사는 공간적 분업을 위해 중국 광저우와 베이징을 생산 기지로 활용했다.

**오답 체크** ㄷ. M사가 생산 공장을 이전한 것은 베트남이 중국 광저우와 베이징보다 동일 업종에서 노동자의 평균 임금이 대체로 낮기 때문이다. ㄹ. 부정적 효과의 사례로 다국적 기업에 대한 경제 의존도 심화를 들 수 있다.

**544 세계화와 빈부 격차** 답·④

**바른 풀이** 자료는 1인당 국내 총생산 통계를 통해 세계화로 나타난 국가 간의 빈부 격차를 보여 주고 있다. ① 북반구가 남반구보다 대체로 수치가 높다. 대부분의 인구가 북반구에 거주하며, 경제 발전 수준이 높은 국가도 북반구에 많다. ② 유럽 대륙이 아프리카 대륙보다 대체로 수치가 높다. ③ 북아메리카 대륙이 남아메리카 대륙보다 대체로 수치가 높다. ⑤ 세계화가 진행되면서 나타난 국가 간의 빈부 격차를 보여 주는 자료이다.

**오답 체크** ④ 세계화로 자유 무역은 확대되었고, 자유 무역의 확대로 선진국과 다국적 기업에 부가 집중되면서 빈부 격차 문제가 나타났다.

**545 세계화의 경제적 문제점** 답·③

**바른 풀이** 지도는 국가 간의 빈부 격차 심화를 보여 주고 있다. 국가 간 빈부 격차 심화 문제를 해결하기 위해서는 공정 무역을 활성화하여 부의 공정한 분배가 이루어지도록 하고(ㄴ), 선진국이나 국제기구는 공적 개발 원조(ODA)를 통해 개발 도상국에 부가 분배될 수 있도록 해야 한다(ㄷ).

**오답 체크** ㄱ. 문화의 다양성 증진은 문화 획일화와 문화 소멸을 해결하는 방안이다. ㄹ. 문화 획일화와 문화 소멸은 제시된 자료와 관련이 적다.

**546 세계화의 문제점** 답·③

**바른 풀이** 자료는 세계화의 문제점을 노트 필기한 것이다. ㄱ. 제목 (가)에는 세계화의 문제점이 들어갈 수 있다. ㄴ. 문화의 획일화와 문화 소멸의 해결 방안에는 '지역 축제 활성화'가 들어갈 수 있다. 지역화를 통해 문화적 자원의 가치를 세계에 널리 알리는 일이 필요하다.

**오답 체크** ㄷ. 국가 간 빈부 격차의 심화를 해결하기 위해서는 분배 정의를 실현할 수 있는 공정 무역 등을 활성화해야 한다. ㄹ. 명예 살인은 보편 윤리가 아닌 특수 윤리의 대표적인 사례이다.

**547 다국적 기업**

- (1) (가): 다국적 기업, (나): 공간적 분업  
 (2) **모범 답안** (다)에는 우수한 인력 확보가 들어갈 수 있고, (라)에는 저렴한 노동력 확보가 들어갈 수 있다.

채점 기준	수준
'우수한 인력 확보, 저렴한 노동력 확보'라는 용어를 모두 사용하여 (다), (라)의 순서에 맞게 서술한 경우	상
(다)와 (라)의 내용을 모두 서술하였으나, 두 가지 중 한 가지의 내용 서술이 부족한 경우	중
(다)와 (라)의 내용 중 한 가지만 서술한 경우	하

**548 장소 마케팅**

- (1) 장소 마케팅  
 (2) **모범 답안** 장소 마케팅은 특정 지역을 매력적인 상품으로 인식하고, 고유한 이미지와 특성을 개발하는 지역화 전략이다.

**549 세계도시의 특징**

- (1) ㉠ 월가(월 스트리트), ㉡ 국제 연합(UN), ㉢ 브로드웨이  
 (2) **모범 답안** 뉴욕과 같은 최상위 세계도시는 특정 국가나 일부 지역에만 영향을 미치는 하위 세계도시와 달리, 전 세계를 대상으로 정치·경제·문화적 영향력을 행사한다.

채점 기준	수준
최상위 세계도시의 영향력 범위가 '전 세계(지구촌 전체)'임을 명시하고, 하위 세계도시의 영향력(국지적·지역적)과 비교하여 서술한 경우	상
영향력이 크다는 점은 서술했으나 하위 세계도시와의 비교(공간적 범위 차이 등)가 구별되지 않고 모호한 경우	중
최상위 세계도시와 하위 세계도시의 비교 내용이 부적절한 경우	하

**550 세계화의 영향**

- (1) 빈부 격차의 심화  
 (2) **모범 답안** 금융, 법률, 회계 등 생산자 서비스업과 같은 고부가 가치 산업이 발달한다.

**기출로 1등급 도전하기** 122~123쪽

- 551 ③      552 ⑤      553 ③      554 ③      555 ①  
 556 ②      557 ②      558 ④

**551 세계화의 의미와 영향** 답·③

**바른 풀이** 1. 세계화의 의미에 해당한다. 2. 세계화의 배경에 대한 설명이다. 4. 세계화의 문제점에 대한 설명이다.  
**오답 체크** 3. 세계화로 무역량과 여행객 수는 증가하는 것이 맞지만, 지역 간 경쟁은 완화하는 것이 아니라 심화한다.

**552 세계화 시대의 지역화 전략** 답·⑤

**바른 풀이** (가)는 지역 브랜드화, (나)는 지리적 표시제이다. 지역 브랜드화는 지역 브랜드라고 표기하기도 하는데, 지역을 상징하는 독특한 문화적 특징을 브랜드화하여 경쟁력을 높이는 전략이다. 지리적 표시제는 해당 지역의 독특한 지리적 특징을 반영한 특산물로 경쟁력을 높이는 전략이다.

**553 세계도시의 특징** 답·③

**바른 풀이** (가)는 런던, (나)는 도쿄, (다)는 뉴욕이다. ㄴ. 도쿄는 해당 국가에서 인구가 가장 많은 도시이자 수도이다. ㄷ. 뉴욕의 월가는 세계적인 금융 중심지이다.

**오답 체크** ㄱ. 런던은 대서양으로의 진출에 유리하다. ㄹ. 생산자 서비스업은 최상위 세계도시인 (가)~(다)가 다른 주요 세계도시보다 더 발달했다.

**자료 분석**



➔ 최상위 세계도시인 뉴욕, 런던, 도쿄는 세계 지도에서 반드시 그 위치를 확인하고 있어야 한다.

**554 세계화와 지역화** 답·③

**바른 풀이** ③ 함평 나비 축제는 지역화에 성공한 축제 중 하나이다. 지역 축제는 장소 마케팅의 대표적인 사례이다.

**오답 체크** ① 국제 교역량 증가의 주된 요인은 경제의 세계화이다. ② 다국적 기업의 본사는 대체로 선진국인 본국의 대도시에 있다. ④ 지구촌 분배 정의는 경제의 세계화가 진행될수록 약화되는 경향성이 있다. ⑤ 문화의 획일화 사례로 우리나라의 전통 혼례가 사라지는 것을 들 수 있다.

**555 다국적 기업의 공간적 분업** 답·①

**바른 풀이** 자료는 다국적 기업의 공간적 분업과 그에 따른 영향을 나타낸 것이다. 세계화는 국제 교류를 활성화하는 경제 및 문화적 흐름을 일컫는다. 특히 경제의 세계화를 촉진하는 것이 다국적 기업의 공간적 분업이다. 개발 도상국에 생산 기지를 세운 다국적 기업은 해당 국가의 고용 창출이라는 긍정적인 면과 경제적 종속이라는 부작용을 불러오기도 한다. ㄱ. (가)에는 '일자리 증가'가 들어갈 수 있다. 개발 도상국에 생산 공장이 들어섰기 때문이다.

**오답 체크** ㄴ. 세계화가 진행될수록 국제 교류의 시·공간 제약은 완화된다. ㄷ. 연구소는 생산 공장보다 생산비 절감에 민감하지 않다. 연구소는 우수한 인력이 많은 선진국의 대도시나 개발 도상국의 최대 도시에 입지하는 경우가 많다.

**556 세계화의 영향** 답·②

**바른 풀이** 세계화의 영향으로는 경제의 세계화에 따라 지구적 차원의 협력과 분업을 통한 생산의 효율성 증대 및 소비 활동 확대, 국제 무역량 증가 및 세계 관광객 수 증가, 지역 간 경쟁 심화를 들 수 있다. 문화적 세계화의 경우 초국적 세계 문화 형성, 문화 갈등 및 소수 문화 쇠퇴 등이 발생하기도 한다. ㄱ. 빈부 격차의 심화는 한 국가 내에서도 나타난다. ㄷ. 조혼 제도는 나이 어린 소녀들을 결혼시키는 것으로 중동 지역에 예전부터 행해지던 관습이다. 세계화가 진행되면서 '인권'이라는 보편 윤리와 '조혼'이

라는 특수 윤리 간에 갈등이 나타나고 있다.

**오답 체크** ㄴ. 문화 획일화 현상은 세계화의 진전에 비례하여 심화하는 경향성이 있다. ㄹ. 교통과 통신이 급속도로 빨라지면, ㉠~㉣의 문제점은 더욱 심화하는 경향이 있다.

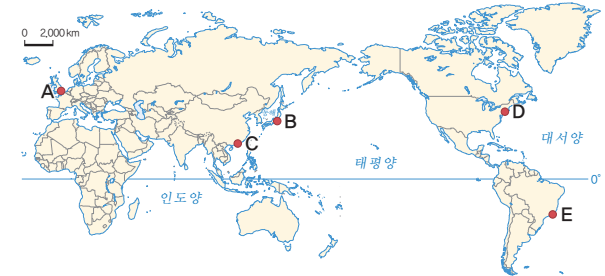
**557 다국적 기업의 공간적 분업** 답·②

**바른 풀이** 본사의 위치를 통해 덴마크가 모국임을 알 수 있다. 물류 거점이 체코라는 것은 유럽의 유통망을 담당하고 있다는 뜻이며, 멕시코에 생산 기지를 둔 것은 아메리카 시장을 공략하기 위함이다. 아시아 거점 공장이 있는 중국은 최대 수요국이며, 탄소 중립 공장은 지속가능한 발전을 충족하기 위한 오늘날 기업의 핵심 과제를 담고 있다. ㄱ. 해당 기업은 다국적 기업이다. ㄷ. 본사가 있는 덴마크가 모국이다.

**오답 체크** ㄴ. 생산에 관여하는 모든 지역이 세계도시인 것은 아니다. ㄹ. 2023년부터 인구수 1위 국가는 인도이다.

**558 세계도시** 답·④

자료의 A~E 도시에 대한 설명으로 옳은 것은? (단, A~E는 모두 세계도시임.)



- ① A는 프랑스의 수도이다. → 런던은 영국의 수도이다.
- ② B는 대서양에 인접한다. → 도쿄는 태평양에 인접한다.
- ③ C는 중국의 수도이다. → 중국의 수도는 베이징이다.
- ④ D는 C보다 생산자 서비스업의 발달 정도가 높다.
- ⑤ E는 D보다 같은 계층의 세계도시 간 거리가 멀다. → 최상위 세계도시인 뉴욕이 같은 계층의 세계도시 간 거리가 더 멀다.

**1등급 문제 풀이 방법**

**STEP 1** 자료의 도시를 파악한다.

세계도시에서 가장 중요한 뉴욕, 런던, 도쿄는 물론, 파리와 홍콩, 싱가포르나 리우데자네이루 등의 위치를 알아두는 편이 좋다. 문항의 난도를 올리기 위해서는 지도를 활용할 수밖에 없고, 해당 도시가 어느 나라에 속하는지 기본적인 지리 정보를 물어볼 수 있기 때문이다.

**STEP 2** 최상위 세계도시와 그 밖의 세계도시를 구분하고, 해당 도시들의 지리적 특징을 분석한다.

도시 간 비교 선지가 제시될 때는 해당 도시가 최상위 세계도시인지, 하위 세계도시인지를 아는 것이 중요하다. 특히 최상위 세계도시는 반드시 압기해 두어야 한다.

**바른 풀이** A는 영국의 런던, B는 일본의 도쿄, C는 중국의 특별행정구인 홍콩, D는 미국의 뉴욕, E는 브라질의 리우데자네이루이다. ④ 최상위 세계도시인 뉴욕은 홍콩보다 생산자 서비스업의 발달 정도가 높다.

**오답 체크** ① 런던은 영국의 수도이다. ② 도쿄는 태평양에 인접한다. ③ 홍콩은 중국의 수도가 아니다. 중국의 수도는 베이징이다. ⑤ 리우데자네이루는 뉴욕보다 같은 계층의 세계도시 간 거리가 가깝다. 일반적으로 상위 세계도시로 갈수록 도시 간 거리가 멀어진다.

## 12 평화의 중요성과 국제 사회의 노력

### 핵심개념 확인 문제

125쪽

559 ×	560 ○	561 ×	562 ○
563 구조적 폭력		564 문화적 폭력	565 소극적
566 적극적	567 L	568 R	569 T
571 C	572 D	573 E	574 F

### 기출로 기본 다지기

126~127쪽

575 ⑤	576 ②	577 갑: 소극적 평화, 을: 적극적 평화
578 ③	579 ③	580 ④
581 ②, ⑤		
582 ① 국제연합, ㉠ 그린피스	583 ①	584 ④

### 575 갈등의 평화

답·⑤

**바른 풀이** ① 소극적 평화는 직접적 폭력이 해소된 상태를 말한다. ㉠ 구조적 폭력은 사회 제도와 관습, 경제적 상태, 정치나 법률로 인해 발생하는 억압과 착취 등에 의한 폭력을 말한다. ㉡ 적극적 평화는 구조적 폭력 및 문화적 폭력이 사라진 상태를 의미하며, 갈등은 이러한 적극적 평화를 추구해야 한다고 주장하였다.

### 576 갈등의 평화

답·②

**바른 풀이** (가)는 소극적 평화, (나)는 적극적 평화이다. ① 소극적 평화는 전쟁이나 범죄처럼 겉으로 드러나는 물리적인 폭력이 없는 상태를 뜻한다. ③ 갈등은 진정한 평화란 단순히 전쟁이 없는 상태를 넘어, 모든 형태의 폭력이 사라진 적극적 평화로 나아가야 한다고 보았다. ④ 적극적 평화가 중요하긴 하지만, 당사자 총합이 오가는 전쟁 지역에서는 물리적 폭력을 멈추는 소극적 평화가 1차 목표이다. ⑤ 적극적 평화는 인간 소외나 문화적 억압이 없는 상태이므로, 진정한 공존과 행복이 가능한 상태를 의미한다.

**오답 체크** ② 소극적 평화는 단순히 직접적인 폭력이 멈춘 상태일 뿐이다. 폭력의 근본적인 원인(차별, 불평등)까지 해결되어야 하는 것은 적극적 평화의 영역이다.

### 577 갈등의 평화

답·갑: 소극적 평화, 을: 적극적 평화

**바른 풀이** 갑은 전쟁과 같은 직접적 폭력이 없는 상태를 평화로 보고 있으므로 물리적인 힘의 행사가 중단된 상태를 강조한다. 따라서 '소극적 평화'를 주장하고 있다. 을은 직접적 폭력은 물론이고 간접적 폭력까지 모두 제거된 상태를 평화로 보고 있다. 즉 인간의 존엄성이 온전히 실현되는 진정한 의미의 평화를 말하고 있으므로 '적극적 평화'를 주장하고 있다.

### 578 국제 사회의 특징

답·③

**바른 풀이** 제시문의 (가)는 '국제 사회'이다. ① 국제 사회는 국내 사회와 달리 강제적인 법 집행 기구는 부족하지만, 국제 연합(UN)과 같은 국제기구의 활동이나 국가 간 약속인 국제법의 영향을 받는다. ② 국제기구나 다국적 기업 등 주체가 다양해졌지만, 여전히 가장 핵심적이고 기본적인 단위는 주권을 가진 '국가'이다. ④ 국제 사회는 개별 국가 위에서 명령을 내리고 강제로 분쟁을 해결할 중앙 정부(세계 정부)가 존재하지 않는다. ⑤ 전쟁 방지(소극적 평화)는 물론, 빈곤 해결이나 인권 보호(적극적 평화)를 위해 비정부 기구나 국제기구들이 힘을 쓰고 있다. ⑥ 국제 사회의 가장 큰 특징이다. 공동의 목표(환경 보호 등)를 위해 손을 잡기도 하지만, 자국의 이익(영토, 자원 등)이 충돌하면 갈등이 일어나기도 한다.

**오답 체크** ③ 오늘날 발생하는 환경 문제, 전염병, 테러 등은 한 국가의 노력만으로 해결이 불가능하며, 국가 간의 긴밀한 협력이 필수적이다.

### 579 국제 사회의 특징

답·③

**바른 풀이** L. 인터넷과 항공 교통 등의 발달로 국가 간의 거리가 가까워졌으며, 한 나라의 문제가 다른 나라에 즉각적인 영향을 미치는 등 서로 의존하는 정도가 매우 높아졌다. D. 국가 간의 외교뿐만 아니라 사회 관계망 서비스(SNS), 여행, 유학 등을 통해 개인적인 차원의 국제 교류도 늘어나고 있다.

**오답 체크** T. 경제뿐만 아니라 정치, 문화, 예술, 스포츠, 환경 등 거의 모든 분야에서 광범위한 교류가 일어나고 있다. R. 이해관계에 따른 갈등은 여전히 존재하지만, 기후변화나 감염병 대응 등 공동의 문제를 해결하기 위한 국가 간의 협력은 더욱 강조되고 있다.

### 580 국제 행위 주체의 유형

답·④

**바른 풀이** (가)는 국제 비정부 기구(NGO)로, 개인이나 민간단체를 회원으로 하며 공공의 이익을 위해 자발적으로 결성된 비영리 시민 단체이다. T. 그린피스는 환경 보호를 목적으로 하는 국제 비정부 기구이다. R. 국제 사면 위원회는 '앰네스티'라고도 불리며, 인권 보호를 위해 활동하는 국제 비정부 기구이다. M. 국경 없는 의사회는 의료 지원이 필요한 곳에서 자발적으로 활동하는 국제 비정부 기구이다.

**오답 체크** L. 국제 연합은 독립된 주권 국가들이 회원으로 가입하여 결성한 정부 간 국제기구이다. D. 세계 보건 기구는 국제 연합(UN)의 전문 기구 중 하나로, 국가들이 참여하는 정부 간 국제기구이다.

### 개념 더하기

#### 정부 간 국제기구(IGO) vs 국제 비정부 기구(NGO)

구분	정부 간 국제기구(IGO)	국제 비정부 기구(NGO)
회원	각국 정부(주권 국가)	개인 또는 민간단체
목적	국가 간 협력 및 분쟁 조정	인권, 환경, 빈곤 등 인류 보편 가치 실현
예시	국제 연합, 세계 보건 기구, 세계 무역 기구, 유럽 연합 등	그린피스, 국제 사면 위원회, 국경 없는 의사회 등

### 581 국제 행위 주체의 유형

답·②, ⑤

**바른 풀이** ㉠은 정부 간 국제기구, ㉡은 국제 비정부 기구이다. ① 국제 연합이나 세계 무역 기구와 같은 정부 간 국제기구는 국제법을 만들거나 국가 간의 약속을 통해 국제 사회의 질서를 유지하는 역할을 한다. ③ 국제 비정부 기구(NGO)는 정부의 간섭을 받지 않고 시민들이 자발적으로 결성한 단체이다. ④ 국제 비정부 기구는 자국의 이익을 우선하는 국가들과 달리, 인류 보편의 가치(환경, 인권 등)를 위해 활동하는 경우가 많다. ⑥ 세계 무역 기구는 국가 간 무역 규칙을 다루는 정부 간 국제기구이며, 국제 사면 위원회는 인권을 위해 활동하는 민간단체이다.

**오답 체크** ② 국제 사회는 국내 사회와 달리 세계 정부가 존재하지 않는다. 정부 간 국제기구는 주권을 가진 국가들이 모여 만든 협의체일 뿐, 개별 국가의 주권을 완전히 무시하거나 강제할 수 있는 상급 정부가 아니다. ⑤ 현대 사회에서는 환경, 인권, 빈곤 등 국가가 해결하기 어려운 문제들이 많아지면서 국제 비정부 기구의 역할과 영향력이 갈수록 커지고 있다. ㉠과 ㉡ 중 어느 한쪽이 더 중요하다기보다 두 주체 모두의 역할이 증대되고 있다.

### 582 국제 행위 주체의 유형

답·바른 풀이 참조

**바른 풀이** ㉠은 국제기구, ㉡은 비정부 기구이다. ㉠ 국제기구에는 국제 연합(UN), 세계 보건 기구(WHO), 세계 무역 기구(WTO), 국제 통화 기금(IMF), 유럽 연합(EU) 등이 있다. ㉡ 비정부 기구에는 국경 없는 의사회(MSF), 그린피스, 국제 사면 위원회(앰네스티, AI), 세이브더칠드런 등이 있다.

### 583 국제 행위 주체의 특징

답·①

**바른 풀이** ① 국가(㉠)는 국제 사회에서 자국의 안전 보장과 경제적 이익 등 국익 극대화를 가장 최우선 목표로 삼아 외교 활동을 펼친다.

**오답 체크** ② 국제 연합과 세계 보건 기구는 국제기구(㉡)에 해당하지만, 국제 사면 위원회는 비정부 기구(㉢)에 해당한다. ③ 비정부 기구는 특정 국가의 경계를 넘어 범세계적인 연대를 바탕으로 활동한다. ④ 각국 정부를 회원으로 이해관계를 조정하는 주체는 국제기구이다. ⑤ 비정부 기구는 주로 환경, 인권 등 인류 공동의 이익 실현을 목적으로 한다. 특정 기업의 이익을 목적으로 활동하는 주체는 다국적 기업이다.

#### 개념 더하기 국제 행위 주체로서의 '국가'

- **가장 기본적인 주체:** 일정한 영토와 국민을 바탕으로 독립적인 주권을 행사하며, 국제 사회에서 가장 핵심적인 비중을 차지하는 행위 주체
- **국익 우선주의:** 다른 행위 주체들과 달리 외교 활동을 통해 자국의 안전 보장이나 경제적 이익 등 자국의 이익(국익) 실현을 최우선으로 함.
- **상급 정부의 부재:** 각 국가는 평등한 주권을 가지며, 국가 간의 갈등을 강제로 조정하거나 명령을 내릴 수 있는 초국가적인 세계 정부는 존재하지 않음.

### 584 국제 행위 주체의 특징

답·④

**바른 풀이** ① 국제 앰네스티는 인권 보호를 위해 민간 차원에서 결성된 비정부 기구(NGO)이다. ② 세계 보건 기구(WHO)는 보건 위기 대응을 위해 각국 정부가 회원으로 참여하는 국제기구(IGO)이다. ① 비정부 기구는 정부가 아닌 시민들이 자발적으로 결성한 비영리 단체이다. ② 국제 비정부 기구는 특정 국가의 이익보다는 인권(국제 앰네스티), 환경(그린피스) 등 전 지구적인 가치 실현을 목표로 한다. ③ 국제기구는 국가 간 협력을 통해 보건, 경제, 안보 등 국제적 과제를 해결하기 위해 설립되었다. ⑤ 두 주체 모두 보고서 발표나 캠페인 등을 통해 국제 사회의 관심을 촉구하고 각국 정부의 동참을 이끌어 내는 역할을 한다.

**오답 체크** ④ 주권을 가진 국제 사회의 가장 기본적인 행위 주체는 '국가'이다. 세계 보건 기구(WHO)는 국가들이 모여 만든 기구이지, 그 자체로 영토와 국민을 가진 국가가 아니다.

기출로	<b>실력</b>	<b>높이기</b>	128~131쪽	
585 ⑤	586 ②	587 ④	588 ②	589 ③
590 ⑤, ⑥	591 ①	592 ③	593 ③	594 ④
595 ③	596 ④			
<b>서답형</b>				
597 모범 답안 참조				
598 (1) 모범 답안 참조		(2) 모범 답안 참조		
599 (1) ㉠ 국가, ㉡ 개인 또는 민간단체		(2) 모범 답안 참조		
600 (1) 해설 참조		(2) 모범 답안 참조		

### 585 소극적 평화와 적극적 평화

답·⑤

**바른 풀이** (가) 소극적 평화는 전쟁, 테러, 폭력 등 직접적이고 물리적인 폭력이 없는 상태를 의미한다. (나) 적극적 평화는 물리적 폭력은 물론 빈곤, 차별, 억압과 같은 구조적 폭력과 이를 정당화하는 문화적 폭력까지 모두 제거된 상태를 의미한다. (다) 평화 실현이 중요한 이유는 전쟁의 위협에서 벗어나 생명을 보호하고, 모든 사람이 차별 없이 인간다운 삶을 누리며 자아를 실현하기 위해서이다. ① 직접적 폭력이 없는 상태를 소극적 평화라고 한다. ② 적극적 평화 상태에서 모든 사람의 인간다운 삶과 존엄성이

보장된다. ③ 갈등이 제시한 평화 개념으로, 모든 형태의 폭력이 사라진 진정한 평화를 의미한다. ④ 평화 실현이 중요한 이유는 전쟁이 없는 상태를 유지하는 것을 넘어 인간 존엄성을 온전하게 실현하기 위함이다.

**오답 체크** ⑤ 차별과 불평등은 '구조적 폭력'에 해당한다. 이를 해결하여 얻는 평화는 (나) 적극적 평화이다.

### 586 갈등의 평화

답·②

**바른 풀이** ㄴ. 직접적이고 물리적인 폭력의 부재는 소극적 평화의 핵심 정의이다. ㄹ. 적극적 평화는 물리적 폭력(직접적 폭력)은 물론이고 구조적 폭력과 문화적 폭력 등 모든 형태의 폭력이 사라진 상태를 의미한다.

**오답 체크** ㄱ. 소극적 평화는 단순히 물리적 충돌이 없는 상태에 집중한다. 정치적·군사적 영향력의 차이가 없거나 평등과 자유가 온전히 실현된 상태는 적극적 평화에 가깝다. ㄷ. 적극적 평화는 구조적·문화적 폭력까지 모두 제거된 상태를 지향한다. 구조적 폭력이 남아 있다면 그것은 소극적 평화에 불과하다.

#### 개념 더하기 갈등의 소극적 평화와 적극적 평화

구분	소극적 평화	적극적 평화
제거 대상	직접적 폭력 (전쟁 등)	모든 폭력 (직접 + 구조 + 문화)
폭력 예시	총격, 테러, 폭행	빈곤, 기아, 제도적 차별, 독재
상태	물리적 충돌의 정지	인간 존엄성 및 잠재력 실현

### 587 갈등의 폭력의 삼각형

답·④

**바른 풀이** 갈등의 '평화' 개념을 실제 역사적 사례인 노예제에 적용하여 폭력의 삼각형 개념을 파악하는 문제이다. ㄴ. 인간 안보(생존 보호)를 위해서는 가장 먼저 신체적 안전을 위협하는 직접적 폭력이 없어야 한다. ㄷ. 제 시문에서 흑인은 열등하다는 인종주의적 편견은 노예제라는 차별적 제도와 살해 행위를 정당화하는 논리로 쓰였다. ㄹ. 제 시문에서도 직접적 폭력이 구조적 폭력으로 확산되고, 이것이 문화적 폭력을 생산·재생산하며 서로 얽혀 있음을 설명하고 있다.

**오답 체크** ㄱ. 물리적 폭력(㉠)만 없다고 평화로운 것이 아니다. 차별(㉡)과 편견(㉢)이 남아 있다면 인간다운 삶은 불가능하다. ㄴ. 갈등은 직접적 폭력뿐만 아니라 보이지 않는 구조적·문화적 폭력을 제거하는 것이 진정한 평화를 위해 근본적으로 중요하다고 강조하였다.

### 588 갈등의 평화

답·②

**바른 풀이** 갈등의 평화 개념에 대한 문항으로 질문 A는 소극적 평화의 정의나 범위를 묻는 질문이어야 하고, 질문 B는 적극적 평화의 특징을 묻는 질문이어야 한다. ㄱ. 물리적 폭력(직접적 폭력)의 제거는 소극적 평화의 핵심 정의이므로 A에 들어가기에 적절한 질문이다. ㄹ. 모든 형태의 폭력을 제거하여 인간의 잠재력과 존엄성을 꽃피우는 것은 적극적 평화의 궁극적 목표이므로 B에 들어가기에 적절한 질문이다.

**오답 체크** ㄴ. 빈곤과 차별은 '구조적 폭력'이며 이를 해소하는 것은 적극적 평화의 특징이다. 소극적 평화에서는 간접적인 폭력의 해소를 주장하지 않기에 A에 들어가기에 적절한 질문이 아니다. ㄷ. 전쟁의 종식은 소극적 평화일 뿐이며, 이것만으로는 진정한 평화가 실현된 것이 아니기에 B에 들어갈 적절한 질문이 아니다.

### 589 갈등의 평화

답·③

**바른 풀이** 평화적 수단에 의한 평화의 실현을 주장한 사상이 갈등의 입장에 대해 묻고 있다. ㄷ. 적극적 평화는 단순히 싸움이 없는 상태가 아니라, 인간의 존엄성이 실현되고 잠재력이 꽃피울 수 있는 상태를 의미한다. ㄴ. 물

리적 가해뿐만 아니라, 빈곤이나 억압처럼 삶의 질을 떨어뜨리는 사회적 조건도 구조적 폭력으로 폭력의 한 종류이다.

**오답 체크** ㄱ. 전쟁이 끝나는 것은 소극적 평화의 시작일 뿐이다. 가난, 차별과 같은 구조적 폭력이 남아 있다면 진정한 평화(적극적 평화)라고 할 수 없다. ㄴ. 물리적 싸움이 멈췄다고 해서 사회 제도의 불평등(구조적 폭력)이 저절로 사라지는 것이 아니다. 두 폭력은 별개로 존재하거나 서로 영향을 줄 뿐, 하나가 사라진다고 해서 다른 하나가 필연적으로 사라지는 것이 아니다.

### 개념 더하기 평화적 수단에 의한 평화

- **목적과 수단의 일치:** 평화라는 고귀한 목적을 달성하기 위해 전쟁이나 테러 같은 폭력적인 수단을 사용하는 것은 정당화될 수 없으며, 반드시 평화적인 방법으로도만 평화를 이루어야 함.
- **모든 폭력의 거부:** 누군가를 직접 때리는 물리적 폭력뿐만 아니라, 사람을 굶주리게 하거나 차별하는 잘못된 사회 제도(구조적·문화적 폭력)까지도 단호하게 거부해야 함.
- **진정한 평화의 실현:** 단순히 싸움이 멈춘 상태를 넘어, 평화적인 노력을 통해 모든 사람이 인간다운 삶을 누리고 존엄성을 보장받는 '적극적 평화'를 만드는 것이 최종 목표임.

### 590 국제 사회의 갈등과 협력

답·⑤, ⑥

**바른 풀이** 오늘날의 국제 사회는 국가 간의 이해관계 충돌로 인한 갈등과 지구촌 공동의 문제를 해결하기 위한 상호 의존 및 협력이 동시에 나타나고 있다. ① 교통과 통신의 발달로 인적·물적 교류가 활발해지면서 국가 간의 경계가 낮아지고 긴밀하게 연결되었다. ② 특정 국가의 문제가 전 세계에 영향을 미치는 등 국가 간 상호 의존적 체계가 구축되었다. ③ 기후 변화, 국제 테러, 빈곤 등 공동의 대응이 필요한 과제들이 늘어남에 따라 국가 간 협력의 필요성이 더욱 커졌다. ④ 영토 분쟁이나 자원 확보, 문화적·종교적 정체성의 차이 등이 얽혀 갈등과 분쟁은 복합적으로 나타난다. ⑦ 국가뿐만 아니라 정부 간 국제기구, 국제 비정부 기구 등 다양한 행위 주체들의 연대 활동이 국제 사회 문제 해결의 핵심이 되고 있다.

**오답 체크** ⑤ 국제 사회는 주권을 가진 국가들이 평등하게 존재하는 체제이므로, 국내 사회의 정부와 같이 법적 강제력을 행사하여 갈등을 완벽히 통제할 수 있는 중앙 집권적인 세계 정부는 존재하지 않는다. ⑥ 각국이 자국의 이익을 우선시하는 것은 맞지만, 그 이익을 효과적으로 지키기 위해 오히려 국제적 협력을 선택하는 경우가 많다. 따라서 갈등과 협력은 상호 배타적이지 않다.

### 591 국제 행위 주체의 특징

답·①

**바른 풀이** (가)는 국제 연합으로 정부 간 국제기구이다. (나)는 국제 엠네스티로 국제 비정부 기구이다. ㄱ. 국제 연합(UN)은 주권 국가의 정부들이 회원으로 참여하여 국제적인 문제를 논의하고 해결하는 기구이다. ㄴ. 국제 엠네스티는 민간단체나 개인이 주도하며, 인권이라는 인류 보편적 가치 실현을 목표로 활동한다.

**오답 체크** ㄷ. 그린피스는 국제 비정부 기구가 맞지만, 세계 보건 기구(WHO)는 각국 정부가 회원인 '정부 간 국제기구'이다. ㄹ. 일정한 영토와 국민을 바탕으로 독립된 주권을 가지고 외교를 하는 주체는 '국가'이다. (가)와 (나)는 국가가 아닌 국제 사회의 또 다른 행위 주체들이다.

### 592 국제기구의 역할

답·③

**바른 풀이** 제시문에서 갈등을 중재하고 독립을 도운 주체는 국제 연합(UN)으로, 이는 국제기구 중 하나이다. ③ 국제 연합(UN)은 각국 정부가 회원으로 참여하여 국제 평화와 안전 유지를 목적으로 활동하는 대표적인 정부 간 국제기구이다. 제시문에 따르면 국제 연합(UN)은 국가 간의 이해관계 충돌이나 독립 분쟁에 개입하여 투표와 행정 지원이라는 평화적 수단으로 문제 해결을 주도하였다.

**오답 체크** ① 제시문은 국가가 아닌 정부 간 국제기구의 활약을 다루고 있으므로 자료의 핵심 내용과 부합하지 않는다. ② 국제 엠네스티와 굿네이버스는 개인이나 민간단체가 주도하는 국제 비정부 기구이다. ④ 제시문에서 활동한 주체는 비정부 기구가 아니라 정부 간 국제기구이다. ⑤ 제시문은 개인이 아닌 국제적 조직체의 체계적인 활동을 다루고 있다.

### 개념 더하기 국제 연합(UN)의 역할

- **국제 평화와 안전 유지:** 동티모르 사례처럼 분쟁 지역에 개입하여 주민 투표를 주관하거나 평화 유지군을 파견하는 등 분쟁을 평화적으로 해결하기 위해 노력함.
- **국가 간 협력 및 중재:** 각국 정부를 회원으로 하는 대표적인 '정부 간 국제기구(IGO)'로서, 개별 국가가 해결하기 힘든 이해관계를 조정하고 국제법 준수를 유도함.
- **지구촌 공동 과제 해결:** 기후변화, 감염병 확산, 인권 보호 등 인류 공동의 문제를 해결하기 위해 다양한 전문 기구(세계 보건 기구, 국제 통화 기금 등)를 통해 범세계적인 협력을 이끌어 냄.

### 593 국제 행위 주체의 특징

답·③

**바른 풀이** 국제 사회의 행위 주체들에 대한 내용을 바탕으로 학생 답안을 확인하는 문제이다. (1), (3), (4) 문항에 올바르게 답하였으므로 학생이 받은 점수는 총 3점이다.

- (1) 국가의 이익을 우선시하는 것은 '국가'이다. 국제 비정부 기구는 인권, 환경 등 인류의 보편적 가치 실현을 목적으로 활동한다. → ×
- (2) 국경 없는 의사회는 긴급 구호 활동을 하는 대표적인 국제 비정부 기구이다. → ○
- (3) 국가는 국제 사회의 가장 기본적이고 전통적인 주체이며, 다른 나라의 간섭 없이 독립적인 주권을 행사한다. → ○
- (4) 국제 연합(UN)과 같은 정부 간 국제기구는 국가 간의 갈등을 평화적으로 중재하고 협력을 이끄는 역할을 한다. → ○
- (5) 국제 사회의 행위 주체에는 국가, 국제기구뿐만 아니라 영향력 있는 개인도 포함된다. → ○

### 594 국제기구와 비정부 기구의 특징

답·④

**바른 풀이** (가)는 주권 국가의 정부들이 회원으로 참여하는 '국제기구'이다. (나)는 개인이나 민간단체를 중심으로 구성되는 '비정부 기구'이다. ① 유럽 연합(EU)은 유럽 지역 국가들의 정부가 회원으로 참여하는 대표적인 국제기구이다. ② 국제기구는 회원국인 국가들 사이의 갈등을 중재하고 협력을 이끌어 내는 역할을 수행한다. ③ 국경 없는 의사회(의료 구호)와 그린피스(환경 보호)는 정부가 아닌 민간 차원에서 조직된 비정부 기구의 대표적 사례이다. ⑤ 비정부 기구는 인권, 환경, 빈곤 구제 등 인류가 공통적으로 추구해야 할 보편적 가치를 실현하는 데 목적을 둔다.

**오답 체크** ④ 국제 연합(UN)은 각국 정부가 회원인 '국제기구'에 해당한다. 따라서 (나)의 사례가 아니라 (가)의 사례로 적절하다.

### 595 국제 행위 주체의 특징

답·③

**바른 풀이** A는 국가, B는 국제기구, C는 비정부 기구이다. ③ 비정부 기구는 민간단체가 주도하며, 국제 엠네스티는 인권 옹호를 목적으로 하는 대표적인 비정부 기구이다.

**오답 체크** ① A는 단일 '국가'이다. 두 국가 이상으로 구성된 조직체는 국제기구에 대한 설명이다. ② 국제 사회의 가장 기본적이고 전통적인 행위 주체는 국가이다. ④ 국제기구가 국가를 구성단위로 하여 조직된 단체이다. ⑤ 국제기구는 주로 국가 간의 갈등과 분쟁을 해결하고 중재하는 역할을 수행한다.

## 596 국제 비정부 기구의 특징

답·④

**바른 풀이** 제시문에서 국제 엠네스티는 튀르키예 정부의 인권 침해 실태(고문, 부당한 구금 등)를 전 세계에 알리고 인권 보호를 촉구하고 있다. 이 단체는 특정 국가의 정부가 아닌 민간 차원에서 인류 보편의 가치인 인권을 수호하기 위해 활동하는 대표적인 '국제 비정부 기구'이다. 나. 각국 정부가 회원인 국제기구와 달리, 국제 비정부 기구는 국경을 넘어 개인이나 민간단체들이 자발적으로 결성한 단체이다. 르. 제시문의 내용처럼 엠네스티는 고문 폐지나 정치범 석방 등 인류 공통의 인권 문제를 공론화하여 전 세계인들의 관심과 행동을 촉구하는 역할을 한다.

**오답 체크** ㄱ. 국제 비정부 기구는 사적인 이익이 아니라 평화, 인권, 환경 보호 등 공익적 가치를 실현하기 위해 활동한다. ㄷ. 자국의 이익을 최우선으로 하는 주체는 국가이다. 엠네스티와 같은 국제 비정부 기구는 특정 국가의 편을 들기보다 인류 전체의 보편적 정의를 위해 노력한다.

## 597 소극적 평화와 적극적 평화

**모범 답안** (구조적 폭력)은 잘못된 법이나 사회 제도에 의해 발생하는 폭력으로, 인종 차별, 빈곤, 정치적 억압, 성차별 등이 있다. (문화적 폭력)은 구조적·직접적 폭력을 당연하게 여기도록 만드는 사상이나 가치관으로, 인종주의적 이념, 특정 집단에 대한 편견, 폭력을 정당화하는 종교나 예술, 혐오 표현 등이 있다.

## 598 소극적 평화의 특징

(1) **KEY WORD** 직접적 폭력, 구조적 폭력, 문화적 폭력

**모범 답안** 소극적 평화는 전쟁이나 테러 같은 직접적 폭력만 없는 상태이므로, 빈곤이나 기아, 인권 침해와 같은 구조적 폭력이 여전히 존재할 수 있다는 한계가 있다. 반면 적극적 평화는 구조적·문화적 폭력까지 모두 제거된 진정한 평화 상태를 의미한다.

채점 기준	수준
소극적 평화의 한계점으로 구조적·문화적 폭력이 존재할 수 있음을 언급하고, 이를 적극적 평화의 개념과 연결하여 정확하게 서술한 경우	상
소극적 평화의 한계점(구조적 폭력 등)은 제시하였으나, 적극적 평화와의 비교 설명이 다소 부족한 경우	중
평화의 개념을 단순 나열하거나, 소극적 평화와 적극적 평화의 차이점을 잘못 서술한 경우	하

(2) **모범 답안** 실질적인 국제 평화를 이루려면 전쟁을 방지하는 소극적 평화를 넘어 모든 종류의 폭력을 제거하여 인류의 존엄성을 보장하는 적극적 평화를 실현하기 위해 노력해야 한다.

채점 기준	수준
'소극적 평화'와 '적극적 평화'라는 두 용어를 모두 정확히 사용하고, 실질적 평화 실현의 구체적 방향을 논리적으로 서술한 경우	상
제시된 용어 중 하나만 사용하거나, 두 용어를 모두 사용했다라도 실천 방안에 대한 설명이 구체적이지 못한 경우	중
제시된 용어를 사용하지 않았거나, 서술 내용이 문제의 취지와 관련 없는 경우	하

## 599 국제 사회의 행위 주체

(1) ㉠ 국가, ㉡ 개인 또는 민간단체

(2) **모범 답안** ㉠의 역할: 국가 간의 협력을 바탕으로 난민에게 구호 물품을 배포하는 등 인도주의적 구호 활동 및 국제적 중재 역할을 수행한다.

㉡의 역할: 민간 차원에서 인권 침해 실태를 조사하여 보고서를 작성하고, 기업이나 정부의 행동 변화를 촉구하는 등 인권 옹호 및 감시 역할을 수행한다.

채점 기준	수준
제시문에서 수행하는 구체적인 활동(구호 물품 배포, 인권 보고서 발표 등)을 바탕으로 국제기구와 비정부 기구의 역할을 명확히 구분하여 서술한 경우	상
각 기구의 역할을 서술하였으나, 제시문의 사례와 연결하지 않고 일반적인 특징만 나열하거나 설명이 일부 미흡한 경우	중
두 기구의 역할을 구분하지 못하거나, 제시문의 내용과 관련 없는 서술을 한 경우	하

## 600 국제 사회의 행위 주체

(1) ㉠ 영향력 있는 개인, ㉡ 국제기구, ㉢ 국가

(2) **모범 답안** 국제 평화와 안전을 유지하기 위해서이다. / 전쟁 방지 및 분쟁 지역의 치안 유지와 재건 활동을 돕기 위해서이다. / 국제적인 협력을 통해 인류 공통의 문제를 해결하기 위해서이다.

채점 기준	수준
국제 연합(UN)의 설립 목적인 국제 평화 유지, 분쟁 중재, 국가 간 협력 등 핵심 내용을 한 가지 이상 정확히 서술한 경우	상
설립 목적은 서술하였으나, 내용이 지나치게 포괄적이거나 표현이 다소 미흡한 경우	중
설립 목적과 관련 없는 내용을 서술하거나 오답을 적은 경우	하

## 기출로 1등급 도전하기

132~133쪽

601 ⑤    602 ①    603 ⑤    604 ④    605 ②  
606 ③    607 ③    608 ③

## 601 갈등의 평화

답·⑤

**바른 풀이** 제시문의 사상가는 갈등이다. 갈등은 평화를 두 가지 종류로 구분하고, 소극적 평화를 넘어 모든 폭력이 제거된 적극적 평화로 나아갈 것을 주장한다. 나. 진정한 평화는 적극적 평화 상태로, 소극적 평화의 조건인 '직접적 폭력의 제거'를 기본 전제로 하며, 그 너머의 구조적·문화적 폭력까지 해결된 상태를 의미한다. 르. 구조적 폭력은 특정 개인의 의도와 상관 없이 사회 체제나 제도 내에 내재되어 나타난다. 이러한 구조적 불평등은 진정한 평화 실현의 장애물이 된다. 르. 제시문의 내용처럼 문화적 폭력은 직접적 폭력이나 구조적 폭력을 합리화하거나 정당화하는 역할을 수행한다.

**오답 체크** ㄱ. 갈등의 평화는 모든 종류의 폭력을 제거하는 것을 목적으로 한다. 적극적 평화를 실현한다는 명목으로 또 다른 폭력을 사용하는 것은 갈등의 사상과 맞지 않다.

## 개념 더하기 갈등의 진정한 평화

- **모든 폭력의 제거:** 전쟁이나 테러 같은 물리적 폭력뿐만 아니라, 가난이나 차별 같은 구조적 폭력과 이를 정당화하는 문화적 폭력까지 모두 사라진 상태
- **인간 존엄성 실현:** 단순히 싸우지 않는 것을 넘어, 사회 구성원 모두가 억압받지 않고 자신의 잠재력을 마음껏 발휘하며 인간답게 사는 것

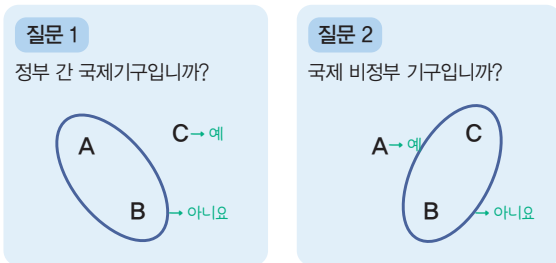
## 602 국제 행위 주체의 유형

답·①

**바른 풀이** A는 국제 사면 위원회(국제 엠네스티), B는 국가 내부적 행위체, C는 세계 무역 기구이다. <질문 1>에 '예'라고 답할 주체는 '세계 무역 기구'이고, '아니요'라고 답할 주체는 '국제 사면 위원회'와 '국가 내부적 행위체'이다. 따라서 C는 '세계 무역 기구'이다. <질문 2>에 '예'라고 답할 주체는 '국제 사면 위원회'이고, '아니요'라고 답할 주체는 '세계 무역 기구'와 '국가 내부적 행위체'이다. 따라서 A는 '국제 사면 위원회'이다. ㄱ. 국제 사면 위원회는 국제 비정부 기구이므로 개인이나 민간단체를 회원으로 하기에 맞는 내용이다. ㄴ. 지방 정부나 특정 사회 집단은 국가라는 틀 안에서 활동하는 국가 내부적 행위체이다.

**오답 체크** ㄷ. 국제 사회의 가장 기본적으로 대표적인 행위 주체는 국가이다. 세계 무역 기구는 정부 간 국제기구이다. ㄹ. <질문 1>에 대해 A와 B는 모두 '아니요'라는 응답으로 묶였다.

### 자료 분석



\* A~C는 각 질문에 대해 '예' 또는 '아니요'라는 같은 응답으로 묶인다.

→ 문제에 제시된 국제 행위 주체인 '국제 사면 위원회', '국가 내부적 행위체', '세계 무역 기구'가 두 가지 질문에 어떻게 답변할 것인지 알아본 뒤 A, B, C가 각각 무엇에 해당하는지 찾아야 한다.

## 603 적극적 평화

답·⑤

**바른 풀이** (가)는 적극적 평화를 진정한 평화 상태로 보고 있다. (나)는 구조적 폭력 사례를 보여 준다. 아프리카 흑인이 거주, 취업, 이동의 자유를 제한받고 제도적으로 차별받는 상황으로, 사회 시스템에 의한 구조적 폭력의 전형적인 모습이다. ⑤ (나)에서 나타난 인종 차별과 제도적 불평등을 '폭력'으로 규정하고, 이를 해결해야 진정한 평화가 온다는 (가)의 핵심 주장과 가장 일치한다.

**오답 체크** ① 차별을 정당화하는 관습은 갈등이 정의한 문화적 폭력에 해당한다. (가)의 관점에서는 이러한 문화적 폭력을 제거해야 한다고 본다. ② 전쟁이나 테러 방지는 소극적 평화의 영역으로 (가)가 지향하는 적극적 평화보다는 좁은 개념을 다루고 있다. ③ (가)는 소극적 평화를 넘어서 적극적 평화를 강조하므로 적절하지 않다. ④ 전쟁 억제에만 초점을 맞춘 전형적인 소극적 평화의 관점으로 (가)가 지향하는 적극적 평화와 거리가 멀다.

## 604 현대 국제 사회의 특징

답·④

**바른 풀이** (가)와 (나)는 현대 국제 사회에서 발생하는 분쟁의 원인과 양상을 다루고 있다. (가)는 팔레스타인-이스라엘 분쟁을, (나)는 남중국해의 난사 군도 분쟁을 다루고 있다. ④ (가)에서 영토 확장을 위해 전쟁을 치르는 상황, (나)에서 자원과 전략적 가치를 위해 영유권을 주장하는 모습은 자국의 실리를 위해 힘을 앞세우는 국제 사회의 현실을 보여 준다.

**오답 체크** ① 제시문은 이념보다는 영토, 자원, 실리 등에 초점이 맞춰져 있다. ② 제시문에는 국제기구가 주도적으로 분쟁을 해결하거나 권한이 커졌다는 내용이 없다. ③ 세계화와 경제적 불평등에 관한 내용은 제시문에 나타나 있지 않다. ⑤ (가)에서 비정부 기구의 주도적 역할은 드러나지 않았다.

### 자료 분석

(가) 이스라엘은 1960년대에 주변 아랍 국가들과 전쟁을 치르면서 영토를 넓혀 갔다. 이에 저항하는 팔레스타인 주민은 '팔레스타인 해방 기구'를 만들고 자치권을 요구하였다.

(나) 중국, 베트남, 필리핀, 말레이시아, 브루나이, 타이완이 서로 영유권을 주장하고 있다.

→ (가) 사례는 민족, 종교, 영토 문제가 복합적으로 얽힌 장기적 분쟁의 전형이다. (나) 사례는 경제적 실리(자원)와 군사적 요충지 확보를 둘러싼 국가 간의 대립을 잘 보여 준다. 두 사례 모두 자국의 경제적 이익이나 영토 확보 등의 실질적 이익을 우선시하는 국제 관계의 모습을 보여 준다.

## 605 국제 행위 주체의 특징

답·②

**바른 풀이** A는 정부가 아닌 민간 차원의 결합체로 국제 비정부 기구(NGO)이다. 인권 보호, 환경 보전, 구호 활동 등 공공의 이익을 추구하는 단체이다. B는 국경을 넘어 세계 여러 나라에 생산 공장이나 연구소 등을 두고 활동하는 다국적 기업이다. 상품의 생산과 판매를 통해 경제적 이윤을 극대화하는 것을 목표로 한다. C는 국가로 영토, 국민, 주권이라는 구성 요소를 갖추고 있다. ㄱ. 국제 비정부 기구는 개인이나 민간단체를 회원으로 하여 결성된다. ㄷ. 국가는 국제법상 자격을 갖춘 가장 핵심적이고 기본적인 행위 주체이다.

**오답 체크** ㄴ. 다국적 기업은 세계화가 진행됨에 따라 자본력과 기술력을 바탕으로 국제 사회에서의 영향력이 오히려 확대되고 있다. ㄹ. 국가가 회원으로 가입하는 주체는 '국제기구'이다. 국제 비정부 기구는 정부가 아닌 민간 차원의 결합이다.

## 606 소극적 평화와 적극적 평화

답·③

**바른 풀이** 을은 물리적 폭력의 제거에 주목하고 있는 반면, 갑은 물리적 폭력 이외에도 발생하는 또 다른 형태의 폭력의 제거까지 주장하고 있다. 따라서 갑은 적극적 평화를 추구하고, 을은 소극적 평화를 추구한다. ㄴ. 적극적 평화를 추구하는 갑은 구조적 폭력인 인종 차별도 제거해야 할 폭력으로 보기에 '예'라고 답한다. 반면 소극적 평화를 추구하는 을은 물리적 폭력에 집중하므로 인종 차별 그 자체를 평화의 직접적 조건으로 보지 않아 해당 질문에 '아니요'라고 답한다. 따라서 B에 들어갈 적절한 질문이 된다. ㄷ. 적극적 평화를 추구하는 갑은 문화적 폭력의 제거까지 주장하지만, 소극적 평화를 추구하는 을은 물리적 폭력의 제거만을 이야기한다. 따라서 갑은 '예', 을은 '아니요'라고 대답할 질문이므로 B에 들어갈 수 있다.

**오답 체크** ㄱ. A의 답은 '예'라는 선택지만 있다. '예'라고 답하면 '갑'의 주장에 한정되므로 A에 적절한 질문이 아니다. ㄹ. C의 답은 '예'라는 선택지만 있다. '예'라고 답하면 '갑'의 주장에 한정되므로 C에 적절한 질문이 아니다.

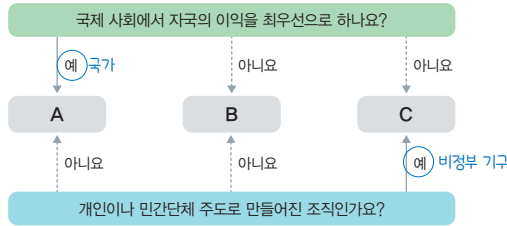
## 607 국제 행위 주체의 특징

답·③

**바른 풀이** A는 국가, B는 비정부 기구, C는 국제기구이다. '자국의 이익을 최우선으로 추구하는가?'라는 질문에 '예'라고 답할 주체는 '국가'이므로 A가 국가임을 알 수 있다. '각국의 정부를 회원으로 하는가?'라는 질문에 '예'라고 답할 주체는 '국제기구'이므로 C가 국제기구임을 알 수 있다. ㄴ. 국제기구인 국제 연합(UN)은 국제법이나 규약을 만들고 관리하며 국제 사회의 질서를 세우는 중요한 역할을 한다. ㄷ. '개인이나 민간단체를 회원으로 하는가?'라는 질문에 대해 비정부 기구는 '예', '국가'와 '국제기구'는 '아니요'라고 답한다. 제시된 표에서 B만 '예'라고 되어 있으므로 (가)에 들어갈 적절한 질문이 된다.

**오답 체크** ㄱ. 주권을 행사하는 주체는 국가이다. 국제기구나 비정부 기구는 국가와 같은 물리적 강제력을 가진 주권을 행사할 수 없다. ㄷ. 세계화와 정보화가 진행됨에 따라 국가의 경계가 낮아지고, 환경·인권 등 전 지구적 문제 해결을 위해 비정부 기구와 국제기구의 역할과 비중이 점점 커지고 있다.

다음 그림은 국제 사회의 행위 주체 A~C를 구분한 것이다. 이에 대한 설명으로 옳지 않은 것은? (단, A~C는 각각 국가, 국제기구, 비정부 기구 중 하나임)



- ① A는 국제 사회에서 독립적 주권을 행사하는 주체이다.
- ② B는 A를 구성단위로 구성된 조직체이다.
- ③ B는 C 간의 갈등과 분쟁을 해결하는 조직이다.
- ④ C는 국경을 초월하여 집단행동을 이끌어 내는 역할을 한다.
- ⑤ C의 역할로는 국제 구호 및 인권 침해 사례 고발 등이 있다.

**등급 문제 풀이 비법**

**STEP 1 A~C가 각각 무엇인지 찾는다.**

- 첫 번째 질문: “국제 사회에서 자국의 이익을 최우선으로 하나요?”  
예(A): 국가 (독립적인 주권을 가지고 자국의 생존과 이익을 추구하는 가장 기본적이고 전통적인 주체)  
아니요(B, C): 국제기구나 비정부 기구는 특정 국가의 이익보다는 설립 목적이나 인류 보편의 가치를 지향함.
- 두 번째 질문: “개인이나 민간단체 주도로 만들어진 조직인가?”  
예(C): 비정부 기구 (그린피스, 국경 없는 의사회처럼 개인이 중심이 되어 결성함)  
아니요(B): 국제기구 (UN, EU처럼 국가를 회원으로 하여 정부 간 협의를 통해 만들어짐)
- 결과: A=국가, B=국제기구, C=비정부 기구

**STEP 2 ①~⑤ 선지의 옳고 그름을 파악한다.**

- ① 옳음. A는 국가이다. 국가는 영토, 국민, 주권을 가진 국제 사회의 가장 핵심적인 행위 주체이다.
- ② 옳음. B는 국제기구이다. 국제 연합(UN)이나 세계 무역 기구(WTO)와 같은 국제기구는 국가(정부)가 회원국이 되어 활동한다.
- ③ 틀림. 국제기구는 주로 국가(A) 간의 갈등과 분쟁을 조정하거나 협력을 이끌어 내는 역할을 한다. 비정부 기구 간의 갈등을 해결하는 것이 주된 목적이 아니다.
- ④ 옳음. C는 비정부 기구이다. 비정부 기구는 환경 보호나 인권 구호 활동 등 전 세계적인 연대를 통해 여론을 형성하고 행동을 촉구한다.
- ⑤ 옳음. 국제 앰네스티 등의 비정부 기구는 국제 구호 및 인권 침해 사례 고발 등을 수행한다.

**13 남북 분단 및 동아시아 역사 갈등과 세계 평화**

**핵심개념 확인 문제**

135쪽

- |        |               |          |       |       |
|--------|---------------|----------|-------|-------|
| 609 ㉠  | 610 ㉡         | 611 ㉢    | 612 × | 613 × |
| 614 ㉣  | 615 분단 비용     | 616 동북공정 |       |       |
| 617 독도 | 618 한국 국제 협력단 | 619 ㉤    | 620 ㉥ |       |
| 621 ㉦  | 622 ㉧         |          |       |       |

**기출로 기본 다지기**

136~137쪽

- |       |          |                          |       |       |
|-------|----------|--------------------------|-------|-------|
| 623 ㉢ | 624 ㉡, ㉥ | 625 ㉡                    | 626 ㉢ | 627 ㉠ |
| 628 ㉣ | 629 ㉢    | 630 (가) 시사 군도, (나) 난사 군도 |       |       |
| 631 ㉢ | 632 ㉢    |                          |       |       |

**623 남북 분단의 과정**

답·③

- 바른 풀이** (다) - (나) - (가) - (라) 순서로 전개되었다.
- (다) 광복(1945년 8월 15일): 일제 강점기가 끝나고 한반도가 해방된 시점이다. 이후 미·소가 38도선을 경계로 분할 점령하였다.
  - (나) 5·10 총선거(1948년 5월 10일): 국제 연합(UN)의 결정에 따라 남한 지역에서만 실시된 우리나라 최초의 민주적 선거이다. 이 선거를 통해 제헌 국회가 구성되었다.
  - (가) 대한민국 정부 수립(1948년 8월 15일): 제헌 헌법을 공포한 후, 광복 3주년 기념일에 맞춰 대한민국 정부 수립을 국내외에 선포하였다.
  - (라) 6·25 전쟁(1950년 6월 25일): 정부 수립 이후 북한의 불법 남침으로 전쟁이 일어났다.

**개념 더하기 남북 분단의 역사적 과정**

- **분할 점령**: 1945년 광복 직후, 미국과 소련이 38도선을 경계로 한반도를 남북으로 나누어 군정을 실시하며 분단의 시초가 됨.
- **정부 수립**: 통일 정부 수립을 위한 논의가 결렬되자, 1948년 남북한에 각각 서로 다른 체제의 정부가 들어서며 정치적 분단이 고착화됨.
- **전쟁과 분단 고착**: 1950년 발생한 6·25 전쟁과 휴전 협정을 거치며 군사 분계선이 확정되었고, 이로 인한 분단 상태가 지금까지 이어짐.

**624 통일의 비용과 편익**

답·②, ⑥

- 바른 풀이** (가)는 통일 편익, (나)는 통일 비용, (다)는 분단 비용이다. ① 통일 편익은 통일이 된 시점부터 미래 세대까지 지속적으로 발생하는 이점이다. ③ 통일 비용은 더 큰 이익을 위한 투자적 성격인 반면, 분단 비용은 소멸해 버리는 소모적 성격이다. ④ 이산가족의 고통은 화폐로 환산하기 어려운 무형의 비경제적 분단 비용에 해당한다. ⑤ 통일이 되면 분단 상태에서 들던 분단 비용은 사라지지만, 통일 비용과 통일 편익이 발생한다.

**오답 체크** ② 통일이 늦어질수록 남북의 격차가 벌어지기 때문에 통일 비용은 오히려 증가한다. ⑥ 통일 이후 시간이 흐를수록 소모적인 분단 비용은 소멸하고, 미래를 위한 이득인 통일 편익은 점차 증대하여 (가)가 (다)보다 커지게 된다.

**625 남북 통일의 필요성**

답·②

- 바른 풀이** ① 통일은 전쟁의 위협이라는 근본적인 불안 요소를 제거하여 한반도의 안보 수준을 높여준다. ③ 오랜 분단으로 생겨난 남북의 차이를 극복하고 하나의 공동체를 형성하는 사회·문화적 측면의 필요성을 설명하고 있다. ④ 단절된 철도와 도로를 연결함으로써 물류 비용을 절감하고 지정학적 이점을 극대화하는 경제적 측면의 필요성을 설명하고 있다. ⑤ 이

산가족 상봉, 북한 주민의 인권 개선 등 인류의 보편적 가치를 실현한다는 인도주의적 측면의 필요성이다.

**오답 체크** ② 경제 협력은 남북 간의 격차를 줄여 통일 비용을 절감하는 역할을 할 수는 있지만, 체제 통합과 사회 복지 등에 들어가는 통일 비용을 아예 없앨 수는 없다.

### 626 평화 통일을 위한 노력 답·③

**바른 풀이** 독일 통일 사례를 통해 한반도 통일의 방향성을 묻는 문제이다. 제시문에서 '서독 정부의 일관된 정책', '교류 지속', '주변 국가에 외교 공세' 등을 찾을 수 있다. ③ 서독과 동독은 꾸준히 교류하여 통일의 기운을 무르익게 하였다. 이는 통일 비용을 줄이고 민족 동질성을 회복하는 밑거름이 되는 것으로 한반도 통일에 큰 교훈이 된다.

**오답 체크** ① 통일 이전부터 동독과 서독 간의 교류가 지속되었다. 이질성 극복을 위한 노력은 통일 전부터 꾸준히 이루어져야 한다. ② 서독이 '주변 국가에 외교 공세를 펼쳤다는 점'을 통해, 통일에는 주변 강대국들의 지지와 협력이 필수적임을 알 수 있다. ④ 독일 통일은 군사적 압박이 아닌 평화적 교류와 외교적 노력을 통해 이루어졌다. 과도한 군비 경쟁은 오히려 분단 비용을 늘리고 긴장을 고조시킨다. ⑤ 독일이 갑작스러운 통일 이후 막대한 비용으로 경제적 혼란을 겪었던 사례를 비추어 볼 때, 통일 비용에 대한 대비 연구는 통일 전에 철저히 이루어져야 한다.

#### 개념 더하기 독일 통일이 주는 교훈

- **평화적 교류의 지속:** 서독의 동방 정책처럼 분단 상황에서도 끊임없는 대화와 민간 교류를 통해 남북 간의 신뢰를 쌓고 동질성을 회복해야 함.
- **철저한 사전 대비:** 독일이 통일 후 겪은 경제적 진통을 반면교사 삼아, 통일 비용에 대한 구체적인 연구와 경제적 대비책을 미리 마련해야 함.
- **능동적인 국제 외교:** 독일이 주변국의 동의를 얻어냈듯이, 우리나라도 주변 강대국들의 지지와 협력을 이끌어낼 수 있는 적극적인 외교 전략이 필요함.

### 627 중국과의 역사 갈등 답·①

**바른 풀이** 제시문은 고구려를 중국의 지방 정권으로 치부하고 있으므로, 고구려의 독자성에 초점을 맞춘 반박을 찾아야 한다. ① 고구려는 독자적인 연호를 사용하고, 수·당과 대등한 위치에서 외교와 전쟁을 벌였다. 따라서 수·당과의 전쟁은 지방 정권의 반란이 아닌 국가 간의 '국제 전쟁'으로 보는 것이 맞다.

**오답 체크** ② 고조선에 대한 설명으로 제시문에서 다루는 고구려-동북공정 문제에 대한 직접적인 반박으로는 적절하지 않다. ③, ④ 독도 관련 역사적 근거로 주제와 벗어난 선지이다. ⑤ 당시 동아시아에서 '책봉'은 실제적인 지배-피지배 관계라기보다는 실리를 챙기기 위한 외교적 형식에 가까웠다. 고구려는 책봉을 받으면서도 독자적인 연호를 사용하고 수·당과 전쟁을 벌였기 때문에, 책봉을 받았다는 사실만으로 '지방 정권'이라 단정 짓는 것은 동북공정의 논리와 같은 역사 왜곡이다. ⑥ 내용 자체는 사실이지만, 제시문의 핵심 논점인 '고구려-수·당 전쟁의 성격'에 대한 직접적인 반박 근거로는 적절하지 않다.

### 628 일본의 역사 교과서 왜곡 답·④

**바른 풀이** 일본의 역사 교과서 왜곡과 관련된 구체적인 사례를 구분하는 문제이다. 제시문에 나타난 '식민지 지배와 침략 전쟁의 정당화'라는 맥락과 연관된 사례를 찾으면 된다. ㄱ. 일본은 교과서에서 전쟁 범죄의 핵심인 위안부 강제 동원 사실을 삭제하거나 기술을 축소함으로써 침략 전쟁의 과오를 은폐하고 있다. ㄴ. 독도를 일본의 고유 영토라 주장하며, 한국이 이를 불법 점거하고 있다는 왜곡된 주장을 교과서에 싣고 있다. ㄷ. '침략'이라는 단어가 주는 부정적 이미지를 세たく기 위해 '진출'과 같은 가치 중립적이거나 긍정적인 용어로 바꾸어 침략 전쟁을 정당화하고 있다.

**오답 체크** ㄹ. 일본의 역사 왜곡은 식민지 근대화론에 입각하여 일본의 지배 덕분에 한국이 근대화되고 삶이 개선되었다고 강조하여 서술하고 있다.

#### 개념 더하기 일본의 역사 왜곡 방식

- **침략 및 전쟁 범죄 은폐:** 교과서에서 '침략'을 '진출'로 미화하고, 일본군 '위안부' 강제 동원 등 반인륜적인 범죄 사실을 삭제하거나 축소
- **부당한 영토 주장:** 역사적·지리적·국제법적으로 명백한 대한민국의 영토인 독도를 일본의 영토라고 우기며 한국이 불법 점거하고 있다고 주장
- **식민 지배 정당화:** 철도 건설 등 일부 근대화 시설 확충을 내세워 자신들의 지배가 우리나라의 발전에 이바지했다는 식민지 근대화론 유포

### 629 동아시아의 역사 갈등 답·③

**바른 풀이** ㄴ. 일본 지도부의 신사 참배는 과거 침략 전쟁의 가해자들을 추모하는 행위로, 동아시아 국가 간의 역사 인식 및 과거사 갈등에 해당한다. ㄷ. 식민 지배를 정당화하거나 침략을 미화하는 등 잘못된 사실을 가르치는 역사 갈등의 대표적 사례이다.

**오답 체크** ㄱ. 러시아와 일본 사이의 영토 분쟁 사례이다. ㄹ. 중국과 일본 사이의 영토 분쟁 사례이다.

#### 개념 더하기 동아시아의 갈등

갈등 유형	주요 사례	성격
역사 갈등	동북공정(고구려/발해사), 역사 교과서 왜곡, 야스쿠니 신사 참배	과거사 인식 및 기록에 대한 대립
영토 갈등	센카쿠 열도(중·일), 쿠릴 열도(러·일), 남중국해 분쟁	실질적인 영토 지배권에 대한 대립

### 630 동아시아의 영토 분쟁 답·바른 풀이 참조

**바른 풀이** • (가): 시사 군도(파라셀 제도) - 중국, 베트남, 타이완 사이의 영토 분쟁 지역이다.

• (나): 난사 군도(스프레틀리 군도) - 중국, 필리핀, 베트남, 말레이시아, 브루나이, 타이완이 영유권을 주장하는 지역이다.

### 631 동아시아 역사 갈등 해결 노력 답·③

**바른 풀이** ③ 관련국 학자들이 참여하는 공동 역사 연구 및 공동 교과서 제작 등은 서로 다른 역사 해석의 간극을 좁히고 공통된 역사 인식을 형성하는 바람직한 방법이다.

**오답 체크** ① 불편한 진실을 숨기거나 축소하는 것은 임시방편일 뿐이므로 객관적인 사실을 바탕으로 성찰하고 대화해야 한다. ② 역사 문제는 정치적 이해관계가 개입되기 쉬우므로 학술적 자율성이 보장되는 민간 및 학계의 공동 연구가 병행되어야 한다. ④ 자국 중심의 배타적인 역사관은 오히려 갈등을 심화시키고 상대국과의 불신을 키우는 원인이 된다. ⑤ 유네스코(UNESCO)와 같은 국제기구 및 국제 사회와의 연대를 통해 객관성을 확보하고 국제적 공감대를 형성하는 노력이 필요하다.

### 632 세계 평화를 위한 우리나라의 노력 답·③

**바른 풀이** ① 한반도의 평화 통일은 동아시아 지역의 안보 불안을 해소하고, 더 나아가 세계 평화에 이바지하는 중요한 발판이 된다. ② 우리나라는 국제 연합(UN)의 일원으로서 국제 사회의 분쟁 지역에 평화 유지군(PKO)을 파견하여 실질적인 평화 정착을 돕고 있다. ④ 공적 개발 원조 등을 통해 국제 사회의 빈곤 문제를 해결하는 것은 '소극적 평화'를 넘어 '적극적 평화'를 실현하는 중요한 방법이다. ⑤ 기후 위기와 환경 문제는 전 지구적 안전을 위협하는 요소이다. 이를 위한 국제적 연대는 미래 세대를 위한 평화 구축의 필수 과제이다.

**오답 체크** ③ 과도한 군비 증강과 힘의 우위 경쟁은 국가 간 불신을 키우고 긴장을 고조시킬 수 있다. 국제 평화는 대화와 협력을 통해 구축하는 것이 원칙이다.

633 ④	634 ③	635 ②	636 ②	637 ④
638 ④	639 ①	640 ③	641 ⑤	642 ②
643 ①	644 ①	645 ④		

**서답형**

- 646 모범 답안 참조
- 647 (1) 난사 군도 (2) 모범 답안 참조
- 648 (1) 동북공정 (2) 모범 답안 참조
- 649 모범 답안 참조

**633 남북 분단의 과정** 답·④

**바른 풀이** 남북 분단의 과정을 시간 순서대로 나열하면 ‘(다) - (가) - (라) (마) - (나)’이다.

- (다) 미국과 소련이 북위 38도선을 경계로 군대 주둔(1945년 8~9월): 광복 직후, 한반도의 무장 해제를 명분으로 미·소 양군이 38도선을 경계로 남북에 각각 주둔하며 분단이 시작되었다.
- (가) 선거 가능한 남한 지역에서만 5·10 총선거 실시(1948년 5월 10일): 남북 협상이 결렬되고 국제 연합(UN)의 결정에 따라 선거가 가능한 남한 지역에서 우리나라 역사상 최초의 근대적 민주 선거가 치러졌다.
- (라) 제헌 헌법 제정하고 국회에서 이승만 대통령 선출(1948년 7월): 5·10 총선거로 구성된 제헌 국회에서 대한민국 헌법을 공포(7월 17일)하고, 초대 대통령으로 이승만을 선출(7월 20일)하였다.
- (마) 광복 3주년 기념일에 대한민국 정부 수립(1948년 8월 15일): 대한민국 정부 수립이 국내외에 선포되었다.
- (나) 북한이 북위 38도선 불법 남침(1950년 6월 25일): 정부 수립 약 2년 후, 북한의 기습 남침으로 6·25 전쟁이 발발했다.

**634 통일과 관련된 비용** 답·③

**바른 풀이** ㉠은 통일 비용, ㉡은 분단 비용, ㉢은 통일 편익이다. ㉠. 통일 비용은 통일 이후 남북한의 체제 통합, 인프라 구축, 사회 보장 등에 들어가는 비용이며, 통일 초기 사회적 혼란을 막기 위한 치안 유지비와 북한 주민에 대한 긴급 구호 비용 등이 포함된다. ㉡. 분단 비용은 분단이 지속됨으로써 발생하는 유·무형의 지출이다. 남북이 국제 사회에서 경쟁하며 쓰는 외교비와 북한 지역의 개발 제한으로 인한 국토 불균형은 분단 때문에 치르는 대가로 분단 비용에 포함된다.

**오답 체크** ㉢. 통일 비용은 인프라 구축이나 제도 통합을 위해 초기에 집중적으로 들어가는 ‘투자적’ 성격의 비용이다. 지속적으로 사라지는 ‘소모적’ 비용은 분단 비용이다. ㉡. 제시된 유·무형의 비용은 분단 비용의 예시이다. 통일 편익은 이러한 비용들이 사라짐으로써 얻게 되는 이익을 의미한다.

**개념 더하기** **통일 관련 비용**

- **분단 비용:** 남북 대립으로 인한 국방비나 이산가족의 고통처럼 사라지는 소모성 비용으로, 통일 전까지 계속 지출됨.
- **통일 비용:** 통일 후 남북의 체제와 인프라를 통합하기 위해 드는 비용으로, 미래의 발전을 위한 투자적 성격을 지님.
- **통일 편익:** 전쟁 공포 해소와 시장 확대 등 통일로 얻는 모든 이득으로, 장기적으로는 통일 비용보다 훨씬 큼.

**635 통일과 관련된 비용** 답·②

**바른 풀이** 제시문의 (가)는 ‘분단 비용’이다. 분단 비용은 국방비와 같은 직접적 비용뿐만 아니라 이산가족의 고통, 국토 이용의 제한과 같은 간접적 비용을 모두 포함한다.

㉢. 분단 비용은 통일이 되면 소멸하는 비용이다. 다만 통일 직후에는 체제 통합을 위한 ‘통일 비용’이 일시적으로 발생한다. ㉡. 분단 비용의 가장 큰 특징이다. 생산적인 곳에 쓰이지 못하고 대립과 갈등을 위해 계속 사라지는 소모성 지출이다.

**오답 체크** ㉠. 남북 교류 협력 비용은 분단 상황을 극복하기 위해 자발적으로 지출하는 비용으로, 분단 때문에 어쩔 수 없이 버려지는 분단 비용과는 구분된다. ㉡. 통일 비용에 대한 정의이다. 분단 비용은 버려지는 소모성 비용인 반면, 통일 비용은 미래를 위한 투자적 성격의 비용이다.

**636 남북통일의 필요성** 답·②

**바른 풀이** ㉠. 현재 우리나라는 분단으로 인해 육로가 막혀 섬처럼 고립된 상태이다. 통일이 되면 유라시아 대륙과 태평양을 잇는 물류와 교통의 중심지로서 반도 국가 특유의 지리적 이점을 온전히 누릴 수 있다. ㉡. 막대한 분단 비용(국방비 등)이 절감됨으로써 그 예산을 복지, 교육, 의료 등 민생 복지를 위한 통일 편익으로 전환하여 국민 전체의 삶을 윤택하게 만들 수 있다.

**오답 체크** ㉠. 남한과 북한의 역할을 반대로 설명하고 있다. 통일 경제의 시너지 효과는 ‘남한의 자본과 기술력’, ‘북한의 노동력과 지하자원’이 결합하여 나타난다. ㉡. 통일은 오랜 분단으로 쌓인 오해와 이질감을 해소하고, 민족적 유대감을 회복하여 장기적으로 사회 갈등을 해결하고 통합하는 계기가 된다.

**637 통일을 바라보는 서로 다른 관점** 답·④

**바른 풀이** (가)의 관점은 이산가족의 고통 치유, 민족 공동체 의식 회복, 민족의 동질성 회복을 강조한다. 그렇기에 인도주의적 효과와 문화 통합적 효과를 매우 중요하게 생각하는 관점이다. (나)의 관점은 단일 시장 형성, 국내 경제 활성화, 남한의 기술과 북한의 자원 결합 등을 강조한다. 그렇기에 경제적 효과를 가장 우선시하는 관점이다.

- 문화 통합적 효과 강조 정도: (나)는 경제를 강조하므로 (가)보다 낮다.
- 인도주의적 효과 강조 정도: (나)는 실익을 중시하므로 (가)보다 낮다.
- 경제적 효과 강조 정도: (나)의 핵심 키워드로 (가)보다 높다.

**638 동북공정의 배경과 목적** 답·④

**바른 풀이** 제시문은 동북공정에 대한 내용이다. 동북공정은 중국이 2002년부터 추진한 국가적 프로젝트로, 현재의 중국 국경 안에서 일어난 모든 역사를 중국의 역사로 편입하려는 시도이다. 특히 고구려, 발해 등을 중국사의 일부로 왜곡하는 것이 주요 내용이다. ㉠. 중국은 수많은 소수 민족으로 구성된 국가이다. 동북 지역의 소수 민족(조선족 등)이 역사적 정체성을 바탕으로 동요하거나 독립을 요구하는 것을 방지하고 내부 결속을 다지기 위한 정치적 목적이 크다. ㉡. 한반도가 통일되었을 때 발생할 수 있는 간도 지역 등의 영토 영유권 분쟁에 대비하여, “이곳은 옛날부터 중국의 땅이었다”는 역사적 근거를 미리 만들어 두려는 전략적 의도가 깔려 있다.

**오답 체크** ㉢. 동북공정은 역사와 영토에 관한 프로젝트이지 북한의 핵무기 개발 문제를 해결하기 위한 외교적·군사적 방안과는 거리가 멀다. ㉡. 동북공정은 주로 한반도와의 역사 및 영토적 접점과 관련된 갈등이다. 일본과의 영토 분쟁(센카쿠 열도 등)은 동북공정보다는 동중국해 관련 정책과 연결된다.

**개념 더하기** **동북공정**

- **정의:** 중국이 현재의 중국 국경 안에서 일어난 모든 역사를 자국사로 편입하기 위해 추진한 국가 주도의 역사 왜곡 프로젝트
- **핵심 내용:** 우리 민족의 뿌리인 고구려와 발해를 중국의 지방 정권으로 간주하여 한국사를 중국사의 일부로 흡수하려 함.
- **목적:** 중국 내 소수 민족의 이탈을 막아 영토 안정을 꾀하고, 향후 한반도 정세 변화에 대한 역사적 명분을 선점하려는 의도를 지님.

### 639 동아시아의 역사 갈등

답·①

**바른 풀이** ② 일본은 역사 교과서 왜곡을 통해 과거 식민 지배와 침략 전쟁을 정당화하거나 미화하는 서술을 포함하여 주변국과 갈등을 빚고 있다. ③ 야스쿠니 신사에는 태평양 전쟁을 일으킨 A급 전범들의 위패가 합사되어 있다. 따라서 일본 정치인의 참배는 과거 침략 전쟁을 반성하지 않는다는 의미로 해석되어 비판받는다. ④ 일본군 '위안부' 문제의 정의로운 해결을 위해 민간 차원에서 2000년 여성 국제 전범 법정 법정이 열려 책임자 처벌과 일본 정부의 사죄를 촉구하였다. ⑤ 한·중·일 세 나라의 학자와 시민 단체가 모여 공동으로 역사를 연구하고, 그 결과물로 '미래를 여는 역사'와 같은 공동 역사 부교재를 출간하기도 하였다.

**오답 체크** ① 동북공정은 소수 민족의 분리·독립을 지원하는 것이 아니라, 오히려 막기 위한 것이다. 중국 국경 안의 모든 역사를 중국사로 편입함으로써 소수 민족(조선족 등) 거주 지역에 대한 지배력을 공고히 하고 영토 통합을 유지하려는 목적을 가지고 있다.

### 640 일본과의 역사 갈등

답·③

**바른 풀이** 제시문에서 밑줄 친 '이 나라'는 일본이다. ① 침략 전쟁을 '침략'으로 표현하거나 식민 지배의 강제성을 삭제하는 등 왜곡된 내용이 담긴 교과서를 검정 통과시켜 문제가 되었다. ② 일본 정부는 강제 동원의 증거가 없다는 등의 이유로 과거의 비인도적 행위를 부정하거나 책임을 회피하는 모습을 보였다. ④ 침략 전쟁의 주범인 A급 전범이 합사된 신사를 일본 고위 정치인들이 공식 참배하는 것은 과거 침략 전쟁을 반성하지 않는다는 의미로 해석된다. ⑤ 일본은 독도가 자국의 고유 영토이며, 한국이 이를 불법으로 점거하고 있다는 역사 주장을 교과서에 담고 있다.

**오답 체크** ③ '난사 군도(스프레틀리 군도)'는 일본이 아니라 중국과 동남아시아 국가들(베트남, 필리핀 등) 사이의 영토 분쟁 지역이다. 일본과 중국이 갈등을 빚고 있는 영토 분쟁 지역은 '센카쿠 열도(다오위다오)'이다.

### 641 동아시아 역사 갈등 해결 노력

답·⑤

**바른 풀이** 동아시아의 역사 갈등을 해결하기 위해 어떤 노력을 하고 있는지 살펴보는 문제이다. 자료의 학습 내용은 다음과 같다.

- 고노 요헤이 관방 장관의 사과(고노 담화, 1993): 일본군 '위안부' 문제에 대한 군의 개입과 강제성을 인정하고 사과한 내용이다.
- 무라야마 총리 담화(1995): 전후 50주년을 맞아 일본의 식민 지배와 침략 전쟁에 대해 공식적으로 사죄와 반성의 뜻을 밝힌 담화이다.
- 한·일 파트너십 공동 선언(1998): 김대중 대통령과 오부치 총리가 발표한 것으로, 과거사를 직시하고 미래 지향적인 관계를 구축하기로 합의한 것이다.
- 한·중·일 공동 역사 교과서 출간: 민간 차원에서 왜곡된 역사를 바로 잡고 공통된 역사를 서술하여 갈등을 줄이려는 시도이다.

**오답 체크** ① 6·25 전쟁이나 냉전 체제 형성과 관련된 내용이 나와야 하므로 적절하지 않다. ② 소극적 평화는 단순히 전쟁이 없는 상태를 의미한다. 제시된 내용은 역사적 갈등(구조적 불평등 및 고통 해결)을 다루기에 적극적 평화로 가는 과정에 더 가깝다. ③ 남북 정상회담이나 비핵화 협상과 같은 남북 관계에 집중된 내용이야 한다. ④ 영토 분쟁(독도, 센카쿠 열도 등)보다는 주로 과거사 인식과 관련된 사과와 교육 측면의 내용들이다.

#### 개념 더하기 동아시아 역사 갈등 해결 노력

- **국가:** 전문 연구 기관을 운영하고, 국제기구와 협력하여 역사 왜곡에 대해 공식적·법적으로 대응함.
- **시민 사회:** 한·중·일 공동 역사 교과서를 제작하고, 반크(VANK)와 같은 시민단체를 통해 오류를 시정함.
- **개인:** 올바른 역사를 학습하여 논리적 비판 능력을 갖추고, 타국과의 문화 교류를 통해 상호 이해를 높임.

### 642 동아시아 역사 갈등

답·②

**바른 풀이** ㉠은 동북공정, ㉡은 독도이다. ㉠. 동북공정의 핵심 내용이다. 고구려와 발해를 중국의 하부 조직(지방 정권)으로 격하시키려는 시도이다. ㉡. 숙종 때 안용복은 두 차례 일본으로 건너가 독도와 울릉도가 조선의 땅임을 일본 막부로부터 확약받았다. 이는 독도가 우리 영토임을 증명하는 중요한 역사적 사실이다.

**오답 체크** ㉢. 중국은 소수 민족의 분리 독립을 막고 내부 결속을 다지려고 동북공정을 추진하였다. ㉣. 태정관 지령(1877)은 일본의 최고 행정 기관인 태정관이 "울릉도와 독도는 일본과 관계가 없는 땅"임을 공식적으로 인정한 문서로, 일본 스스로 독도가 일본 영토가 아님을 확인해 준 자료이다.

### 643 동아시아 영토 갈등

답·①

**바른 풀이** A는 쿠릴 열도 남부 4개 섬, B는 센카쿠 열도(다오위다오), C는 시사 군도(파라셀 군도), D는 난사 군도(스프레틀리 군도)이다. ㉠. 쿠릴 열도 남부의 4개 섬은 제2차 세계 대전에서 일본이 패망한 후 소련(현 러시아)이 점유하였고, 현재까지도 러시아가 실효 지배하고 있다. 일본은 이를 '북방 영토'라 부르며 반환을 요구하고 있다. ㉡. 센카쿠 열도(다오위다오)는 현재 일본이 실효 지배하여 등대 등을 설치해 관리하고 있지만, 중국과 타이완이 영유권을 주장하며 균형을 파견하는 등 강하게 대립하고 있다.

**오답 체크** ㉢. A는 일본·러시아, B는 중국·일본·타이완, C는 중국·베트남·타이완, D는 중국·베트남·필리핀·말레이시아·브루나이·타이완 등이 분쟁 당사국이다. ㉣. 시사 군도는 중국, 베트남, 타이완이 갈등하는 곳이다. 일본은 갈등 당사자가 아니다. ㉤. 난사 군도는 현재 중국, 필리핀, 베트남 등 동남아시아 국가들이 뒤섞여 갈등하는 지역이다. 미국이 이곳을 점령한 적은 없다.

#### 개념 더하기 동아시아의 영토 분쟁 지역

지역명	분쟁 당사국	실효 지배국
쿠릴 열도 남부 4개 섬 (북방 영토)	러시아 vs 일본	러시아
센카쿠 열도 (다오위다오)	일본 vs 중국·타이완	일본
시사 군도 (파라셀 군도)	중국 vs 베트남·타이완	중국
난사 군도 (스프레틀리 군도)	중국, 필리핀, 베트남, 말레이시아, 브루나이, 타이완	여러 국가 분점

### 644 국제 평화를 위한 우리나라의 노력

답·①

**바른 풀이** ㉠. 우리나라는 국제 연합(UN)의 요청에 따라 분쟁 지역에 평화유지군을 파병하여 갈등을 중재하고 치안을 유지하는 등 국가적 차원에서 국제 평화에 이바지하고 있다. ㉡. 공적 개발 원조(ODA)는 정부나 공공기관이 개발 도상국의 경제 발전과 복지 증진을 위해 제공하는 원조이다. 우리나라는 과거 원조를 받던 나라에서 원조하는 나라로 바뀐 유일한 사례로서 국가적 차원에서 적극적으로 수행 중이다. ㉢. 우리나라는 국제 연합(UN) 인권 이사회의 이사국으로 활동하며 세계 곳곳의 인권 문제를 공론화하고 해결책을 모색하는 정부 차원의 노력을 기울이고 있다.

**오답 체크** 르. 월드비전은 정부 기관이 아닌 비정부 기구(NGO), 즉 시민 단체이다. 기아 체험에 참여하는 것은 개인이나 시민 사회 차원의 노력에 해당한다. 모. 개인이 일상생활에서 실천할 수 있는 개인적 차원의 노력이다.

**645 우리나라의 국제적 위상** 답·④

**바른 풀이** 갑. 우리나라는 6·25 전쟁 이후 '한강의 기적'이라 불리는 빠른 경제 성장을 이루었고, 1996년에는 선진국 클럽이라 불리는 '경제 협력 개발 기구(OECD)'에 가입하였다. 이는 우리나라의 경제적 위상이 높아졌음을 보여 주는 정확한 설명이다. 병. K-팝, 드라마 등 한류와 월드컵, 올림픽 개최 및 우수한 성적을 통해 문화·예술·스포츠의 영향력을 확대하고 있다는 설명은 적절하다. 정. 우리나라는 유라시아 대륙과 태평양을 잇는 반도 지형이다. 대륙으로 나아가는 관문이자 바다로 진출하는 거점이라는 지리적 장점(지정학적 요충지)을 정확하게 설명하고 있다.

**오답 체크** 을. 우리나라는 국제 연합(UN) 안전 보장 이사회의 '비상임 이사국'을 여러 번 역임했지만, '상임 이사국'을 역임한 적은 없다. 상임 이사국은 미국, 영국, 프랑스, 러시아, 중국 5개국뿐이다. 우리나라는 투표를 통해 선출되는 2년 임기의 비상임 이사국으로 활동하며 국제 정치에 이바지하고 있다.

**646 분단 비용과 통일 비용**

**모범 답안** ( 분단 비용 )은 소모적이며 무한히 발생하지만, ( 통일 비용 )은 한시적 투자를 통해 영구적이고 막대한 경제적 이익(통일 편익)을 창출하기 때문에 경제적으로 유리하다.

**647 난사 군도 영토 분쟁**

- (1) 난사 군도(또는 스프래틀리 군도)
- (2) **모범 답안** 첫째, 해당 영역에는 막대한 양의 석유와 천연가스 등 해저 자원이 매장되어 있으며, 풍부한 수산 자원을 보유한 어장으로서의 경제적 가치가 매우 높기 때문이다. 둘째, 남중국해는 전 세계의 수많은 수출입 상품을 실은 배들이 지나다니는 교통의 요충지(전략적 통로)이며, 군사적 거점으로서의 가치가 커서 국가 간 주도권 싸움이 치열하기 때문이다.

채점 기준	수준
자원(석유·가스·어업)과 지정학적 요충지(해상 교통로)라는 두 가지 이유를 모두 정확히 서술한 경우	상
두 가지 이유 중 하나만 서술하거나, 내용이 다소 추상적인 경우	중
분쟁의 원인을 '단순한 영토 확장 욕심' 등 경제·전략적 근거 없이 서술한 경우	하

**648 중국의 동북공정**

- (1) 동북공정
  - (2) **KEY WORD** (가): 독자적 문화, 최초 국가 (나): 독자적 연호, 발해
- 모범 답안** (가): 고조선은 비파형 동검, 탁자식 고인돌 등 중국과 구별되는 독자적인 문화 범위를 가진 우리 민족 최초의 국가이다.  
(나): 고구려는 독자적인 연호를 사용한 주권 국가였으며, 멸망 후 그 역사가 발해와 고려로 계승되었다.

채점 기준	수준
(가)에서 비파형 동검 등 독자적 유물·문화를 언급하고, (나)에서 독자적 연호 사용이나 발해·고려로의 계승성을 모두 정확하게 서술한 경우	상
(가)와 (나) 가운데 어느 한 문항만 완벽하게 서술하거나, 두 문항 모두 서술했으나 구체적인 역사적 근거(유물 명칭, 계승 국가명 등) 없이 추상적으로만 서술한 경우	중
중국의 동북공정 논리를 반박하지 못하고 동조하거나, 질문의 의도와 상관없는 감정적인 호소(예: 우리 땅이니까 우리 역사다 등)만 나열한 경우	하

**개념 더하기 동북공정의 논리적 오류와 대응 방향**

- **논리적 오류**: 현대의 국경을 기준으로 과거를 해석하는 오류를 범하고 있으며, 고구려의 독자적 연호 사용과 고려로의 역사 계승성 등을 무시하고 있음.
- **대응 방향**: 비파형 동검 등 독자적 유물과 역사적 기록을 바탕으로 논리적으로 반박하며, 동북아역사재단 등을 통해 우리 역사의 정통성을 대외적으로 널리 알려야 함.

**649 우리나라의 지정학적 위치**

**KEY WORD** 반도 국가, 대륙, 해양 물류 및 교통 중심지

**모범 답안** 우리나라는 유라시아 대륙의 동쪽에 위치한 반도 국가로서, 대륙과 해양을 연결하는 가교 역할을 하기에 유리한 지정학적 위치를 갖추고 있다. 이를 통해 유라시아 대륙으로 진출하는 관문이자 태평양 등 대양으로 나아가는 전진 기지로서 동북아시아의 물류 및 교통의 중심지로 성장할 수 있는 잠재력이 크다.

채점 기준	수준
대륙과 해양을 연결하는 위치(반도)임을 언급하고, 이를 통해 교통·물류의 관문 역할을 할 수 있다는 점을 논리적으로 서술한 경우	상
대륙과 해양의 연결성만 언급하거나, 단순히 '교통이 편리하다'는 식으로 한 가지 측면만 서술한 경우	중
지정학적 위치의 의미를 이해하지 못하고 '기후가 온화하다' 등 질문의 의도와 무관한 내용을 서술한 경우	하

**기출로 1등급 도전하기** 142~143쪽

- 650 ①      651 ⑤      652 ④      653 ②      654 ④
- 655 ②      656 ④      657 ②

**650 점진적 통일과 급진적 통일** 답·①

**바른 풀이** 제시문에서 '나'는 점진적 통일을 주장하는 입장으로, 경제·문화적 민간 교류를 먼저 활성화하여 내적으로 결합된 민족 공동체를 형성한 뒤 점진적으로 통일해야 한다고 본다. '어떤 사람'은 급진적 통일을 주장하는 입장으로, 사회적 통합 비용을 줄이기 위해 신속한 정치적 통합(외형적 통일)을 우선시해야 한다고 본다. ① '나'는 민간 교류를 통한 내적 결합이 선행되어야 한다고 본다. 따라서 정치적 통합(체제 합일)을 서두르는 '어떤 사람'에게 제기할 수 있는 적절한 비판이다.

**오답 체크** ② '나'는 민족 공동체의 이익을 중요하게 생각한다. ③ '어떤 사람'은 통합 비용 지출을 줄이기 위해 노력해야 한다고 주장하고 있으므로 이를 간과한다고 비판할 수 없다. ④ '나'는 급진적인 외적 통합이 바람직하다고 보지 않는다. ⑤ '나'는 비정치적 교류(경제·문화)가 매우 큰 효과(내적 결합)를 낸다고 믿는다.

**자료 분석**

통일이 한반도 전체의 이익을 가져오려면 남북이 **내적으로 결합된 민족 공동체**가 건설되어야 한다. 이를 위해 경제·문화 분야의 민간 교류를 활성화하여 **점진적으로 통일**해야 한다. 그런데 어떤 사람은 사회적 **통합 비용**을 절감하기 위해 신속한 정치적 통합으로 **통일의 외형**부터 갖추어야 한다고 주장한다.

➔ 제시문의 '나'는 경제·문화 교류를 통한 점진적 통일을 주장하는 입장으로, 비정치적 영역에서의 교류를 거쳐 체제 통합으로 나아갈 것을 주장한다. 이는 부작용을 최소화할 수 있다는 장점이 있지만 통일까지 오랜 시간이 걸린다는 한계가 있다. 한편 제시문의 '어떤 사람'은 정치·체제 통합을 우선하는 입장이다. 이는 신속한 통합을 통해 분단 비용을 즉시 제거할 수 있다는 장점이 있지만 급격한 사회 혼란 및 막대한 통합 비용이 필요하다는 한계가 있다.

### 651 통일의 필요성

답·⑤

**바른 풀이** **㉠**은 인도주의적 관점에서 통일의 당위성을 강조하는 입장으로, 경제적 이익뿐만 아니라 보편적 가치(인권, 자유)와 사회적 약자 보호를 위해 통일을 꼭 실현해야 할 과제로 본다. **㉡**은 실용주의적 관점에서 통일을 바라보는 입장으로, 경제적 시너지 효과와 분단 비용 해소(통일 편익)를 중시한다. 즉 통일을 반드시 해야 하는 과제로 보지 않고 경제적 수지 타산에 따라 판단할 것으로 간주한다. **㉢**과 **㉣**은 모두 경제적 이익이 통일의 중요한 근거가 된다는 점에 동의한다. **㉤**은 분단 비용을 복지 재원으로 전환하는 것을 언급했고, **㉥**은 경제적 시너지와 분단 비용 해소를 직접적으로 언급하였다. 두 사람 모두 비용 해소 및 편익을 고려하고 있다.

**오답 체크** **㉠** **㉡**은 사상·경제적 불평등 완화를 통일의 근거로 명시하고 있다. **㉢**은 사상과 양심의 자유, 인권 등 보편적 권리를 핵심 근거로 제시한다. **㉣**은 비용이 편익보다 크면 통일의 당위성이 약화될 수 있다고 본다. **㉤**은 통일이 기대 효과(편익)보다 클 가능성을 염두에 두고 있다.

### 652 한반도 분단의 역사적 배경

답·④

**바른 풀이** **㉠** 냉전은 미국 중심의 자유주의 진영과 소련 중심의 사회주의 진영이 대립하던 체제를 말한다. **㉡** 38도선은 광복 직후 미·소에 의해 설정된 단순한 군사적 경계선이었으나, 점차 실질적인 분단선이 되었다. **㉢** 우리나라의 지정학적 특징은 대륙 세력과 해양 세력이 만나는 반도적 위치를 의미한다. **㉣** 제2차 세계 대전 이후 전 세계를 지배한 미·소 대립 체제를 말한다. **㉤** 1945년 광복 직후 그어진 위도 38도 기준의 경계선이다. **㉥** 우리나라는 대륙과 해양을 잇는 요충지(반도)였기 때문에 강대국들이 주도권을 잡으려고 치열하게 대립하였다.

**오답 체크** **㉣** 현재의 경계선은 6·25 전쟁 이후 그어진 '휴전선(군사 분계선)'이다. 38도선과 휴전선은 모양이 다르다.

### 653 중국의 동북공정과 일본의 역사 왜곡에 대한 대응

답·②

**바른 풀이** **㉠** 조공과 책봉은 전근대 동아시아의 형식적인 외교 관계일 뿐, 정치적 예속을 의미하는 것이 아니다. 중국은 이를 '지배와 복속'으로 왜곡하지만, 실제로는 당시 동아시아 국가 간 외교의 보편적인 형식이었음을 지적하는 정확한 반박이다.

**오답 체크** **㉠** (가)에는 고구려가 독자적인 연호를 사용하고, 수·당과 대등하게 전쟁을 치른 독립적인 주권 국가였다는 내용이 들어가는 것이 적절하다. **㉢** (다)에는 고려가 이름부터 고구려를 계승한다는 뜻을 담고 있으며, 고구려 유민이 세운 발해와 고구려의 역사를 정통으로 계승했다는 내용이 들어가야 한다. **㉣** (라)에는 식민지 근대화론에 대한 반박으로 일제의 수탈과 탄압으로 인해 대다수 민중의 삶은 황폐해졌음을 강조하는 내용이 들어가야 한다. 선지의 내용 자체는 맞는 설명일 수 있으나, 조선인의 삶이 좋아졌다는 일본의 주장에 대한 직접적인 한국측의 반박 논리는 적절하지 않다. **㉤** (마)에는 독도는 지리적, 역사적, 국제법적으로 명백한 대한민국의 고유 영토라는 내용이 들어가야 한다. 해당 선지는 일제의 강제적 수탈에 대한 증거이지, 독도 영유권 문제에 대한 반박 논리가 될 수 없다.

### 654 동아시아 역사 갈등

답·④

**바른 풀이** **㉠** 1993년 발표된 고노 담화는 위안부 동원의 강제성을 인정한 공식 입장이다. 비록 최근 일본의 우익 세력이 이를 부정하려는 시도를 하고 있으나, 공식적으로 담화 자체를 파기한 것은 아니기에 옳은 설명이다. **㉡** 우익 사관을 담은 교과서들이 일본 정부의 검정 심사를 통과하여 실제 학교 현장에서 사용되고 있으며 이는 역사 갈등의 주요 원인이다. **㉢** 동북공정의 핵심 논리 중 하나이다. 고구려를 중국의 지방 정권으로 규정함으로써 국가 간의 전쟁을 중앙 정부와 지방 정권 간의 내전으로 격하시켜 왜곡한다. **㉤** '미래를 여는 역사'는 갈등 해결을 위해 한·중·일 3국의 학자들이 공동 집필한 공동 역사 부교재이다. 편향된 민족주의를 넘어 동아시아의 평화로운 미래를 지향하는 민간 차원의 대표적인 노력이다.

**오답 체크** **㉣** 동북공정은 영토 밖이 아니라, 현재 중국 영토 안에 있는 과거의 역사와 민족을 중국사의 일부로 편입시키려는 시도이다. 즉 현재의 국경을 기준으로 그 안에서 일어난 모든 역사를 자국사로 만들려는 현재 중심적 역사 왜곡이 핵심이다.

#### 자료 분석

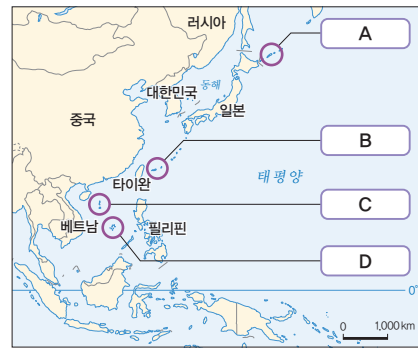
- (가) 일본군 위안부 문제
- (나) 일본의 역사 교과서 왜곡 문제
- (다) 중국의 동북공정 문제

**→** (가)의 왜곡 내용은 강제성 부정과 배상 책임 회피 등이다. 이를 해결하기 위한 노력으로는 고노 담화 계승 요구 및 시민 단체의 활동 등이 있다. (나)의 왜곡 내용은 침략 전쟁 미화, 식민 지배 정당화이다. 이를 해결하기 위한 노력으로는 한·중·일 공동 역사 교과서 발간 등이 있다. (다)의 왜곡 내용은 고구려·발해사를 중국사로 편입하는 것이다. 이를 해결하기 위한 노력으로는 학술적 반박 연구 및 유네스코 등재 등이 있다.

### 655 동아시아의 영토 분쟁

답·②

지도에 표시된 A~D 지역의 영토 분쟁에 대한 옳은 설명만을 (보기)에서 있는 대로 고른 것은?



#### 보기

- ㉠ A: 쿠릴 열도 남부의 4개 섬에 대해 러시아와 일본이 대립하고 있다.
- ㉡ B: 중국과 베트남이 영유권을 놓고 대립하고 있는 시사 군도이다. → B는 센카쿠 열도이다.
- ㉢ C: 동중국해상에 위치한 군도로 일본과 중국이 영유권 분쟁을 벌이고 있다. → 중국, 베트남, 타이완
- ㉣ D: 중국, 베트남, 필리핀, 브루나이, 말레이시아 등의 국가가 영유권을 주장하고 있다.

- ① ㉠, ㉡
- ② ㉠, ㉢
- ③ ㉡, ㉣
- ④ ㉠, ㉢, ㉣
- ⑤ ㉡, ㉢, ㉣

#### 등급 문제 풀이 방법

##### STEP 1 A~D 지역이 각각 어디인지 파악한다.

- A: 쿠릴 열도 남부 4개 섬(북방 영토): 러시아와 일본 사이의 분쟁 지역
- B: 센카쿠 열도(다오위다오): 일본, 중국, 타이완 사이의 분쟁 지역
- C: 시사 군도(파라셀 군도): 중국, 베트남, 타이완 사이의 분쟁 지역
- D: 난사 군도(스프래틀리 군도): 중국, 베트남, 필리핀, 말레이시아, 브루나이, 타이완 등 여러 국가가 얽힌 분쟁 지역

##### STEP 2 ㉠~㉣ 선지의 옳고 그름을 파악한다.

㉠. 옳음. 2차 세계 대전 이후 러시아(당시 소련)가 실효 지배하고 있으며, 일본이 '북방 영토'라 부르며 반환을 요구하는 지역이다.

나. 틀림. B는 시사 군도가 아니라 동중국해에 위치한 센카쿠 열도(다오위 다오)이며, 중국과 일본이 대립하는 곳이다. 중국과 베트남이 대립하는 시사 군도는 C이다.

다. 틀림. C는 남중국해 북부에 위치한 시사 군도이다. 동중국해에서 일본과 중국이 분쟁을 벌이는 곳은 B(센카쿠 열도)이다. B와 C의 설명이 서로 뒤바뀌었다.

라. 옳음. D는 난사 군도(스프레틀리 군도)로, 풍부한 자원과 해상 요충지로서의 가치 때문에 주변 6개국이 복잡하게 얽혀 있는 지역이다.

**STEP 3** <문제 풀이 TIP>

B와 C의 위치를 바꿔서 물어보는 경우가 많다. 위쪽(동중국해)에 있으면, 일본이 관련된 분쟁 지역인 센카쿠 열도이며, 아래쪽(남중국해)에 있으면 베트남과 동남아시아 국가들이 관련된 분쟁 지역인 시사 군도 및 난사 군도임을 기억한다.

**656 동아시아 역사 갈등** 답·④

**바른 풀이** ㄱ. 신라 지증왕 13년(512년), 이사부가 우산국을 복속하면서부터 독도는 우리의 역사에 편입되었다. 역사적 근거가 확실한 옳은 설명이다. ㄴ. 일본 우익 교과서의 대표적인 왜곡 사례이다. 타국에 대한 강제적인 '침략'을 자발적인 '진출'인 것처럼 기술하여 식민 지배를 정당화하고 있다.

**오답 체크** ㄴ. 1877년 '태정관 지령'은 '울릉도와 독도는 일본과 관계가 없음을 명심할 것'이라며 독도가 한국 영토임을 스스로 인정한 문서이다. 일본 영토라고 발표했다는 설명은 정반대이다. ㄷ. 중국의 동북공정은 고조선, 고구려, 발해 등 '고대사'를 자국사로 편입하려는 시도이다. '고려'는 명백한 독립 국가로 인식되며, 동북공정의 내용에 포함되지 않는다.

**자료 분석**

㉠ 1877년에 일본 최고 행정 기관인 태정관이 독도를 일본의 영토라고 공식 발표하였다.

➔ 태정관 지령은 독도가 한국 영토임을 발표한 문서이다. 이 외에도 국제법적 근거로, 1900년 대한제국 칙령 제41호를 통해 독도를 울도군(울릉도) 관할로 명문화하여 근대적인 영유권을 선포한 사례가 있다.

**개념 더하기** 독도 분쟁의 핵심

- **역사적 정당성:** 신라 시대부터 독도를 영유해 왔으며, 일본의 '태정관 지령(1877)'과 대한제국의 '칙령 제41호(1900)'가 이를 입증하는 증거임.
- **일본의 왜곡과 반박:** 일본은 1905년 시마네현 고시를 근거로 영유권을 주장하지만, 이는 대한제국의 주권을 침해한 불법적 탈취이며 우리나라는 현재 독도를 실효적으로 지배하고 있음.
- **전략적 가치:** 독도는 황금어장으로 불리는 조경 수역이자, 차세대 에너지 원인 메탄하이드레이트가 매장된 경제적 자원의 보고이며, 동북아시아의 중요한 지정학적 요충지임.

**657 세계 평화를 실현하기 위한 노력** 답·②

**바른 풀이** 세계 평화를 실현하기 위한 국가적·개인적 차원의 구체적인 노력을 구분하는 문제이다. ㄱ. 국가적 차원의 노력이다. 분쟁 지역에 유엔 평화 유지군(PKO)을 파견하여 갈등을 중재하고 인명을 보호하는 것은 국제 평화를 위한 직접적인 실천 방안이다. ㄴ. 국가 및 민간 차원의 노력이다. 핵무기 억제제를 위한 국제 조약에 가입하고 전쟁에 반대하는 운동을 펼치는 것은 인류 공동의 평화를 위한 실천적 방안이다.

**오답 체크** ㄴ. 역사 왜곡에 대한 단호한 대응은 필요하지만 '국교 단절'과 같은 극단적인 대치는 국제 사회의 협력과 평화 유지라는 제시문의 방향성과는 거리가 있다. 외교적 노력과 학술적 반박이 우선되어야 한다. ㄷ. 상대방의 역사 왜곡에 똑같이 자국 중심의 왜곡으로 맞대응하는 것은 갈등을 심화시킨다. 객관적 사실에 근거한 공동 역사 교과서 제작 등 보편적 가치를 지향하는 것이 바람직한 방향이다.

**단원 평가로 실전 대비하기** 144~147쪽

658 ①	659 ⑤	660 ①	661 ④	662 ⑤
663 ④	664 공간적 분업		665 ④	666 ③
667 ②	668 ④	669 ⑤	670 ⑤	671 ②
672 ②	673 ④	674 ④		

**658 지역화 전략** 답·①

**바른 풀이** (가)는 로마의 역사성을 마케팅으로 활용한 장소 마케팅, (나)는 뉴욕의 브랜드를 로고로 만들어 브랜드화한 지역 브랜드의 사례이다.

**659 세계도시의 계층** 답·⑤

**바른 풀이** 지도는 세계도시를 나타낸 것이다. (가)는 최상위 세계도시, (나)는 하위 세계도시이다. 하위 세계도시는 최상위 세계도시보다 동일 계층의 도시의 수는 많고(B, E), 공항 이용객 중 외국인 비율은 낮으며(C, D, E), 생산자 서비스업의 발달 정도는 낮다(B, D, E). 조건을 모두 만족하는 것은 E이다.

**개념 더하기** 세계도시 체계의 구분과 계층

구분	사례	특징
최상위 세계도시	뉴욕, 런던, 도쿄	최상위 세계도시로 갈수록 도시의 수는 적어지나, 기능이 많아지고 영향력이 커지며, 동일 계층의 도시 간 평균 거리는 멀어짐.
상위 세계도시	파리, 로스앤젤레스, 싱가포르 등	
하위 세계도시	뮌헨, 뭄바이, 토론토 등	

**660 다국적 기업의 공간적 분업** 답·①

**바른 풀이** ㄱ. 성장 순서는 (가), (나), (다) 순이다. ㄴ. (가) 시기에는 국내에 만 분사, 연구소, 생산 공장이 있어, 다국적 기업의 면모를 갖추지 못했다.

**오답 체크** ㄷ. (나) 시기에는 아프리카보다 앵글로아메리카와 유럽으로의 진출이 활발하다. 상대적으로 수요가 많고 자본과 기술력이 있는 대륙을 우선한 결과다. ㄴ. (나) 시기는 (다) 시기보다 공간적 분업의 정도가 약하다.

**661 보편 윤리와 특수 윤리의 갈등** 답·④

**바른 풀이** 자료는 보편 윤리와 특수 윤리의 갈등에 관한 기사다. 인도네시아 반다아체의 태형은 오늘날 인권의 관점에서 특수 윤리에 해당한다. 보편 윤리의 관점과 충돌하는 가치 성향을 띤다.

**개념 더하기** 보편 윤리와 특수 윤리

구분	보편 윤리	특수 윤리
정의	시간과 장소를 초월하여 모든 인류가 지켜야 할 도덕 원칙	특정 사회, 문화, 전통, 관습 내에서만 통용되는 규범
특징	객관적, 합리적, 타당성	주관적, 상대성, 역사성
근거	이성, 인권, 인류애, 세계시민	관습, 전통, 종교, 지역 공동체

**662 세계도시의 특징** 답·⑤

**바른 풀이** (가)는 네덜란드의 수도 암스테르담, (나)는 뉴질랜드의 최대 도시 오클랜드이다. ⑤ (가) 암스테르담이 신대륙에 있는 (나) 오클랜드보다 도시화의 시기가 이르다.

**오답 체크** ① 최상위 세계도시는 뉴욕, 런던, 도쿄이다. ② 선진국에는 본사와 연구소가 주로 들어서며, 생산 공장은 개발 도상국에 주로 들어선다. ③ 오클랜드가 뉴질랜드의 최대 도시이지만, 뉴질랜드의 수도는 웰링턴이다. ④ 생산자 서비스업의 발달 정도는 최상위 세계도시인 뉴욕이 더 높다.

**663 세계화의 문제점** 답·④

**바른 풀이** 자료는 커피와 바나나의 판매 이익 배분 비율을 나타낸 것이다. 커피와 바나나 생산에서 많은 이윤을 취하는 집단이 판매자나 대형 유통 기업이라는 것을 알 수 있다. 가. 이윤 배분이 불균등한 점을 토대로 세계화의 문제점을 엿볼 수 있다. 다. 커피와 바나나를 생산하고 유통하는 주체는 대부분 다국적 기업이다. 라. 이와 같은 체제가 지속되면, 자본가와 노동자 간 빈부 격차는 날로 심화할 수 있다.

**오답 체크** 나. 커피와 바나나 모두 농민에게 돌아가는 수익이 가장 적다. 이러한 문제를 해결하려는 목적에서 생산자에게 정당한 노동의 대가를 지불하는 무역 시스템을 공정 무역이라고 한다.

**개념 더하기 세계화에 따른 빈부 격차 문제**

문제 양상	증가하는 전 세계 부의 대부분이 선진국 또는 소득 수준이 높은 계층에 집중하는 현상 발생
원인	• 선진국: 앞선 기술과 자본을 통해 고부가 가치 상품 생산 • 개발 도상국: 원료, 농산물, 저임금 노동력을 활용한 저부가 가치 상품 생산
해결 방안	• 선진국: 공적 개발 원조(ODA)나 기술 이전 등의 분배 정의 실현 • 개발 도상국: 자국에 적합한 성장 동력 발굴 노력 • 공정 무역과 공정 여행 등의 윤리적 소비 확대

**664 다국적 기업** 답·공간적 분업

**바른 풀이** 다국적 기업은 경영의 효율성과 이윤 극대화를 위해 공간적 분업을 취한다.

**665 갈등의 평화** 답·④

**바른 풀이** 학생이 강조하는 진정한 평화는 적극적 평화 상태이다. ④ 학생이 말한 '진정한 평화'인 적극적 평화에 대한 정확한 설명이다.

**오답 체크** ① 직접적 폭력만 제거된 상태는 소극적 평화에 대한 설명이다. ② 외부의 침략으로부터 영토와 주권을 지키는 것은 국가 안보 중심의 관점으로, 직접적 폭력이 없는 소극적 평화와 관련이 깊다. ③ 물리적 폭력(직접적 폭력)이 제거된 소극적 평화를 의미한다. ⑤ 갈등의 원인은 아직 남아 있으므로 진정한 평화로 보기 어렵다.

**개념 더하기 갈등의 평화론**

폭력 구분	내용	해당 평화
직접적 폭력	전쟁, 테러, 폭행 등 신체에 직접 가해지는 물리적 힘	소극적 평화 (직접적 폭력만 없으면 됨.)
구조적 폭력	잘못된 법이나 제도, 가난, 차별 등으로 인한 고통	적극적 평화 (세 가지 폭력이 전부 제거되어야 함.)
문화적 폭력	폭력을 정당화하는 종교, 사상, 예술, 언어 등	

**666 갈등의 평화** 답·③

**바른 풀이** 제시문은 직접적 폭력, 구조적 폭력, 문화적 폭력이 복잡하게 얽혀 있는 상황이다. ① 소극적 평화를 위한 필수적인 방안으로, 적극적 평

화는 소극적 평화를 포함하는 더 넓은 개념이므로 적절한 방안이다. ② 제시문에 나타난 '정치적 탄압과 경제적 수탈'이라는 구조적 폭력을 제거하려는 노력이라도 적극적 평화 관점에서 적절하다. ④ 폭력을 당연하게 여기도록 만드는 문화적 폭력을 해결하기 위한 방안이다. ⑤ 갈등이 정의한 적극적 평화로 나아가기 위한 방안이다.

**오답 체크** ③ 군사적인 힘을 사용하는 것은 오히려 또 다른 직접적 폭력이나 구조적 억압을 낳을 수 있으며, 갈등의 근본 원인을 해결하지 못하므로 적극적 평화와는 거리가 먼 대책이다. 또한 갈등은 평화적인 수단을 통한 평화를 주장하였다.

**667 갈등의 평화** 답·②

**바른 풀이** (가)는 갈등의 관점으로, 적극적 평화를 강조하고 있다. (나)는 직접적 폭력은 제거되었지만, 구조적 폭력은 여전히 잔존한 상태이다. ② (가)의 관점에서 진정한 평화는 모든 폭력(직접적, 구조적, 문화적)이 사라진 상태이다. A국에는 구조적 폭력이 남아 있으므로 진정한 평화 상태가 아니다.

**오답 체크** ① 전쟁 중단은 소극적 평화 상태일 뿐이다. 구조적 불평등이 남아 있으므로 적극적 평화 단계라고 할 수 없다. ③ 갈등의 평화 개념에서 구조적 폭력의 해결은 적극적 평화를 달성하는 데 필수적인 요소이다. ④ 굿주림(기아)은 제시문의 내용상 구조적 폭력에 가깝다. 또한 세 폭력은 서로 긴밀하게 연결되어 있으나 선후 관계를 단정 지을 수 없다. ⑤ 적극적 평화의 관점에서는 국가 안보만큼이나 개인의 삶의 질과 인권을 중요하게 여긴다.

**668 국제 행위 주체의 특징** 답·④

**바른 풀이** (가)는 국가, (나)는 정부 간 국제기구, (다)는 국제 비정부 기구이다. ④ 전통적 행위 주체인 국가 외에도, 현대 사회에서는 국제기구나 시민 사회단체의 역할이 중요해지고 있다.

**오답 체크** ① 국가는 여전히 국제 사회에서 가장 영향력이 큰 핵심적인 행위 주체이다. ② 국제기구의 가입 주체는 '국가'이다. 또한 국제기구는 특정 국가가 아닌 회원국 전체의 공동 이익이나 국제 사회의 안정을 목적으로 한다. ③ 비정부 기구는 민간단체이므로 물리적인 강제력을 지니지 않는다. 주로 여론 형성이나 캠페인을 통해 활동한다. ⑤ (가)는 국가이고, (나)는 국가들이 모인 기구이다. 기업이 주체가 되는 것은 '다국적 기업'이라는 별도의 행위 주체이다.

**개념 더하기 국제 행위 주체**

구분	국가	국제기구	비정부 기구
구성원	국민	주권 국가	민간인/민간단체
성격	기본적 주체	국가 간 협력체	시민 사회의 연대
예시	대한민국, 미국 등	국제 연합(UN), 세계 무역 기구(WTO) 등	그린피스, 엠네스티 등

**669 국제 행위 주체의 성격** 답·⑤

**바른 풀이** ㉠은 국가, ㉡은 국제기구, ㉢은 비정부 기구, ㉣은 다국적 기업이다. 나. ㉠유엔 환경 계획은 국가들이 회원인 국제기구이고, ㉢(그린피스)은 민간 중심의 비정부 기구이다. 다. 비정부 기구는 환경, 인권 등 국경을 초월한 인류의 보편적 가치를 우선시한다. 라. 다국적 기업은 이윤 극대화가 주된 목적이지만, 전 세계적인 생산 네트워크를 통해 국가 간 경제적 연결 고리를 강화한다.

**오답 체크** 가. 국가는 국제법의 주된 제정권자이며, 국제기구의 결정보다 자국의 주권을 우선시하는 독립적인 행위 주체이다.

## 670 비정부 기구의 특징

답·⑤

**바른 풀이** ①은 비정부 기구이다. ⑤ 비정부 기구는 국경에 얽매이지 않고 전 세계 시민들이 연대하여 환경, 인권, 평화 등 지구촌 공동의 문제를 해결하려 노력하는 단체이다.

**오답 체크** ① 국가에 대한 설명이다. ② 주권을 가진 주체는 오직 국가뿐으로, 민간 기구인 비정부 기구는 영토나 주권을 가지고 있지 않다. ③ 자국의 이익을 최우선으로 하는 것은 국가이다. 비정부 기구는 인류 보편의 가치를 우선시한다. ④ 국제기구에 대한 설명이다. 비정부 기구는 민간인이나 민간단체가 회원이다.

## 671 남북 분단의 과정

답·②

**바른 풀이** 제시된 사건을 시간 순서대로 연결하면, ㄴ - ㄱ - ㄹ - ㄷ - ㄱ 순이다. ㄴ. 모스크가 3국 외상 회의(1945. 12.): 광복 직후, 한반도 문제를 논의하며 신탁 통치 결정을 내렸다. ㄱ. 유엔(UN) 총회의 총선거 결의(1947. 11.): 미소 공동 위원회가 결렬된 후, 한반도 문제가 유엔으로 넘어가 전 지역 선거가 결정되었다. ㄹ. 5·10 총선거(1948. 5.): 북한의 거부로 남한 지역에서만 단독 선거가 실시되어 제헌 국회가 구성되었다. ㄷ. 제헌 헌법 공포 및 대통령 선출(1948. 7.): 제헌 국회에서 헌법을 만들고 정부를 수립하기 위한 절차를 밟았다. ㄱ. 6·25 전쟁 발발(1950. 6.): 대한민국 정부 수립 후 약 2년 뒤, 북한의 불법 남침으로 전쟁이 시작되었다.

### 개념 더하기 5·10 총선거

- **최초의 보통 선거:** 만 21세 이상의 국민이라면 성별, 재산, 신분에 상관없이 누구나 투표권이 주어진 우리나라 최초의 현대적 민주 선거
- **목적:** 대통령을 뽑는 선거가 아니라, 나라의 기틀이 될 헌법을 만들 국회 의원을 뽑는 선거
- **결과:** 198명의 국회의원이 선출되었고, 이들이 모여 '제헌 국회'를 구성

## 672 동아시아 영토 갈등

답·②

**바른 풀이** (가)는 시사 군도(파라셀 군도), (나)는 난사 군도(스프레틀리 군도)이다. ㄱ. 시사 군도(파라셀 군도)의 분쟁 당사국은 중국, 베트남, 타이완이다. ㄷ. 시사 군도(파라셀 군도)와 난사 군도(스프레틀리 군도) 모두 분쟁의 주요 원인은 석유, 천연가스 등의 자원과 해상 교통로 확보이다.

**오답 체크** ㄴ. 난사 군도(스프레틀리 군도)의 분쟁 당사국은 중국, 베트남, 필리핀, 말레이시아, 브루나이, 타이완 등이다. 일본과 관련된 영토 분쟁 지역은 쿠릴 열도 남부 4개 섬과 센카쿠 열도(다오위다오)이다. ㄷ. 시사 군도(파라셀 군도)는 3개 국가, 난사 군도(스프레틀리 군도)는 6개 국가가 분쟁 중이다.

## 673 동아시아 역사 갈등

답·④

**바른 풀이** 동아시아의 역사 갈등과 그 해결 노력에 대한 이해를 묻는 문제이다. ① 동북공정에 대한 정확한 설명이다. ② 독도는 현재 대한민국이 실효적으로 지배하고 있는 영토로 이에 대해 일본이 영유권을 주장하는 것은 부당하다. ③ 일본의 역사 교과서가 침략 전쟁을 '진출'로 묘사하거나 식민 지배를 근대화에 이바지했다고 미화하는 등의 내용을 담고 있음을 설명하고 있다. ⑤ 한·중·일 세 나라의 학자와 시민 단체들이 모여 편향되지 않은 시각으로 한·중·일 공동 역사 교과서를 발간한 것은 갈등 해결을 위한 대표적인 노력 중 하나이다.

**오답 체크** ④ 일본 정부는 1965년 한·일 협정 등으로 모든 보상이 끝났다는 입장을 취하고 있으나, 피해 당사자들이 수용할 수 있는 진정성 있는 사죄와 '법적' 배상 문제는 여전히 해결되지 않은 쟁점으로 남아 있다.

### 개념 더하기 일본군 위안부 문제

- **본질:** 일제 강점기 당시 일본군에 의해 조직적으로 동원되어 성적 착취를 당한 심각한 여성 인권 침해 사건
- **갈등:** 일본 정부는 법적 책임과 강제성을 부인하며 회피하고 있으나, 우리나라는 진정성 있는 사과와 법적 배상을 요구하고 있음.
  - **일본의 입장:** 1965년 '한·일 청구권 협정'을 통해 모든 배상 문제가 끝났다고 주장, 국가가 조직적으로 강제 동원했다는 증거가 부족하며 책임 회피
  - **피해자와 한국의 입장:** 국가 간의 돈 문제를 넘어선 반인륜적 범죄이므로 일본 정부가 범죄 사실을 공식적으로 인정하고, 진심 어린 사죄와 함께 법적 배상을 해야 한다고 요구하고 있음.

## 674 내적 통합으로서의 통일

답·④

**바른 풀이** ④ 제시문은 남북한의 언어, 생활 양식, 가치관의 차이에 대해 언급하며 단순한 국가적 결합을 넘어 내적 통합의 관점에서 통일을 바라보는 것이 중요함을 시사한다.

**오답 체크** ① 체제 우위를 가리거나 정치적 압박을 하는 것은 갈등을 심화시킬 뿐 진정한 통합과는 거리가 멀다. ② 경제적 이익만을 앞세우는 태도는 상대방을 동반자가 아닌 이용 대상으로 보는 것이므로 적절하지 않다. ③ 문화가 같아질 때까지 교류를 중단하면 이질성은 더 심해진다. 오히려 적극적으로 교류하여 차이를 좁혀야 한다. ⑤ 국제 사회의 협력도 중요하지만, 통일의 당사자인 우리 민족의 주도적인 태도가 우선시되어야 한다.

## 14 세계의 인구 변화와 인구 문제

### 핵심개념 확인 문제

149쪽

675 개발 도상국	676 북반구	677 경제적	678 선진국
679 밀집	680 희박	681 희박	682 밀집
684 ㄷ	685 ㄱ	686 ㉠	687 ㉡
689 ㉢	690 ㉣	691 ㉤	688 ㄹ

### 기출로 기본 다지기

150~152쪽

692 ㉢	693 ㉢	694 ㉣	695 ㉢	696 ㉤
697 ㉣	698 ㉣	699 ㉠	700 ㉡	701 ㉣
702 ㉤	703 ㉠			

### 692 인구 변천 모형

답·㉢

**바른 풀이** 인구 변천 모형이다. 경제 발전 수준에 따라 인구 집단의 변화를 1~5단계로 보여 준다. ㄴ. 2단계에서는 인구가 급증한다. 의료 기술의 발달 및 생활 수준의 향상으로 삶의 질이 나아지기 때문이다. ㄷ. 3단계에서는 출생률이 급감한다. 여성의 사회 진출과 가족에 대한 가치관의 변화 등이 주된 원인이다.

**오답 체크** ㄱ. 1단계는 산업화 이전 시기이다. 출생률과 사망률이 모두 높은 수준에서 형성되어 있다. ㄴ. 4단계에서는 들쭉날쭉하지만, 5단계부터는 본격적인 인구 감소에 따른 하락 곡면으로 접어든다.

### 693 국가별 인구 구조

답·㉢

**바른 풀이** 연령층별 인구 비중을 보면 국가별 인구 구조를 파악할 수 있다. 유소년층(0~14세), 청장년층(15~64세), 노년층(65세 이상)의 비중을 두루 살펴봐야 한다. ㉢ 유소년 부양비가 가장 높은 것은 (다)이다. 청장년층 대비 유소년의 인구 비중을 따져서 파악한다. 대체로 유소년층의 비중이 높을수록 유소년 부양비가 높다.

**오답 체크** ㉠ 중위 연령이 가장 낮은 것은 (다)이다. 중위 연령은 대체로 노년층의 비중이 클수록 높다. ㉡ 노년 부양비가 가장 높은 것은 (가)이다. 노년 부양비는 대체로 노년층의 비중이 클수록 높다. ㉣ 기대 수명은 (가)가 높다. 기대 수명은 특정 연도에 태어난 사람이 앞으로 살 것으로 기대되는 평균 생존 연수이다. 대체로 경제 발전 수준이 높은 나라일수록 기대 수명이 길다. ㉤ 합계 출산율이 높은 것은 (다)이다. 합계 출산율은 기임 여성 1명이 평생 낳을 것으로 예상되는 평균 자녀 수이다. 대체로 경제 발전 수준이 낮을수록 합계 출산율이 높다.

### 694 세계의 인구 이동

답·㉣

**바른 풀이** 인구 이동의 방향을 보면 대체로 개발 도상국에서 선진국으로의 이동이다. 선진국이나 경제가 활성화한 곳으로 이동하는 인구의 목적은 돈을 벌기 위함이다. 따라서 정답은 ㉣번이다.

### 695 세계의 인구 이동

답·㉢

**바른 풀이** 세계 인구 이동의 양상을 파악하는 지표로 순 이동이 사용되기도 한다. 순 이동은 빠져나간 유출 인구와 들어온 유입 인구의 관계를 파악하는 지표이다. 순 이동이 양의 값이면 들어온 인구가 많다는 뜻이고, 음의 값이면 나간 인구가 많다는 뜻이다. 화살표의 굵기로 이동량을, 방향으로 출발지와 목적지를 알 수 있다. ㉠ 지도를 보면 미국은 인구 순 유입이 가장 많은 국가이다. ㉡ 인구 순 유입 국가는 대체로 선진국이다. 경제적 목

적으로 이동하는 경우가 많다. ㉣ 멕시코는 미국으로의 경제적 목적으로의 이동이 많다. ㉤ 인구 순 유출 국가는 대체로 개발 도상국이 많다. ㉥ 아프리카 대륙은 인구 순 유출이 많은 국가가 대부분이다. ㉦ 오늘날 인구의 국제 이동의 상당수는 경제적 목적으로 이루어지는 경우가 많다. 이는 자본의 세계화와 관련이 깊다.

**오답 체크** ㉢ 인도는 이웃한 아라비아반도 일대로의 인구 유출이 가장 많다.

### 696 세계의 인구 밀도

답·㉤

**바른 풀이** 세계의 인구는 주로 해안이나 평야에 밀집해 있다. 기후적으로는 온대 기후 지역에 압도적으로 밀집해 있다. ㄷ. 너무 건조한 사막이나, 추운 극지방에는 인구가 희박하다. ㄴ. 인구가 밀집한 지역은 결과적으로 생산 활동의 극대화를 이루었고, 1~3차 산업이 발달하였다.

**오답 체크** ㄱ. 세계 인구의 상당수는 북반구에 거주한다. 북반구가 대륙 면적이 넓어 온대 기후 지역의 면적이 넓다. ㄴ. 인구는 주로 해안에서 가깝고, 해발 고도가 낮은 평야에 밀집해 있다.

### 697 인구 피라미드 비교 분석

답·㉣

**바른 풀이** 인구 피라미드를 통해 개발 도상국과 선진국을 구분하는 것이 중요하다. 유소년층이 상대적으로 많으면 대체로 개발 도상국이고, 노년층의 비중이 크면 대체로 선진국이다. (가)는 개발 도상국인 니제르, (나)는 선진국인 일본이다. ㄴ. 선진국(나)은 개발 도상국(가)보다 중위 연령이 높다. 중위 연령은 한 국가의 인구 중 가장 가운데 위치한 사람의 연령을 뜻한다. 대체로 노년층이 많을수록 중위 연령이 높다. ㄷ. (가)는 니제르, (나)는 일본이다.

**오답 체크** ㄱ. 니제르(가)는 일본(나)보다 노년 부양비가 낮다. ㄴ. 일본(나)은 니제르(가)보다 기대 수명이 높다.

### 698 인구 이주의 원인

답·㉣

**바른 풀이** 인구 이주의 원인은 크게 정치적, 경제적, 종교적, 환경적 요인이 주를 이룬다. (가)는 무슬림의 성지 순례이므로 종교적 원인, (나)는 지구 온난화와 관련이 있으므로 환경적 원인, (다)는 고용 기회를 찾아 이동하는 것이므로 경제적 원인에 해당한다.

### 699 인구 피라미드 비교 분석

답·㉠

**바른 풀이** (가)는 노년층의 비중이 큰 선진국, (나)는 유소년층의 비중이 큰 개발 도상국에 해당한다. ㄱ. 노년층(65세 이상)에서는 대체로 여초 현상이 뚜렷하다. ㄴ. 선진국(가)은 개발 도상국(나)보다 유소년층 비중이 월등히 작다.

**오답 체크** ㄷ. 선진국(가)이 개발 도상국(나)보다 상대적으로 평균 기대 수명이 길다. 의료 수준과 생활 환경이 좋기 때문이다. ㄴ. 경제 수준이 높아질수록 대체로 (나)에서 (가)로의 인구 구조 변화가 일어난다.

### 700 우리나라의 인구 구성비 변화

답·㉡

**바른 풀이** 우리나라의 연령별 인구 구성비 변화를 보면 시간이 갈수록 유소년층의 비중이 줄고, 노년층의 비중이 커지는 흐름이다. ㄱ. 초고령 사회는 노년층 인구 비중이 20% 이상인 경우다. 2020년의 노년층 비중은 15.7%로 고령 사회 단계이다. ㄷ. 유소년 부양비가 가장 높은 시기는 1980년이다.

**오답 체크** ㄴ. 노령화 지수가 가장 높은 시기는 2060년이다. ㄷ. 유소년 부양비가 가장 높은 시기는 유소년층의 비중이 가장 큰 1980년이다. 유소년 부양비는 청장년층 대비 유소년의 인구 비중으로 계산할 수 있다.

### 701 초고령 사회의 인구 문제

답·㉣

**바른 풀이** ㉠ 노인 돌봄 및 의료 인력이 부족해진다. ㉡ 청장년층의 노인 부양 부담이 커진다. ㉢ 노년층의 사회 및 정치적 영향력이 증가한다. ㉤ 청

장년층과 노년층의 일자리 경쟁에 따른 세대 간 갈등이 심화한다. 노년층이 늘수록 청년이 연장되거나 추가 근로를 위한 시스템 정비가 필요하기 때문이다.

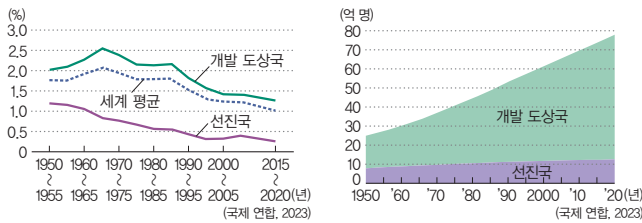
**오답 체크** ④ 출산 및 육아 비용 지원은 저출생에 따른 대책에 해당한다.

**702 선진국과 개발 도상국의 인구 비교** 답·⑤

**바른 풀이** (가)는 인도, (나)는 독일이다. 인도는 개발 도상국, 독일은 선진국이라는 것을 염두에 두고 선지를 분석한다. 인도와 독일을 모르더라도 인구 조절로 산아 제한을, 아동 수당으로 저출생 문제를 유추할 수 있다. **ㄷ.** 독일(나)은 인도(가)보다 유아 사망률이 낮다. **ㄹ.** 독일(나)은 인도(가)보다 노동력의 해외 유입이 많다.

**오답 체크** ㄱ. 인도(가)는 독일(나)보다 합계 출산율이 높다. 오늘날 인도는 세계 1위의 인구 대국이다. **ㄴ.** 인도(가)는 독일(나)보다 1인당 국내 총생산이 낮다.

**개념 더하기 선진국과 개발 도상국의 인구 변화**



▲ 선진국과 개발 도상국의 인구 증가율 변화    ▲ 선진국과 개발 도상국의 총인구 변화

세계의 인구 증가율은 하락, 전체 인구는 증가 양상을 보인다. 선진국은 인구 변천 모형 4~5단계에 해당하고, 개발 도상국은 2~3단계에 속하는 경우가 많다.

**703 세계의 합계 출산율** 답·①

**바른 풀이** 합계 출산율은 개발 도상국(가)이 선진국(나)보다 월등히 높게 나타난다. 경제 발전 수준이 낮고, 여성의 사회적 지위가 낮을수록 합계 출산율이 높게 나타나는 경향성이 있다. **ㄱ.** 개발 도상국(가)은 식량 부족으로 기아 문제가 나타날 수 있다. **ㄴ.** 선진국(나)은 시간이 갈수록 세대 간 일자리 경쟁이 심화한다. 노년층 인구 비중이 꾸준히 늘기 때문이다.

**오답 체크** ㄷ. 개발 도상국(가)은 선진국(나)보다 청장년층의 노년 인구 부양 부담이 적다. **ㄹ.** 경제 발전 수준이 높은 선진국(나)은 개발 도상국(가)보다 사회 기반 시설 부족의 문제가 덜하다.

기출로	실력	높이기	153~157쪽		
704 ⑤	705 ②	706 ④	707 ③	708 ②	
709 ③	710 ②	711 ④	712 ⑤	713 ④	
714 ④	715 ④	716 ④	717 ②	718 ④	
719 ②					
<b>서답형</b>					
720 모범 답안 참조					
721 (1) 저출생·고령화 문제			(2) 모범 답안 참조		
722 (1) ① 7, ③ 14, ⑤ 20			(2) 모범 답안 참조		
723 (1) 경제적 목적(일자리를 얻기 위해)			(2) 모범 답안 참조		

**704 인구 변천 모형** 답·⑤

**바른 풀이** 인구 변천 모형 5단계이다. (가)~(마)로 갈수록 순차적으로 1~5단계이다. 인구 변천 모형은 출생률과 사망률의 관계를 따진다. ① 1단계(가)에서는 인구가 정체한다. 출생률과 사망률이 모두 높다. ② 2단계

(나)에서는 인구가 성장한다. 출생률이 높지만 사망률이 급격히 낮아지기 때문이다. ③ 3단계(다)에서는 총인구가 증가한다. 출생률이 낮아지지만, 사망률이 낮은 단계에 머물기 때문이다. ④ 4단계(라)에서는 인구 성장이 둔화한다. 출생률과 사망률이 모두 낮은 수준에서 머물고 있다. ⑥ 2단계(나)와 3단계(다)에서는 모두 인구가 증가한다. 출생률이 사망률보다 높다. ⑦ 2단계(나)는 1단계(가)보다 여성의 사회적 진출 양상이 활발하다. 2단계는 산업화 단계에 해당한다.

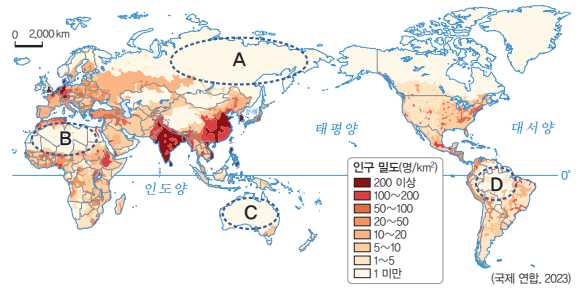
**오답 체크** ⑤ 인구 변천 모형의 마지막 단계(마)에서는 인구의 자연적 감소가 도드라진다. 선진국의 저출생과 연동하여 생각할 수 있다.

**705 세계의 인구 분포 특징** 답·②

**바른 풀이** 세계 인구의 대부분은 중위도 온대 기후 지방, 해안의 저지대와 평야 지역에 집중해 있다. **ㄱ.** 북반구는 남반구보다 인구수가 많다. 북반구의 대륙 면적이 남반구에 비해 월등히 넓기 때문이다. **ㄹ.** 인구 밀도가 높은 곳은 대체로 중위도 온대 기후 지역이다. 인구 밀집 지역은 중위도 냉·온대 기후 지역, 해안 저지대 및 평야 지역 등이다.

**오답 체크** ㄴ. 시베리아 지역(A)은 기온이 낮아서 인구가 희박한 것이 맞지만, 오스트레일리아의 중부 지역(C)은 대부분 사막으로 너무 건조해서 인구가 희박하다. **ㄷ.** 아마존 분지(D)는 열대 기후 지역으로 너무 습하고 열대림이 발달하여 인구가 희박하지만, 사하라 사막(B)은 너무 건조하여 인구가 희박하다.

**자료 분석**



→ 지도의 A는 시베리아, B는 사하라 사막, C는 오스트레일리아 중부(그레이트 빅토리아 사막), D는 아마존 분지(열대림)이다. A 시베리아 지역은 기온이 낮아 인구가 희박하다. B 사하라 사막과 C 그레이트빅토리아 사막 지역은 너무 건조하여 인구가 희박하다. D 아마존의 열대림 지역은 기온이 높고 밀림이 발달해 인구가 희박하다.

**706 선진국과 개발 도상국의 인구 피라미드** 답·④

**바른 풀이** 인구 피라미드를 분석하여 인구 구조의 특징을 파악하고 선진국과 개발 도상국으로 구분하는 문제이다. 선진국은 유소년층 인구 비율이 낮고 노년층 인구 비율이 높다. 반면 개발 도상국은 유소년층 인구 비율이 높고 노년층 인구 비율이 적다. (가)는 니제르, (나)는 독일이다. **ㄴ.** 인구의 자연 증가율은 선진국(나)보다 개발 도상국(가)이 높다. **ㄹ.** 중위 연령은 노년층 인구 비율이 높은 선진국(나)이 개발 도상국(가)보다 높다.

**오답 체크** ㄱ. 니제르(가)와 독일(나) 모두 북반구에 위치한다. **ㄷ.** 3차 산업(서비스업) 종사자 비율은 선진국(나)이 개발 도상국(가)보다 높다.

**707 인구의 국제 이동 특징** 답·③

**바른 풀이** 지도에 나타난 인구 이동의 패턴은 경제적 목적에 따른 것이다. 화살표가 천연자원 개발로 경기가 활발한 아라비아반도 일대, 유럽 일대, 오스트레일리아 일대 등 선진국으로 향하는 것으로 보아 알 수 있다. ③ 병: 좋은 일자리를 찾기 위함이다.

**오답 체크** ① 갑: 정치적 이동의 대표적인 방향은 시리아 일대, 아프리카 내전 국가에서 주변으로 뿔어나가는 패턴을 보인다. ② 을: 이혼향도는 촌락의 인구가 도시로 향하는 사회학적 현상이다. 국제 이동과는 관련이 없다. ④ 장: 종교적 자유

를 찾기 위한 이동이나 성지 순례는 종교적 이동에 해당한다. 대표적으로 이슬람교의 성지 순례가 있다. ⑤ 무: 해수면 상승으로 인한 생활 터전의 상실로 이동하는 것은 환경적 이동이다.

**708 인구 지표 비교·분석** 답·②

**바른 풀이** 두 국가의 자연적 인구 증가율 변화와 연령층별 인구 구조를 나타낸 그래프이다. 자연적 인구 증가율이 높다는 것은, 출생률이 높다는 뜻이다. 따라서 A가 니제르이고, B가 독일이다. 연령층별 인구 구조에서 65세 이상의 노년층의 비중이 큰 것은 (나)이다. 따라서 (나)는 독일, (가)는 니제르이다. ㄱ. 니제르(A)는 독일(B)보다 유소년 부양비가 높다. 합계 출산율이 높기 때문이다. ㄴ. 니제르(가)는 독일(나)보다 중위 연령이 낮다. 중위 연령은 노년층 인구 비중이 클수록 높아진다.

**오답 체크** ㄴ. 독일(B)은 니제르(A)보다 도시화율이 높다. 오랜 도시화 과정을 거치며 발달해 왔기 때문이다. ㄷ. 독일(나)은 니제르(가)보다 1차 산업 종사자 비율이 낮다. 선진국은 대체로 3차 산업 비중이 매우 높다.

**709 국제 인구 이동의 유형** 답·③

**바른 풀이** 국제 인구 이동의 유형을 파악하는 문제이다. A는 내전과 관련이 깊은 정치적 이동, B는 취업 기회를 찾아 이동하는 경제적 이동, C는 지구 온난화에 따른 해수면 상승으로 강제 이주해야 하는 투발루의 환경적 이동에 해당한다. ㄴ. 경제적 이동(B)은 주로 개발 도상국에서 선진국으로의 이동이 많다. ㄷ. 환경적 이동(C)의 주된 원인은 기후변화이다.

**오답 체크** ㄱ. 중국 조선족이 대한민국으로 이주하는 것은 경제적 목적이 대부분이다. ㄷ. 오늘날 국제 인구 이동의 규모는 경제적 이동(B)이 가장 크다.

**710 국제 난민 이동** 답·②

**바른 풀이** 지도는 북부 아프리카와 서남아시아 일대의 난민 이동을 나타낸 것이다. ㄱ. 난민은 내전, 정치적 갈등 등의 원인으로 발생하므로 강제성이 있다. ㄷ. 난민의 이동은 정치적 이동에 해당한다.

**오답 체크** ㄴ. 난민은 종교적 이동과 관련이 없다. 종교적 이동의 대표적인 사례는 성지 순례이다. ㄷ. 난민은 경제적 이동이 아닌 정치적 이동이다.

**711 국가별 인구 피라미드 분석** 답·④

**바른 풀이** (가)는 노년층의 비중이 큰 선진국, (나)는 유소년층의 비중이 큰 개발 도상국이다. ㄴ. 선진국(가)은 개발 도상국(나)보다 고령화 정도가 심하다. 고령화는 노인 인구 비중이 큰 현상이다. ㄷ. 1인당 국내 총생산은 선진국인 (가)가 더 크다.

**오답 체크** ㄱ. (가)는 선진국, (나)는 개발 도상국이다. ㄷ. 개발 도상국(나)은 선진국(가)보다 유소년층 인구 비율이 높다. 개발 도상국은 여성의 사회적 지위가 낮아 대체로 합계 출산율이 높기 때문이다.

**712 국가별 인구 피라미드, 인구 구조 분석** 답·⑤

**바른 풀이** (가)는 선진국, (나)는 개발 도상국의 인구 피라미드이다. 하단 그래프에서 선진국(가)의 지표가 높은 A에는 노년 부양비, 노령화 지수, 중위 연령, 노년 부양비와 같은 개념이 들어갈 수 있다. 개발 도상국(나)의 지표가 높은 B에는 유소년 부양비, 합계 출산율, 영아 사망률 등의 지표가 들어갈 수 있다. ① (가)는 선진국이다. 노년층의 비중이 월등히 높아 저출생, 고령화의 문제가 심각함을 엿볼 수 있다. ② (나)는 개발 도상국이다. 유소년층 비중이 월등히 높아 합계 출산율이 높음을 엿볼 수 있다. ③ A에는 선진국에서 높은 값을 보이는 노년 부양비가 들어갈 수 있다. ④ B에는 개발 도상국에서 높은 값을 보이는 인구의 자연 증가율이 들어갈 수 있다. 자연 증가율은 출생률과 사망률의 관계를 따져서 파악한다.

**오답 체크** ⑤ 선진국(가)은 여성의 사회 진출 증가, 자녀에 대한 가치관의 변화 등으로 개발 도상국(나)보다 합계 출산율이 낮다.

**713 인구의 국제 이동** 답·④

**바른 풀이** 지도의 (가)는 시리아에서 주변국, 유럽 일대로 인구가 이동하고 있다. 따라서 난민임을 알 수 있다. (나)는 멕시코나 중앙아메리카 지역에서 미국으로의 인구 이동이다. 따라서 경제적 목적에 따른 인구 이동으로 볼 수 있다. ㄴ. (가)의 난민은 대체로 이슬람교 신자이다. 서남아시아 일대는 대부분 국가가 이슬람교를 신봉한다. ㄷ. 중앙아메리카에서 미국으로 이동하는 주민들은 대체로 저임금 단순 노동직에 종사하는 비중이 높다.

**오답 체크** ㄱ. 시리아 난민의 이동은 내전과 같은 정치적 원인 때문이다. ㄷ. 중앙아메리카 이주민의 목적은 경제활동에 있다.

**714 국가별 인구 피라미드 분석** 답·④

**바른 풀이** (가)는 개발 도상국, (나)는 선진국에 해당한다. 하단 그래프의 x축은 1인당 국내 총생산, y축은 합계 출산율, z축은 노년 부양비이다. 선진국은 1인당 국내 총생산과 노년 부양비가 높고, 합계 출산율이 낮다.

**715 인구 변천 모형** 답·④

**바른 풀이** 인구 변천 모형의 (가)는 1단계, (나)는 2단계, (다)는 3단계, (라)는 4단계에 해당한다. 자료의 ㉠은 출생률, ㉡은 사망률이다. ㄴ. 3단계(다)의 인구 변화는 여성의 사회 진출, 가족에 대한 가치관 변화, 산아 제한 등과 관련이 깊다. ㄷ. 4단계(라)는 1단계(가)보다 경제 발전 수준이 높은 국가에서 잘 나타난다.

**오답 체크** ㄱ. ㉠은 출생률, ㉡은 사망률이다. ㄷ. 3단계(다)의 후반기부터 고령화 문제가 서서히 나타난다. 고령화가 본격화하는 단계는 4단계(라)이다.

**716 인구 정책 변화** 답·④

**바른 풀이** (가) 시기는 산아 제한, (나) 시기는 출산 장려와 관련이 깊다. (나) 시기가 (가) 시기에 비해 경제 발전 수준이 높다. 대체로 경제 발전 수준이 낮은 시기에는 합계 출산율, 인구 증가율, 유소년층 인구 비율이 높게 나타나고, 경제 발전 수준이 높은 시기에는 중위 연령, 노령화 지수, 인구 부양력, 1인당 국내 총생산, 노년층 인구 비율이 높게 나타난다. ㄴ. 산아 제한 시기(가)의 지표가 높은 A에는 인구 증가율, 출산 장려 시기(나)의 지표가 높은 B에는 노령화 지수가 들어갈 수 있다. ㄷ. 산아 제한 시기(가)의 지표가 높은 A에는 유소년층 인구 비율, 출산 장려 시기(나)의 지표가 높은 B에는 노년층 인구 비율이 들어갈 수 있다.

**오답 체크** ㄱ. 산아 제한 시기(가)의 지표가 높은 A에 합계 출산율, 출산 장려 시기(나)의 지표가 높은 B에는 중위 연령이 들어갈 수 있다. ㄷ. 인구 부양력은 경제 발전 수준이 낮은 시기보다 높은 시기에 높게 나타나므로 B에 들어갈 수 있다.

**717 고령화의 문제점** 답·②

**바른 풀이** 자료는 고령자 1명당 생산 가능 인구를 나타낸 것이다. 경제 협력 개발 기구(OECD) 주요 국가의 생산 가능 인구 추이를 보면, 시간이 갈수록 줄어들고 있음을 파악할 수 있다. ① 경제 협력 개발 기구 국가의 대부분은 북반구에 위치한다. ③ 세대 간 정의, 다시 말해 늘어난 노년층과 청장년층 간의 조화를 꾀하는 정책이 필요하다. ④ 노년층을 위한 연금 제도 등이 잘 갖추어져 있다. ⑤ 2014년 대비 2036년 생산 가능 인구는 모두 줄어들 예정이다.

**오답 체크** ② 식량 증산이 시급한 국가는 대체로 개발 도상국이다.

**718 우리나라의 시기별 인구 정책** 답·④

**바른 풀이** 자료의 인구 정책 포스터는 시기별로 (나) - (다) - (가) 순으로 이어진다. 합계 출산율이 높던 시기의 (나)에서 산아 제한 정책을 펼쳤던 시기의 (다)를 지나, 저출생 문제가 대두된 시기의 (가)로 이어진다. ㄴ. 남아 선호 사상이 있던 (나) 시기는 성비가 100보다 높았다. ㄷ. 포스터를 시간 순서대로 나열하면 (나) - (다) - (가) 순이다.

**오답 체크** ㄱ. 저출생 시기(가)는 출산을 적극 장려하는 정책이 주를 이룬다. ㄴ. (다) 시기는 출산 억제 정책이 펼쳐진 시기이다.

**719 우리나라의 인구 구조 변화** 답·②

**바른 풀이** 1960년대부터 시기별로 보면 노년층은 늘고, 유소년층은 감소하는 구조이다. 2060년에는 저출생·고령화가 매우 심각한 사회 문제로 비화할 가능성이 높다. ㄴ. 시간이 갈수록 노령화 지수는 높아지고 있다. ㄷ. 시간이 갈수록 유소년 부양비는 낮아지고 있다.

**오답 체크** ㄱ. 2030년 노인 인구 비중이 20%를 넘으므로, 초고령 사회에 해당하는 다. ㄴ. 생산 가능 인구 비율은 2010년까지 증가하다가 이후 줄어들고 있다.

**720 인구 변천 모형**

**모범 답안** ㉠은 (출생률), ㉡은 (사망률)이다. 3단계에서 출생률이 급격히 낮아지는 것은 (여성)의 사회 활동 증가, (자녀)에 대한 가치관의 변화, 산아 제한 정책의 효과 때문이다.

**721 인구 정책**

- (1) 저출생·고령화 문제
- (2) **모범 답안** 생산 가능 인구 감소로 인한 노동력 부족, 경제 성장 둔화, 사회 보장 비용 부담 증가 등의 문제를 겪을 수 있다.

채점 기준	수준
노동력 부족, 경제 성장 둔화, 사회 보장 비용 부담 증가 등의 용어를 모두 사용하여 논리적으로 서술한 경우	상
노동력 부족, 경제 성장 둔화, 사회 보장 비용 부담 증가 중 두 가지만을 사용하여 서술한 경우	중
노동력 부족, 경제 성장 둔화, 사회 보장 비용 부담 증가 중 한 가지만을 사용하여 서술한 경우	하

**722 고령화 문제**

- (1) ㉠ 7, ㉡ 14, ㉢ 20
- (2) **모범 답안** 2005년은 65세 이상 인구 비율이 10%로 고령화 사회, 2015년은 19%로 고령 사회에 해당한다.

채점 기준	수준
고령화 사회, 고령 사회 등의 용어를 모두 사용하여 논리적으로 서술한 경우	상
고령화 사회, 고령 사회 등의 용어 중 한 가지만을 사용하여 서술한 경우	중
고령화 사회, 고령 사회 등의 용어를 사용하지 못하고 서술한 경우	하

**723 인구 이동**

- (1) 경제적 목적(일자리를 얻기 위해)
- (2) **모범 답안** 인구 이동의 주체는 대부분 남성이다. 화석 에너지로 경제가 성장한 지역에 노동력을 제공하기 위한 이동이 주를 이룬다.

채점 기준	수준
'이동의 주체가 남성', '화석 에너지(또는 석유)로 경제가 활성화한 지역'이라는 것을 종합하여 논리적으로 서술한 경우	상
'이동의 주체가 남성', '화석 에너지(또는 석유)로 경제가 활성화한 지역' 중에서 한 가지만을 제시하여 서술한 경우	중
'이동의 주체가 남성', '화석 에너지(또는 석유)로 경제가 활성화한 지역' 등의 내용을 제시하지 못하고 서술한 경우	하

기출로 **1등급** 도전하기 158~159쪽

724 ④    725 ②    726 ③    727 ③    728 ④  
 729 ⑤    730 ①    731 ③

**724 인구 지표** 답·④

**바른 풀이** (가) 국가군은 주로 유럽 국가군, (나)는 아프리카 국가군이다. 두 국가군을 상대 비교하면 (가)는 선진국, (나)는 개발 도상국이라고 할 수 있다. ㄴ. 선진국(가)은 개발 도상국(나)보다 1인당 국내 총생산이 많다. ㄷ. 개발 도상국(나)은 선진국(가)보다 노령화 지수가 낮다.

**오답 체크** ㄱ. 선진국(가)은 개발 도상국(나)보다 도시화율이 높다. ㄷ. 개발 도상국(나)은 선진국(가)보다 유소년 인구 부양비가 높다. 합계 출산율이 높기 때문이다.

**725 대륙별 인구 지표 분석** 답·②

**바른 풀이** (가)는 1950년과 2020년 모두 유소년층 인구 비율이 40% 이상인 대륙이므로 아프리카(●)이다. (다)는 두 시기 모두 세 대륙 중 노년층 인구 비율이 가장 높고, 2020년 노년층의 비율이 매우 높아 약 20%에 가까운 대륙으로 유럽(■)이다. 유소년층 인구 비율이 줄고 노년층 인구 비율이 늘어난 (나)는 아시아(▲)이다.

**726 인구의 국제 이동** 답·③

**바른 풀이** (가)는 시리아에서 유출하는 난민으로 정치적 이동, (나)는 멕시코에서 미국으로 유입하는 경제적 이동이다. ㄴ. (나)는 경제적 이동이다. ㄷ. 난민(가)은 경제적 이동(나)보다 주변국으로 이동하는 경향성이 높다. 일단 빨리 국가를 벗어나야 하기 때문이다.

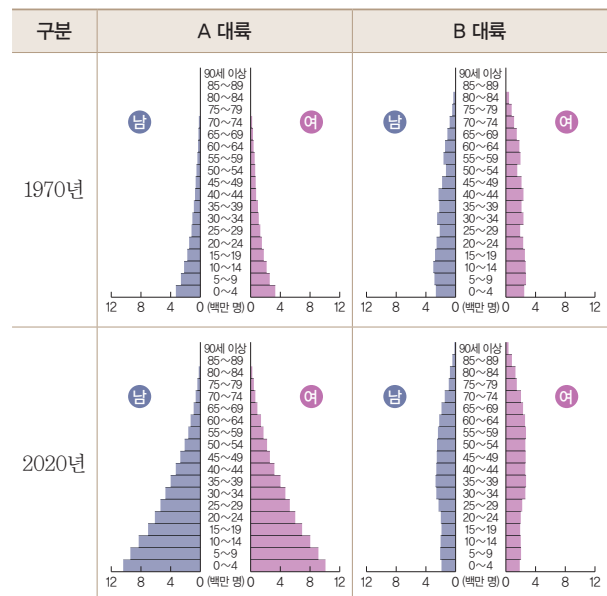
**오답 체크** ㄱ. 난민(가)과 환경적 이동은 관련성이 낮다. ㄴ. 경제적 이동(나)은 난민(가)보다 이동의 강제성이 낮다.

**727 인구 피라미드 비교** 답·③

**바른 풀이** (가)는 개발 도상국, (나)는 선진국이다. 선진국은 개발 도상국에 비해 노년층 인구 비율(y축), 중위 연령(x축)이 높고, 합계 출산율(z축)이 낮다.

**728 두 지역의 인구 구조 변화** 답·④

다음은 A, B 대륙의 인구 구조 변화를 나타낸 것이다. 이에 대한 설명으로 옳은 것은?(단, A, B는 각각 아프리카, 유럽 중 하나임)



- ① A에는 최상위 세계도시가 있다.
- ② B는 2020년 노년층에서 남성이 여성보다 많다.
- ③ A는 B보다 1970년 총인구가 많다.
- ④ A는 B보다 1970~2020년 인구 증가율이 높다.
- ⑤ A는 유럽, B는 아프리카이다.

**1등급 문제 풀이 비법**

**STEP 1 인구 피라미드로 대륙의 범주를 나눈다.**

A는 연령층별로 구분할 때 유소년층의 비중이 다른 연령층보다 크다. 따라서 개발 도상국이 많은 아프리카이다. 반면, B는 노년층의 비중이 크다. 따라서 선진국이 많은 유럽이다.

**STEP 2 인구 피라미드별 세부 특징을 분석한다.**

아프리카(A)는 그래프의 막대 길이가 비약적으로 증가했다. 인구가 폭발적으로 증가했다는 뜻이다. B는 인구 수준은 비슷하지만, 유소년층이 줄고 노년층이 많아졌다. 이는 저출생·고령화의 단계에 있음을 시사한다.

**바른 풀이** ④ 아프리카(A)는 유럽(B)보다 1970~2020년 인구 증가율이 월등히 높다.

**오답 체크** ① 아프리카(A)에는 뉴욕, 런던, 도쿄와 같은 최상위 세계도시가 없다. ② 2020년 유럽(B)의 노년층은 여초 현상이 나타난다. ③ 아프리카(A)는 유럽(B)보다 1970년 총인구가 적다. ⑤ A는 아프리카, B는 유럽이다.

**729 시리아 난민** 답·⑤

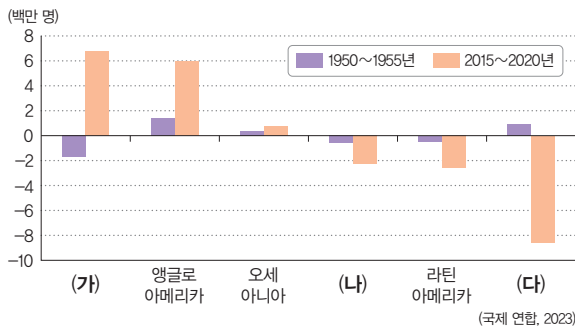
**바른 풀이** (가)는 내전과 정치적 불안으로 난민 발생이 많은 나라 중 하나인 시리아이다. 다. 난민은 정치적 불안정 및 내전으로 발생한다. 나. 난민을 수용한 지역에서는 이주민과의 문화적 차이로 갈등이 나타날 수 있다.

**오답 체크** 가. 난민의 이동은 성별을 가리지 않는다. 나. 자연재해에 따른 환경 난민의 대표적인 사례 국가는 투발루이다.

**730 지역별 인구 순 이동** 답·①

**바른 풀이** 아프리카, 아시아, 유럽 중 인구의 순 유출(유입 인구 < 유출 인구)이 가장 많은 곳은 인구수가 압도적으로 많은 아시아(다)이다. 순 유입(유입 인구 > 유출 인구)이 많은 (가)는 선진국이 많은 유럽이다. 나머지 (나)는 아프리카이다.

**자료 분석**



→ 인구의 국제 이주는 경제적 요인에 의한 경우가 가장 많다. 인구 순 유입은 주로 선진국 비율이 높은 앵글로아메리카, 유럽에서 나타난다. 반면 개발 도상국 비율이 높은 아시아, 아프리카, 라틴 아메리카는 인구 순 유출이 나타난다.

**731 우리나라의 연령층별 인구 구조** 답·③

**바른 풀이** (가)는 2060년, (나)는 1960년, (다)는 2015년에 해당한다. 유소년층이 많은 경제 발전 이전 시기에서 노년층이 많아지는 시기를 지나, 노년층이 극도로 많아지는 미래까지의 변화를 한 눈에 알 수 있다. 설명 1: (가)는 노년층이 압도적으로 많은 2060년이다. 설명 4: 2060년(가)은 1960년(나)보다 노동력 부족 문제가 심각하다.

**오답 체크** 설명 2: 2015년(다)은 80세 이상 노년층에서 성비가 100보다 작다. 여자가 남자보다 많으면 성비가 100 미만이다. 설명 3: 1960년(나)은 2060년(가)보다 노년 부양비가 월등히 작다.

**15 자원의 분포와 소비**

**핵심개념 확인 문제**

161쪽

732 다	733 나	734 나	735 자원
736 가채 연수		737 재생	738 자원 민족주의
739 ×	740 ×	741 ○	742 ○
744 ㉔	745 ㉔		743 ㉔

**기출로 기본 다지기**

162~163쪽

746 ④	747 ①	748 ②	749 ⑤	750 ①
751 ⑤	752 ①	753 ④		

**746 화석 연료의 특성** 답·④

**바른 풀이** 석유와 천연가스에 관한 옳은 답변 내용을 찾는 문항이다. 을. 석유는 지역적 편재성이 커서 국제 이동량이 많다. 정. 천연가스는 주로 발전용, 가정용, 상업용으로 사용된다. 석유는 주로 수송용으로 사용된다.

**오답 체크** 갑. 화석 연료 중 가장 먼저 상용화된 것은 석탄이다. 석탄-석유-천연가스 순이다. 병. 화석 연료 중 가채 연수가 가장 긴 것은 석탄이다.

**747 세계 1차 에너지 소비 구조** 답·①

**바른 풀이** 자료에서 가장 최근의 소비량에 주목하는 것이 좋다. 석유-석탄-천연가스 순으로 화석 연료의 소비 비중이 크다. 천연가스의 경우 석탄보다는 늦게 소비량이 증가했다는 점도 고려한다. 이를 종합하면 A는 석유, B는 석탄, C는 천연가스이다.

**748 자원의 특성** 답·②

**바른 풀이** 자원은 편재성, 유한성, 가변성의 특징이 있다. (가) 편재성은 자원이 고르게 분포하지 않고 특정 지역에 편중하여 분포한다는 의미로, 이로 인해 자원 민족주의가 등장하기도 한다. (나) 유한성은 자원이 무한하지 않고 연젠가는 고갈된다는 것으로, 가채 연수와 관련된 특성이다. (다) 가변성은 자원의 가치가 시대와 기술 발달에 따라 변화한다는 의미이다. 희토류가 가변성을 보여 주는 자원이다.

**749 화석 연료의 국제 이동** 답·⑤

**바른 풀이** 석유는 서남아시아 지역이나 남아메리카의 베네수엘라 볼리바르에서 수출이 많은 것을 알 수 있고, 석탄은 오스트레일리아 지역에서 수출이 많은 것을 알 수 있다. 따라서 (가)는 석유, (나)는 석탄이다. 나. 석유(가)는 주로 신생대 제3기 배사 구조에 매장돼 있다. 모. 석유(가)는 석탄(나)보다 상용화된 시기가 늦다. 상용화 시기는 화석 연료 중 석탄이 가장 이르고, 천연가스가 가장 늦다. 바. 석탄(나)은 석유(가)보다 가채 연수가 길다. 석탄이 모든 화석 연료 중에서 가장 길다.

**오답 체크** 가. 석유(가)는 편재성이 큰 자원으로 분포가 고르지 않아 국제 이동이 많다. 다. 석탄(나)은 주로 산업용, 제철용, 발전용으로 사용된다. 라. 육상에서 파이프라인을 통해 운송하는 자원은 천연가스이다.

**750 석탄의 용도별 소비 비중** 답·①

**바른 풀이** 그래프의 에너지 자원은 산업용 비중이 80%를 넘는다. 산업용 중 화력 발전과 제철 공업에 주로 쓰이는 석탄이다. 가. 석탄은 산업 혁명에 중기 기관의 연료로 쓰였다. 나. 석탄은 세계적으로 제철 산업이나 발전용으로 널리 쓰인다.

**오답 체크** 다. 세계 1차 에너지 소비 구조에서 가장 큰 비중을 차지하는 에너지 자

원은 석유이다. ㄹ. 내연 기관의 발명에 따른 자동차 보급과 관련이 깊은 에너지 자원은 수송용으로 가장 많이 쓰이는 석유이다.

**751 화석 연료의 용도별 소비 비중** 답·⑤

**바른 풀이** 자료의 (가)는 수송용 비중이 가장 크므로 석유이다. (나)는 가정용 비중이 30%에 이를 정도로 도드라지므로 천연가스이다. ㄷ. 천연가스(나)는 육상 구간에서는 주로 파이프라인을 통해 운송한다. ㄹ. 석유(가)는 천연가스(나)보다 세계 1차 에너지 소비 구조에서 차지하는 비중이 높다.

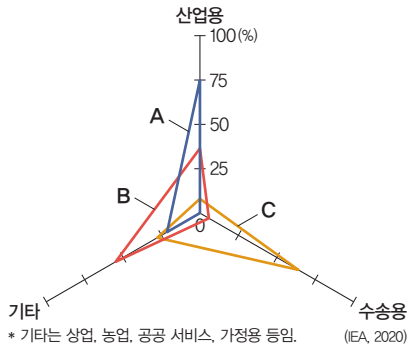
**오답 체크** ㄱ. (가)는 석유, (나)는 천연가스이다. ㄴ. 천연가스(나)는 냉동 액화 기술의 발달로 소비량이 급증했다. 냉동 액화 기술이란 천연가스를 냉각하여 액체로 응축하는 기술이다. 냉동 액화된 천연가스는 기체 상태에 비해 부피가 크게 줄어 들기 때문에 운반이 용이하다.

**752 화석 연료의 용도별 소비 비중** 답·①

**바른 풀이** 산업용, 수송용의 축을 통해 에너지원을 구분하는 문항이다. A는 산업용이 가장 비중이 크므로 석탄, C는 수송용이 가장 비중이 크므로 석유이다. 산업용과 기타(가정용) 비중이 큰 B는 천연가스이다. ㄱ. A는 석탄, B는 천연가스, C는 석유이다. ㄴ. 석탄(A)은 천연가스(B)보다 상용화된 시기가 이른다.

**오답 체크** ㄷ. 천연가스(B)는 석유(C)보다 1차 에너지 소비 구조에서의 비중이 작다. 석유-석탄-천연가스 순으로 비중이 높다. ㄹ. 석유(C)는 석탄(A)보다 생산 지역의 편재성이 크다. 서남아시아 지역과 남미 베네수엘라 볼리바르 일대에 집중 분포해 있다.

**자료 분석**



➔ 그래프를 읽을 때 가장 중요한 것은 해당 그래프의 지표이다. 산업용, 수송용 그리고 기타로 구성되어 있지만, 기타의 각주를 보면 가정용, 산업용 비중이 높은 자원임을 유추할 수 있다. 따라서 A는 산업용 비중이 큰 석탄, B는 가정용 및 산업용 비중이 큰 천연가스, C는 수송용 비중이 큰 석유이다.

**753 자원에 따른 국제 갈등** 답·④

**바른 풀이** 자원은 편재성과 유한성의 문제로 많은 갈등을 유발한다. ㄱ. 동중국해에서 거대한 유전이 발견되면서 이를 확보하기 위해 주변국의 이해관계가 첨예하게 대립하는 중이다. ㄴ. 자원의 고갈 문제는 자원의 유한성과 관련이 깊다. ㄷ. 화석 연료 사용량이 늘어나면서 나타나는 대표적인 문제로는 기후변화가 있다.

**오답 체크** ㄹ. 에너지 소비 격차 문제로는 선진국과 개발 도상국의 국민 1인당 에너지 소비량의 차이가 대표적인 사례이다. 대체로 선진국의 소비량이 더 많다.

**기출로 실력 높이기** 164~167쪽

754 ②	755 ②	756 ③	757 ③	758 ⑥
759 ⑤	760 ⑤	761 ②	762 ③	763 ①
764 ①	765 ②			

- 서답형**
- 766 모범 답안 참조
  - 767 (1) 천연가스 (2) 모범 답안 참조
  - 768 (1) (가) 천연가스, (나) 석탄 (2) 모범 답안 참조
  - 769 (1) 천연가스 (2) 모범 답안 참조

**754 자원의 의미** 답·②

**바른 풀이** 그래프의 ㉠은 자연, ㉡은 경제적 의미의 자원, ㉢은 기술적 의미의 자원, ㉣은 ㉡, ㉢ 이외의 자연물이라고 할 수 있다. 자원은 자연물 중에서 일상생활과 경제 활동에 쓸모가 있고, 기술적·경제적으로 이용이 가능한 것을 뜻한다. ㄱ. ㉠에는 '자연'이 들어갈 수 있다. ㄷ. 경제적 의미의 자원(㉡) 범위에 들어가려면 경제성이 담보되어야 한다. 자원의 가치보다 채굴 비용이 더 크다면 경제성이 떨어진다고 할 수 있다.

**오답 체크** ㄴ. 화석 연료는 ㉡ 경제적 의미의 자원에 속한다. ㄹ. ㉢에 속한 자원은 시대와 기술의 발전에 따라 얼마든지 ㉡과 ㉢의 범주에 들어갈 수 있다.

**755 화석 연료의 특징** 답·②

**바른 풀이** 도표는 화석 연료 중에서 비중이 높은 석유, 석탄, 천연가스에 관한 것이다. 주로 고생대 지층에 매장되어 있고, 분포 범위가 넓은 (가)는 석탄이다. 냉동 액화 기술의 발달로 소비량이 급증한 (나)는 천연가스이다. 세계 1차 에너지 소비 구조에서 차지하는 비중이 가장 큰 (다)는 석유이다. ㄱ. 석탄(가)은 주로 산업용, 발전용으로 쓰인다. ㄷ. 석유(다)는 주로 수송용, 산업용으로 쓰인다. 여기서 산업용이란 주로 석유 화학 산업을 뜻한다.

**오답 체크** ㄴ. 천연가스(나)는 육상의 경우 파이프라인을 이용해 운송하는 경우가 많다. ㄹ. 세계 1차 에너지 소비 구조에서 차지하는 비중은 석유(다)>석탄(가)>천연가스(나) 순으로 크다.

**756 자원의 특징** 답·③

**바른 풀이** ㄷ. ㉠ 과학기술의 발달과 사회·문화적 배경 등에 따라 변화할 수 있다는 것은 자원의 가변성을 말하는 것으로 이를 잘 나타내는 자원으로는 석유가 있다. 석유는 내연 기관이 발명되기 전까지는 끈적한 검은 기름으로 가정에서 불을 밝히는 용도로만 쓰였다.

**오답 체크** ㄱ. 매장량이 한정되어 있다는 것은 자원의 유한성을 말하는 것이다. 자원 민족주의는 자원의 편재성과 관련이 깊다. ㄴ. 특정 지역에 치우쳐 분포하는 것은 자원의 편재성을 말한다. 가채 연수는 자원의 유한성과 관련이 깊다.

**757 자원 문제** 답·③

**바른 풀이** 제시문은 중동의 석유 파동에 관한 것이다. 중동 지역에 편재된 석유 자원의 특징으로 산유국이 가격을 담합하는 자원 민족주의를 펼친 바 있다. 이에 따라 국제 사회는 큰 혼란을 겪었다. ㄴ. 석유 파동과 같은 위협에 대비하기 위해 비산유국은 수입처를 다변화할 필요가 있다. ㄷ. 석유 자원은 생산과 소비 지역이 일치하지 않기 때문에 국제 이동량이 많다.

**오답 체크** ㄱ. 석유는 서남아시아 지역과 남아메리카 베네수엘라 볼리바르 지역에 집중적으로 분포한다. ㄹ. 수요가 많은 자원일수록 자원 민족주의의 위험성이 커질 수 있다. 최근 반도체 산업의 성장과 더불어 중국의 희토류가 문제가 되는 것도 같은 이유에서다.

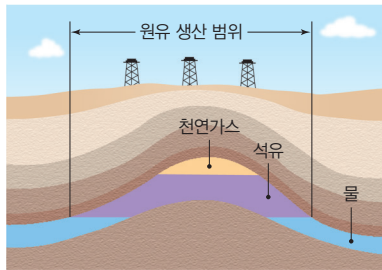
**758 화석 에너지원의 특징** 답·⑥

**바른 풀이** 자료의 A는 세계 1차 에너지 소비 구조에서 비중이 가장 크고 사

우디아라비아의 생산량 비중이 가장 크므로 석유임을 알 수 있다. B는 세계 1차 에너지 소비 구조에서 비중이 두 번째로 크고 중국의 생산량 비중이 가장 크므로 석탄임을 알 수 있다. C는 세계 1차 에너지 소비 구조에서 비중이 세 번째로 크고 미국, 러시아의 생산량 비중이 크므로 천연가스임을 알 수 있다. 화석 에너지 자원 관련 생산 비중에 관한 그래프가 나오면 위의 국가에 주목하여 에너지 자원을 구분할 수 있다. ① A는 석유, B는 석탄, C는 천연가스이다. ② B는 철광석과 함께 산업 혁명의 원동력이었다. ③ C는 무역 시 주로 파이프라인이나 LNG선으로 운반한다. ④ A는 B보다 국제 이동량이 많다. ⑤ (가)에는 '주로 신생대 지층에 매장되어 있다'가 들어갈 수 있다. ⑦ (다)에는 '냉동 액화 기술의 발달로 상용화가 이루어졌다'가 들어갈 수 있다.

**오답 체크** ⑥ B 석탄을 도출하기 위해서는 (나)에 석탄에 해당하는 내용이 들어야 한다. 석탄의 국가별 소비량은 중국의 비중이 가장 크다.

### 개념 더하기 배사 구조와 냉동 액화 기술



습곡 지층에서 불록하게 솟아오른 부분을 배사 구조라 한다. 석유나 천연가스는 배사부에 매장량이 집중돼 있다. 냉동 액화 기술은 기체 상태의 천연가스를 냉각하여 액체로 응축하는 기술이다. 기체 상태의 천연가스를 액화하면 부피가 월등히 줄어 수송비를 줄이는 데 유리하다. 액화한 천연가스는 배로, 기체 상태의 천연가스는 파이프라인을 이용해 수송한다.

### 759 세계 1차 에너지 자원 소비 구조 답·⑤

**바른 풀이** (가)는 석유, (나)는 석탄, (다)는 천연가스이다. 세계 1차 에너지 자원 소비 구조의 순서는 암기해 두는 것이 문항에 접근하는 데 좋다. ① 석유(가)는 주로 수송용 연료로 사용된다. ② 석탄(나)은 주로 발전용 연료로 사용된다. ③ 천연가스(다)는 주로 신생대 제3기 배사 구조에 매장돼 있다. ④ 석유(가)는 석탄(나)보다 가채 연수가 짧다.

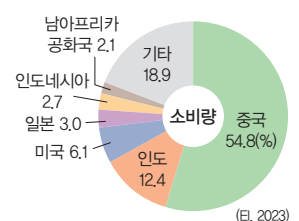
**오답 체크** ⑤ 석탄(나)이 천연가스(다)보다 상용화된 시기가 이른다. 석탄이 모든 화석 연료 중에서 상용화된 시기가 가장 이른다.

### 760 화석 연료의 생산량과 소비량 답·⑤

**바른 풀이** (가)는 미국과 사우디아라비아의 생산량이 많은 석유, (나)는 미국과 러시아의 생산량이 많은 천연가스이다. 미국은 석유 및 천연가스의 생산과 소비에서 모두 세계 1위다. 다, 석유(가)는 천연가스(나)보다 국제 이동량이 많다. 르, 천연가스(나)는 석유(가)보다 상용화의 시기가 늦다.

**오답 체크** ㄱ, 석유(가)는 대부분 신생대 제3기 배사 구조에 매장돼 있다. 나, 세계 1차 에너지 소비 구조에서 가장 큰 비중을 차지하는 것은 석유(가)이다.

### 개념 더하기 석탄의 소비 구조



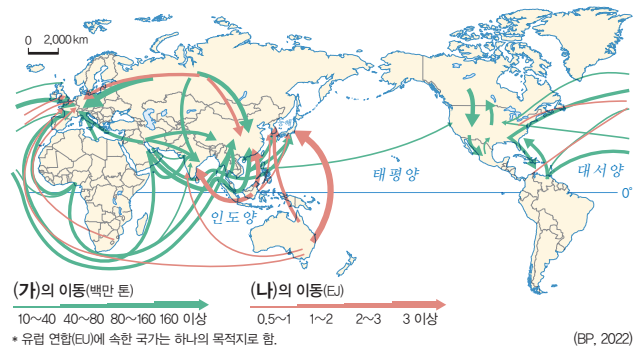
석탄은 다른 에너지 자원에 비해 중국과 인도의 소비량 비율이 높다. 중국과 인도는 석탄의 주요 소비국이자 생산국이기도 하다. 특히 중국은 자국의 생산량으로도 부족해 인도네시아 등으로부터 많은 양을 수입하기도 한다.

### 761 화석 연료의 국제 이동 답·②

**바른 풀이** 지도의 (가)는 서남아시아에서 많이 뺏어나가므로 석유, (나)는 오스트레일리아에서 수출이 많으므로 석탄이다. ㄱ, 석유(가)는 1970년대 자동차 산업이 활황을 겪으면서 사용량이 급증했다. ㄴ, 석유(가)는 석탄(나)보다 국제 이동량이 많다.

**오답 체크** ㄴ, 냉동 액화 기술의 발달로 상용화를 이룬 자원은 천연가스이다. ㄷ, 석유(가), 석탄(나)은 모두 화석 연료이다. 신·재생 에너지는 태양광, 태양열, 수력, 풍력, 지열 에너지 등이다.

### 자료 분석



▶ 석유(가)는 지역적 편재성이 커서 국제 이동량이 많다. 서남아시아 지역 국가의 수출량 비율이 높다. 석탄(나)은 화석 에너지 중에서는 편재성이 작은 편이고, 생산량 대비 국제 이동량도 적은 편이다. 주로 오스트레일리아, 인도네시아 등이 수출국이다.

### 762 화석 연료의 지역(대륙)별 매장량 순위 답·③

**바른 풀이** 유럽 및 러시아에서 매장량이 많은 (가)는 석탄, 서남아시아에서 매장량이 많은 (나)는 석유, 서남아시아와 유럽 및 러시아에서 매장량이 많은 (다)는 천연가스이다. 나, 석유(나)는 내연 기관의 발명과 함께 사용량이 급증했다. 다, 천연가스(다)는 다른 화석 연료에 비해 가정용 사용량이 많다.

**오답 체크** ㄱ, 석탄(가)은 주로 고기 조산대 주변에 매장돼 있다. 르, 석탄(가)은 석유(나)보다 국제 이동량이 적다.

### 763 화석 연료의 분포 답·①

**바른 풀이** 지도의 화석 에너지 자원은 유럽, 중국, 미국 동부 애팔래치안맥 일대, 오스트레일리아의 그레이트디바이딩산맥 등에 분포해 있다. 이 지역들은 고기 조산대 지역으로 석탄이 많이 매장돼 있다. ㄱ, 석탄의 분포를 나타낸 것이다.

**오답 체크** ㄴ, 냉동 액화 기술의 발전과 관련이 깊은 것은 천연가스이다. ㄷ, 화석 연료 중 연소 시 이산화 탄소 배출량이 상대적으로 적은 것은 천연가스이다.

### 764 국제 자원 분쟁 지역 답·①

**바른 풀이** 지도의 A는 센카쿠 열도(다오위다오), B는 북극해, C는 남중국해, D는 포클랜드 제도이다. 모두 자원을 둘러싼 국제적 갈등 지역이다. ㄱ, A는 센카쿠 열도(다오위다오)이다. 일본, 중국, 타이완 등이 석유 자원과 해상 교통로를 차지하기 위해 분쟁 중이다. 나, B 북극해 지역은 러시아, 미국, 캐나다, 덴마크, 노르웨이 등의 연안국들이 석유 및 천연가스 자원을 두고 분쟁 중이다. 또한 기후변화로 북극해 항로가 열리면서 해상 교통로에 대한 권리를 차지하기 위한 분쟁도 진행 중이다.

**오답 체크** ㄷ, 포클랜드 제도(D) 분쟁은 아르헨티나와 영국이 분쟁 당사국이다. 르, A~C 분쟁 지역 중 중국이 포함된 지역은 A, C 지역이다.

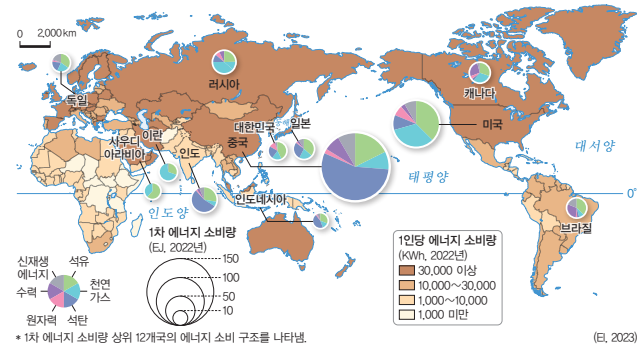
### 765 국가별 1인당 에너지 소비량 답·②

**바른 풀이** 지도를 보고 에너지 소비량의 국가별 차이, 대륙별 차이, 선진국

과 개발 도상국의 차이 등을 파악한다. ㄱ. 국가별로 소비량 차이가 뚜렷한 편이다. ㄴ. 에너지 소비량을 고려할 때, 지속가능한 대체 에너지를 개발할 필요가 있다.

**오답 체크** ㄴ. 남반구보다는 북반구의 나라에서 소비량이 많다. ㄷ. 세계 인구 순위 1위인 인도는 최상위 에너지 소비 국가군에 포함되지 않는다.

### 개념 더하기 국가별 에너지 소비량



1인당 에너지 소비량은 경제 발전 수준이 높은 선진국이나 자원 매장량이 풍부한 지역에서 대체로 많다. 반면, 경제 발전 수준이 낮은 사하라 이남 아프리카와 남부 아시아 등에서는 대체로 적다. 1차 에너지 소비량 상위 12개국의 에너지 자원별 소비 구조를 보면, 중국과 인도의 경우 석탄의 비중이, 미국은 석유의 비중이, 러시아는 천연가스의 비중이 높다는 것을 알 수 있다.

### 766 세계 1차 에너지 소비 구조

**모범 답안** A는 ( 석유 ), B는 ( 석탄 ), C는 ( 천연가스 )이다. 상용화의 시기는 석탄(B) > 석유(A) > 천연가스(C) 순으로 석탄이 가장 먼저 상용화되었다. ( 석탄 )은 주로 산업용이나 제철용으로 쓰이고, ( 석유 )는 주로 운송용과 산업용으로 쓰인다. ( 천연가스 )는 주로 산업용, 가정용, 상업용으로 쓰이는데, 다른 에너지 자원에 비해 가정용이나 상업용 비중이 높다.

### 767 천연가스의 소비 구조와 운송

(1) 천연가스

(2) **모범 답안** 육상 구간에서는 주로 파이프라인을 이용하며, 해상 구간에서는 주로 액화 천연가스 수송선(LNG선)을 이용하여 운반한다.

채점 기준	수준
육상과 해상으로 구분하여 문장을 유기적으로 서술한 경우	상
육상과 해상으로 구분하였지만, 두 가지 중 한 가지의 서술 내용이 부족한 경우	중
육상과 해상 중 한 가지만 서술한 경우	하

### 768 화석 에너지의 국가별 생산량

(1) (가) 천연가스 (나) 석탄

(2) **모범 답안** 천연가스(가)는 석탄(나)보다 연소 시 이산화 탄소 발생이 상대적으로 적다. 따라서 천연가스는 기후변화에 미치는 영향이 석탄보다 덜하다.

채점 기준	수준
이산화 탄소 발생과 기후변화에 대한 영향을 모두 포함하여 내용을 논리적으로 서술한 경우	상
이산화 탄소 발생과 기후변화에 대한 영향 중 한 가지에 대한 서술이 부족한 경우	중
이산화 탄소 발생과 기후변화에 대한 영향 중 한 가지만 서술한 경우	하

### 769 자원의 무기화

(1) 천연가스

(2) **모범 답안** 러시아는 가스 공급을 제한하거나 가격을 올리는 등의 방법으로 천연가스 자원을 무기화할 수 있다. 유럽의 국가들은 이에 대비해 천연가스의 수입처를 다변화하거나 신·재생 에너지의 사용 비중을 높이는 등의 방법으로 대응할 수 있다.

채점 기준	수준
러시아의 전략과 유럽 국가들의 대응 방안을 모두 제시하여 논리적으로 서술한 경우	상
러시아의 전략과 유럽 국가들의 대응 방안을 모두 제시하였지만, 이 중 한 가지의 서술이 부족한 경우	중
러시아의 전략과 유럽 국가들의 대응 방안 중 한 가지만 서술한 경우	하

### 기출로 1등급 도전하기

168~169쪽

- 770 ①
- 771 ①
- 772 ③
- 773 ①
- 774 ②
- 775 ①
- 776 ④
- 777 ③

### 770 자원의 특징

답·①

**바른 풀이** 텅스텐은 사용으로 고갈되는 재생 불가능 자원이다. 제시문의 사례는 텅스텐의 채굴이 시대적 상황에 따라 달라지는 가변성을 보여 준다. 채굴이 이루어질 때는 경제적 의미의 자원(A)이지만, 저렴한 중국산이 수입되면서 경제성이 떨어져 채굴하지 못할 때는 기술적 의미의 자원(B)이라고 할 수 있다.

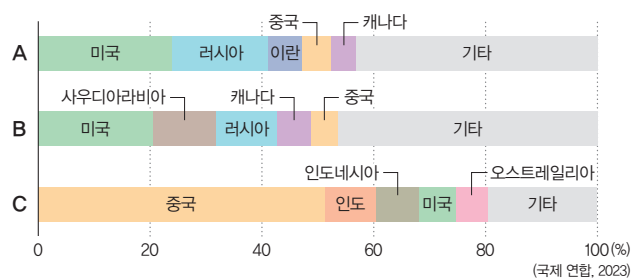
### 771 화석 연료의 생산 비중

답·①

**바른 풀이** 그래프의 A는 미국과 러시아의 생산 비중이 큰 천연가스, B는 미국과 사우디아라비아의 생산 비중이 큰 석유, C는 중국과 인도의 생산 비중이 큰 석탄이다. ㄱ. 천연가스(A)는 냉동 액화 기술의 발달로 수요가 급증했다. ㄴ. 석유(B)는 화석 연료 중 가장 국제 이동량이 많다.

**오답 체크** ㄷ. 천연가스(A)는 석유(B)보다 수송용으로 이용되는 비율이 낮다. 수송용 비율은 석유가 가장 높다. ㄴ. 석탄(C)은 석유(B)보다 세계 1차 에너지 소비 구조에서 차지하는 비율이 낮다. 석유>석탄>천연가스 순이다.

### 자료 분석



▶ 화석 연료의 국가별 생산 비중을 통해 자료를 분석할 수 있다. A는 미국과 러시아, 이란 등의 비중이 높다. 러시아에 주목하여 천연가스임을 파악해야 한다. B는 미국과 사우디아라비아의 비중이 높다. 사우디아라비아에 주목하여 석유임을 파악한다. C는 중국의 비중이 월등히 높고 오스트레일리아가 주요국에 포함되어 있으므로 석탄이다.

### 772 세계 1차 에너지 소비량 변화

답·③

**바른 풀이** 그래프의 2022년 통계에 주목하여 문항을 푸는 것이 좋다. 가장 큰 비중을 차지하는 A는 석유이고, B는 석탄, C는 천연가스이다. ㄴ. 석

탄(B)은 산업 혁명 당시 주요 에너지원이었다. ㄷ. 석탄(B)은 천연가스(C)보다 세계 1차 에너지 소비 구조에서 차지하는 비율이 높다. 석유>석탄>천연가스 순이다.

**오답 체크** ㄱ. 석유(A)는 주로 신생대 제3기 지층의 배사 구조에 매장돼 있다. ㄴ. 천연가스(C)는 다른 에너지에 비해 가정용, 상업용 비중이 크다. 수송용은 석유(A)의 비중이 크다.

### 773 화석 연료의 특징

답·①

**바른 풀이** (가)는 최대 수출국이 러시아이고 유럽으로 향한다는 내용을 통해 천연가스임을 알 수 있다. (나)는 중국이 오스트레일리아에서 수입하는 석탄이다. 중국은 세계 최대의 석탄 생산국인 동시에 인도네시아, 러시아, 오스트레일리아로부터 많은 양을 수입하기도 한다. ① 천연가스(가)는 냉동 액화 기술의 발달로 수요가 급증했다.

**오답 체크** ② 석탄(나)은 주로 고기 조산대 주변 지역에 매장돼 있다. ③ 육상 구간 수송 시 주로 파이프라인을 이용하는 자원은 천연가스이다. ④ 천연가스(가)는 석탄(나)보다 상용화된 시기가 늦다. ⑤ 석탄(나)은 천연가스(가)보다 연소 시 대기 오염 물질의 배출량이 많다. 주요 에너지 자원 가운데 대기 오염 물질 배출량이 가장 적은 화석 연료는 천연가스이다.

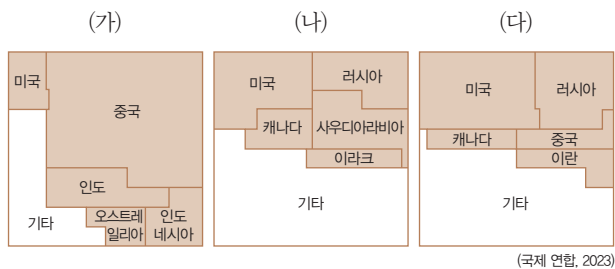
### 774 1차 에너지원별 생산국 비율

답·②

**바른 풀이** 자료의 (가)는 중국의 생산 비율이 월등히 높은 석탄, (나)는 미국과 사우디아라비아, 러시아 등의 생산 비율이 높은 석유, (다)는 미국, 러시아, 이란 등의 생산 비율이 높은 천연가스이다. 이란은 서남아시아 지역에서 천연가스의 생산 비율이 가장 높은 국가이다. ② 석유(나)는 산업용보다 수송용으로의 이용 비율이 높다.

**오답 체크** ① 석탄(가)의 최대 생산국은 중국이지만 대부분 자체 소비한다. 오스트레일리아, 인도네시아 등이 주요 수출국이다. ③ 석탄(가)은 석유(나)보다 세계 1차 에너지 소비 구조에서 차지하는 비율이 낮다. 석유 - 석탄 - 천연가스 순으로 석유의 비율이 가장 높다. ④ 석유(나)는 천연가스(다)보다 상용화된 시기가 이르다. ⑤ 천연가스(다)가 연소 시 대기 오염 물질 배출량이 가장 적고, 석탄의 배출량이 가장 많다.

#### 자료 분석



**+** 화석 연료의 국가별 생산 비중을 통해 자료를 분석할 수 있다. (가)는 중국의 비중이 압도적으로 높고 인도, 인도네시아, 오스트레일리아 등이 보인다. 따라서 석탄이다. (나)는 미국, 사우디아라비아, 러시아 등의 비중이 크므로 석유이다. (다)는 미국과 러시아의 비중이 크고, 이란이 주요 생산국에 포함된다는 점에서 천연가스임을 알 수 있다. 이란은 서남아시아 지역에서 최대의 천연가스 생산국이다.

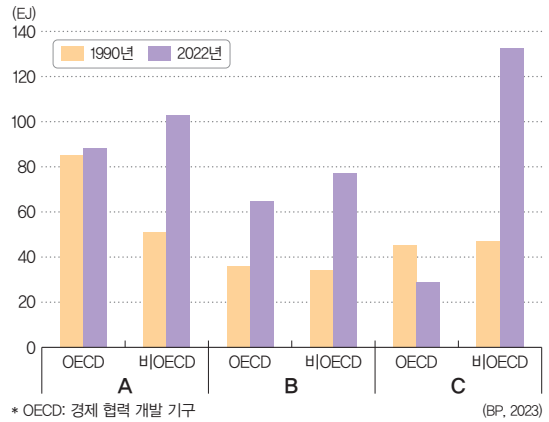
### 775 화석 연료의 소비 구조 변화

답·①

**바른 풀이** 경제 발전 수준이 높은 국가군에서 두 시기 모두 가장 비중이 높은 A는 석유, 경제 발전 수준이 높은 국가군과 그렇지 않은 국가군 모두 소비량이 늘어난 B는 천연가스, 경제 발전 수준이 높은 국가군은 줄었지만 그렇지 않은 국가군은 소비량이 월등히 늘어난 C는 석탄이다. ㄱ. 석유(A)는 신생대 지층의 배사 구조에 주로 매장돼 있다. ㄴ. 천연가스(B)는 연소 시 대기 오염 물질 배출량이 적어 상대적으로 친환경적이다.

**오답 체크** ㄷ. 석탄(C)의 최대 생산국과 최대 소비국은 모두 아시아의 중국이다. 중국은 자국의 생산량으로도 부족해 인도네시아, 러시아, 오스트레일리아 등으로부터 많은 양을 수입한다. ㄴ. 석유(A)는 석탄(C)보다 상용화의 시기가 늦다. 상용화의 시기는 석탄 - 석유 - 천연가스 순으로 석탄이 가장 이른다.

#### 자료 분석



**+** 경제 발전 수준이 높은 국가들(선진국)은 오염 물질 배출량이 적은 에너지 자원의 소비량은 늘고, 오염 물질 배출량이 많은 에너지 자원의 소비량은 줄었다. 반면, 경제 발전 수준이 낮은 국가들은 환경보다 경제 성장을 우선하는 정책을 펼치는 과정에서 오염 물질 배출이 많은 석탄(C)의 소비량이 월등히 높아졌다. 한편 오염 물질 배출이 적고 기술 발전으로 운송이 수월해진 천연가스(B)는 모든 국가에서 소비량이 늘었다.

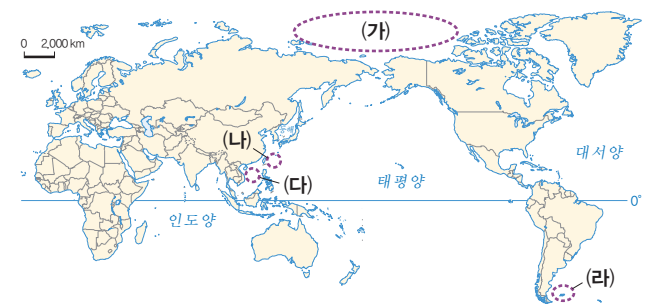
### 776 자원 분쟁 지역

답·④

**바른 풀이** 지도의 (가)는 북극해, (나)는 센카쿠 열도(다오위다오), (다)는 남중국해, (라)는 포클랜드 제도이다. ㄱ. 북극해(가)는 석유, 해상 교통로와 관련된 분쟁 지역이다. 기후변화로 북극해 항로가 열리면서 해상 물류의 대안으로 떠오르고 있다. ㄴ. 센카쿠 열도(나)는 일본, 중국, 타이완이 분쟁 당사국이다. 남중국해(다)는 중국, 타이완, 필리핀, 베트남, 말레이시아, 브루나이 등이 분쟁 당사국이다. ㄷ. (라)는 석유 및 수산 자원과 관련된 분쟁 지역이다.

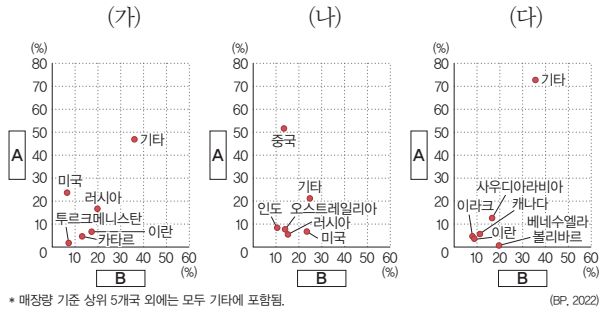
**오답 체크** ㄷ. 남중국해(다)는 석유, 천연가스, 해상 교통로 등과 관련된 분쟁 지역이다.

#### 자료 분석



**+** (가)는 북극해, (나)는 센카쿠 열도(다오위다오), (다)는 남중국해, (라)는 포클랜드 제도이다. 이들 지역 모두 석유, 천연가스와 같은 자원과 해상 교통로를 확보하기 위한 분쟁이 벌어지고 있다. 분쟁 지역은 대부분 해당 지역의 인접국이 분쟁 당사국이다. (가) 북극해는 미국, 러시아, 캐나다, 덴마크, 노르웨이, (나) 센카쿠 열도는 일본, 중국, 타이완, (다) 남중국해는 중국, 베트남, 필리핀, 말레이시아, 브루나이 등이 분쟁 당사국이다. 한편 (라) 포클랜드 제도는 아르헨티나와 영국이 분쟁 당사국인데, 이는 영국이 포클랜드 제도를 지배했던 역사와 관련이 있다.

그래프는 (가)~(다) 자원의 국가별 매장량 비율과 생산량 비율을 나타낸 것이다. (가)~(다)에 대한 옳은 설명만을 (보기)에서 고른 것은?(단, (가)~(다)는 각각 석유, 석탄, 천연가스 중 하나이고, A와 B는 각각 매장량, 생산량 중 하나임.)



**보기**  
 ㄱ. (가)는 (나)보다 연소 시 대기 오염 물질의 배출량이 많다.  
 ㄴ. (나)는 (다)보다 고기 조산대 주변에 매장된 비율이 높다.  
 ㄷ. (다)는 (가)보다 상용화된 시기가 이른다.  
 ㄹ. A는 매장량, B는 생산량이다.

① ㄱ, ㄴ      ② ㄱ, ㄷ      ③ ㄴ, ㄷ  
 ④ ㄴ, ㄹ      ⑤ ㄷ, ㄹ

**등급 문제 풀이 비법**

**STEP 1 (가)~(다)를 분석한다.**

(가)는 미국, 러시아가 상위권에 있고, 서남아시아 지역 중에 이란, 카타르가 있는 것으로 보아 천연가스이다. (나)는 중국이 압도적인 순위권에 있고, 오스트레일리아가 있는 것으로 보아 석탄이다. (다)는 사우디아라비아가 상위권에 있고, 베네수엘라 볼리바르가 순위권에 있는 것으로 보아 석유이다.

**STEP 2 A와 B를 분석한다.**

(나) 석탄을 먼저 보면, 중국이 압도적으로 1위인 A가 생산량임을 알 수 있다. 중국은 석탄의 생산량, 수입량 1위인 국가이다. (다) 석유를 보면, 베네수엘라 볼리바르는 B는 1위인데, A는 순위가 높지 않다. 따라서 A는 생산량, B는 매장량임을 알 수 있다. 베네수엘라 볼리바르는 매장량이 세계적인 수준이다.

**바른 풀이** ㄴ. 석탄(나)은 석유(다)보다 고기 조산대 주변에 매장된 비율이 높다. ㄷ. 석유(다)는 천연가스(가)보다 상용화된 시기가 이른다.  
**오답 체크** ㄱ. 천연가스(가)는 석탄(나)보다 연소 시 대기 오염 물질의 배출량이 적다. ㄹ. A는 생산량, B는 매장량이다.

**16 지속가능한 발전과 미래 사회**

**핵심개념 확인 문제** 171쪽

778 ㄴ      779 ㄷ      780 ㄱ      781 ㄴ      782 기후변화  
 783 지속가능한 발전      784 윤리적      785 세계시민      786 ○  
 787 ○      788 X      789 ○      790 파리 협정  
 791 델파이 기법

**기출로 기본 다지기** 172~173쪽

792 ⑤      793 ②      794 ①      795 ②      796 ①  
 797 ⑤      798 ④      799 ④

**792 지속가능한 발전**      답·⑤

**바른 풀이** 지속가능한 발전의 개념과 필요성 등을 묻는 문항이다. 병. 지속가능한 발전을 위해 미래 세대의 자원을 낭비해서는 안 된다. 정. 환경 보전, 경제 성장, 사회 각 분야가 통합적으로 균형과 조화를 이루는 것이 중요하다.  
**오답 체크** 갑. 미래 세대의 욕구도 중요하지만, 현세대의 욕구도 안정적으로 추구해야 한다. 을. 현세대의 생활 방식을 그대로 유지하면, 성장과 발전 지향적 소비 행태를 멈출 수 없다.

**793 전 지구적 환경 변화**      답·②

**바른 풀이** 산업화 이후 온실가스 배출에 따른 기후변화에 관한 내용이다. ㄱ. 이산화 탄소, 메탄은 대표적인 온실가스이다. ㄷ. 사헬 지대는 사하라 사막 남쪽 지역으로 기후변화가 심해지면서 사막화 위기에 놓여 있다.  
**오답 체크** ㄴ. 지구의 평균 기온이 높아지면서 해수면이 상승하여 기후 난민이 발생하고 있다. ㄹ. 유전자 변형 식품 재배가 늘어나면 생물종 다양성은 감소한다.

**794 국제 협약**      답·①

**바른 풀이** 지속가능한 발전과 관련한 다양한 국제 협약의 목적을 이해하는 문제이다. ㉠ 람사르 협약은 습지 보존에 관한 협약이다. ㉡ 바젤 협약은 유해 폐기물의 국제 이동에 관한 협약이다.  
**오답 체크** ㉠ 몬트리올 의정서는 오존층 파괴 물질 사용을 규제하여 오존층을 보호하기 위한 협약이다. 삼림의 관리와 보존, 유전 공학과 생명공학 기술을 위한 협약은 생물 다양성 협약이다. ㉢ 기후변화 협약은 이산화 탄소, 메탄과 같은 온실가스 배출을 규제하여 지구 온난화를 방지하기 위한 협약이다. 프레온 가스는 몬트리올 의정서에서 규제한 물질이다.

**795 환경 관련 용어**      답·②

**바른 풀이** (가)는 '작은 것이 아름답다'는 이상적인 기술 지향을 추구한 적정 기술에 관한 내용이다. (나)는 먹을거리의 이동 과정에서 나타나는 탄소 배출을 계산하는 푸드 마일리지, (다)는 특정 지역의 지리적 특성이 상품에 반영된 경우 제품에 이를 표시하는 지리적 표시제이다.

**796 지속가능한 발전과 세계시민**      답·①

**바른 풀이** (가)는 지속가능한 발전, (나)는 세계시민에 관한 설명이다. ㄱ. 지속가능한 발전(가)의 개념은 빈곤 퇴치 운동을 포함한다. 그 밖에도 여성, 인권 등 다양한 세계 문제를 다룬다. ㄴ. 지속가능한 발전(가)은 지구 온난화 방지를 위해 화석 에너지 의존도를 줄이는 것을 목표로 한다.  
**오답 체크** ㄷ. 세계시민(나)은 세계 인류의 보편적 가치를 추구한다. ㄹ. 세계시민(나)은 국제 사회의 다양한 문제에 관심을 갖는다.

### 797 지속가능발전 목표

답·⑤

**바른 풀이** 지속가능발전 목표는 2015년 국제 연합 총회에서 제시된 것으로, 2030년까지 모든 국가가 공동으로 추진해 나가기로 결의하였다. ㄱ. 탄소 중립 선언은 13번 '기후변화와 대응' 목표와 관련된 내용이다. ㄴ. 기업이 환경 오염에 책임을 지고 비용을 부담한다는 것은 12번의 '지속가능한 생산과 소비' 목표와 관련된 내용이다. ㄷ. 개인은 에너지를 절약하고 일회용품의 사용을 줄이는 등의 적극적인 실천을 한다는 것은 7번 '에너지의 친환경적 생산과 소비' 목표와 관련된 내용이다.

### 798 미래 사회의 모습

답·④

**바른 풀이** ① ㉠ 자유 무역이 확대되면 경제적 세계화는 빨라진다. ② ㉡ 국제기구는 국제 평화 유지, 국가 간 협력 촉진, 경제·사회적 문제 해결, 인권 보호 등의 역할을 한다. ③ ㉢ 영토 분쟁은 자원이 한정된 지역에서 일어날 수 있다. ⑤ ㉤ 지구 온난화로 사막화의 속도가 빨라지고 있다. ⑥ ㉥ 지구 온난화가 심화하면, 영토 분쟁(㉢)이 증가할 확률이 높다. 사막화는 특정 지역의 인구압을 증가시키기도 한다.

**오답 체크** ④ ㉦ 인공지능 기술이 발전해도 인간의 모든 직업을 대체할 수는 없다.

### 799 세계시민의 태도

답·④

**바른 풀이** ㄴ. 세계시민은 전 지구적 수준의 문제에 민감하게 반응한다. ㄷ. 세계시민은 개별 집단의 이익보다 인류 전체의 이익을 우선한다.

**오답 체크** ㄱ. 세계시민은 세계 여러 지역의 문제에 관심을 갖는다. ㄷ. 지구촌 문제 해결에 적극적으로 참여하는 것이 좋다.

### 기출로 실력 높이기

174~177쪽

800 ②      801 ③      802 ②      803 ③      804 ④  
 805 ③      806 ②      807 ②      808 ⑤      809 ①  
 810 ⑤      811 ①

#### 서답형

812 모범 답안 참조

813 (1) 적정 기술      (2) 모범 답안 참조

814 (1) ㉠ 개발 도상국, ㉡ 선진국      (2) 모범 답안 참조

815 (1) ㉠ 생태 발자국, ㉡ 생태 수용력      (2) 모범 답안 참조

### 800 지속가능한 발전

답·②

**바른 풀이** 그래프는 '지속가능한 발전'의 개념을 나타낸 것이다. ㄱ. 지속가능한 발전은 경제 발전과 사회 안정을 추구한다. ㄷ. 지속가능한 발전은 미래 세대를 위해 자원을 낭비하거나 훼손하지 않는다.

**오답 체크** ㄴ. 지속가능한 발전은 현세대의 욕구도 인정해야 한다. ㄷ. '지속가능한 발전'은 1992년 리우 회의에서 공식적으로 채택되었다.

### 801 국제 협약

답·③

**바른 풀이** 자료는 온실가스 배출권 거래 제도에 관한 것이다. ③ 기후변화 협약은 1992년 리우 회의, 1997년 교토 의정서, 2015년 파리 협정으로 이어지는 국제 협약으로 모두 온실가스 감축에 관한 논의가 담겼다.

**오답 체크** ① 바젤 협약은 유해 폐기물의 국가 간 이동을 규제하는 협약이다. ② 람사르 협약은 습지 보존에 관한 협약이다. ④ 몬트리올 의정서는 오존층 파괴 물질의 사용 규제를 위한 협약이다. ⑤ 사막화 방지 협약은 사막화 지역의 기술적, 정책적 지원을 도모하는 협약이다.

### 개념 더하기 국제 협약

협약명(연도)	주요 내용 및 목적
람사르 협약 (1971년)	철새 및 물새 서식지로서 특히 국제적으로 중요한 습지에 관한 협약, 습지의 보호와 지속가능한 이용을 목적으로 함.
런던 협약 (1972년)	폐기물 및 기타 물질의 해양 투기로 인한 해양 오염을 방지함.
대기 오염 물질의 장거리 이동에 관한 협약 (제네바 협약)(1979년)	산성비 문제 해결을 위해 국경을 넘어 이동하는 대기 오염 물질의 감축 및 통제를 목적으로 함.
몬트리올 의정서 (1987년)	오존층을 보호함으로써 지구 생태계 및 동식물의 피해를 방지하기 위해, 염화플루오린화탄소(CFCs)와 같은 오존층 파괴 물질의 사용 규제를 명시함.
바젤 협약 (1989년)	유해 폐기물의 국가 간 이동에 관한 규제를 목적으로 함.
사막화 방지 협약 (1994년)	국제적 노력을 통해 사막화를 방지하고, 사막화를 겪고 있는 개발 도상국을 재정·기술적으로 지원하는 것을 목적으로 함.
교토 의정서 (1997년)	미국, 유럽, 일본 등 선진 38개국의 온실가스 감축 목표를 구체적으로 제시하고, 온실가스 배출권 거래제를 도입함.
스톡홀름 협약 (2001년)	다이옥신, 디디티(DDT) 등 인체와 동물, 환경에 유해한 12개 유독성 화학 물질의 사용을 금지함.

### 802 기후변화의 영향

답·②

**바른 풀이** 자료에서는 산업의 발달로 화석 연료의 사용이 급증하면서 온실가스의 배출이 늘어나 온실 효과가 강화되고 있음을 이야기하고 있다. 이는 기후변화 현상을 설명하는 것으로, 기후변화로 나타날 수 있는 변화를 찾아야 한다. ㄱ. 기후변화가 지속되면 전 지구적으로 해수면이 상승한다. 극지방의 빙하가 녹아 바다로 흘러들기 때문이다. ㄷ. 기후변화가 지속되면 기온이 꾸준히 오르면서 멸종 위기종이 늘어날 수 있다. 기온이 0.1℃만 변화해도 생태계에는 치명적인 영향을 준다. ㄷ. 기후변화가 지속되면 에델바이스 등 고산 식물의 서식지가 줄어든다. 점점 고지대로 쫓겨가기 때문에 면적이 줄어드는 현상이 나타난다.

**오답 체크** ㄴ. 기후변화가 지속되면 태풍, 폭우, 가뭄 등 이상 기후가 증가할 수 있다. ㄷ. 기후변화가 지속되면 해수 온도 상승에 따라 해양 생태계 구조가 크게 위협될 수 있다. ㄷ. 기후변화가 지속되면 식물의 개화 시기가 빨라지고, 식생대가 고위도로 이동하는 경향이 나타난다. 고위도 이동은 기온 상승에 따라 적도에서부터 점차 극으로 이동하는 방향성을 뜻한다.

### 803 환경 용어

답·③

**바른 풀이** 자료의 (가)는 환경, 사회, 지배 구조의 머리글자를 딴, '환경 사회 기업 지배 구조'를 뜻한다. 지속가능성에 대한 기업의 의지와 환경에 미치는 영향에 초점을 맞춘 정책이다. (나)는 'RE 100'에 관한 내용이다. 기업이 사용하는 전력량의 100%를 2050년까지 재생 에너지로 바꾸자는 캠페인이다. 여기서 해당 에너지원은 재생 에너지다. 연료 전지와 같은 신 에너지가 아님을 주의해야 한다.

### 804 지구 온난화의 영향

답·④

**바른 풀이** 질문 내용을 보면 온실가스 배출량을 줄이지 못했을 경우의 변화를 묻고 있다. 온실가스는 이산화 탄소, 메탄 등 지구 대기를 오염시켜 온실 효과를 일으키는 가스를 말한다. 따라서 이 문항은 기후변화로 나타날 수 있는 현상을 묻는 문제라고 할 수 있다. 나. 지구 온난화가 진행되면 해수면 상승에 따라 해안 저지대가 침수될 가능성이 높다. 르. 지구 온난화가 진행되면 멸종 위기에 처하는 생물종이 더욱 늘어날 수밖에 없다. 기온 변화는 모든 생태계의 시스템에 영향을 준다.

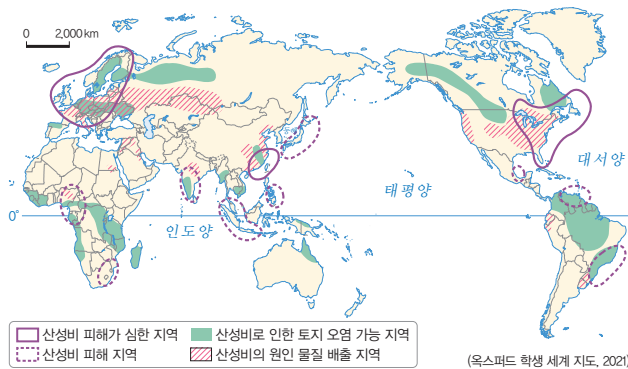
**오답 체크** 가. 지구 온난화가 진행되면 이상 기후 현상이 늘어난다. 갑작스러운 가뭄과 태풍, 홍수가 잦아진다. 다. 지구 온난화가 진행되면 산호초의 백화 현상이 갈수록 심해진다. 백화 현상은 산호가 하얗게 변해 죽어 가는 현상으로 해수 온도 변화와 관련이 깊다.

### 805 환경 협약

답·③

**바른 풀이** (가)는 선진국과 개발 도상국이 온실가스 감축 의무에 동참하도록 독려하는 파리 협정이다. (나)는 오존층 파괴 물질의 생산 및 사용에 관한 규제를 목적으로 하는 몬트리올 의정서이다. (다)는 산성비 문제 해결을 위해 국경을 넘어 이동하는 대기 오염 물질을 통제하는 제네바 협약이다. (라)는 선진국 38개국의 온실가스 감축을 촉구하고 온실가스 배출권 거래제를 도입한 교토 의정서이다.

#### 개념 더하기 산성비 피해



산성비는 황산화물, 질소 산화물 등이 수증기와 만나 비로 내리는 현상이다. 토양의 영양분을 씻어내어 식물 성장을 방해하고, 호수와 하천을 산성화하여 물고기를 죽게 하는 등 생태계를 파괴한다. 또한 건축물, 조각상, 교량 등을 부식시켜 경제적 손실을 발생시키며, 사람이 직접 맞을 경우 피부염이나 눈 질환을 유발할 수 있다. 공업 지역이나 대도시에서 잘 발생한다. 산성비 문제는 바람을 타고 주변 지역으로 확산하기 때문에 위험성이 커진다. 과거 독일, 프랑스 등에서 발생한 대기 오염 물질이 편서풍을 타고 스칸디나비아반도 일대로 이동하여 산성비 피해를 일으킨 바 있다.

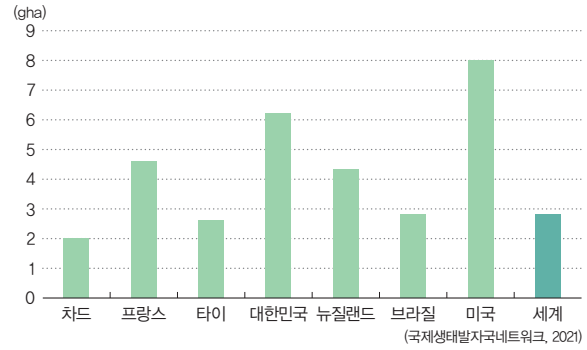
### 806 지속가능한 발전과 탄소 발자국

답·②

**바른 풀이** (가)는 경제 성장, 환경 보전, 사회 안정과 통합을 추구하는 지속가능한 발전, (나)는 개인이나 기업이 활동하거나 제품을 생산 및 소비할 때 발생하는 온실가스의 총량을 뜻하는 탄소 발자국이다. 가. 지속가능한 발전(가)은 환경, 사회, 경제의 조화를 중시한다. 다. 탄소 발자국(나)을 줄이면 지속가능한 발전(가)을 부분적으로 달성할 수 있다. 탄소를 줄이는 일은 인류의 과제인 기후변화를 막기 위한 가장 시급한 대책이다.

**오답 체크** 나. 탄소 발자국(나)은 탄소중립과는 다른 개념이다. 탄소중립은 인간 활동으로 배출되는 온실가스를 기술적으로 제거해 실질적 배출량을 '0'으로 만드는 것을 뜻한다. 르. 지속가능한 발전과 탄소 발자국은 상호 보완적인 개념이다.

#### 개념 더하기 1인당 생태 발자국



생태 발자국은 전 지구적으로 계속 커지고 있다. 대체로 소득 수준이 높은 지역일수록 1인당 생태 발자국 수치가 높게 나타난다. 지속가능한 발전을 위해서는 생태 발자국이 생태 용량과 같거나 그보다 작아야 한다. 그러나 인구 증가와 산업 발달은 생산과 소비를 늘려 생태 발자국이 더욱 커지는 양상으로 전개되고 있다.

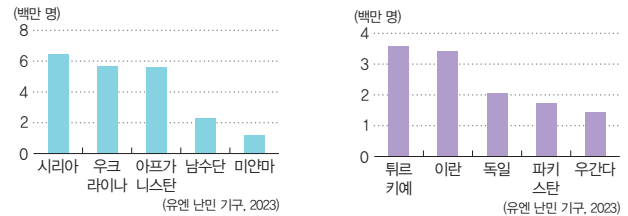
### 807 사회 변화와 세계시민

답·②

**바른 풀이** 자료는 미래 사회에 필요한 세계시민의 자세를 다루고 있다. 가. 독일의 유입 이주민의 대부분은 난민이다. 다. 대한민국으로 이주하는 외국인인은 주로 경제적 목적으로 입국하는 경우가 많다.

**오답 체크** 나. 초고령 사회는 65세 이상 노인 인구 비율이 전체 인구의 20% 이상인 사회를 뜻한다. 르. 세계시민은 다른 민족의 문화를 인정하고 포용한다.

#### 개념 더하기 난민의 발생국과 수용국



▲ 주요 국제 난민 발생국

▲ 주요 국제 난민 수용국

난민 발생이 많은 국가는 주로 내전 상태에 있는 시리아, 아프가니스탄 등이다. 난민을 수용하는 국가는 대체로 주요 난민 발생국과 지리적으로 가까운 국가가 많다. 유럽에서는 특히 독일의 난민 수용이 많다.

### 808 미래 사회 예측과 변화 양상

답·⑤

**바른 풀이** ㉠~㉣ 미래 사회를 올바르게 예측한 내용이다.

**오답 체크** ㉤ 국가 간의 경쟁이 치열해지면 무역 갈등이 심화하고 선진국과 개발 도상국 간에 경제적 격차는 커진다. 자본은 자기 증식, 즉 생산 과정을 거치면서 원래의 가치보다 더 큰 가치를 창출하며, 더 많은 이윤을 위해서는 공격적인 성향이 뒷받침되는 경향이 있기 때문이다.

### 809 세계시민의 자세

답·①

**바른 풀이** 세계시민으로서 지녀야 할 자세에 관한 내용이다. 가. 세계시민은 지구 환경 보전을 위한 생활 습관을 지녀야 한다. 나. 세계시민은 공동체 구성원 간의 소통과 화합을 위한 역량을 키워야 한다.

**오답 체크** 다. 세계시민은 세계 곳곳의 다양한 문제 해결에 관심을 가져야 한다. 르. 세계시민은 자신의 이익보다 인류의 보편적 가치를 중시하려는 태도를 지녀야 한다.

### 810 미래 사회의 변화

답·㉔

**바른 풀이** ㉔. 과학기술의 발전에 따라 교통수단의 발달로 공간적 제약을 극복할 수 있다. ㉔. 미래 과학기술 발전에 따라 '인공지능 기술의 발달로 인간의 역할이 부분적으로 대체될 수 있다'가 들어갈 수 있다.

**오답 체크** ㉔. 지구촌의 생태환경 변화에 따라 북극 항로의 이용 가능성이 높아졌다. 해빙 일수가 늘면서 가능해졌다. ㉔. 지구촌의 생태환경 변화에 따라 기후변화로 인한 농업 생산성의 하락 우려가 크다. 기온의 변화는 식물과 작물의 생육에 커다란 영향을 준다.

### 811 미래 사회에 지녀야 할 태도

답·㉑

**바른 풀이** 자료는 유전자 가위 기술에 관한 것이다. 이 기술은 인류의 윤리적 문제와 관련되어 있다. 기술의 성장이 마냥 좋은 것만은 아니라는 이면의 사실을 두루 살피는 것이 좋다. ㉔. 미래 사회의 기술 발전이 인류의 보편적 가치를 훼손해서는 안 된다. 그것을 중시해야 한다. ㉔. 미래 사회의 기술 발전이 현재는 물론 미래의 문제 해결에도 도움이 되도록 관심을 두어야 한다.

**오답 체크** ㉔. 미래 사회의 기술 발전을 무한대로 추구해서는 안 된다. 인류의 존엄을 해치는 부분에 관한 깊은 성찰이 필요하다. ㉔. 미래 사회의 기술 발전을 인류 성장의 최우선 과제로 두어서는 곤란하다. 과학기술 발전의 한계와 효용을 면밀하게 살펴야 한다.

### 812 지속가능한 발전을 위한 노력

**모범 답안** 자료는 ( 탄소 배출권 거래제 )를 설명하고 있다. ( 탄소 배출권 거래제 )는 정부가 사업장을 대상으로 연간 배출할 수 있는 ( 온실가스 )의 양을 정해 주고, 남거나 부족한 ( 배출량 )에 대해 기업 간 거래를 허용하는 제도이다.

### 813 적정 기술

(1) 적정 기술

(2) **모범 답안** 적정 기술은 그 지역의 자연환경과 지역 주민의 사회·경제적 여건을 고려한 생태적인 기술로, 지속가능한 발전의 개념과 목표에 부합한다고 할 수 있다.

채점 기준	수준
'자연환경과 사회·경제적 여건', '생태적인 기술', '지속가능한 발전'이라는 용어를 중심으로 유기적으로 서술한 경우	상
'자연환경과 사회·경제적 여건', '생태적인 기술', '지속가능한 발전'이라는 용어 중 두 가지를 활용하여 서술한 경우	중
'자연환경과 사회·경제적 여건', '생태적인 기술', '지속가능한 발전'이라는 용어 중 한 가지만 활용하여 서술한 경우	하

### 814 이산화탄소 배출

(1) ㉑ 개발 도상국, ㉒ 선진국

(2) **모범 답안** 경제 성장을 이룬 선진국은 탄소 배출 규제에 더욱 적극적으로 참여해야 한다. 개발 도상국은 경제 발전을 추구함과 동시에 탄소 배출 규제에 관한 협약의 규칙을 따라야 한다.

채점 기준	수준
'선진국의 탄소 배출 규제', '개발 도상국의 경제 발전과 탄소 배출'이라는 두 국가군의 맥락을 모두 논리적으로 서술한 경우	상
'선진국의 탄소 배출 규제', '개발 도상국의 경제 발전과 탄소 배출'이라는 두 국가군의 맥락 가운데 한 가지만 서술한 경우	중
'선진국의 탄소 배출 규제', '개발 도상국의 경제 발전과 탄소 배출'이라는 두 국가군의 맥락을 제대로 서술하지 못한 경우	하

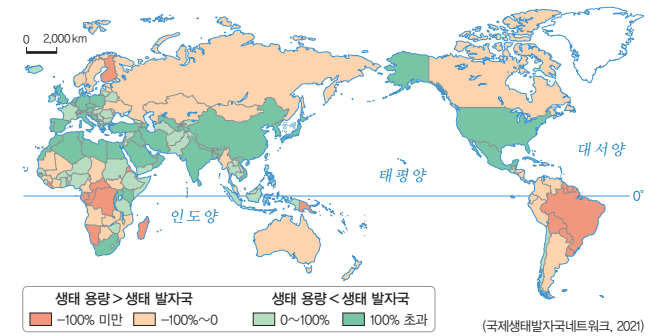
### 815 생태 발자국과 생태 수용력

(1) ㉑ 생태 발자국, ㉒ 생태 수용력

(2) **모범 답안** 에너지를 절약하고 일회용품의 사용을 줄여 생태 발자국이 생태 수용력을 넘지 않도록 노력한다.

채점 기준	수준
개인의 노력과 생태 발자국, 생태 수용력의 관계를 모두 논리적으로 서술한 경우	상
개인의 노력과 생태 발자국, 생태 수용력의 관계를 모두 서술하였으나, 이 중 한 가지의 내용이 부족한 경우	중
개인의 노력과 생태 발자국, 생태 수용력의 관계 가운데 한 가지만 서술한 경우	하

#### 개념 더하기 생태 용량과 생태 발자국



생태 용량은 인간 생활에 필요한 생물적 요소를 생산하고, 소비된 폐기물을 흡수하여 재생산할 수 있는 수용 능력을 뜻하는 것으로 생태 수용력과 같은 의미이다. 생태 발자국은 경제 활동에 소비되는 여러 가지 자원을 생산적 토지 면적으로 환산한 값이다. 생태 용량 대비 생태 발자국의 비율을 보면, 브라질, 콩고 민주 공화국, 캐나다 등이 흑자이다. 이들 국가는 대규모 열대림을 가지고 있거나, 면적 대비 인구가 매우 적은 나라이다.

#### 기출로 1등급 도전하기

178~179쪽

- 816 ①      817 ⑤      818 ⑤      819 ③      820 ④  
 821 ①      822 ③      823 ①

### 816 지속가능한 발전

답·㉑

**바른 풀이** 지속가능한 발전의 정의를 보고 이를 위해 필요한 노력을 알아보는 문항이다. 갑. 지속가능한 발전을 위해서는 안전한 에너지 체계가 필요하고 이를 위해 신·재생 에너지에 관심을 갖고 화석 연료 사용을 줄이려는 노력이 필요하다. 을. 지속가능한 발전을 위해 온실가스 배출권 거래제도와 같은 실효적인 노력이 뒷받침되어야 한다.

**오답 체크** 병. 기초 생활 보장 제도와 같은 복지 정책은 지속가능한 발전을 위해 필요하다. 정. 글로벌 푸드 이용은 푸드 마일리지를 통한 탄소 배출을 증가시킨다.

### 817 지속가능한 발전

답·㉔

**바른 풀이** ㉔. ㉔. 온실가스 배출권 거래제의 거래 주체는 주로 국가와 기업이다. ㉔. 국제기구는 국제 연합(UN), 비정부 기구는 그린피스가 대표적이다.

**오답 체크** ㉔. ㉔. 지속가능한 발전은 환경, 경제 및 사회 제도 전 분야를 포괄한다. ㉔. RE 100은 기업이 사용하는 전력의 100%를 재생 에너지로 충당하는 것으로, 신·재생 에너지 중 재생 에너지에만 해당하는 캠페인이다.

### 818 산성비와 오존층 파괴

답·⑤

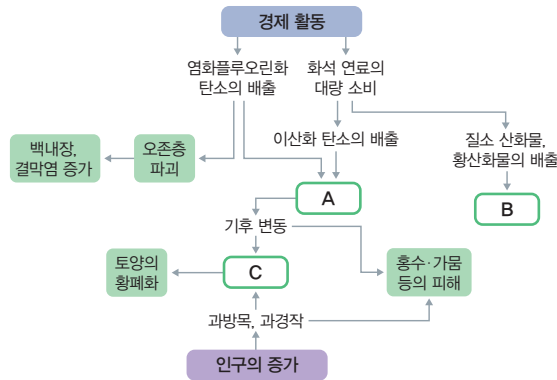
**바른 풀이** 신문 기사의 내용은 기후변화에 인류가 적극적으로 대응해야 한다는 것과 다양한 환경 문제의 해결 방법에 관한 것이다. (가)는 산성비, (나)는 오존층 파괴이다. **ㄷ.** 몬트리올 의정서는 오존층 파괴 물질의 사용을 규제한 국제 협약이다. **ㄹ.** 산성비와 오존층 파괴 문제 해결은 지속가능한 발전을 위해 필요하다.

**오답 체크** **ㄱ.** 자외선 양의 증가는 오존층 파괴가 원인이다. **ㄴ.** 오존층 파괴는 호흡기 질환보다는 피부 질환과 관련이 깊다.

### 819 환경 문제와 협약

답·③

다음은 인간의 경제 활동에 따른 주요 환경 문제를 나타낸 모식도이다. A~C 환경 문제와 관련된 국제 협약으로 옳은 것은?



- |   | A         | B         | C         |
|---|-----------|-----------|-----------|
| ① | 제네바 협약    | 파리 협정     | 사막화 방지 협약 |
| ② | 제네바 협약    | 사막화 방지 협약 | 파리 협정     |
| ③ | 파리 협정     | 제네바 협약    | 사막화 방지 협약 |
| ④ | 파리 협정     | 사막화 방지 협약 | 제네바 협약    |
| ⑤ | 사막화 방지 협약 | 제네바 협약    | 파리 협정     |

### 1등급 문제 풀이 방법

#### STEP 1 화살표의 방향에 주목하여 A~C를 파악한다.

모식도를 살펴보면 경제 활동과 인구의 증가가 환경 문제의 시작임을 알 수 있다. 인간의 경제 활동이 핵심이며, 이후 화살표의 방향에 따라 다양한 프로세스가 전개된다. 염화플루오린화탄소의 배출과 화석 연료의 대량 소비에 따른 이산화 탄소의 배출 결과인 동시에 기후 변동의 원인이 되는 A는 기후변화라고 할 수 있다. 화석 연료 소비에 따른 질소 산화물, 황산화물의 배출로 나타나는 B는 산성비 문제이다. 기후 변동과 과방목·과경작에 따라 발생하고 토양 황폐화를 유도하는 C는 사막화라고 할 수 있다.

#### STEP 2 환경 문제와 관련된 국제 협약을 찾는다.

A 기후변화에 대응하기 위한 국제 협약으로 1992년 리우 회의(유엔 기후 변화 협약), 1997년 교토 의정서, 2015년 파리 협정이 있다. B 산성비 피해를 막기 위해 국경을 넘어 이동하는 대기 오염 물질의 감축과 통제를 결정한 것이 제네바 협약이다. C 사막화를 방지하고 사막화로 피해를 입은 개발 도상국을 지원하고자 결의한 것은 사막화 방지 협약이다.

**바른 풀이** A는 기후변화, B는 산성비, C는 사막화이다. 기후변화와 관련된 것은 파리 협정, 산성비와 관련된 것은 제네바 협약, 사막화와 관련된 것은 사막화 방지 협약이다.

### 820 환경 관련 기념일

답·④

**바른 풀이** 자료의 (가)는 람사르 협약, (나)는 사막화 방지 협약, (다)는 몬트리올 의정서이다. ④ ㉠ 사막화의 대표 사례는 아프리카 사헬 지대이다. 사하라 사막 이남과 열대 우림 이북의 지역이다.

#### 오답 체크

① 교토 의정서는 온실가스 감축을 도입한 기후변화 협약이다. ② 사막화 방지 협약은 1994년 프랑스 파리에서 채택되었다. ③ 온실가스 배출권 거래제는 1997년 교토 의정서에서 채택되었다. ⑤ 런던 협약은 폐기물의 해양 투기를 규제하기 위한 협약이다. 기후변화를 막기 위한 온실가스 감축은 교토 의정서, 리우 회의, 파리 협정과 관련 있다.

### 821 지속가능한 사회

답·①

**바른 풀이** '지속가능한 사회'를 주제를 만든 카드 뉴스 내용을 보고 지속가능한 사회를 위한 노력 중 개인적 차원의 노력을 파악하는 문제이다. **ㄱ.** 로컬 푸드를 이용하면, 푸드 마일리지 줄여 탄소 배출을 감소시킬 수 있다. **ㄴ.** 육식을 얻기 위해 가축을 기르는 과정에서 많은 탄소를 필요로 한다. 채식 위주의 습관이 탄소를 줄이는 데 효과적이다.

**오답 체크** **ㄷ.** 온실가스 배출권 거래제는 개인이 아닌 국가나 기업의 영역이다. **ㄹ.** 탄소 발자국은 생산, 소비 과정에서 배출하는 온실가스의 총량을 이산화 탄소의 톤(ton) 수로 나타낸 것이다. 탄소 발자국을 줄이기 위한 노력이 필요하다.

### 822 미래 사회와 세계시민의 자세

답·③

**바른 풀이** ① 개인적인 차원에서 미래 사회 변화에 유연하게 대응하기 위해 미래를 예측한다. ② 정치적 측면에서 민주주의 제도가 확산될 가능성이 높다. ④ 과학적 측면에서 정보 격차가 심화되거나 비인간화가 초래될 가능성이 높다. ⑤ 생태적 측면에서 생태계 위기 해결이 갈수록 어려워질 가능성이 높다.

**오답 체크** ③ 경제적 측면에서 국제 분업의 확대로 국가 간 경제력 격차가 커질 확률이 높다.

### 823 탄소 배출권 거래제

답·①

**바른 풀이** 자료는 탄소 배출권 거래 제도를 나타낸 것이다. 허용된 양을 초과한 기업은 덜 배출한 기업으로부터 배출권을 구매할 수 있다. **ㄱ.** 탄소 배출권 거래제는 온실가스 배출량 감축을 유도할 수 있다. **ㄴ.** 탄소 배출권 거래제는 국가나 기업 간 배출량을 거래할 수 있는 제도이다.

**오답 체크** **ㄷ.** 탄소 배출권 거래제는 용량 초과 기업이 거래의 주체가 되어 덜 배출한 기업의 배출권을 구매할 수 있다. **ㄹ.** 탄소 배출권 거래제에서 온실가스 배출량 감축 목표를 높이면 배출권 가격은 상승하는 효과가 나타난다. 수요는 그대로인데 공급이 부족해지는 원리에 따른 것이다.

단원 평가로	실전 대비하기	180~183쪽
824 ①	825 ②	826 ④
827 (1) (가) 개발 도상국, (나) 선진국	(2) 모범 답안 참조	
828 ④	829 ③	
830 (1) (가) 경제적 이동, (나) 정치적 이동	(2) 모범 답안 참조	
831 ①	832 ①	833 ⑤
		834 ④
		835 ⑤
836 ①	837 모범 답안 참조	838 ②
		839 ①

### 824 인구 변천 모형

답·①

**바른 풀이** ㄱ. (가) 단계는 산업화 이전 시기의 전형적인 모습이다. 출생률과 사망률이 모두 높은 수준에서 형성되어 있다. ㄴ. (나) 단계는 개발 도상국의 초기 인구 팽창기이다. 출생률은 여전히 높으나 사망률이 급격히 낮아지면서 인구가 폭발적으로 증가한다.

**오답 체크** ㄷ. (다) 단계는 여전히 인구가 증가하는 시기이다. 출생률과 사망률의 관계에서 출생률이 높게 형성되어 있으면 여전히 인구는 자연적으로 증가한다. ㄹ. (라) 단계는 모든 단계 중 인구 증가율이 가장 낮은 시기이다. 가장 높은 시기는 (나) 단계이다.

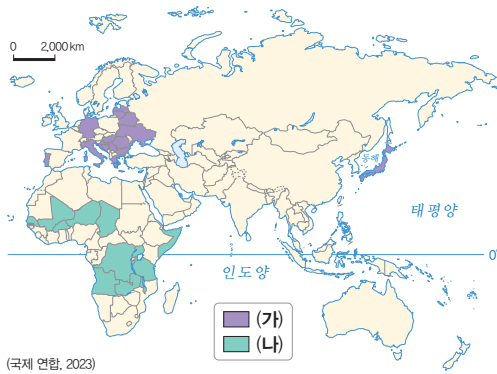
### 825 선진국과 개발 도상국의 인구 지표

답·②

**바른 풀이** (가) 그룹은 대체로 선진국이다. 독일, 이탈리아, 일본 등이 포함되어 있다. (나) 그룹은 대체로 개발 도상국이다. 주로 아프리카의 빈곤 국가들이다. ㄱ. 선진국(가)이 높은 지표는 '중위 연령'이다. ㄷ. 선진국(가)은 개발 도상국(나)보다 인구 순 유출보다는 순 유입이 많다.

**오답 체크** ㄴ. 개발 도상국(나)이 높은 지표로는 합계 출산율이나 유소년 부양비가 들어갈 수 있다. 노년 부양비는 선진국이 높다. ㄹ. 개발 도상국(나)은 선진국(가)보다 인구의 자연 증가율이 높다. 출생률이 높기 때문이다.

#### 자료 분석



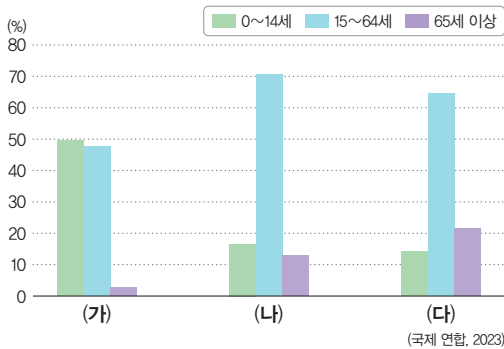
➔ 지도의 (가)는 주로 선진국이다. 일본과 독일, 이탈리아 등의 유럽 국가가 속해 있다. (나)는 개발 도상국이 주를 이룬다. 소말리아, 말리, 콩고 민주 공화국, 앙골라 등이 속해 있다.

### 826 연령층별 인구 비율

답·④

**바른 풀이** 유소년층이 가장 많은 (가)는 아이를 많이 낳는 니제르, 노년층 비율이 가장 높은 (다)는 고령화 문제가 심각한 독일이다. 나머지 (나)는 타이이다.

#### 자료 분석



➔ 그래프는 연령층별 인구 비중을 나타낸 것이다. 세 국가명을 모른다고 하더라도 큰 틀에서 선진국과 개발 도상국으로 구분할 수 있다. 유소년층 비중이 가장 큰 (가)는 세 국가 중 가장 경제 발전 수준이 낮고, 노년층의 비중이 가장 큰 (다)는 세 국가 중 가장 경제 발전 수준이 높다.

### 827 선진국과 개발 도상국의 인구 구조

**바른 풀이** (가)는 유소년층 비중이 압도적으로 높은 개발 도상국, (나)는 청장년층과 노년층 비중이 큰 선진국이다.

(1) (가) 개발 도상국, (나) 선진국

(2) **모범 답안** 중위 연령은 총인구를 나이 순서로 나열했을 때 가장 중앙에 있는 사람의 연령을 말하는 것으로, 노년층 인구 비중이 큰 선진국(나)이 개발 도상국(가)보다 높다.

채점 기준	수준
중위 연령의 의미와 (가), (나) 국가의 중위 연령 비교를 논리적으로 서술한 경우	상
중위 연령의 의미와 (가), (나) 국가의 중위 연령 비교 가운데 한 가지의 서술이 부족한 경우	중
중위 연령의 의미와 (가), (나) 국가의 중위 연령 비교 가운데 한 가지만 서술한 경우	하

### 828 인구 희박 지역

답·④

**바른 풀이** 지도의 A~E는 인구 희박 지역을 나타낸 것이다. A는 사하라 사막, B는 티베트고원 일대, C는 시베리아 및 알래스카의 냉·한대 기후 지역, D는 오스트레일리아 내륙의 사막 지역, E는 아마존 열대림 지역이다.

① A 사하라 사막은 매우 건조하여 인구가 희박하다. ② B 티베트고원은 지대가 높고 추위 인구가 희박하다. ③ C 시베리아 및 알래스카의 냉·한대 기후 지역은 혹독한 추위로 농사가 불리하여 인구가 희박하다. ⑤ E는 열대림이 발달하여 인구가 희박하다.

**오답 체크** ④ 오스트레일리아 내륙은 대부분 사막으로 태풍과 무관한 지역이다.

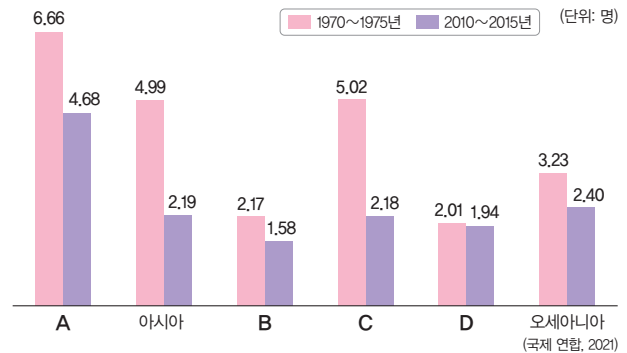
### 829 대륙별 연평균 합계 출산율

답·③

**바른 풀이** 그래프를 분석하여 대륙을 파악해야 한다. 경제 발전 수준이 높아질수록 합계 출산율은 낮아지는 경향성을 보인다. A는 두 시기 모두 합계 출산율이 가장 높은 아프리카, B는 두 시기 모두 합계 출산율이 가장 낮은 유럽이다. C는 합계 출산율이 높았으나 후반기 급격히 떨어진 라틴 아메리카이다. 나머지 D는 앵글로아메리카이다. ㄴ. 유럽(B)에는 산업 혁명의 발상지인 영국이 속한다. ㄷ. 라틴 아메리카(C)에는 세계 1위 인구 국가가 없다. 1위 인도는 아시아에 있다.

**오답 체크** ㄱ. 합계 출산율이 가장 높은 A는 아프리카이다. ㄹ. 앵글로아메리카(D)는 아프리카(A)보다 중위 연령이 높다.

#### 자료 분석



➔ A~D 중 시기별 합계 출산율이 가장 높은 A는 아직 여성의 인권이 낮고 상대적으로 개발 도상국이 많은 아프리카이다. 아프리카, 아시아, 라틴 아메리카가 합계 출산율이 높다가 낮아지는 변화의 폭이 크다. 따라서 C는 라틴 아메리카이다. 유럽은 최근에 가장 낮은 합계 출산율을 기록하고 있다. 따라서 B는 유럽, D는 앵글로아메리카이다.

### 830 인구의 국제 이동

**바른 풀이** (가)는 중동 지역의 인구 이동으로, 사우디아라비아, 아랍 에미리트, 쿠웨이트 등으로 인구가 이동하고 있다. 이들 나라들은 석유 자원을 바탕으로 대규모 건설 경기가 활발한 지역이다. 일자리를 찾아 남성 노동자의 이동이 많다. (나)는 시리아에서 주변 국가로 이동하는 모습이다. 시리아는 내전과 전쟁이 빈번하여 많은 난민이 발생하고 있다.

(1) (가) 경제적 이동, (나) 정치적 이동

(2) **모범 답안** (가)는 석유 자원을 통한 건설 경기가 활발해 성비 측면에서 남성 노동력의 이동이 주를 이룬다. (나)는 정치적 불안으로 인한 대규모 난민 이동이 주를 이룬다.

채점 기준	수준
(가)와 (나)의 인구 이동을 모두 논리적으로 서술한 경우	상
(가)와 (나)의 인구 이동 가운데 한 가지의 서술이 부족한 경우	중
(가)와 (나)의 인구 이동 가운데 한 가지만 서술한 경우	하

### 831 인구 문제와 해결 방안

답·①

**바른 풀이** ㉠ 인구 부양력은 지역(국가)의 이용 가능한 자원과 조건을 바탕으로 전체 인구가 생활을 이어갈 수 있는 능력이다. ㉡ 잠재 성장률은 물가를 자각하지 않으면서 생산 요소를 최대한 활용하여 달성할 수 있는 최대 성장률을 뜻한다.

**오답 체크** ㉢ 고령 사회는 한 국가의 65세 이상 인구 비율이 14% 이상~20% 미만인 사회를 말한다. 20% 이상인 경우는 초고령 사회이다. ㉣ 유연 근무제는 근로 시간과 근무일, 근무 장소 등을 선택 및 조정하여 일과 생활의 균형을 높이는 제도이다. 현대와 미래 세대 간의 형평성을 고려하는 발전 전략은 지속가능한 발전이다.

### 832 자원의 정의와 특징

답·①

**바른 풀이** 자료의 세일 가스는 과거에는 채굴 비용이 너무 높아 채산성이 맞지 않았다. 하지만 기술 발달로 생산 단가를 낮추면서 경제성이 확보된 자원으로 변화했다. 따라서 기술적 의미의 자원에서 경제적 의미의 자원으로의 변화(A, D)한 사례에 해당한다. 또한 자원의 재생 수준으로 보았을 때 사용량에 따라 고갈되는 재생 불가능한 자원(A, B)이다. 두 가지 조건을 모두 만족하는 것은 A이다.

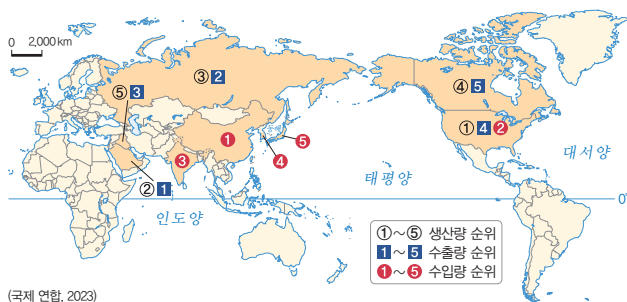
### 833 석유 자원 특징

답·⑤

**바른 풀이** 생산, 수출 순위 상위권에 사우디아라비아가 있으므로 이 자원은 석유이다. ㄷ. 석유는 편재성으로 인해 화석 에너지 중에서 국제 이동량이 가장 많다. ㄹ. 석유는 세계 1차 에너지 소비 구조에서 차지하는 비율이 가장 높다.

**오답 체크** ㄱ. 석유는 주로 신생대 지층에 매장돼 있다. ㄴ. 산업 혁명 당시 주요 에너지원은 석탄이다.

#### 자료 분석



➔ 석유는 사우디아라비아가 핵심 국가이다. 특히 수출량 면에서 그렇다. 석유 수입량 1위가 중국인 점도 기억한다. 한편, 석탄은 중국, 인도, 인도네시아, 오스트레일리아가 핵심 국가이다. 천연가스는 러시아, 이란, 카타르를 기억한다.

### 834 천연가스, 석탄의 특징

답·④

**바른 풀이** (가)는 미국, 러시아, 이란의 생산량이 많다. 서남아시아 지역에서 천연가스의 생산 1위는 이란, 수출 1위는 카타르이다. (나)는 중국, 인도, 인도네시아에서 생산량이 많다. 중국의 생산량이 압도적으로 많으므로 석탄이다. ㄱ. 천연가스(가)는 가정용 연료로의 소비 비중이 상대적으로 높다. ㄴ. 석탄(나)은 주로 발전이나 제철 공업용으로 이용된다. ㄷ. 석탄(나)은 천연가스(가)보다 상용화된 시기가 이른다.

**오답 체크** ㄷ. 천연가스(가)는 석탄(나)보다 연소 시 대기 오염 물질 배출량이 적다. 화석 연료 중 천연가스가 가장 적다.

### 835 화석 에너지 자원의 국제 이동

답·⑤

**바른 풀이** 지도의 (가)는 서남아시아 지역에서 다른 지역으로의 이동량이 많은 석유, (나)는 오스트레일리아에서 다른 지역으로의 이동량이 많은 석탄이다. ㄷ. 석유(가)는 석탄(나)보다 상용화된 시기가 늦다. 석탄이 모든 화석 연료 중에서 가장 이른다. ㄹ. 석탄(나)은 석유(가)보다 국제 이동량이 적다. 석유가 모든 화석 연료 중에서 국제 이동량이 가장 많다.

**오답 체크** ㄱ. 냉동 액화 기술과 관련된 자원은 천연가스이다. ㄴ. 세계 1차 에너지 소비 구조에서 가장 높은 비율을 차지하는 자원은 석유이다.

### 836 자원 분쟁 지역

답·①

**바른 풀이** (가)는 북극해, (나)는 센카쿠 열도(다오위다오), (다)는 남중국해, (라)는 포클랜드 제도이다. ㄱ. (가) 북극해는 기온이 오르면서 해빙 기간이 길어져 새로운 항로가 생기고 석유, 천연가스 등의 자원 발굴 지역으로 주목하게 되었다. ㄴ. (나) 센카쿠 열도(다오위다오)는 일본, 중국, 타이완 간 자원 분쟁 지역이다.

**오답 체크** ㄷ. (다) 남중국해 분쟁의 당사국은 중국, 타이완, 베트남, 필리핀, 말레이시아, 브루나이이다. ㄹ. (라) 포클랜드 제도의 분쟁 당사국은 아르헨티나와 영국이다. 아르헨티나는 영국의 식민지였다.

### 837 국가별 1인당 에너지 소비량

**모범 답안** 1인당 에너지 소비량은 경제 발전 수준이 높은 선진국이나 자원 매장량이 풍부한 지역에서 대체로 높게 나타난다. 반면, 경제 발전 수준이 낮은 개발 도상국에서는 낮다.

### 838 국제 환경 협약

답·②

**바른 풀이** ㄱ. 파리 협정(A)은 선진국과 개발 도상국 모두 온실가스 배출 규제를 의무화한 협정이다. ㄷ. 몬트리올 의정서(C)는 오존층 파괴 물질의 사용을 규제하기 위한 협약이다.

**오답 체크** ㄴ. 람사르 협약(B)은 습지 보존에 관한 협약이다. ㄹ. A~C 협약은 국가를 넘어 세계적인 규모의 협약이다.

### 839 미래 사회와 지속가능한 발전

답·①

**바른 풀이** ㄱ. 제4차 산업 혁명이 현대 사회에 가져올 변화(가)에는 첨단 과학 분야의 성장이 있다. 그에 따라 관련 직업이 다양해질 것이다. ㄴ. 영국, 칠레 등 여러 국가들이 남극에 대한 영유권을 주장(나)하며 대립하다 남극 조약이 체결됐다. 남극 조약은 남극을 인류의 공유지로 남기는 조약이다.

**오답 체크** ㄷ. 이산화 탄소 포집 및 저장 기술(다)은 기후변화 문제를 해결하기 위한 것이다. ㄹ. 북극해 영유권을 주장하는 국가들(라)에 중국은 속해 있지 않다. 북극해 연안의 미국, 러시아, 노르웨이, 캐나다, 덴마크 등이 당사국이다.



